

УРОК ПО ПРЕДМЕТУ:

«Окружающий мир»

Класс: 4

Тема: «Моря, озёра и реки России»

Использованы материалы:

1. Учебник «Окружающий мир» 4 класс;
2. Методические разработки уроков «Окружающего мира» 4 класс;
3. Медиатека «Детской энциклопедии Кирилла и Мефодия»

- Подготовили урок: Терентьева Марина Вячеславовна, Самсонова Елена Михайловна
- Провела урок: Терентьева Марина Вячеславовна

УРОК ПО ОКРУЖАЮЩЕМУ МИРУ

«Моря, озёра и реки России»

ЦЕЛЬ:


Сформировать у учащихся представление о морях, озёрах и реках России. Познакомить с их местонахождением.

ЗАДАЧИ: Развивать:

- познавательную активность детей,
- умение работать по карте,
- умение наблюдать, рассуждать, делать выводы.


ОБОРУДОВАНИЕ:

Картины, рисунки, фотографии, слайды с изображением изучаемых объектов, физическая карта России, карта полушарий.



**Добрый день, дорогие друзья!
Новой встрече очень рада я!
Сегодня нас ждут (наверно, не зря)
Озёра, реки и моря!**

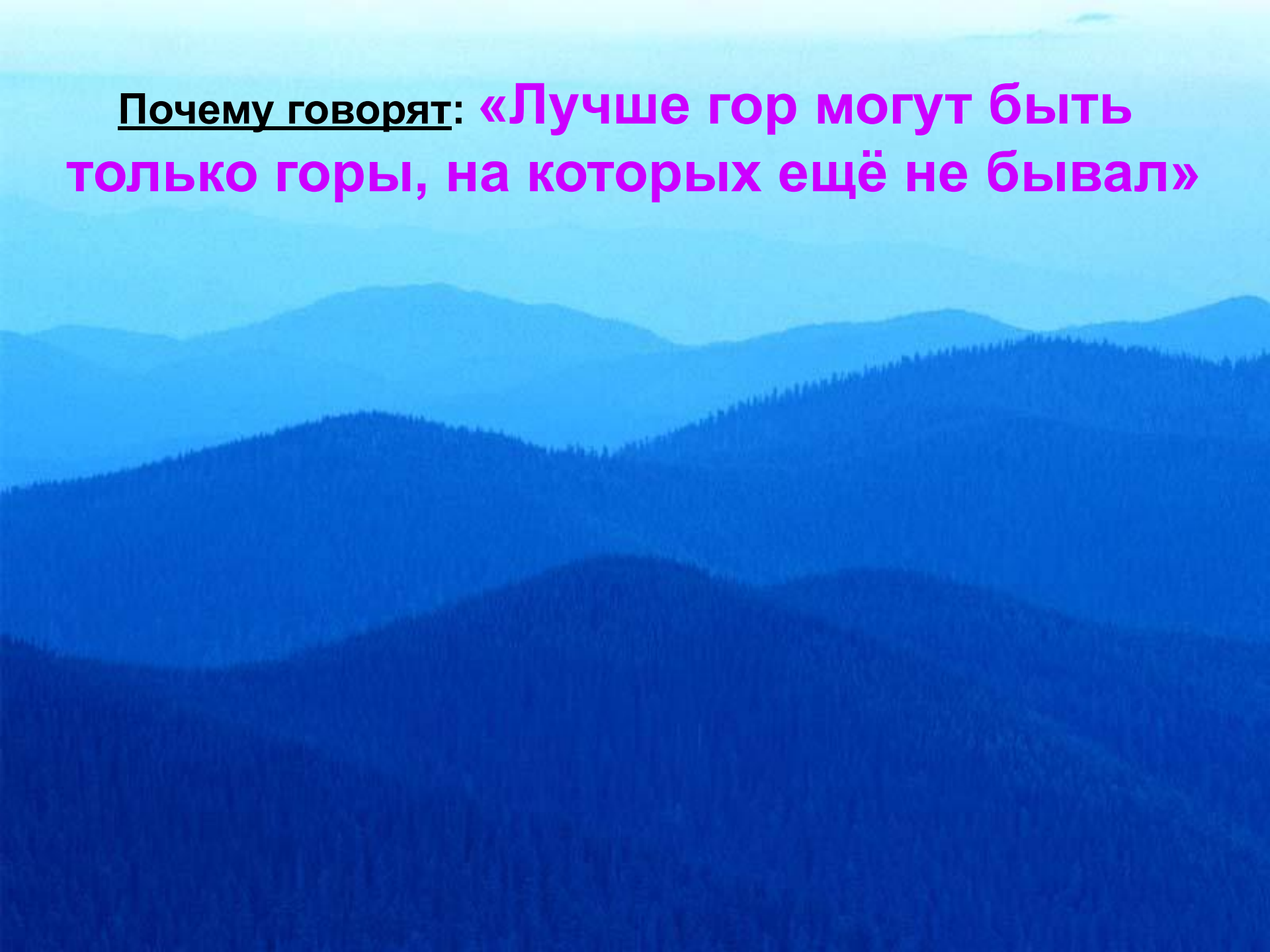
Чтобы о водах России знать,
Надо карту уметь читать,
Быть внимательным, уметь
наблюдать,
И, конечно, рассуждать!!!



Проверка знаний и умений

1. Расскажите об **Ильменском заповеднике**, покажите его местоположение на карте.
2. Покажите на карте и назовите **горы** на территории России.

Почему говорят: «Лучше гор могут быть
только горы, на которых ещё не бывал»



ПРОДОЛЖИТЕ ВЫСКАЗЫВАНИЕ:

1. Наш город расположен на...

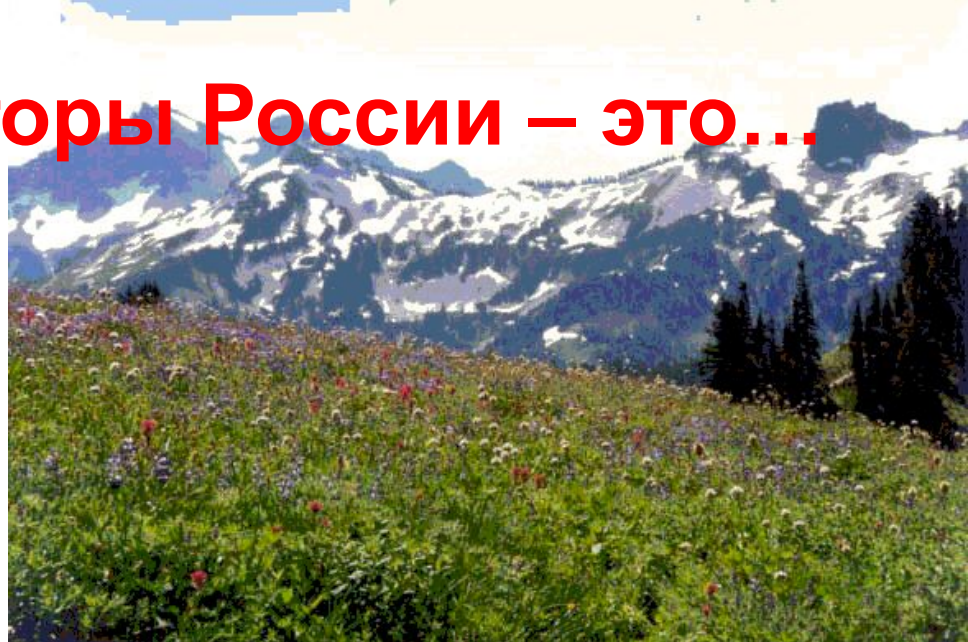
- а) Средне-Сибирском плоскогорье;
- б) Восточно-Европейской равнине;
- в) Западно-Сибирской равнине.

2. Каменным поясом земли называли...

- а) вулканы Камчатки;
- б) Кавказские горы;
- в) Уральские горы.

3. Самые высокие горы России – это...

- а) Саяны;
- б) Алтай;
- в) Кавказские горы;
- г) Вулканы Камчатки.



4. Восточно-Европейская равнина – это...

- а) холмистая равнина;
- б) плоская равнина.





**5. В список Всемирного наследия
включены...**


- а) вулканы Камчатки;
- б) Саяны;
- в) Алтай.

**6. Ильменский заповедник
расположен...**

- а) на Кавказе;
- б) в Саянах;
- в) на Урале.


Соедините стрелками тип равнины и её название

Уровень
моря




Средне-Сибирское плоскогорье

Уровень
моря



Восточно-Европейская равнина

Уровень
моря



Западно-Сибирская равнина

Соедините стрелками контуры гор и их название:



Кавказские горы

Алтай

Уральские горы

Вулканы Камчатки

Саяны



РАБОТА НАД НОВОЙ ТЕМОЙ



У нас есть транспорт. Вы готовы к путешествию по водным просторам страны?

**Путь наш начнём
с города-порта Владивосток,
наш маршрут пройдёт по морям.
Каким?**

(Японское море, Охотское море, Берингово море, Чукотское море, Восточно-Сибирское море, море Лаптевых, Карское море, Белое море, Баренцево море, Балтийское море, Чёрное море, Каспийское море.)



СЕВЕРНЫЙ
ЛЕДОВИТЫЙ
ОКЕАН

НОРВЕЖСКОЕ
МОРЕ

СЕВЕРНОЕ
МОРЕ

НОРВЕГИЯ

ШВЕЦИЯ

БАРЕНЦЕВО
МОРЕ

ВОСТОЧНО-СИБИРСКОЕ
МОРЕ

БЕРИНГОВО
МОРЕ

Стокгольм

Финляндия

Мурманск

Новая
Земля

МОРЕ
ЛАПТЕВЫХ

КАРСКОЕ
МОРЕ

Рига

Хельсинки

Таллин

Санкт-Петербург

Архангельск

Петропавловск-
Камчатский

Вильнюс

Минск

Москва

Киев

Воронеж

Нижний Новгород

Якутск

ОХОТСКОЕ
МОРЕ

РОССИЯ

Казань

Пермь

Самара

Екатеринбург

Ростов-на-Дону

Уфа

Челябинск

Болгоград

Омск

Красноярск

Хабаровск

Новосибирск

Иркутск

Владивосток

Тбилиси

Ереван

Астана

Улан-Батор

КАЗАХСТАН

КИТАЙ

ИРАН

МОНГОЛИЯ

ЯПОНСКОЕ
МОРЕ

ЯПОНИЯ

В пути нас подстерегают опасные места, морские глубины с их тайнами.

Правильные ответы на вопросы путешественника дают право двигаться дальше.

1. Каспийское море на самом деле не море, а ...

2. Какие океаны омывают материк Евразия?

- *На востоке?*
- *На севере?*
- *На западе?*

3. Какие моря относятся к Тихому океану?

(Охотское море, Японское море, Берингово море)

4. Перечислите моря Северного Ледовитого океана.

(Белое море, Баренцево море, Карское море, море Лаптевых, Восточно-Сибирское море, Чукотское море)

5. А какие моря относятся к Атлантическому океану?

(Балтийское море, Чёрное море)

6. Что вы можете сказать о морях Тихого, Атлантического и Северного Ледовитого океанов?



**7. Что вы можете сказать о воде
в морях?**

(вода в морях солёная)

**8. Сколько морей омывает российские
берега?**

(11 морей)

ФИЗКУЛЬТМИНУТКА

**Море волнуется раз,
Море волнуется два,
Море волнуется три,
Морская фигура – замри!**



А сейчас наш путь лежит на озёра страны.

Какие озёра вам знакомы?

Найдите на карте озеро Байкал.
Где оно расположено?

Покажите на карте озеро Байкал и Каспийское озеро-море.

Но это ещё не все **озёра**, их на территории России **свыше двух миллионов**. Найдите ещё озёра на карте, ещё раз обратите внимание на условные обозначения, это поможет вам сориентироваться.

Наш волшебный транспорт познакомит нас с реками.

Первую группу он прокатит по
Восточно-Европейской равнине,
вторую – по **Западно-Сибирской**, а
третью – по **Средне-Сибирскому
плато**.

Ваша задача: после путешествия по
рекам познакомить одноклассников
с самыми крупными реками.



Первая группа

Показывает на карте и называет:

***«Волга – это самая крупная река
Восточно-Европейской равнины. Ещё
есть на севере Северная Двина и Печора,
на юге – Дон и Урал, в центре – Кама и
Ока».***



Знакомит с реками:

«Крупными реками Западно-Сибирской равнины являются Обь и Енисей. Река Обь имеет много притоков, одним из них является река Иртыш. Енисей берёт своё начало в Саянах. Притоков с Западно-Сибирской равнины Енисей не имеет. Обе реки впадают в Карское море».



Третья группа

Знакомит с реками Средне-Сибирского плоскогорья:

«Крупные реки Средне-Сибирского плоскогорья – Лена и Амур, ещё приток Енисея Ангара. Река Лена имеет наибольшее количество притоков. На севере текут реки Индигарка и Колыма. Реки Лена, Индигарка и Колыма несут свои воды в Северный Ледовитый океан, а Амур – в Охотское море».

ЗАКРЕПЛЕНИЕ ИЗУЧЕННОГО МАТЕРИАЛА

Задания по контурной карте:

Первая группа – подписать *названия морей*

Вторая группа – подписать *названия рек*

Третья группа – подписать *названия озёр*

ИГРА «КАПИТАНЫ»

The background of the slide is a photograph of two rowers in a boat on a body of water. The rowers are wearing athletic gear and are captured in the middle of a stroke. The water is blue and slightly rippled. The overall scene is bright and outdoors.

Проложите морской путь **из Мурманска на остров Сахалин** в Охотском море.

(дети играют в группах, записи ведут в тетрадях).



СЕВЕРНЫЙ
ЛЕДОВИТЫЙ
ОКЕАН

ВОСТОЧНО-СИБИРСКОЕ
МОРЕ

БЕРИНГОВО
МОРЕ

БАРЕНЦЕВО
МОРЕ

МОРЕ
ЛАПТЕВЫХ

КАРСКОЕ
МОРЕ

Петропавловск-
Камчатский

ОХОТСКОЕ
МОРЕ

РОССИЯ

Якутск

Хабаровск

Мурманск

Санкт-Петербург
Архангельск

Новгород

Пермь

Екатеринбург

Челябинск

Омск

Красноярск

Новая Земля

Енисей

Обь

Лена

Амур

ПОДВЕДЕНИЕ ИТОГОВ РАБОТЫ

ДОМАШНЕЕ ЗАДАНИЕ

Стр. 72 – 77

Выполнить задание 4 (стр. 75)

