

В пустыне Африки




A satellite-style map of the Sahara Desert region in North Africa. The desert is shown in shades of yellow, orange, and tan, with visible topographical features like dunes and valleys. The Nile River is visible on the right side, flowing north. The surrounding areas are green, indicating vegetation. The text "Sahara Desert" is written in a black, italicized serif font across the center of the desert.

Sahara Desert

План знакомства с пустыней Африки:

- 1. Моря и океаны, омывающие Африку**
- 2. Погодные условия**
- 3. Особенности растительного мира**
- 4. Особенности животного мира**
- 5. Основные занятия населения**

- 
- ❑ Определите по карте полушарий, какие моря и океаны омывают Африку?
 - ❑ Найдите на карте реку Нил. В какое море впадает эта река? Какие еще реки есть в Африке? Определите куда впадает каждая из этих рек.
 - ❑ Как называется остров который расположен к востоку от Африки?

Погодные условия

Сахара- одна из самых больших и жарких пустынь планеты. Небо здесь почти безоблачное. Днём поверхность Земли Нагревается до +80 С. Температура воздуха при этом повышается до + 50 С. Ночью поверхность Земли и воздух быстро охлаждаются. Дожди в Сахаре бывают очень редко. А вот песчаные бури – часто. Во время бурь раскалённый ветер переносит тонны песка.


Особенности растительного мира





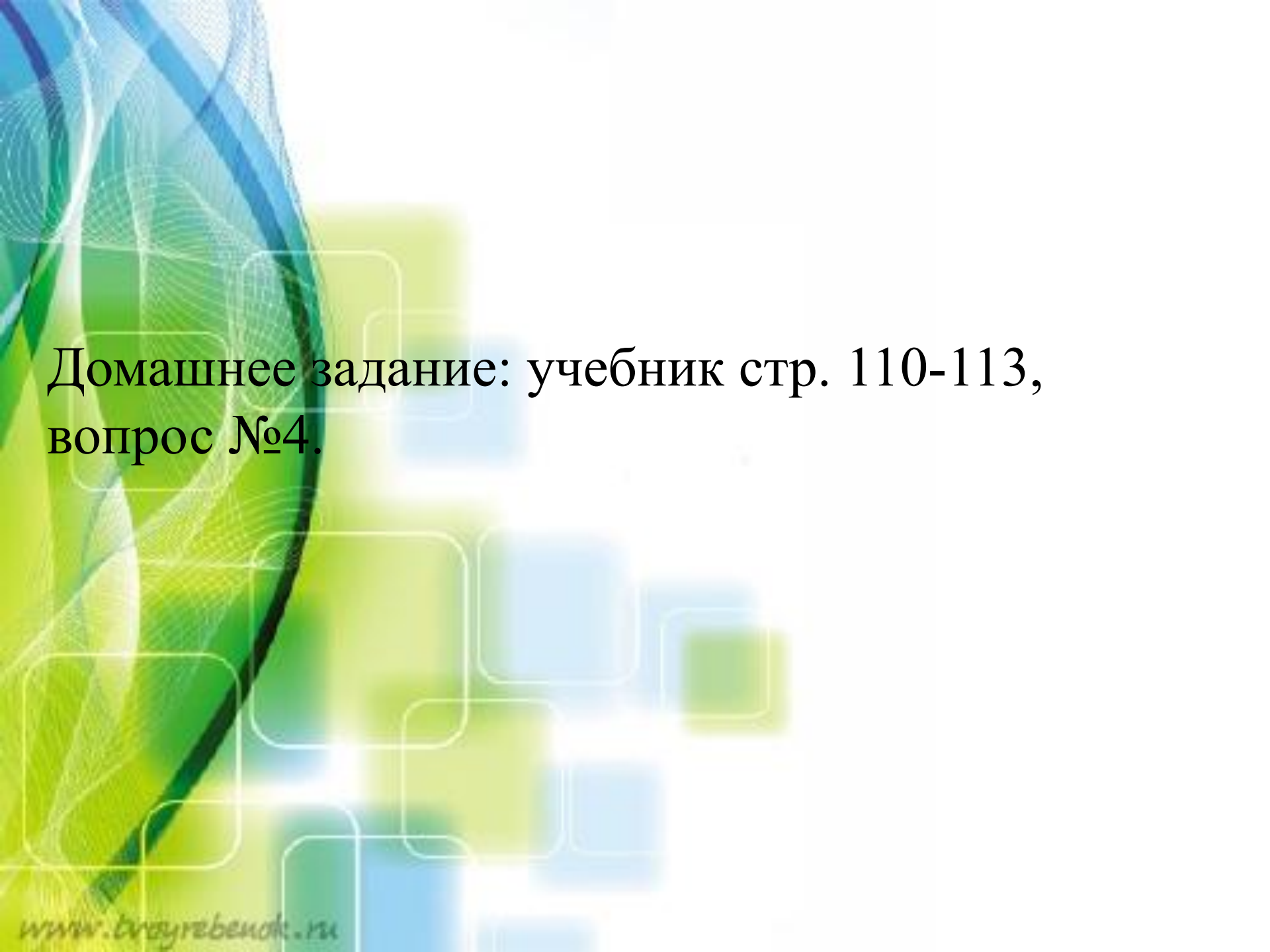


Особенности животного мира



Основное занятие населения

Учебник стр. 113, выписать в рабочую тетрадь.



Домашнее задание: учебник стр. 110-113,
вопрос №4.