


Геологическое строение, рельеф и полезные ископаемые России

Метелкина З.З.
Учитель географии
МОУ «Усть-Бюрская СОШ»



1 ВЫСОТА



Рельеф –

ЭТО



Формы рельефа

```
graph TD; A[Формы рельефа] --> B[Горы]; A --> C[Равнины]; B --> D[высокие]; B --> E[средние]; B --> F[низкие]; C --> G[низменности]; C --> H[возвышенности]; C --> I[плато];
```

Горы

высокие

средние

низкие

Равнины

низменности

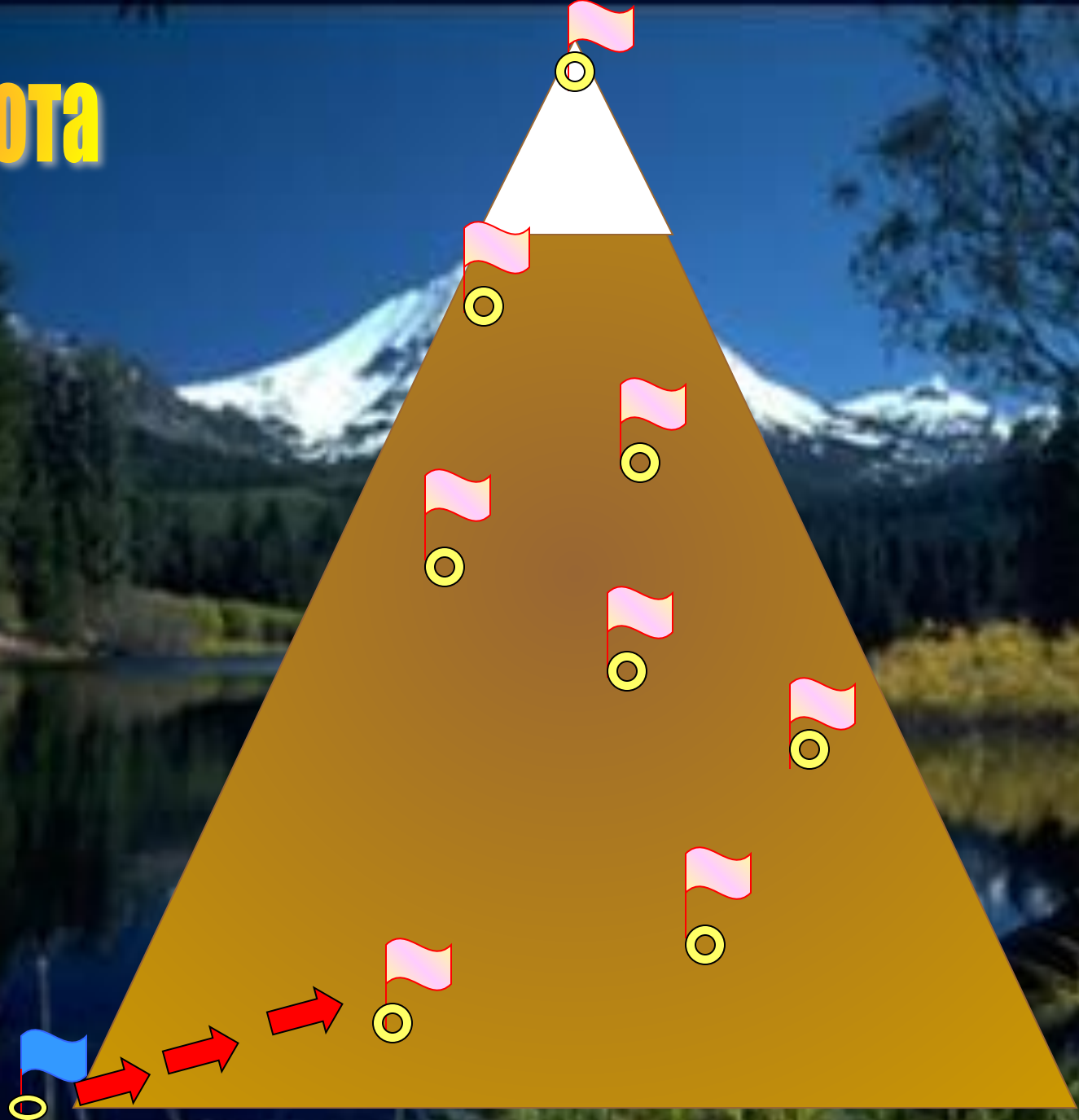
плато

возвышенности
и

Геологическое строение и тектоника



2 высота



Определите формы рельефа по координатам

- 56 с.ш., 33 в.д. –

Валдайская возвышенность.

- 60 с.ш., 72 в.д. –

Западно – Сибирская равнина.

- 44 с.ш., 43 в.д. –

гора Эльбрус.

- 46 с.ш., 50 в.д. –

Прикаспийская низменность

- 66 с.ш., 100 в.д.-

Среднесибирское плоскогорье

На интерактивную карту нанести формы рельефа и тектонические структуры

1 группа

1. Среднерусская возвышенность
2. Урал
3. Кавказ
4. Западно-Сибирская равнина
5. Западный Саян
6. Восточный Саян
7. Становой Хребет
8. Сихотэ-Алинь
9. Среднесибирское плоскогорье
10. Хибины

2 группа

1. Русская платформа
2. Область герцинской складчатости
3. Область кайнозойской складчатости
4. Западно-сибирская плита
5. Область каледонской складчатости
6. Область байкальской складчатости
7. Алданский щит
8. Область мезозойской складчатости
9. Сибирская платформа
10. Балтийский щит

4 ВЫСОТА





5 ВЫСОТА



**Какой эре
соответствует
период байкальской
складчатости?**

**В какой период
произошло
образование
Алтая и Саян?**

**Какой период
характеризуется
образованием Урала?**

**В каком периоде
наблюдается
горообразование
Хр.Черского, Сихотэ-
Алинь?**







**В какую эру и какой
период мы живем?**

**Когда происходило
образование гор
Кавказа, Камчатки?**


Факторы

Эндогенные

Экзогенные



Под влиянием каких факторов формировались данные формы рельефа?



7 ВЫСОТА



Установите соответствия

- | | |
|---------------------------------|---------------------|
| 1. Восточно-Европейская равнина | А) уголь; |
| 2. Урал | Б) газ; |
| 3. Среднесибирское плоскогорье | В) алмазы; |
| 4. Кольский полуостров | Г) нефть; |
| 5. о.Сахалин | Д) железная руда; |
| | Е) апатиты; |
| | Ж) поваренная соль. |

8 ВЫСОТА



Ключевская Сопка



Долина Гейзеров







9 ВЫСОТА



Рельеф Хакасии





Выбери лишний объект



дный Саян, Кузнецкий Алатау, Восточный Саян



ский хребет, Абаканская впадина, Сыдо-Ербинская
впадина

инская котловина, Чулымо-Енисейская котловина
невский кряж

