

Задания из ЕГЭ по пройденном у курсу.



6 кл.

A1. В предгосударственный период у восточных славян сложились два центра в

- 1) Новгороде и Приднепровье
- 2) Поволжье и Прибалтике
- 3) Прибалтике и Причерноморье
- 4) Поволжье и на Дону

A2. Соседи восточных славян

- 1) германцы
- 2) галлы
- 3) римляне
- 4) хазары



A3. Переход от родовой общины к соседской у восточных славян произошел вследствие

- 1) формирования союзов племен
- 2) развития пахотного земледелия
- 3) возникновения феодальных вотчин
- 4) необходимости обороняться от кочевников

A4. Занятие по разведению пчел и получению меда у славян называлось

- 1) бортничеством
- 2) зодчеством
- 3) бондарством
- 4) гончарством

А1. В каком из названных рядов указаны даты закрепощения крестьян?

1. 1558, 1584
2. 1581, 1597
3. 1480, 1485
4. 1310, 1325

А2. Кого из названных лиц русские князья считали родоначальником своей династии?

1. Аскольда
2. Дира
3. Рюрика
4. Олега

А3. Как назывался древнейший летописный свод, ставший основным источником изучения Древней Руси?

1. «Русская Правда»
2. «Повесть временных лет»
3. «Слово о полку Игореве»
4. «Апостол»

А4. Что из названного было одной из причин поражения России в Ливонской войне?

1. опричная политика Ивана Грозного
2. отказ Земского собора поддержать царя
3. нежелание царя Ивана Грозного продолжать войну
4. усиление Ливонского ордена



А1. В каком из указанных рядов названы даты княжения Ивана III?

- 1) 1533-1584 гг.
- 2) 1565-1572 гг.
- 3) 1462-1505 гг.
- 4) 1584-1598 гг.

А3. Как назывался бесплатный принудительный труд зависимого крестьянина на землевладельца за право пользования землей?

- 1) отработки
- 2) испольщина
- 3) барщина
- 4) оброк

А2. О ком из названных князей, привезшем из Киева во Владимир икону Владимирской Божьей матери и построившем церковь Покрова на Нерли, историк В.О. Ключевский писал: «Он правил в своей земле самовластно, забывши, что он был избран народом...»?

- 1) Юрии Долгоруком
- 2) Владимире Мономахе
- 3) Андрее Боголюбском
- 4) Всеволоде Большое Гнездо

А4. Что из названного относится к решениям Судебника 1550 г.?

- 1) отмена Юрьева дня
- 2) введение заповедных лет
- 3) введение урочных лет
- 4) подтверждение Юрьева дня и увеличение размера «пожилого»



В1. Расположите в хронологической последовательности их создания следующие литературные произведения. Запишите буквы, которыми обозначены произведения, в правильной последовательности в таблицу.

- А) «Домострой»
- Б) «Повесть временных лет»
- В) «Юности честное зерцало»
- Г) «Слово о полку Игореве»

А1. В каком из рядов указаны даты борьбы Руси с монголо-татарами?

- 1) 1478 г., 1497 г.
- 2) 1237 г., 1378 г.
- 3) 1410 г., 1478
- 4) 1462 г., 1550 г.

А2. Что из названного относится к царствованию Ивана Грозного?

- 1) «стояние на Угре»
- 2) сражение на реке Воже
- 3) присоединение Казани
- 4) Грюнвальдская битва

А3. Как назывались в России в XV-XVII вв. органы центрального управления, возглавляемые боярами или дьяками?

- 1) вече
- 2) думы
- 3) приказы
- 4) коллегии



А4. Съезд князей в Любече в 1097 г. был созван с целью

- 1) организовать поход против половцев
- 2) прекратить междоусобные войны
- 3) договориться о размерах дани
- 4) принять новый Судебник

А5. Установление полюдья свидетельствовало о

- 1) начале политической раздробленности Руси
- 2) существовании обычая кровной мести у славян
- 3) возникновении племенных союзов восточных славян
- 4) возникновении раннефеодального государства восточных славян

А6. Прочтите отрывок из документа и укажите, во время какого события был принят содержащийся в документе договор.

«Зачем губим Русскую землю, сами на себя вражду воздвигая... С этого времени соединимся в одно сердце и будем охранять Русские земли. Пусть каждый держит отчину свою... и на этом целовали крест».

- 1) заключения союза против хана Батыя
- 2) съезда князей в Любече
- 3) принятия христианства
- 4) принятия «Русской Правды»



А8. Прочтите отрывок из хронографа 1617 г. и укажите, с каким периодом в истории России связаны описанные события.

«И вот снова в той же упомянутой уже Черниговской стороне явился новый злобесный и кровь лакающий пес, или людей пожирающий зверь, хищным глазом сверкнул, и зной рык испустив, и всех простых людей устрошил, а змееобразных, коварных и злых — тех привлек, приучая к своему кровожадному обычаю. К нему же снова собралось множество польских людей и литовских, так как и он называл себя царевичем князем Дмитрием Угличским. Хотя суд божий вскоре покарал того злобесного пса, но так как убедились окончательно литовские люди в том, что на Руси неустроение, междоусобица и распри, то устремились все на Русскую землю. И принесли они всем христианам горькие и тяжкие бедствия, ибо и предатели царства и царя примкнули к ним и во всех городах русских мятежи поднимали и царствующему граду Москве угрожали и все области земли Русской безжалостно захватывали. И так много собралось польских людей, и литовских, и мятежников, и клятвопреступников русских, что всю землю покрыли щиты и воздух блестел от копий, всюду брани и кровопролитие» .

- 1) с Ливонской войной**
- 2) с опричниной**
- 3) со Смутой**
- 4) с бироновщиной**



A1. Деятельность митрополита Иллариона, князя Ярослава Мудрого связана с

- 1) VIII в.
- 2) IX в.
- 3) XI в.
- 4) XIII в.

A2. Основным торговым партнером Древнерусского государства была

- 1) Византия
- 2) Швеция
- 3) Тмутаракань
- 4) Скифия

A3. Живописное художественное произведение малых форм получило название

- 1) витраж
- 2) заставка
- 3) филигрань
- 4) миниатюра

A1. Распад Руси на отдельные самостоятельные княжества относится к

- 1) XI в.
- 2) XII в.
- 3) XIII в.
- 4) XIV в.



А2. В Новгородской республике существовала выборная должность

- 1) приказного дьяка
- 2) посадника
- 3) рядовича
- 4) темника

А3. Одной из причин начала политической раздробленности на Руси было


- 1) принятие христианства
- 2) обострение социальной борьбы
- 3) ослабление внешней опасности
- 4) закрепощение крестьянства

А4. Основная идея «Слова о полку Игореве» - призыв к

- 1) политическому единству Русской земли
- 2) военному союзу против Степи
- 3) поголовному истреблению кочевников
- 4) крещению половецкой Степи

А6. Понятие «посадские люди» относится к слою населения России

- 1) монастырским крестьянам
- 2) жителям западных областей
- 3) торгово-ремесленному населению городов
- 4) переселенцам из других стран, получавшим наделы земли



А3. Памятники культуры, относящиеся к XV в.

- 1) «Сказание» Авраамия Палицына, церковь Рождества Богородицы в Путинках, «Спас» Симона Ушакова
- 2) Покровский собор в Москве, Никоновская летопись, «Домострой»
- 3) Троицкая летопись, Успенский собор Московского Кремля, «Троица» Андрея Рублева
- 4) «Задонщина», «Спас» Феофана Грека, белокаменный Кремль в Москве

Мастер Дионисий работал над росписями:

- 1) Троице-Сергиева монастыря
- 2) Ферапонтова монастыря под Вологдой
- 3) Андроникова монастыря в Москве
- 4) Кирилло-Белозёрского монастыря

А2. Когда были введены уроки и погосты?

- 1) в начале X в.
- 2) в конце X в.
- 3) в середине X в.
- 4) в начале XI в.



**Основателем династии
московских князей был**

- 1) Юрий Долгорукий
- 2) Андрей Боголюбский
- 3) Даниил Александрович
- 4) Иван Калита

**Какое из названных событий
произошло раньше других?**

- 1) Ливонская война
- 2) Смоленская война
- 3) поход Ермака в Сибирь
- 4) поход Ивана III на Великий Новгород

**Что из названного относилось к
причинам возникновения
Смуты в Российском
государстве в начале XVII в.?**

- 1) пресечение династии Ивана Калиты
- 2) распад государства на удельные княжества
- 3) начало созыва Земских соборов
- 4) приход к власти боярского правительства - «семибоярщины»



В2 Выберите из списка три события, относящихся к правлению Ивана III, и запишите номера, под которыми они указаны, в таблицу.

- 1) присоединение Смоленска
- 2) введение государственного герба - двуглавого орла
- 3) присоединение Новгорода
- 4) расцвет приказной системы
- 5) создание стрелецкого войска
- 6) постройка краснокирпичного Московского Кремля

Ответ:

A1. Великое переселение народов имело следствием выделение ветви славян

- 1) восточной
- 2) северной
- 3) византийской
- 4) украинской

A2. Среди славянских племенных союзов к IX-X вв., согласно летописным и другим источникам, выделялись

- 1) карела
- 2) чудь
- 3) меря
- 4) поляне

A3. Гостомыслом звали

- 1) князя, имевшего большое семейство
- 2) одного из новгородских старейшин IX в.
- 3) одного из бояр, участвовавших в составлении Правды Ярославичей во второй половине XI в.
- 4) первого митрополита русского происхождения



A4. Среди культур, которые производили восточные славяне, не было

1. картофеля
2. ржи
3. лука
4. чеснока

A5. Восточными славянами в лесной зоне использовалась преимущественно

1. подсечно-огневая система земледелия
2. переложная система земледелия
3. трехпольная система земледелия
4. плодопеременная система земледелия

A6. Восточными славянами в степной зоне использовалась преимущественно

1. подсечно-огневая система земледелия
2. переложная система земледелия
3. трехпольная система земледелия
4. многопольная система земледелия

A1. Кем были введены уроки и погосты?

- 1) князем Игорем
- 2) княгиней Ольгой
- 3) князем Святославом
- 4) князем Владимиром



А3. Среди платежей, вносимых населением Киевской Руси в казну, не было одного из следующих

- 1) мыт
- 2) перевоз
- 3) выход
- 4) мостовщина

А4. Южным и юго-восточным границам княжений, входивших в состав Киевской Руси, в начале X в. Угрожали


- 1) монголо-татары
- 2) половцы
- 3) Хазары
- 4) печенеги

А5. Южным и юго-восточным границам княжений, входивших в состав Киевской Руси, в конце X в. угрожали

- 1) монголо-татары
- 2) половцы
- 3) Хазары
- 4) печенеги

А6. Южным и юго-восточным границам княжений, входивших в состав Киевской Руси, в последней четверти XI в. угрожали

- 1) монголо-татары
- 2) половцы
- 3) Хазары
- 4) печенеги



В3

Установите соответствие между определениями и понятиями: к каждой позиции первого столбца подберите соответствующую позицию второго столбца.


ОПРЕДЕЛЕНИЯ**ПОНЯТИЯ**

- А) земледельцы, заключившие с хозяином земли договор на выполнение работ
- Б) свободные или зависимые земледельцы, основная масса населения Древней Руси
- В) люди, находившиеся в полной зависимости от хозяина земли
- Г) земледельцы, взявшие ссуду
- 1) смерды
- 2) холопы
- 3) закупы
- 4) тиуны
- 5) рядовичи

Запишите в таблицу выбранные цифры под соответствующими буквами.

Ответ:


А	Б	В	Г



А7. Прочтите отрывок из сочинения русского историка и укажите землю, в которой произошли описываемые события.

«Ударили в вечевой колокол: настал грозный час суда народного. Со всех сторон бежали к Святой Софии решить судьбу Отечества. Первым определением сего шумного веча было изгнать Ярослава... вручили князю грамоту обвинительную: "Для чего завладел ты двором Морткинича? Для чего взял серебро с бояр Никифора, Романа и Варфоломея? Для чего выводешь отсюда иноземцев? Да будет ныне конец твоему насилию! Иди, куда хочешь; а мы найдем себе князя"».

- 1) Московской
- 2) Новгородской
- 3) Галицко-Волынской
- 4) Владимиро-Суздальской



Прочтите отрывок из исторического источника и укажите событие, о котором идёт речь.

«И начал тогда князь великий наступать. Гремят мечи булатные о шлемы хиновские. Поганые прикрыли головы свои руками своими. И вот поганые бросились вспять. Ветер рвёт в стягах великого князя Дмитрия Ивановича, поганые спасаются бегством, а русские сыновья широкие поля кликом огородили и золочёными доспехами осветили. Уже встал тур на бой! Тогда князь великий Дмитрий Иванович и брат его, князь Владимир Андреевич, полки поганых вспять повернули и начали их бить и сечь беспощадно, тоску на них наводя...»


- 1) Ледовое побоище
- 2) Куликовская битва
- 3) стояние на реке Угре
- 4) битва на реке Калке



А5. Прочтите отрывок из сочинения историка Н. И. Костомарова и укажите, какое событие предшествовало описанному в отрывке.

«Тохтамыш намеревался сделать такой быстрый набег, чтобы застать Москву врасплох. Он принял в соображение оплошность русских, слишком возгордившихся своими победами. Внезапность нашествия произвела такое впечатление, что князья, воеводы и бояре совсем потеряли голову».

- 1) Куликовская битва
- 2) «стояние» на реке Угре
- 3) Грюнвальдская битва
- 4) Ливонская война



В4. Прочтите отрывок из сочинения историка С. М. Соловьева и напишите название совещаний, о которых идет речь.

«Кроме обычных сидений великого государя с боярами, бывали еще чрезвычайные совещания, на которые приглашались высшее духовенство и выборные из других сословий.

Эти чрезвычайные бывали

обыкновенно по вопросу: начинать или не начинать опасную, тяжелую войну, причем потребуются долгая и тяжкая служба ратных людей, с другой стороны, потребуются денежные пожертвования с тяглых людей; нужно призвать выборных или советных людей из тех и других, из всех чинов, чтоб сказали свою мысль, и если скажут, что надобно начинать войну, то чтоб после не жаловались, сами наложили на себя тягость.

<...> Выборные, или советные люди, являлись из Москвы и областей, из разных чинов по два человека; из дворян и детей боярских больших городов по два человека, из меньших по человеку, из гостей по три человека, из гостиной и суконной сотен по два, из черных сотен и слобод и из городов, из посадов по человеку. Из крестьян выборных не было».




В3. Какие три черты, из перечисленных ниже, характеризовали развитие Русского государства в XV – XVI вв.?

- 1) ускорение процесса закрепощения крестьян
- 2) завершение процесса централизации страны
- 3) начало феодальной раздробленности
- 4) возникновение первых мануфактур
- 5) усиление великокняжеской власти
- 6) развитие рыночных отношений

--	--	--


Получившуюся последовательность цифр перенесите в бланк ответов № 1 (без пробелов и каких-либо символов).



A5. Прочтите отрывок из сочинения византийского историка и укажите, о чем свидетельствует этот автор:

«Они считают, что только бог, творец молний, является владыкой над всеми, и ему приносят в жертву быков и совершают другие священные обряды. Они почитают реки и нимф и всякие другие божества, приносят жертвы всем им и при помощи этих жертв производят и гадания».

- 1) у восточных славян утвердилось христианство
- 2) у восточных славян главными занятиями были рыболовство и
- 3) мореплавание
- 4) у восточных славян были распространены языческие верования
- 5) у восточных славян отсутствовали контакты с другими странами




ПРАВИТЕЛИ РУССКОГО ГОСУДАРСТВА

- А) Иван IV
- Б) Дмитрий Донской
- В) Иван Калита
- Г) Михаил Романов

СОВРЕМЕННОИКИ

- 1) Дмитрий Боброк
- 2) Симеон Гордый
- 3) Андрей Курбский
- 4) Дмитрий Пожарский
- 5) Александр Невский

А	Б	В	Г



В1. Установите соответствие между именами князей и событиями, связанными с их деятельностью.

К каждой позиции первого столбца подберите соответствующую позицию второго и запишите в таблицу выбранные цифры под соответствующими буквами.

КНЯЗЬ

- А) Владимир Мономах
- Б) Владимир Святославич
- В) Ярослав Мудрый
- Г) Игорь

СОБЫТИЕ

- 1) разгром половцев
- 2) объединение Киева и Новгорода
- 3) восстание древлян
- 4) крещение Руси
- 5) принятие «Русской Правды»



В1. Установите правильное соответствие между понятием и определением.


К каждой позиции первого столбца подберите соответствующую позицию второго и запишите в таблицу выбранные цифры под соответствующими буквами.

ПОНЯТИЯ

- А) холоп
- Б) вече
- В) каган
- Г) волхв

ОПРЕДЕЛЕНИЯ

- 1) правитель Хазарского государства
- 2) языческий жрец у восточных славян
- 3) захваченный на войне пленник
- 4) крестьянин, изгнанный из общины
- 5) народное собрание у славян




Расположите в правильной последовательности с севера на юг реки и озера, являющиеся частями торгового пути «из варяг в греки».

- А) Ладожское озеро
- Б) Днепр
- В) Ловать
- Г) Ильмень

--	--	--	--

Получившуюся последовательность букв перенесите в бланк ответов № 1 (без пробелов и каких-либо символов).



В3. Какие три события, из перечисленных ниже, характеризовали правление великого киевского князя Владимира Святославича?

- 1) разгром Хазарского каганата
- 2) создание засечной черты на южных границах Руси
- 3) образование военно-политического союза Руси с Византией
- 4) организация съезда князей в г. Любече
- 5) принятие христианства
- 6) разгром печенегов

--	--	--

