



Микены и Троя. История Древнего мира

**Подготовила: Васильева Светлана Геннадьевна
учитель истории и обществознания МОУ СОШ №15 .
Твери**

Географическое положение Греции.

Полуостро

Балкански

Рельеф


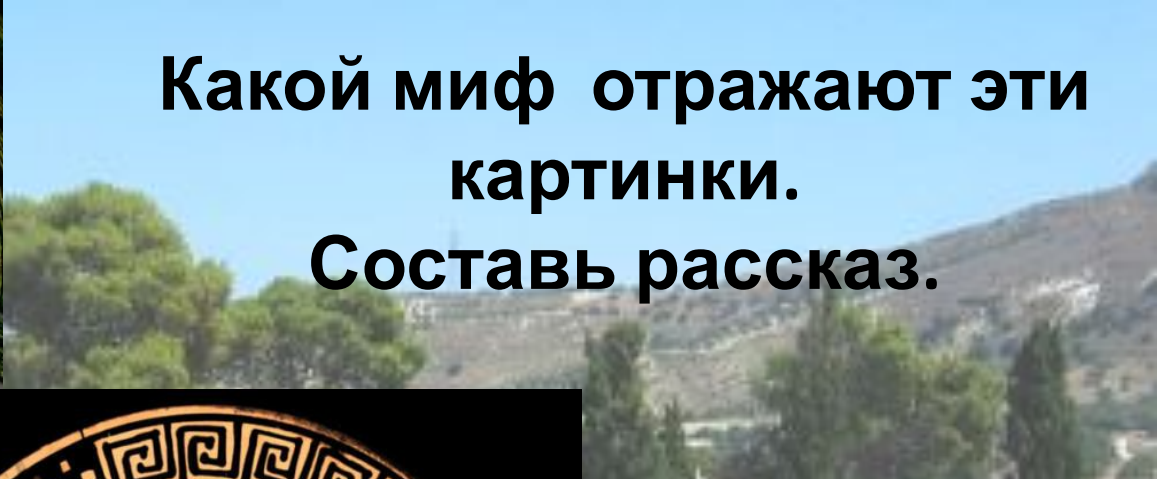
Горы,
возвышеннос


Берегова
я линия ?

Моря ?



Какой миф отражают эти
картинки.
Составь рассказ.





Где был построен этот дворец?

В чем необычность данного дворца.

Опишите сюжет росписи дворца.





Троя

АНАТОЛИЯ

Эгейское море

ГРЕЦИЯ

Пелопоннес

Микены

Аргос

Пилос

Спарта


Средиземное море

КРИТ

Микены - центр древнегреческой цивилизации в «мифические» времена 1600–1100 до н. э.



Знак	Транс- литерация	Знак	Транс- литерация	Знак	Транс- литерация	Знак	Транс- литерация	Знак	Транс- литерация
✱	a	✱	e	✱	i	≍	o	Υ	u
✱	pa	⚡	pe	∇	pi	∫	po	≍	pu
┌	ta	≍	te	↑	ti	F	to	厶	tu
⊥	ka	✱	ke	Υ	ki	∩	ko	✱	ku
∨	sa	F	se	⊥	si	≍	so)(su
						∫	zo		
✱	ma	✱	me	≍	mi	⊙	mo	✱	mu
┌	na	∫	ne	∫	ni	∫	no	∫	nu
∫	wa	I	we	✱	wi	∫	wo		
∫	ya					≍	yo		
∫	ra	∫	re	∫	ri	∫	ro	∫	ru
∫	la	8	le	≍	li	+	lo	⊙	lu
)(ksa	∫	kse						



Золотая маска царя с монетами из гробницы в Микенах.



**Женские украшения из Трои,
обнаруженные во время раскопок
Шлиманном.**



Троянская война около **1200**

Г ДО Н. Э.

Причина войны по мифу

Гера – жена Зевса

Афина – дочь Зевса

Спор трех богинь
Афродита – дочь Зевса



Оскорбленный Менелай собирает с братом Агамемноном всех греков, чтобы отомстить троянцам.





**Кто
изображен на
портрете?
В чем заслуга
этого
человека?**

Где обнаружены эти





Исправь ошибку:

1.Львиные ворота украшали вход в лабиринт в Кноссе.

2.Примерно в 11 веке до н.э. микенская цивилизация начинает процветать.

3.Микенская письменность до сих пор не расшифрована и представляет собой иероглифы.

Кто из перечисленных ниже был причастен к троянской войне?

1. Парис
2. Минотавр
3. Гера
4. Афина
5. Тесей
6. Афродита
7. Менелай
8. Эгей
9. Елена
10. Ариадна

