



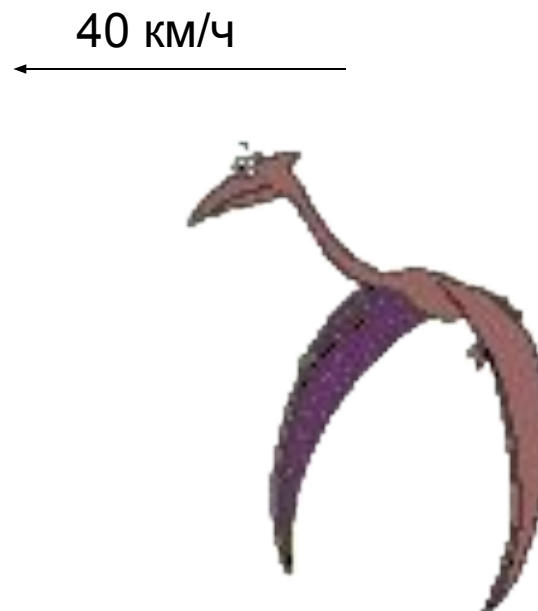
Математика

4класс

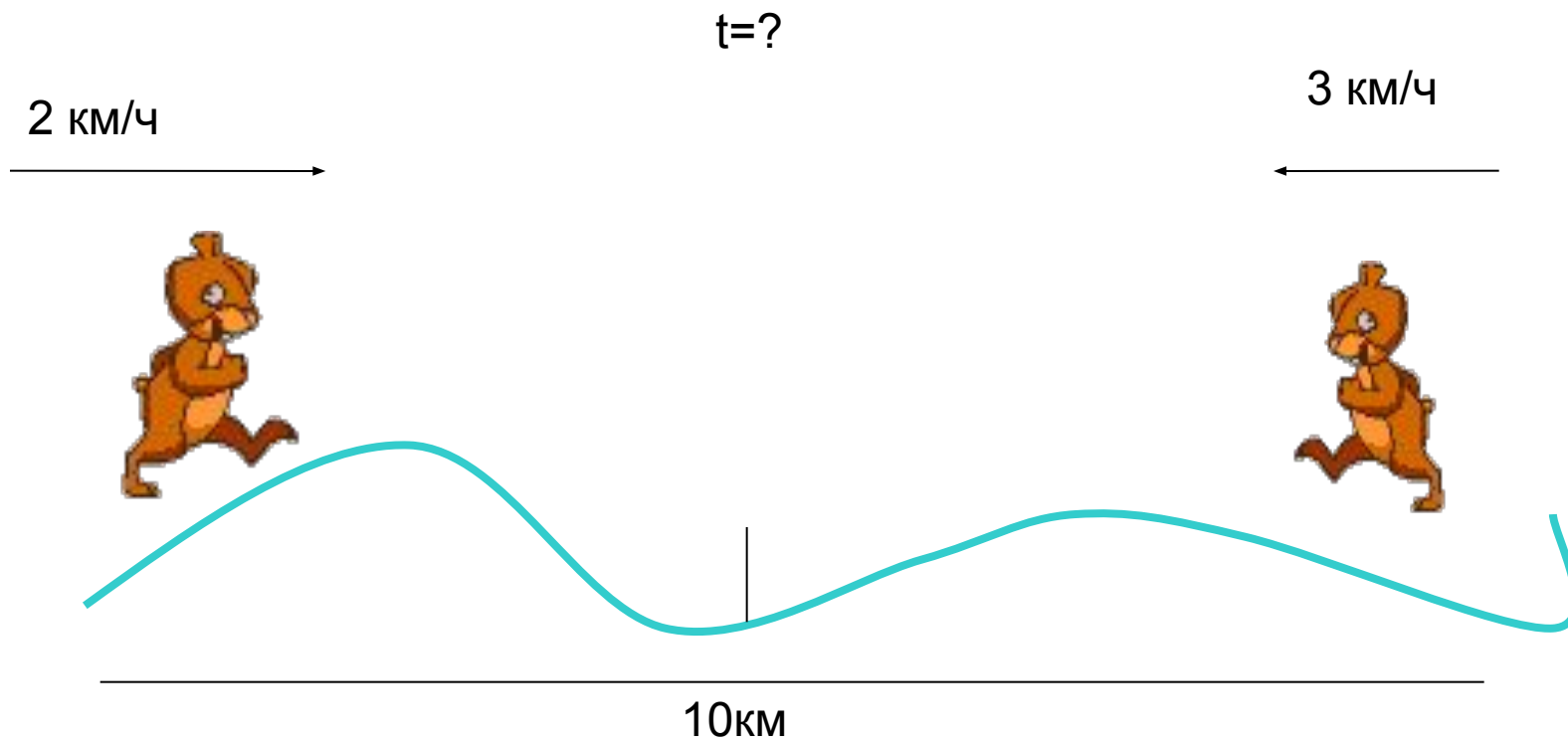
Молчановский район
МОУ Тунгусовская СОШ
Учитель начальных классов
Попова Светлана Николаевна

Задачи на движение

- Задача №1
- Задача №2
- Задача №3
- Задача №4
- Задача №5



Задача №1



Задача №2

- Составь по рисунку задачу.
- Придумай вопрос.

$t=4\text{ч}$

5 км/ч



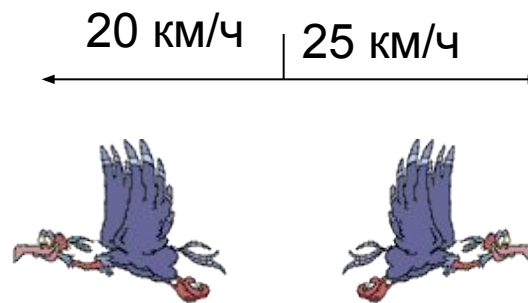
3 км/ч



Задача №3

Два орла вылетели одновременно из гнезда и полетели в противоположных направлениях. Один летел со скоростью 20 км/ч, а другой со скоростью 25 км/ч. На каком расстоянии они будут через 4 часа?

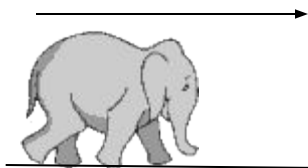
$t=4\text{ч}$



? км

Задача №4

- Слон прошёл до водопоя 180 км за 6 часов. С какой скоростью он шёл?

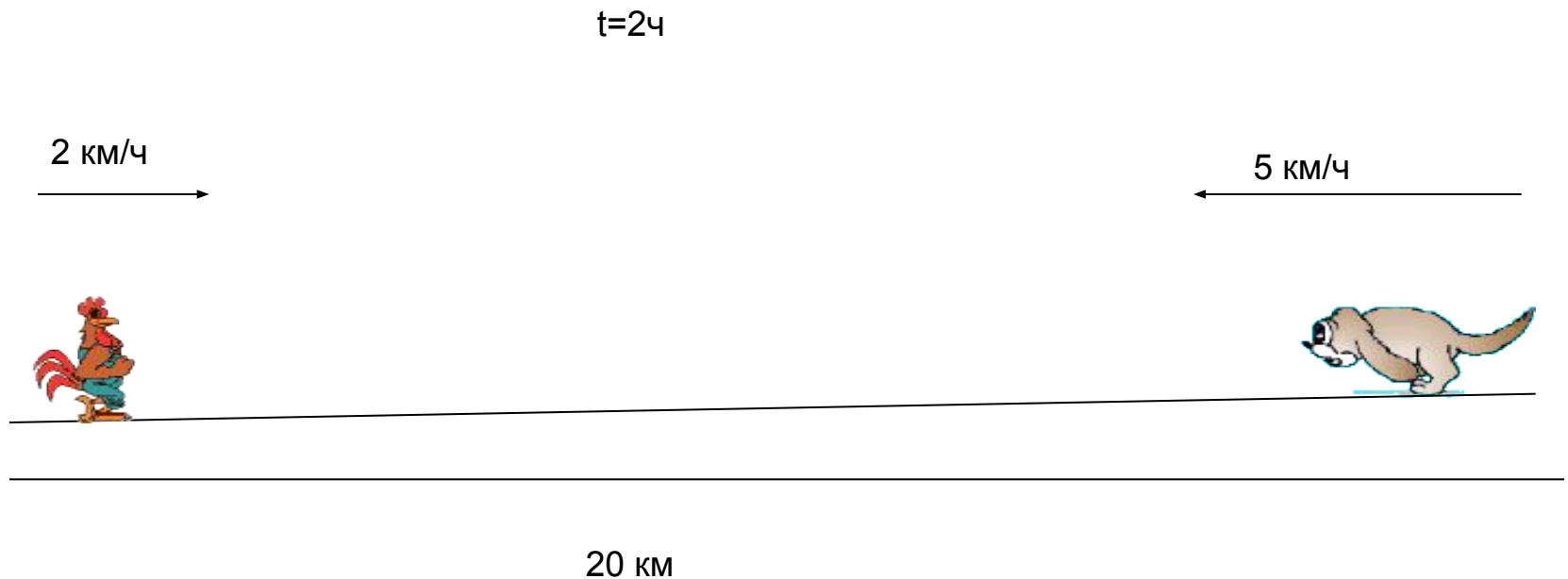



$t=6\text{ч}$

180 км

Задача №5

- Петушок и собака двигаются на встречу друг другу. Скорость петушка 2 км/ч, а скорость собаки 5 км/ч. На каком расстоянии друг от друга они будут через 2 часа, если сейчас между ними 20 км?





Спасибо за внимание!
Урок закончен!