

МКСКОУ для обучающихся ,воспитанников с ограниченными возможностями здоровья «Чернухинская специальная (корррекционная) общеобразовательная школа – интернат VIII вида

Урок. Математика.

Тема урока. Умножение числа 2.

Тип урока. Закрепление знаний.

Класс. 3

Автор. Клопова И.А.




Возьмите:


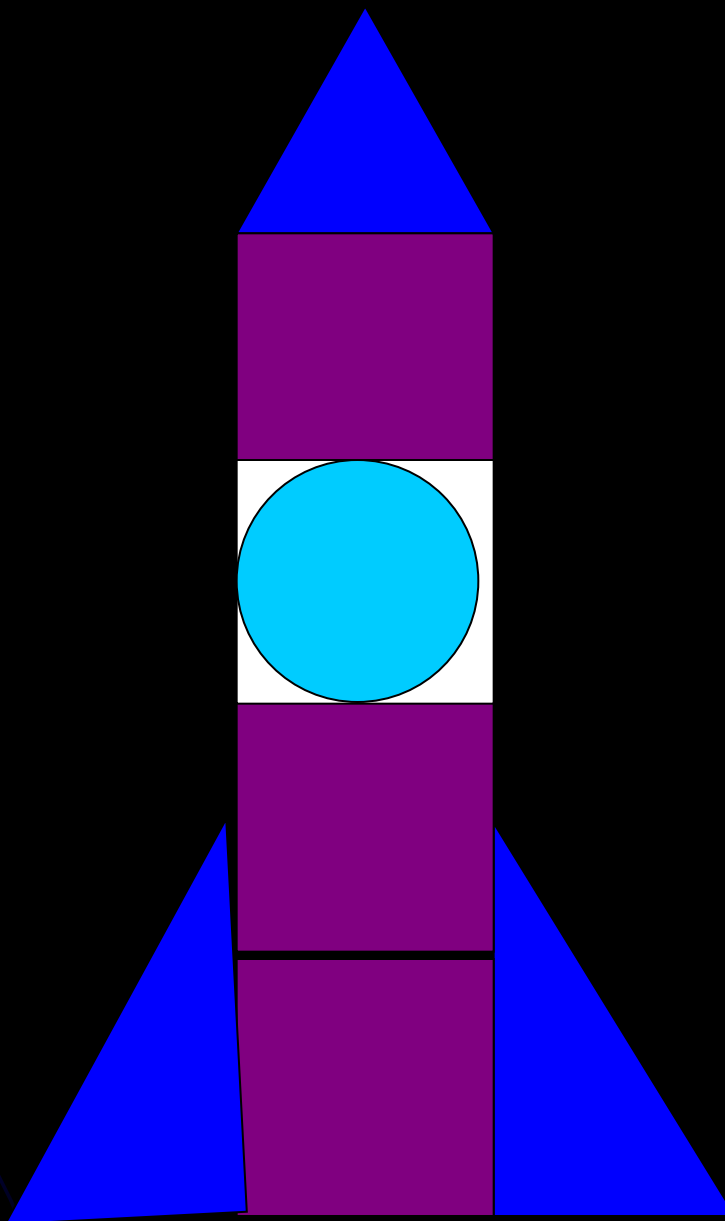

4-



3-





1-



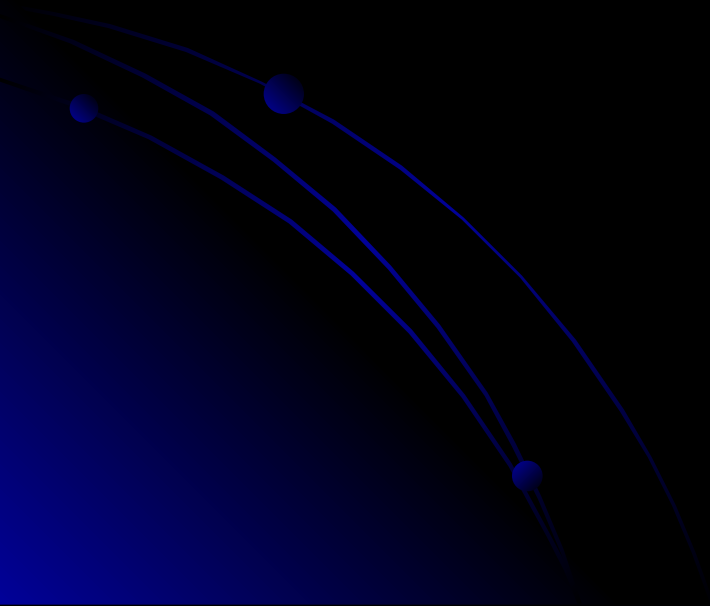







Цель.

Запомнить таблицу
умножения числа 2.



Солнцу



Впиши в таблицу умножения числа 2
пропущенные числа.

$$2 \times \mathbf{2} = 2$$

$$2 \times \mathbf{6} = 12$$

$$2 \times 2 = \mathbf{4}$$

$$2 \times 7 = \mathbf{14}$$

$$2 \times 3 = \mathbf{6}$$

$$2 \times 8 = \mathbf{16}$$

$$2 \times \mathbf{4} = 8$$

$$2 \times \mathbf{9} = 18$$

$$2 \times 5 = \mathbf{10}$$

$$2 \times 10 = \mathbf{20}$$

Нептун

Самая холодная планета



Марс

На этой планете самые высокие горы.



Около 2 новых звезд появляется в нашей галактике каждый месяц.

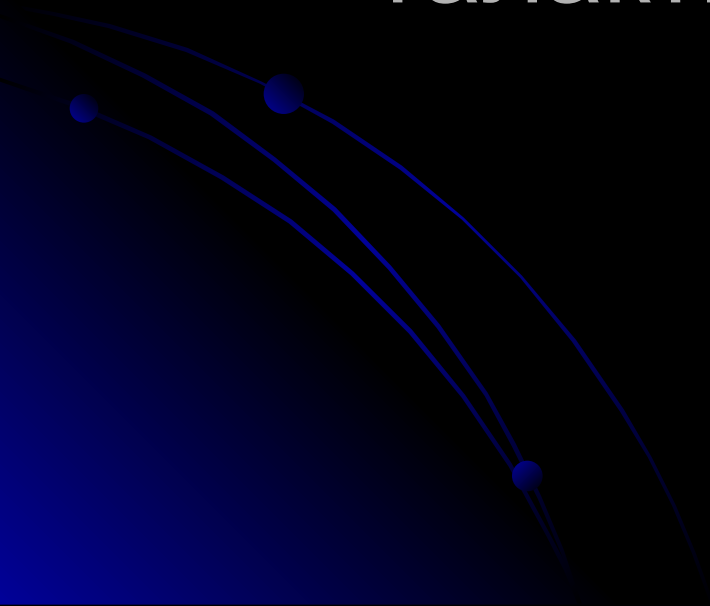


Сколько звёзд
появится в
нашей галактике
за 3 месяца?

Решение.


$$2 \times 3 = 6(\text{з.})$$

Ответ: 6 звёзд появится в нашей
галактике за 3 месяца.



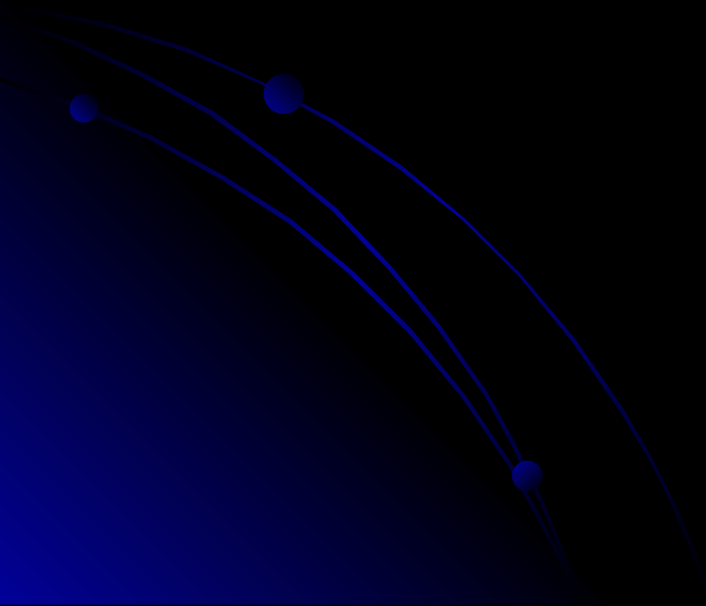
Юпитер


Самая крупная планета.



Физминутка для глаз

«Космическая»





Уран



Венера



Вариант 1.


Представь, что ты готовишь экипажи кораблей в полёт. Каждому члену экипажа нужно положить по два тюбика консервов. Заполни таблицу. В верхней строке количество членов экипажа.



5	7	3	10	2	8	6	9	4
10	14	6	20	4	16	12	18	8

Вариант 2

-Представь что ты капитан корабля. Тебе нужно провести свой корабль по заранее проложенному курсу. Реши примеры и соедини пункты по порядку ответов.



Вариант 3



В Цветочном городе герои сказки «Про Незнайку и его друзей» готовятся к полету на Луну. Знайка произвёл нужные расчеты. Но подул ветер и все листы разлетелись. Помоги Знайке восстановить расчеты. Для этого соедини пример с правильным ответом.

20	8	14	6	18	16	10	12	4
2×5	2×3	2×8	2×2	2×7	2×10	2×6	2×9	2×4

The image shows a matching exercise. A grid contains nine multiplication problems in the bottom row and their corresponding products in the top row. Colored arrows connect each problem to its correct product: 2×5 to 10, 2×3 to 6, 2×8 to 16, 2×2 to 4, 2×7 to 14, 2×10 to 20, 2×6 to 12, 2×9 to 18, and 2×4 to 8.

Земля





5



4

постарайся



3

Домашнее задание

Вариант 1, 2 - № 19, с.59

Вариант 3 - № 19(а), с.59

Учить таблицу умножения числа 2.



Интернет – ресурсы:

<http://readmas.ru/mir/kosmos/planeta-venera.html> - Венера

<http://www.astronews.ru/cgi-bin/mng.cgi?page=astrofoto&id=44> - Нептун

<http://wallpaperswide.ru/photo/24-0-505-3> - Солнечная система

<http://foto-sputnik.rutxt.ru/node/248> - Юпитер

http://planeta.moy.su/blog/27_sentjabrja_planeta_zemlja_izmenitsja_navsegda/2011-09-25-7093

galspace.spb.ru – Планеты солнечной системы

