


Знаешь ли ты дорожные знаки?

Тестовая работа по окружающему миру
в **3** классе
УМК «Школа России»

Вастьянова Л.Л.,
учитель начальных классов
МБОУ «Мамонтовская СОШ»
Мамонтовского района
Алтайского края
2016 год



1. К какой группе относятся эти знаки?




А. Знаки сервиса

Б. Предупреждающие знаки

В. Информационно - указательные знаки

Г. Предписывающие знаки

2. К какой группе относятся эти знаки?




А. Знаки сервиса

Б. Предупреждающие знаки

В. Информационно - указательные знаки

Г. Предписывающие знаки

3. К какой группе относятся эти знаки?




А. Знаки сервиса

Б. Предупреждающие знаки

В. Информационно - указательные знаки

Г. Предписывающие знаки

4. Какой знак относится к предупреждающим?




А.

Б.

В.

5. Какой знак относится к предписывающим?



А.

Б.

В.

6. Какой знак относится к запрещающим?



А.

Б.

В.

7. Какой знак относится к информационно - указательным?






А.

Б.

В.

8. Какой знак запрещает движение?



9. Какой знак указывает, где находится пешеходный переход?



А.


Б.

В.


10. Какой знак запрещает водителю въезд?



А.



Б.




В.


11. Какой знак запрещает водителю обгон?



А.



Б.



В.

12. Какой знак указывает, где находится остановка автобуса?




А.

Б.

В.

Проверим, как знаешь ты
дорожные знаки?



1. К какой группе относятся эти знаки?





А. Знаки сервиса

Б. Предупреждающие знаки

В. Информационно - указательные знаки

Г. Предписывающие знаки

2. К какой группе относятся эти знаки?



А. Знаки сервиса


Б. Предупреждающие знаки

В. Информационно - указательные знаки

Г. Предписывающие знаки



3. К какой группе относятся эти знаки?




А. Знаки сервиса

Б. Предупреждающие знаки

В. Информационно - указательные знаки

Г. Предписывающие знаки

4. Какой знак относится к предупреждающим?




А.

Б.

В.

5. Какой знак относится к предписывающим?



А.

Б.

В.

6. Какой знак относится к запрещающим?



А.

Б.

В.

7. Какой знак относится к информационно - указательным?







А.

Б.

В.

8. Какой знак запрещает движение?



9. Какой знак указывает, где находится пешеходный переход?



А.


Б.

В.

10. Какой знак запрещает водителю въезд?



А.



Б.




В.

11. Какой знак запрещает водителю обгон?



А.




Б.



В.

12. Какой знак указывает, где находится остановка автобуса?



А.

Б.

В.

Подводим итоги!

Без ошибок – **5** - значок
дорожных знаков!

1 - 2 ошибки – **4** - надо
подтянуться!

3 ошибки – **3** - твоя безопасность
на дороге под угрозой!

Более **3** ошибок - **2** – не выходи
на дорогу, пока не изучишь
знаки!

СЧАСТЛИВОГО ПУТИ!



Интернет ресурсы

- [Макеты дорожных знаков для детей в картинках
petrcamp.ru](http://petrcamp.ru)

Использованная литература

- Плешаков А.А. Окружающий мир. Тесты. **3** класс. – М.: Просвещение, **2013**.
- Яценко И.Ф. Контрольно - измерительные материалы. Окружающий мир. **3** класс. М.: ВАКО, **2013**.