

Равноускоренное прямолинейное движение

Подготовка к ГИА

Учитель: Попова И.А.

МОУ СОШ № 30 г. Белово

Белово 2010



Цель:

- повторение основных понятий прямолинейного равнопеременного движения, видов движения, графиков и формул, а также разбор задач различного уровня сложности в соответствии с кодификатором ГИА и планом демонстрационного варианта экзаменационной работы

Равноускоренное прямолинейное движение


- При неравномерном движении скорость тела с течением времени изменяется.

- Такое прямолинейное движение, при котором скорость тела за любые равные промежутки времени изменяется одинаково, называют **равноускоренным прямолинейным движением**.

- Примеры:
- **Торможение** или **разгон** автомобиля



- **Движение по наклонной плоскости**

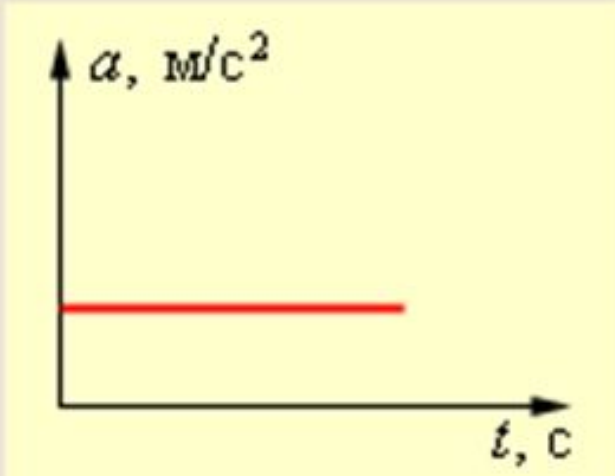


- **Свободное падение**



Ускорение

- Быстроту изменения скорости характеризуют величиной, обозначаемой a и называемой **ускорением**.
- **Ускорением** называют векторную величину, равную отношению **изменения скорости** тела $v - v_0$ к промежутку **времени** t , в течение которого это изменение произошло:

Величина	Формула	Единица измерения	График
Ускорение	$a = \frac{v - v_0}{t}$	м/с ²	

Скорость

- При равноускоренном движении с начальной скоростью v_0 мгновенная скорость равна $v = v_0 + a \cdot t$
- Если начальная скорость тела равна нулю, т. е. в начальный момент времени оно покоилось, то эта формула приобретает вид: $v = a \cdot t$

Величина	Формула	Единица измерения	График
Скорость	$v = v_0 + at$	м/с	

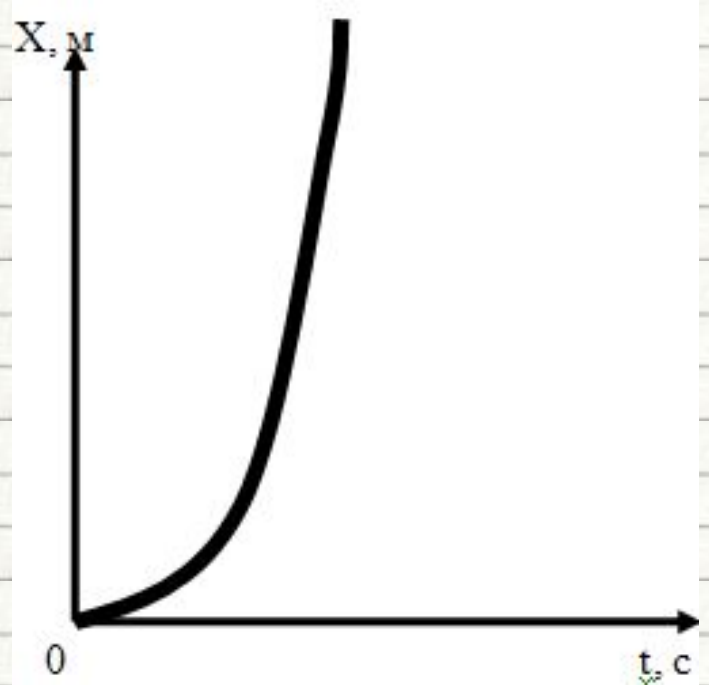
Закон движения

- Кинематический **закон прямолинейного равноускоренного движения**

$$x = x_0 + v_0 t + \frac{at^2}{2}$$

- Следует помнить, что в формуле v_{0x} и a_x могут быть как **положительными**, так и **отрицательными**, так как это проекции векторов v_0 и a на ось O_x

- **Обратите внимание:** зависимость координаты от времени **квадратичная**, значит, графиком является - **парабола**



Перемещение

- Формула перемещения при прямолинейном равноускоренном движении **в векторном виде**:
- Формула для расчета перемещения **в проекциях**:
- **Еще одна формула** для расчета перемещения при равноускоренном движении:

$$\vec{s} = \vec{v}_0 \cdot t + \frac{\vec{a} \cdot t^2}{2}$$

$$s = v_0 \cdot t + \frac{a \cdot t^2}{2}$$

$$s_x = \frac{(v_x)^2 - (v_{0x})^2}{2a_x}$$

Частные случаи

- В случае равенства проекции начальной скорости нулю ($v_0 = 0$) получаем выражение:

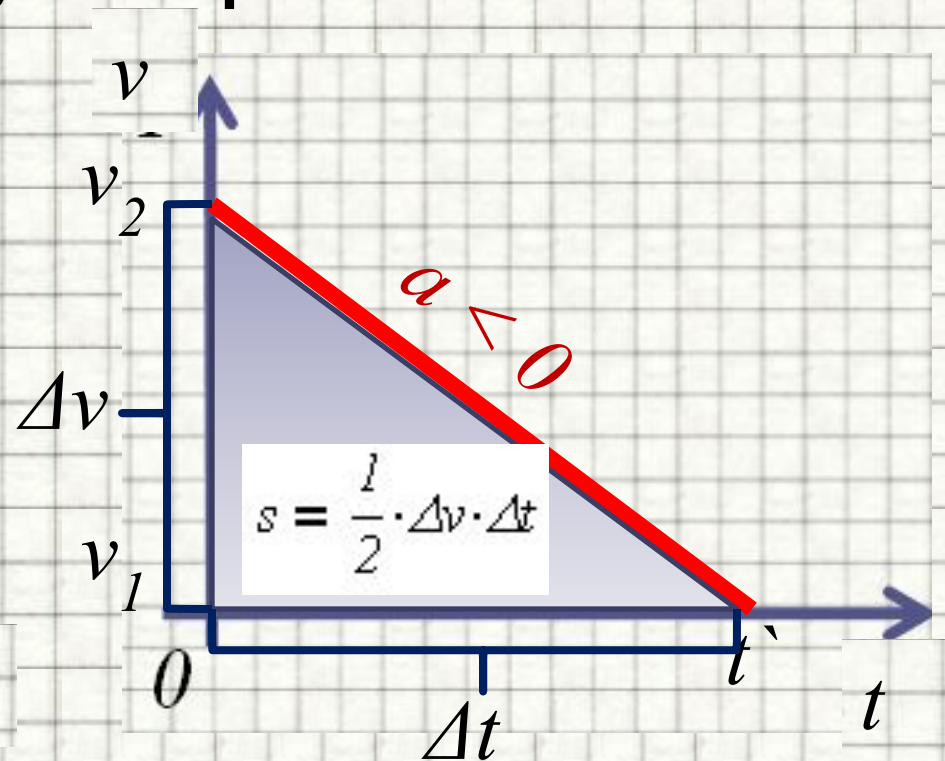
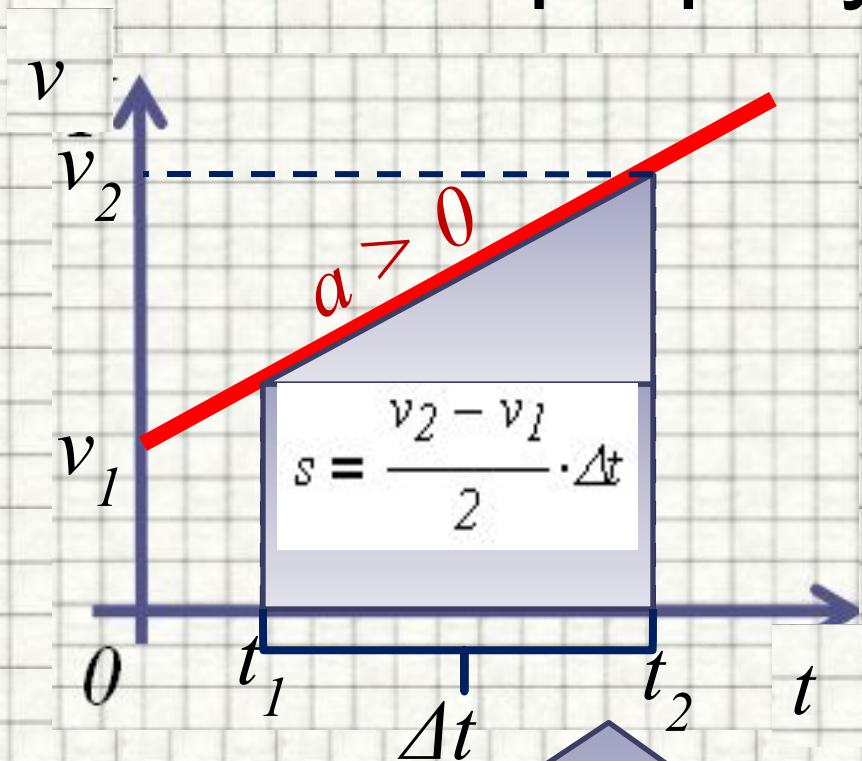
$$s_x = \frac{a_x \cdot t^2}{2} \quad s_x = \frac{(v_x)^2}{2a_x}$$

- Из этого выражения можно найти проекции скорости или ускорения :

$$v_x = \sqrt{2a_x \cdot s_x}$$

$$a_x = \frac{(v_x)^2}{(2s_x)}$$

Определение перемещения по графику скорости

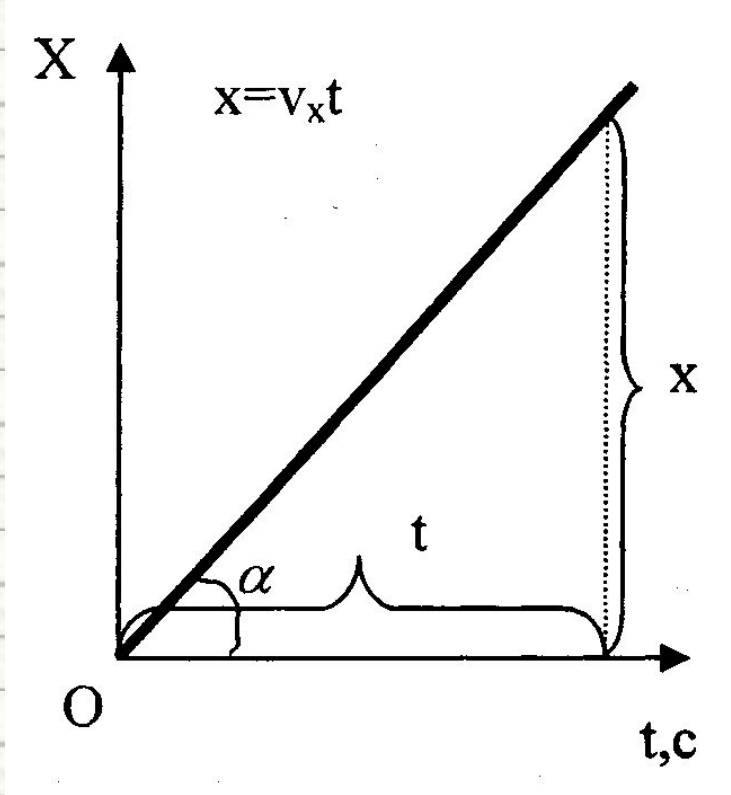


Площадь фигуры под графиком скорости равна пройденному пути

Сравнение графиков движения

Прямолинейное

равномерное движение

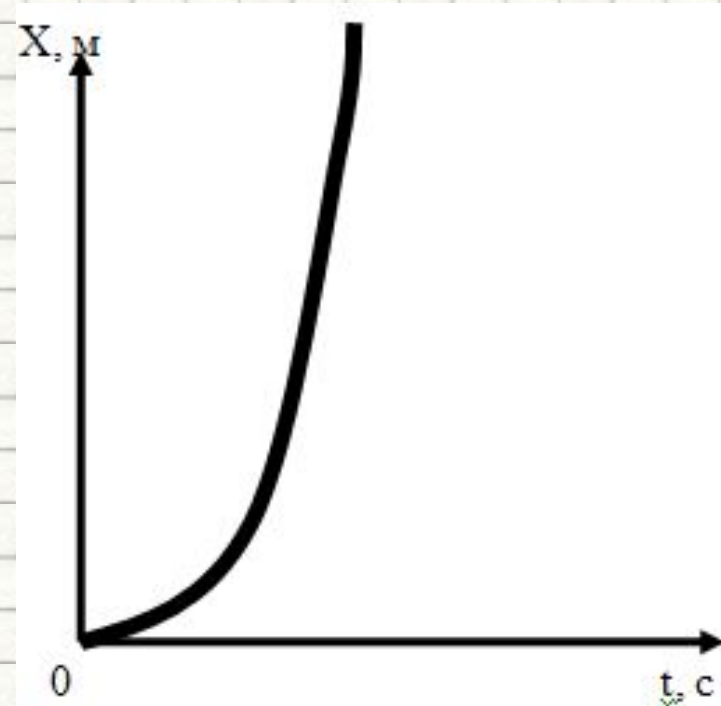


$$x = x_0 + v_x t$$

Закон прямолинейного **равномерного** движения


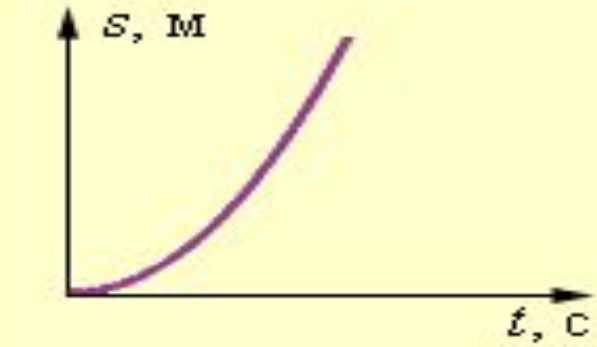
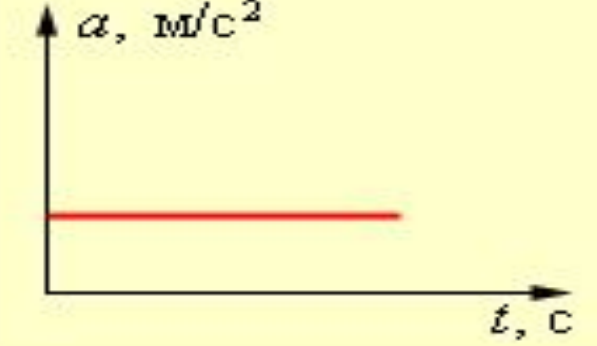
Прямолинейное

равноускоренное движение



$$x = x_0 + v_0 t + \frac{at^2}{2}$$

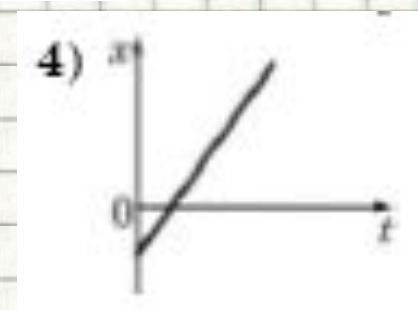
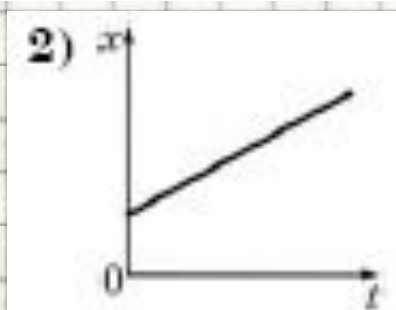
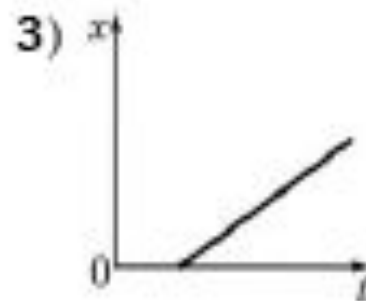
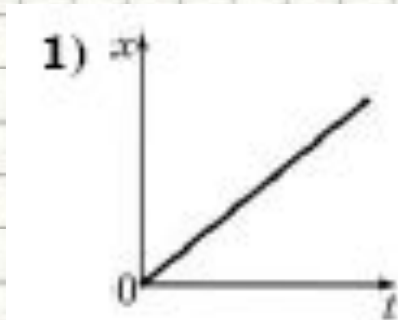
Закон прямолинейного **равноускоренного** движения

Величина	Формула	Единица измерения	График
Скорость	$v = v_0 + at$	м/с	
Перемещение	$s = v_0 t + \frac{at^2}{2}$ <p>(при $s_0 = 0$)</p>	м	
Ускорение	$a = \frac{v - v_0}{t}$	м/с ²	

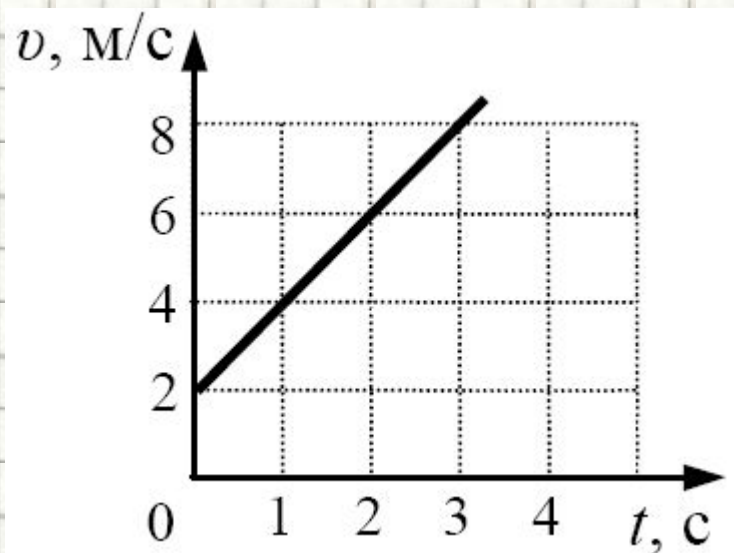
Рассмотрим задачи:

Подборка заданий по кинематике
(из заданий ГИА 2008-2010 гг.)

ГИА-2008 -1. На рисунках представлены графики зависимости координаты от времени для четырех прямолинейно движущихся тел. Какое из тел движется с наибольшей скоростью?

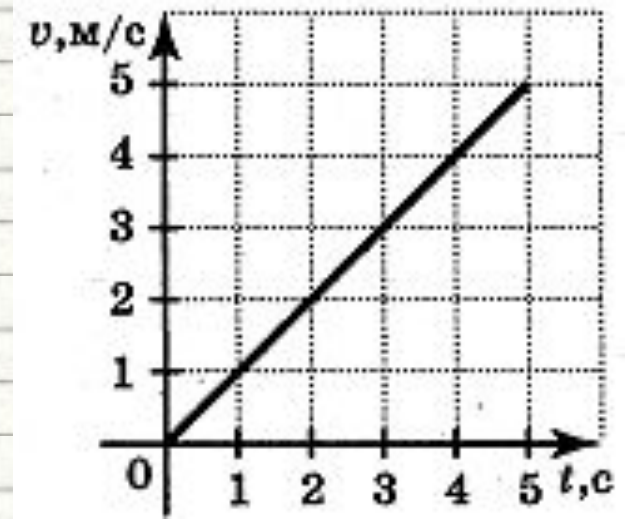


ГИА-2009 -1. 1. Используя график зависимости скорости движения тела от времени, определите скорость тела в конце 5-ой секунды, считая, что характер движения тела не изменяется.



1. 9 м/с
2. 10 м/с
3. 12 м/с
4. 14 м/с

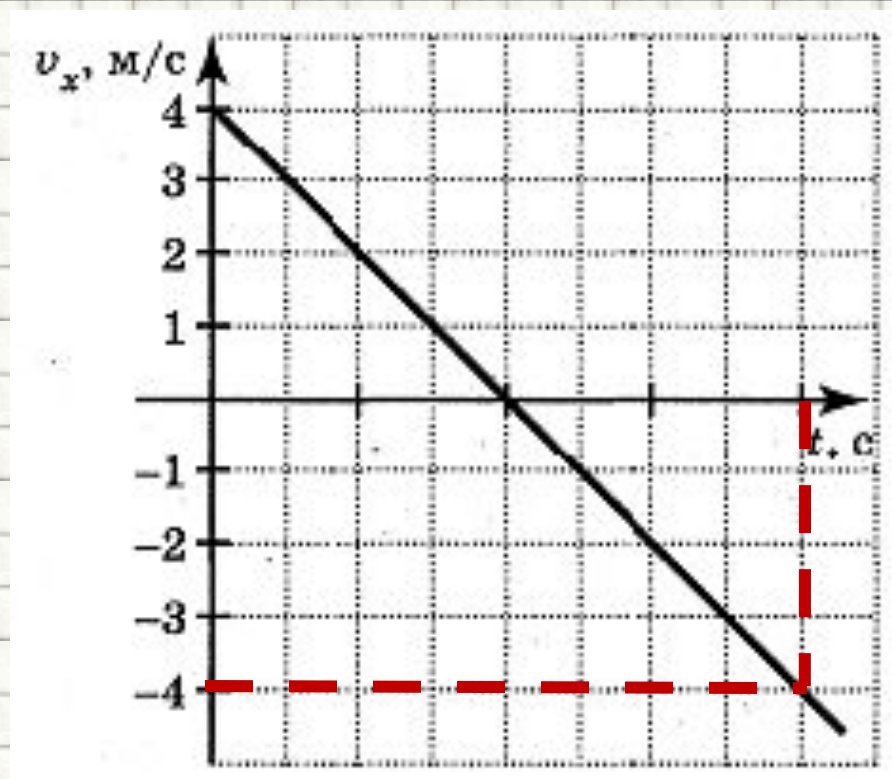
ГИА-2010-1. По графику скорости, изображенному на рисунке, определите путь, пройденный телом за 5 с.



- 1) 25м
- 2) 5 м
- 3) 7,5 м
- 4) 12,5 м

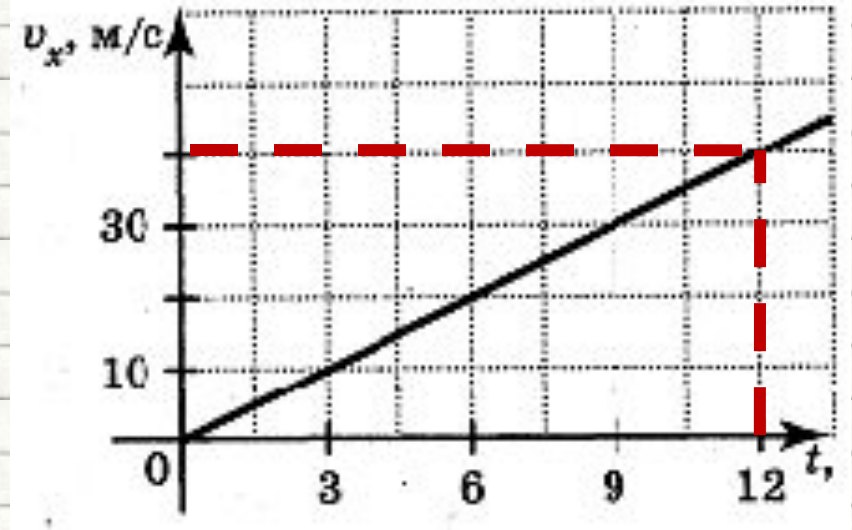
ГИА-2010-1. По графику зависимости скорости движения тела от времени. Найдите скорость тела в момент времени $t = 4$ с.

- 1) 0 м/с
- 2) 2 м/с
- 3) - 4 м/с
- 4) 16 м/с



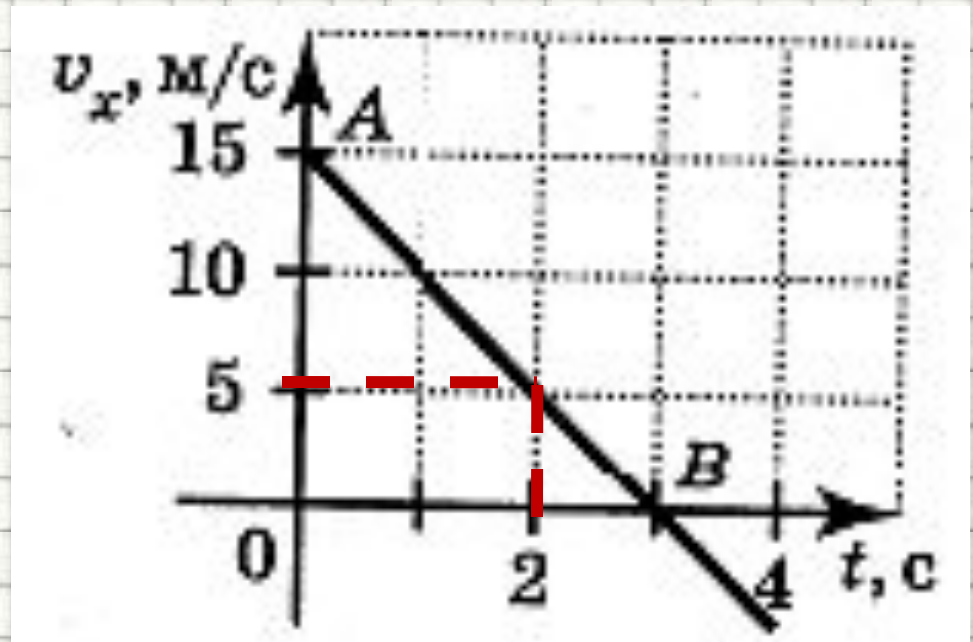
ГИА-2010-1. На рисунке изображен график зависимости скорости движения материальной точки от времени. Определите скорость тела в момент времени $t = 12$ с, считая, что характер движения тела не изменяется.

- 1) 30 м/с
- 2) 40 м/с
- 3) 50 м/с
- 4) 36 м/с



ГИА-2010-1. На рисунке приведен график скорости некоторого тела. Определите скорость тела в момент времени $t = 2$ с.

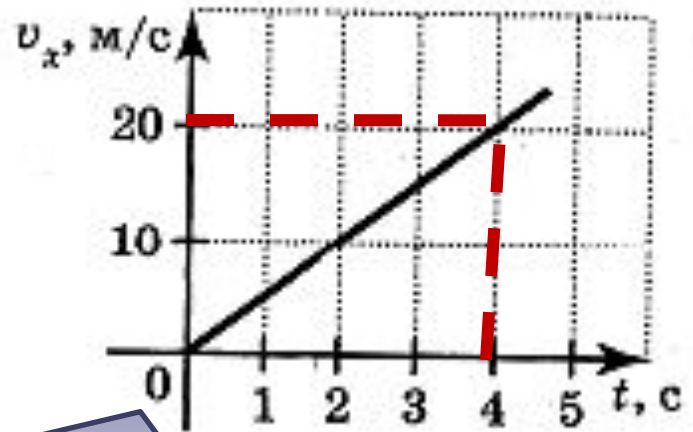
- 1) 5 м/с
- 2) 0 м/с
- 3) 7,5 м/с
- 4) 4 м/с



ГИА-2010-1. На рисунке представлен график зависимости проекции скорости грузовика на ось x от времени. Проекция ускорения грузовика на эту ось в момент $t=3$ с равна

- 1) 5 м/с^2
- 2) 10 м/с^2
- 3) 15 м/с^2
- 4) 20 м/с^2

$$a = \frac{v - v_0}{t}$$



$$a = \frac{(20 - 0) \frac{\text{м}}{\text{с}}}{4 \text{ с}} = 5 \frac{\text{м}}{\text{с}^2}$$

Движение равноускоренное,
ускорение постоянно

ГИА-2009-2. Сани начинают прямолинейное равноускоренное движение по склону горы из состояния покоя и за первую секунду движения проходят расстояние 1 м. Какое расстояние при таком движении они пройдут за третью секунду движения?

- 1. 1 м.
- 2. 3 м.
- 3. 4 м.
- 4. 5 м.
- 5. 9 м.

$$s^3 = s(3) - s(2)$$

$$s(3) = \frac{a \cdot t^2}{2} = \frac{a \cdot 3^2}{2} = 4.5a$$

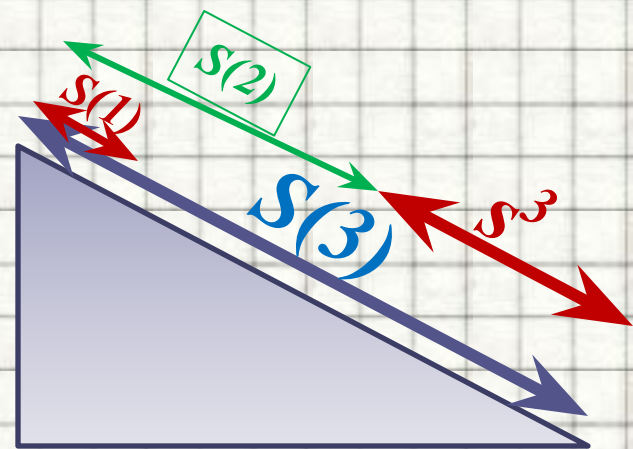
$$s(2) = \frac{a \cdot t^2}{2} = \frac{a \cdot 2^2}{2} = 2a$$

$$s^3 = 2.5a$$

$$s^3 = 5 \text{ м}$$

$$s(1) = \frac{a \cdot t^2}{2} = \frac{a \cdot 1^2}{2} = \frac{a}{2} = 1 \text{ м}$$

$$a = 2 \frac{\text{м}}{\text{с}^2}$$



ГИА-2009-2. Брусok скользит по наклонной плоскости равноускоренно из состояния покоя. За вторую секунду движения он прошел путь 60 см. Какой путь был пройден бруском за первую секунду движения?

$$s(2) = s^2 + s^1$$

$$s(2) = \frac{a \cdot t^2}{2} = \frac{a \cdot 2^2}{2} = 2a$$

$$s^2 = s(2) - s^1 = 0.6 \text{ м}$$

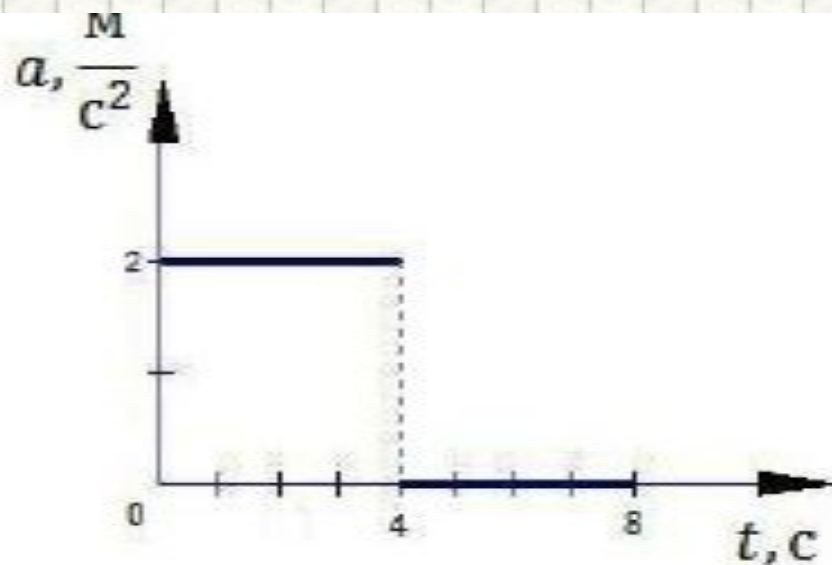
- 1. 5 см.
- 2. 10 см.
- 3. 15 см.
- 4. 20 см.
- 5. 30 см.

$$s^1 = s(1) = \frac{a \cdot t^2}{2} = \frac{a \cdot 1^2}{2} = \frac{a}{2}$$

$$s^2 = 2a - \frac{a}{2} = 1.5a = 0.6 \text{ м} \quad a = 0.4 \frac{\text{м}}{\text{с}^2}$$

$$s^1 = \frac{a}{2} = 0.2 \text{ м}$$

ГИА-2010-6. Тело начинает прямолинейное движение из состояния покоя, и его ускорение меняется со временем так, как показано на графике. Через 6 с после начала движения модуль скорости тела будет равен



1. 0 м/с
2. 12 м/с
3. 8 м/с
4. 16 м/с

ГИА-2010-15. Зависимость координаты материальной точки от времени задается уравнением $x(t) = At^2 + Bt + C$, где A , B и C — числовые коэффициенты. Скорость и ускорение тела в момент времени $t = 0$ равны соответственно

- 1) A и C
- 2) B и A
- 3) B и C
- 4) B и $2A$

$$x = C + B \cdot t + A \cdot t^2$$



$$x = x_0 + v_0 \cdot t + \frac{a \cdot t^2}{2}$$

$$v_0 = B$$

$$\frac{a}{2} = A$$

2003 г. (КИМ)

Одной из характеристик автомобиля является время t его разгона с места до скорости 100 км/ч. Сколько времени потребуется автомобилю, имеющему время разгона $t = 3$ с, для разгона до скорости 50 км/ч при равноускоренном движении?

1) $\frac{3}{\sqrt{2}}$ с

2) 1,5 с

3) $\frac{3}{4}$ с

4) $\frac{3}{50}$ с

$$V = a t$$

$$a = v/t = 100 / (36 \text{ м/с} \cdot 3 \text{ с}) = 250 / 27 \text{ м/с}^2$$

$$t^1 = V^1 / a = 500 / 36 \text{ м/с} : (125 / 3 \text{ м/с}^2) = 1.5 \text{ с}$$

2005 г

$$V = v_0 + at$$

$$\begin{cases} V_m = 3at \\ V_v = at \end{cases}$$

$$\frac{V_m}{V_v} = 3$$

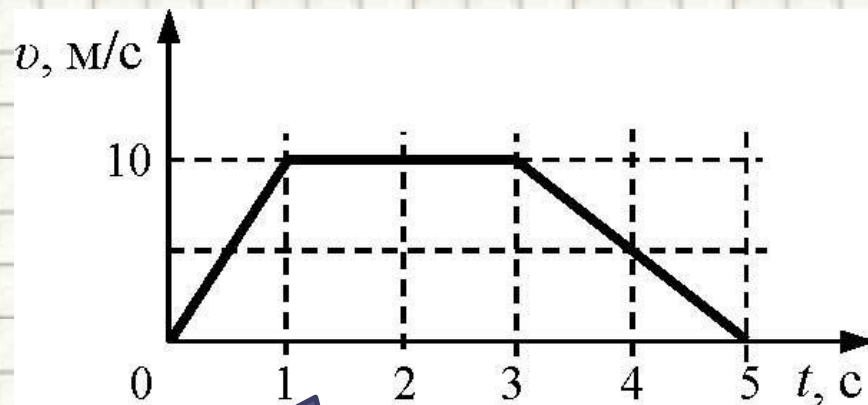
- Мотоциклист и велосипедист одновременно начинают равноускоренное движение. Ускорение мотоциклиста в 3 раза больше, чем у велосипедиста. В один и тот же момент времени скорость мотоциклиста больше скорости велосипедиста
 - 1) в 1,5 раза
 - 2) в $\sqrt{3}$ раза
 - 3) в 3 раза
 - 4) в 9 раз

На рисунке представлен график зависимости скорости v автомобиля от времени t . Найдите путь, пройденный автомобилем за 5 с. На рисунке представлен график зависимости скорости v автомобиля от времени t . Найдите путь, пройденный автомобилем за 5 с.

2010 г.

1) 0 м; 2) 20 м; 3) 30 м; 4) 35 м

- Пройденный путь равен площади фигуры под графиком скорости



$$S = \frac{5 + 2}{2} 10 = 35 \text{ м}$$

Трапеция

Литература

1. Гутник, Е. М., Физика. 7 класс. Учебник для общеобразовательных школ / Е. М. Гутник, А. В. Перышкин. - М.: Дрофа, 2009. – 302 с.
2. Зорин, Н.И. ГИА 2010. Физика. Тренировочные задания: 9 класс / Н.И. Зорин. – М.: Эксмо, 2010. – 112 с. – (Государственная (итоговая) аттестация (в новой форме)).
3. Кабардин, О.Ф. Физика. 9 кл.: сборник тестовых заданий для подготовки к итоговой аттестации за курс основной школы / О.Ф. Кабардин. – М.: Дрофа, 2008. – 219 с;
4. Кинематика материальной точки (основная школа) . **Единая коллекция цифровых образовательных ресурсов** // [Электронный ресурс]// <http://files.school-collection.edu.ru/dlrstore/200f91d9-6595-23e6-0638-a6c5d48095ad/00119626141316525.htm>
5. ПЕРЕМЕЩЕНИЕ ПРИ ПРЯМОЛИНЕЙНОМ РАВНОУСКОРЕННОМ ДВИЖЕНИИ. Класс!ная физика для любознательных. // [Электронный ресурс]// http://class-fizika.narod.ru/9_7.htm
6. Перышкин, А. В., Физика. 7 класс. Учебник для общеобразовательных школ / А. В. Перышкин. - М.: Дрофа, 2009. – 198 с.
7. Перышкин, А. В., Физика. 8 класс. Учебник для общеобразовательных школ / А. В. Перышкин. - М.: Дрофа, 2009. – 196 с.
8. Равномерное и равноускоренное прямолинейное движение. Социальный навигатор. // [Электронный ресурс]// <http://edu.yar.ru/russian/projects/socnav/prep/phis001/kin/kin2.html>
9. Равноускоренное движение. М.Б. Львовский. Демонстрации по механике // [Электронный ресурс]// <http://gannalv.narod.ru/fiz/s3.html>
0. Ускорение. **РАВНОУСКОРЕННОЕ ДВИЖЕНИЕ ФИЗИКА. Образовательный портал Курганской области** // [Электронный ресурс]// http://www.hde.kurganobl.ru/dist/disk/Shcool/Book/Sprav_material/Mech/p2.htm#q1
1. Федеральный институт педагогических измерений. Контрольные измерительные материалы (КИМ) Физика **ГИА-9 2010 г.** // [Электронный ресурс]// <http://fipi.ru/view/sections/214/docs/>
2. Федеральный институт педагогических измерений. Контрольные измерительные материалы (КИМ) Физика **ЕГЭ 2001-2010**// [Электронный ресурс]// <http://fipi.ru/view/sections/92/docs/>
3. **Физика 9 класс - § 5. Ускорение. Равноускоренное прямолинейное движение** . VIRTULAB. Виртуальная образовательная лаборатория. // [Электронный ресурс]// http://www.virtulab.net/index.php?option=com_content&view=article&id=308&limitstart=5