

КТО ХОЧЕТ СТАТЬ

МИЛЛИОНЕРОМ

1 Отборочный тур
Определите
последовательность
процесса получения ткани:

А. Суровье

Б. Пряжа

В. Сырье

Г. Отделка



ОТВЕТ:

В; Б; А; Г

1 балл:
**Кто завез картофель
в Россию**

А. Сам приехал

Б. Учитель по биологии

В. Петр I

Г. Алексей II



Вы выбываете
из игры

1

2

3

2 балла:
Является бутербродом
хлеб с маслом:

А. Нет

Б. Если батон свежий

В. Не знаю Г. Да

3 балла:
Когда яйцо сварено
«в мешочек» у него:

А. Крутые желток и белок

Б. Жидкий желток и белок

В. Жидкий желток, крутой белок

Г. Жидкий белок, крутой белок

4 балла:

***Не любит света, боится
холода и носит мундир***

А. Генерал

Б. картофель

В. Помидор

Г. Наполеон

5 балла:

**Что не относится к
мясным продуктам:**

А. Печень

Б. Сердце

В. Свинина

Г. Язык

6 баллов:

Назовите вид тепловой обработки, при котором продукт нагревают в небольшом количестве жира до образования золотистой корочки:

А. Пассерование

Б. Тушение

В. Жарение

Г. Запекание

7 баллов:

***Какой плод не относится к
семечковым?***


А. Яблоко

Б. Айва

В. Слива

Г. Груша

8 баллов:
Назовите значение
символа:



А. Нельзя стирать

**Б. Запрещена
химчистка**

**В. Нельзя
выжимать**

**Г. Нельзя
отбеливать**

9 баллов:
***Крючок (фурнитура) на
изделии должен
располагаться на:***

**А. изнаночной
стороне верхней
части застежки**

**В. лицевой стороне
нижней части
застежки**

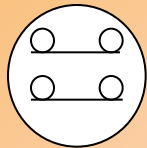
**Б. изнаночной
стороне нижней
части застежки**

**Г. лицевой стороне
верхней части
застежки**

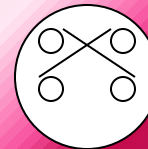
10 баллов:

Какого способа пришивания пуговиц не существует:

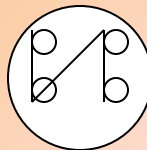
А.




Б.



В.



Г.



11 баллов:

**Этот овощ во Франции
называют «Яблоко Амура»:**

А. Помидор

Б. Персик

В. Виноград

Г. Абрикос

12 баллов:
***Какого элемента нет на
шпульном колпачке:***

**А. Установочный
палец**

Б. Защелка

В. Прорезь

Г. Стопор

13 баллов:

**Назовите заключительный
процесс производства
ткани:**

А. Опаливание

Б. Беление

В. Крашение

**Г. Химическая
обработка**

14 баллов:

**Какая мерка определяет
размер вашего поясного
изделия:**

А. Сб

Б. Ди

В. Сг

Г. Ст

15 баллов:

*Что лежит в основе
чертежа конической юбки:*

А. Клин

Б. Эллипс

В. Часть круга

Г. Конус

16 баллов:

**Какое свойство ткани
относится к механическим:**

А. Прочность

Б. Осыпаемость

В. Усадка

Г. Скольжение

17 баллов:

**Шелковая ткань с
металлическими нитями и
богатым рисунком
называется:**

А. Твид

Б. Кашемир

В. Сукно

Г. Парча

18 баллов:

*В каком году был основан
завод «Зингер», по
производству швейных
машин:*

А. 1755 году

Б. 1834 году

В. 1900 году

Г. 1919 году

19 баллов:

Последовательное повторение отдельных узоров и целой группы узоров, называется:

А. Композиция

Б. Орнамент

В. Раппорт

Г. Роспись

20 баллов:
Какого вида освещения не существует:

А. Рассеянного Б. Декоративного

В. Местного

Г. Направленного

21 балл:

**Какое средство не
используют, чтобы
предотвратить появление
МОЛИ:**

А. Ментол

Б. Нафтимен

В. Лаванда

**Г. Табачные
листья**

22 балла:

В каком из продуктов есть витамин B_2 ?

A. Орехи

**Б. Сладкий
перец**

В. Бобовые

Г. Крупы

*23 балла:
Родина огурца*

А. Россия

Б. Китай

В. Египет

Г. Индия

24 балла:

Какой молочный продукт относится к продуктам смешанного брожения:

А. Кумыс

Б. Кефир

В. Варенец

Г. Творог

25 баллов:
**Кто изобрел швейную
машину в которой
используются верхняя и
нижняя нити:**

А. Уолтер Хант

**Б. Карл
Вейзенталь**

В. Элиос Хоу

Г. Дэвид Пири

ПОЗДРАВЛЯЕМ

ПОБЕДИТЕЛЯ

2 Отборочный тур

**Определите
последовательность
первичной обработки
рыбы:**

А. Потрошение

Б. Обмывание


В. Пластование

Г. Чистка



ОТВЕТ:

Г, А, Б, В.



1 Балл:

Как размораживают мясо:

А. В духовке

Б. Феном

В. На воздухе

Г. В воде

2 балла:

Какого вида рукоделия не существует:

А. Фриволите

Б. Бисероплетение

В. Макраме

Г. Снеголепание

3 балла:

***Что не относится к
тепловой обработке:***

А. Тушение

Б. Соление

В. Запекание

Г. Жарка

4 балла:

***Выжмет из апельсина все
до последней капли:***

А. Силач

Б. Соковыжималка

В. Геракл

Г. Центрифуга

5 баллов:
Питательные вещества
всасываются в:

**А. Ротовой
полости**

Б. Пищевводе

В. Селезенке

**Г. Пищеварительном
тракте**

6 баллов:
***К какому виду волокна
относится вискоза:***

А. Искусственное

Б. Растительное

В. Синтетическое

Г. Минеральное

7 баллов:
Теплозащитные свойства
выше у:

А. Хлопка

Б. Шерсти

В. Акрила

Г. Лавсана

