


Материк пен аралдар



Білімділік: оқушылардың құрлықтар, аралдар туралы түсініктерін қалыптастыру. Құрлықтарды салыстыра отырып, оларды глобустан және картадан көрсету.

Дамытушылық: оқушылардың ойланту, қиялдату, дүниетанымдық көзқарастарын кеңейту.

Тәрбиелік: Отанын сүйюге, табиғатын аялай білуге тәрбиелеу.

Мақсат: материктер мен аралдар туралы түсініктерін кеңейту.

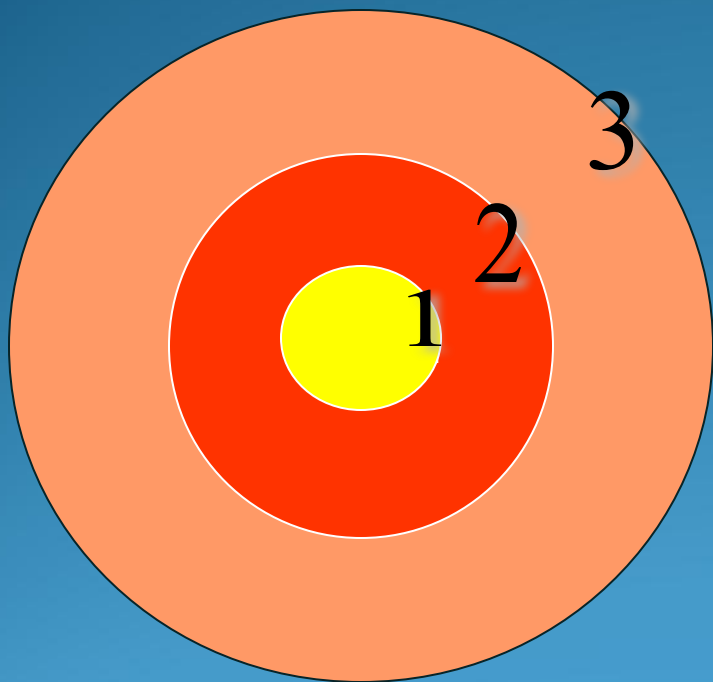
Құрал-жабдықтар, көрнекті құралдар: карта, глобус, қосымша материал, АКТ

Сабақтың түрі: аралас

Әдіс тәсілдер: Өз-өзінді тексер, ой толғаныс, карта мен жұмыс, кестені толтыр.



Өз өзіңді тексер!



1 —

2 —

3 —



Сұрақ-жауап



*Жер қойнауын зерттеу мақсатындағы бұрғылау
неше шақырымға дейін барады?*





Жердің осіне дейін қанша шақырым?

Жердің осіне дейін қанша шақырым?



*Материктердің қалыңдығы қанша
шақырымға жетеді?*



Таулы аудандарда жер қыртысының қалыңдығы қанша?


Мантия шамамен неше шақырымға барады?



TEMPLATER.RU

*Жер қыртысының жоғары
қабаты қандай
жыныстардан тұрады?*



The background features a white rectangular area with a thin border, set against a backdrop of vibrant autumn foliage in shades of orange, red, and yellow. In the bottom right corner, there is a stack of books with a small globe resting on top. The text is centered within the white area.

*Ядродагы температура
неше градусқа дейін
жетеді?*

*Мұхиттар жер шарының қанша
шақырымының алып жатыр?*

*Қазақстанның қай
аймақтарында жер сілкінісі
көп болады?*



A dramatic photograph of a massive tsunami wave crashing over a rocky shore. The water is a deep, vibrant blue-green, and the crest of the wave is curling over, creating a thick wall of white foam. The sky is a pale, hazy blue. The overall scene conveys the immense power and scale of the event.

Цунами дегеніміз не?

*Жан–жағынан 4 мұхит қоршап
жатқан құрлық.*





Құрлықтар жер бетінің неше процентін алып жатыр?



Құрлық дегеніміз не?

Арал дегеніміз не?

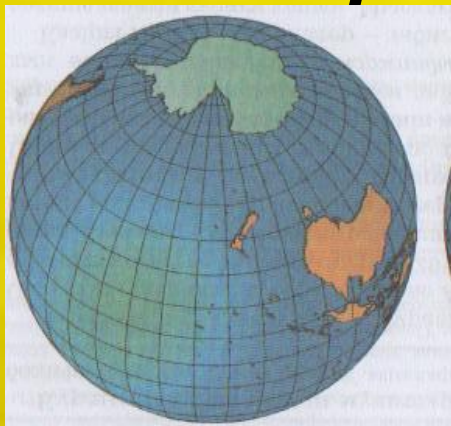
Қандай құрлықтарды білесіндер?

**Біздің Отанымыз қай құрлықта
орналасқан?**


Рельеф



Ең ірі рельефтен



Мұхиттық жарты шар



Матеріктік жарты шар



Аралдар



маржан



Жанартау



материктік



архипелаг

Кестені толтыр

Құрылықтардың аты	Ерекшеліктері	Қандай жарты шарда орналасқан	Қандай мұхит суларымен қоршалған
1			
2			
3			
4			
5			
6			



Зейіндеріңізге рахмет!!!

