



Решение задач

Автор презентации:
учитель начальных классов
МАОУ «СОШ№38» г.Сыктывкара
Чурина Т.И.





В ателье сшили 8 платьев в _____
горошек, а на 3 платья

В полоску сколько платьев сшили в ателье?

о

о 8

г. _____

-3

п. _____



?

1) Сколько платьев в полоску
сшили? _____ полоску.

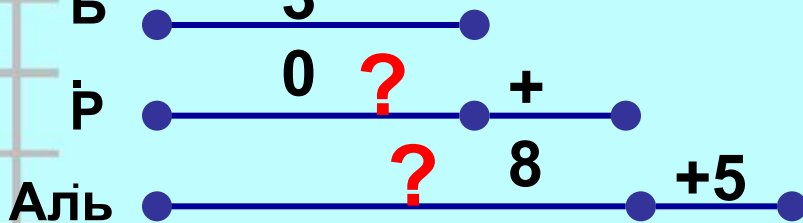
2) Сколько всего платьев
сшили?

Ответ : 13 платьев всего
сшили.



Ручка дороже блокнот на 8 а
дороже ручк на 5 рубле Цена блокнота 30 альбом
Сколько стоит й. рублей.

альбом?



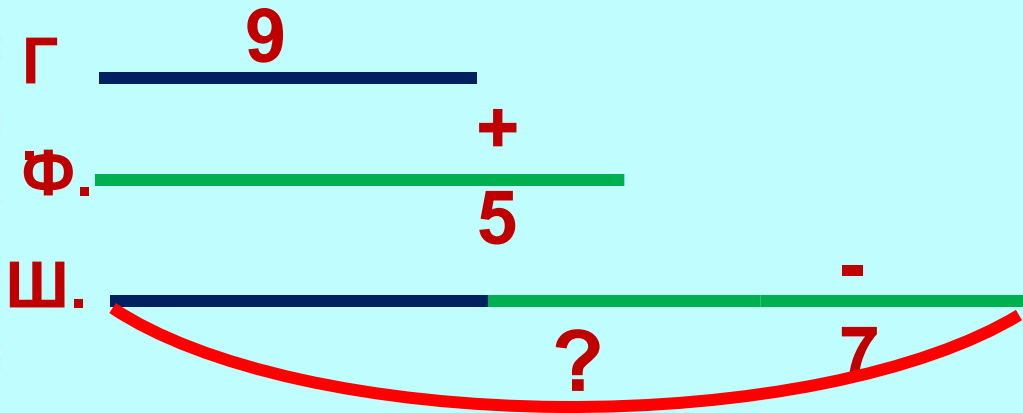
1) Сколько стоит (р.) стоит

ручка? 38 (р.) ручка

альбом? 43 (р.) альбом
ответ: 43 рубля стоит альбом.



Для украшения класса принесли 9 гирлянд, флажков – на 5 больше, чем гирлянд, а воздушных шаров на 7 меньше, чем гирлянд и флажков вместе. Сколько шаров принесли для украшения класса?



Проверка

1) Сколько флажков принесли?

$$1) 9 + 5 = 14$$

2) Сколько флажков и гирлянд принесли?

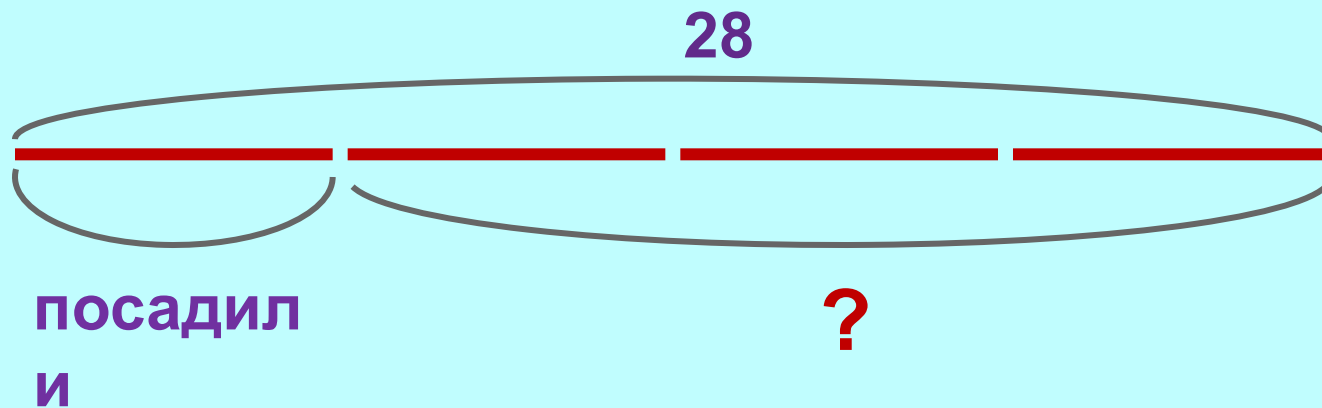
$$2) 9 + 14 = 23$$

3) Сколько шаров принесли?

$$3) 23 - 7 = 16$$



**Вдоль аллеи надо посадить 28
саженцев. Четвёртую часть
саженцев уже посадили.
Сколько саженцев осталось
посадить?**





Девочки прыгали через скакалку. Таня прыгнула 40 раз, Лена на 8 раз больше, чем Таня, а Вика на 2 раза меньше, чем Лена. Сколько раз прыгнула через скакалку Вика?

Т	4			
л.	0	+	?	
В		8 -2	?	

Решени

е

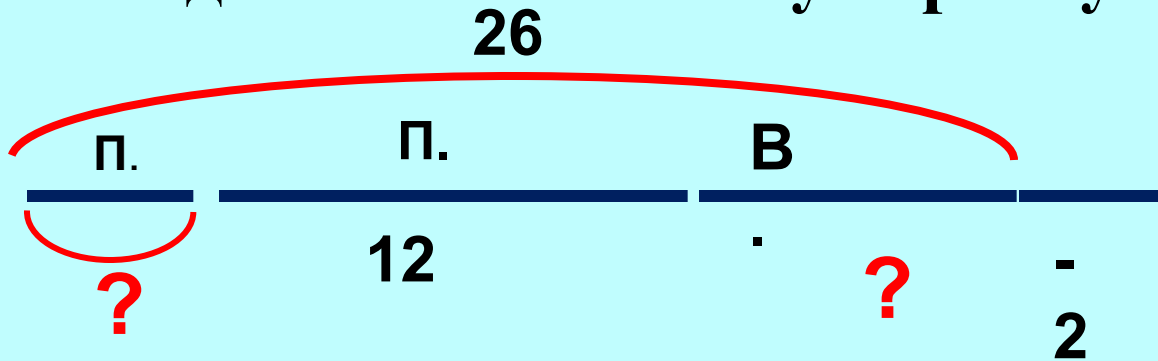
- 1) Сколько раз прыгнула Лена?
- 2) Сколько раз прыгнула Вика?

Проверка

- 1) $40 + 8 = 48$ (р.) – Лена.
 - 2) $48 - 2 = 46$ (р.)
- Ответ: 46 раз прыгнула Вика.



В папину тарелку положили 12 пельменей, а в тарелку Васи на 2 пельменя меньше. Потом добавили несколько пельменей в папину тарелку. Всего в двух тарелках стало 26 пельменей. Сколько пельменей добавили в папину тарелку?



Решени

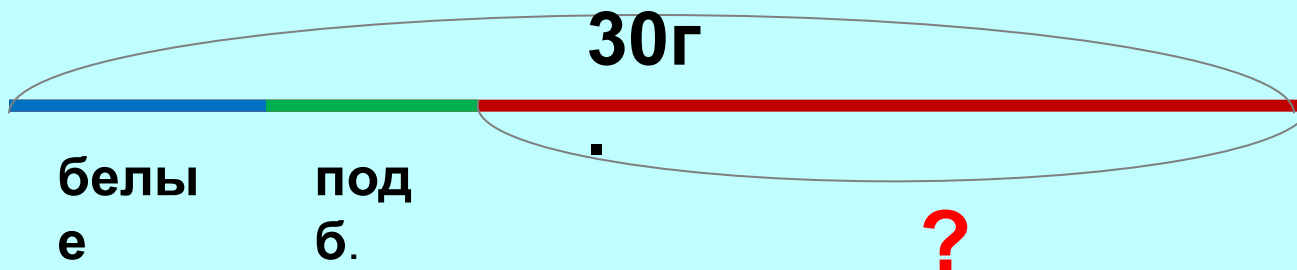
- 1) Сколько пельменей у Васи?
- 2) Сколько пельменей было в двух тарелках?
- 3) Сколько пельменей добавили папе?

Проверка

- 1) $12 - 2 = 10$ (п.) – у Васи
 - 2) $12 + 10 = 22$ (п.)- в двух тарелках
 - 3) $26 - 22 = 4$ (п.)
- Ответ: 4 пельменя добавили папе.



Уч.с.31
№16



Проверка:

1) $30 : 5 = 6$ (гр.)

2) $30 : 6 = 5$ (гр.)

3) $5 + 6 = 11$ (гр.)

4) $30 - 11 = 19$ (гр.)

ые

1) Сколько белых

грибов?

2) Сколько

подберёзовиков?

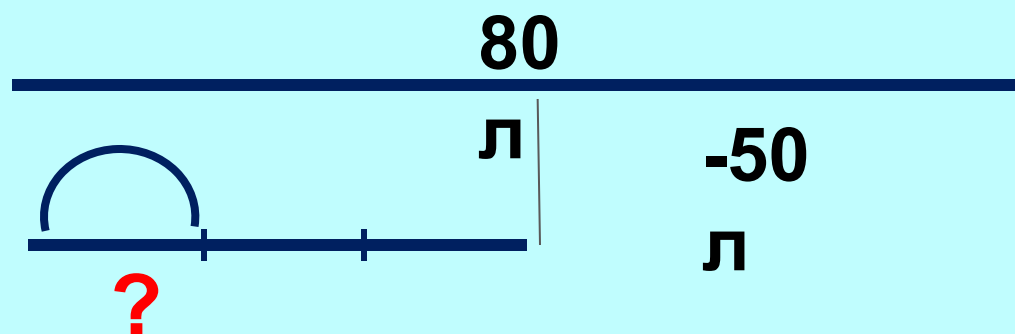
3) Сколько белых и

подберёзовиков?

4) Сколько лисичек?



В бочке 80л воды. В 3-х вёдрах на 50л меньше. Сколько литров в одном ведре, если во всех вёдрах воды поровну?



Проверка

1) Сколько л воды в 3-х вёдрах?

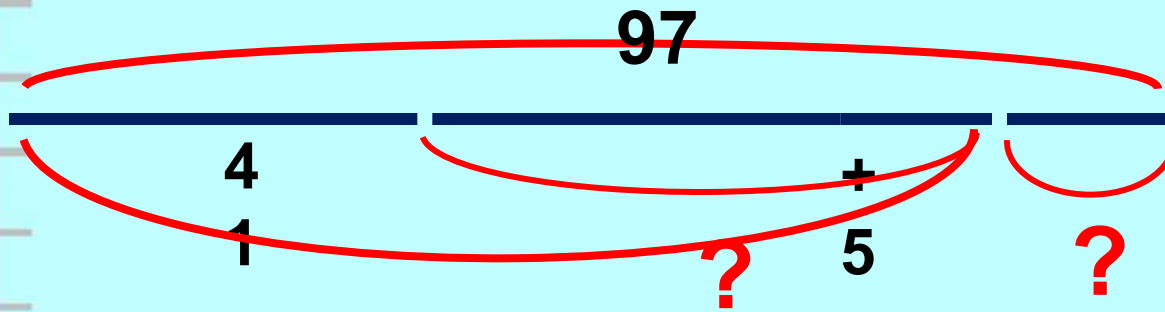
$$80 - 50 = 30(\text{л})$$

2) Сколько л воды в одном ведре?

$$30 : 3 = 10(\text{л})$$



В трёх корзинах было 97 груш. В первой корзине -41 груша, во второй на 5груш больше, чем в первой. Сколько груш было в третьей корзине?



Решение

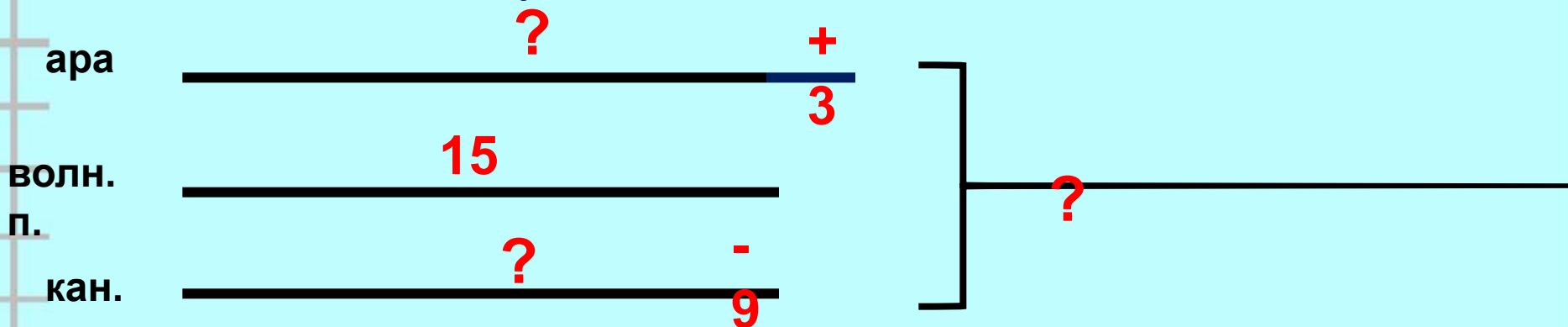
- 1) Сколько груш во второй корзине?
- 2) Сколько груш в двух корзинах?
- 3) Сколько груш в третьей корзине?

Проверка

- 1) $41 + 5 = 46$ (гр.) – во второй
 - 2) $41 + 46 = 87$ (гр.)- в двух
 - 3) $97 - 87 = 10$ (гр.)
- Ответ: 10 груш в третьей корзине.



В зооуголке было 15 волнистых попугаев, попугаев ара на 3 больше, чем волнистых, а канареек на 9 меньше, чем волнистых попугаев. Сколько всего птиц было в зооуголке?



Решение

- 1) Сколько попугаев ара?
- 2) Сколько канареек?
- 3) Сколько птиц всего?

Проверка

- 1) $15 + 3 = 18$ (пт.) – попугаев ара
 - 2) $15 - 9 = 6$ (пт.) -канареек
 - 3) $15 + 18 + 6 = 39$ (пт.)
- Ответ: 39 птиц всего.