

# МАТЕМАТИКА

- ВЕСЁЛАЯ ПЕРЕМЕНКА

- 6-7 класс

- Учитель математики: Шахвалова Т.Г.

# 1 задание.

## Угадать слово:

- Первое – предлог, второе – летний дом.

А целое порой решается с трудом.


## 2 задание.

### Исключить лишнее слово:


- Тарелка, ложка, чемодан, чашка, вилка.
- Пароход, лодка, поезд, катер, плот.
- Сапоги, туфли, босоножки, кроссовки, носки.

# 3 задание.


Исключить «лишнюю» фигуру:




1



2



3



4

## 4 задание.

- Какое наименьшее натуральное число можно записать двумя цифрами?

## 5 задание.

- Переставьте одну цифру так, чтобы равенство стало верным.

- $101 - 102 = 1$

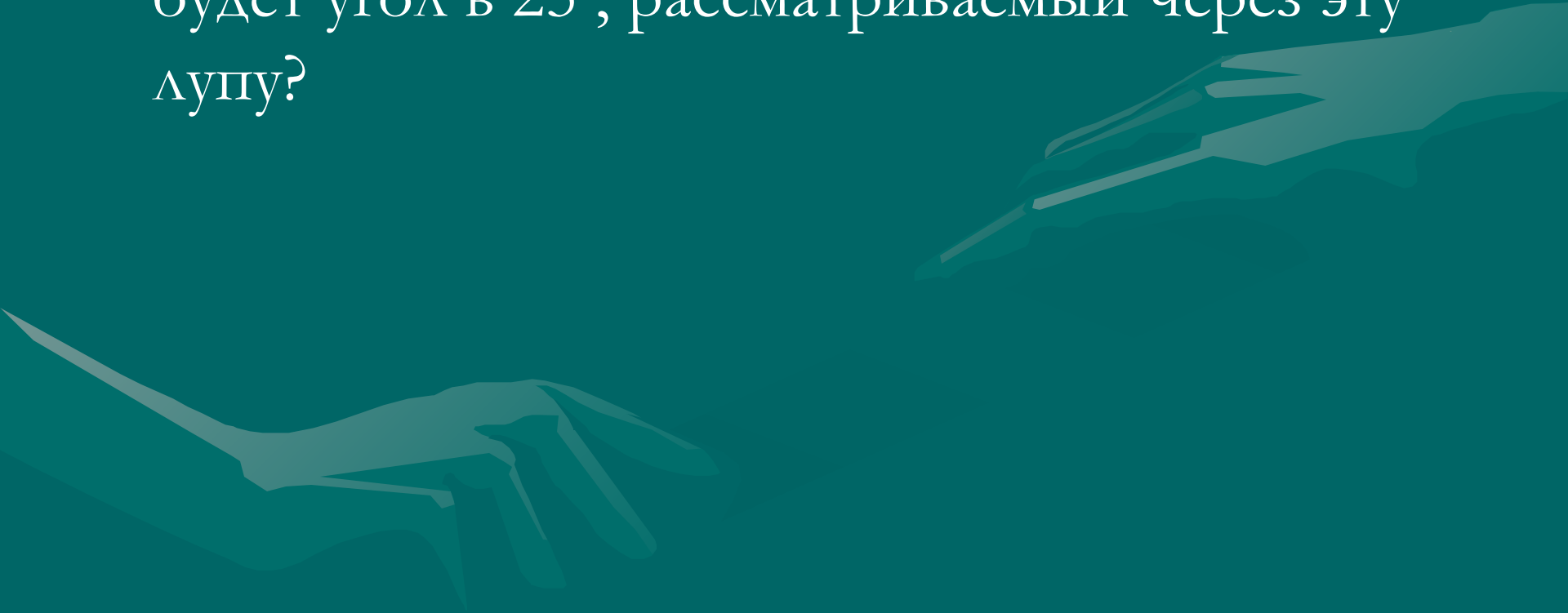
## 6 задание.

- Расставьте в клеточках числа 1, 4, 6, 7, 8, 9 так, чтобы в сумме получилось 15.

	5	3
2		

## 7 задание.

- Лупа даёт четырёхкратное увеличение. Каким будет угол в  $25^\circ$ , рассматриваемый через эту лупу?





## 8 задание.

В коробке 7 шариков.









3 из них красные.

Найдите отношение синих шариков









к числу красных.

# 9 задание.

Подобрать нужный квадрат.


  

# 10 задание.

- 4 кошки и 3 котёнка весят 15 кг, а 3 кошки и 4 котёнка весят 13 кг. Сколько весит каждая кошка и каждый котёнок в отдельности?

# ОТВЕТЫ:

- 1. Задача.
- 2. Чемодан; поезд; носки.
- 3. Под номером 3.
- 4. 12 или  $1^2 = 1$
- 5.  $101 - 10^2 = 1$       6.
- 7.  $25^{\circ}$
- 8.  $4/3$
- 9. 
- 10. Кошка -3кг, котёнок-1кг.

6	1	8
7	5	3
2	9	4