

Учитель географии Мелешко И.
Ю. ГБОУ Гимназии №1504

Западная Сибирь

**Российское
могущество
прирастать будет
Сибирью.
М. В. Ломоносов**

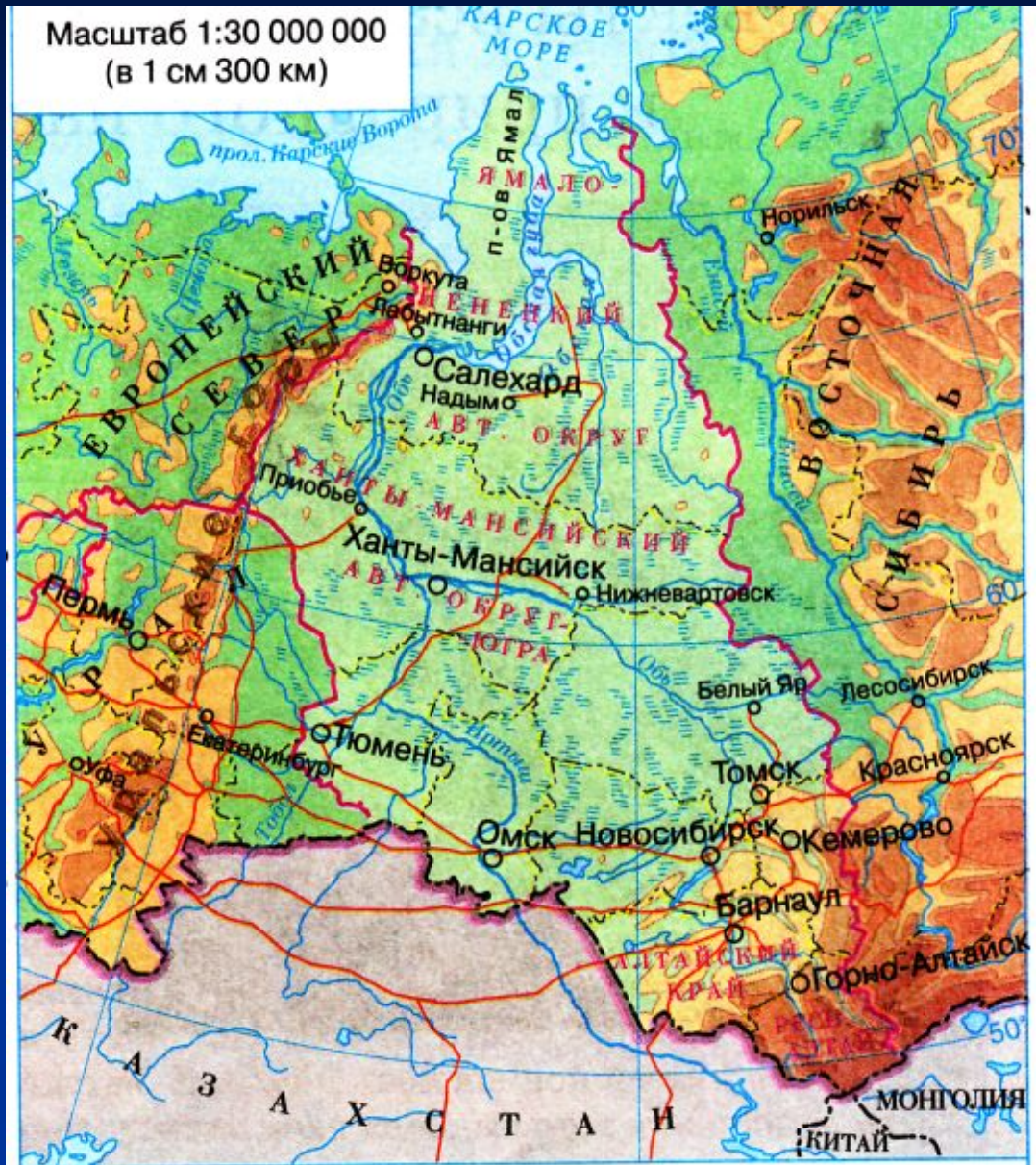
ЗАДАЧИ:

- Выявить состав и особенности ЭГП экономического района Западная Сибирь;
- Оценить природные условия и природные ресурсы Западной Сибири для развития хозяйства региона;
- Определить отрасли специализации Западной Сибири;
- Сформулировать проблемы и выявить пути их решения

Состав экономического района Западная Сибирь

■ Задание:

Определите состав экономического района (учебник стр.221, политико-административная карта).



Состав экономического района Западная Сибирь

- 5 областей:

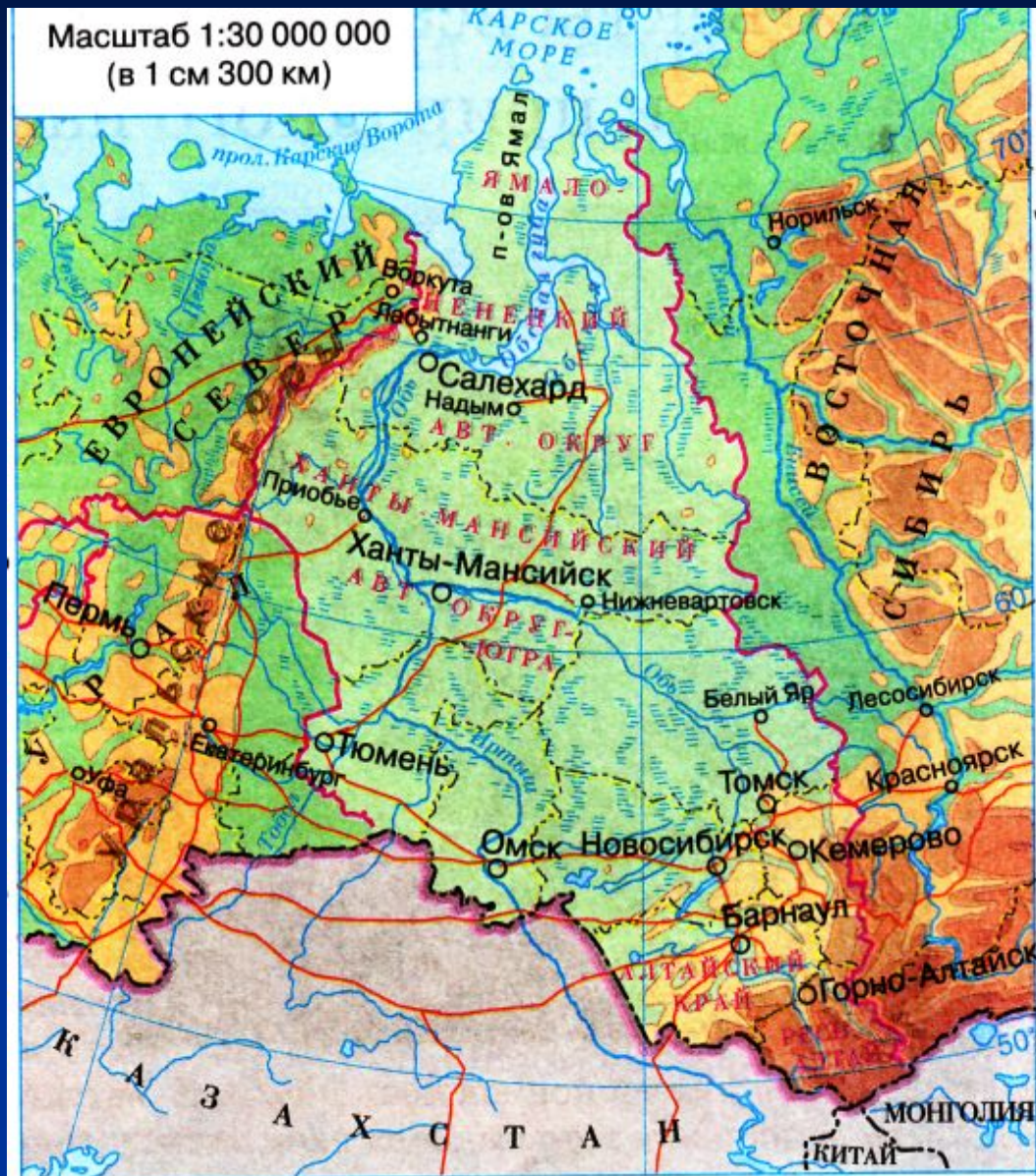
1. Тюменская
(Ханты-Мансийский АО,
Ямало-Ненецкий АО);
2. Новосибирская;
3. Томская;
4. Омская;
5. Кемеровская

- 1 край:

1. Алтайский (г. Барнаул)

- 1 республика:

1. Алтай (г. Горно-Алтайск)



ЭГП Западной Сибири

ДОЛЯ В РОССИИ



По территории — 14% По населению — 10%



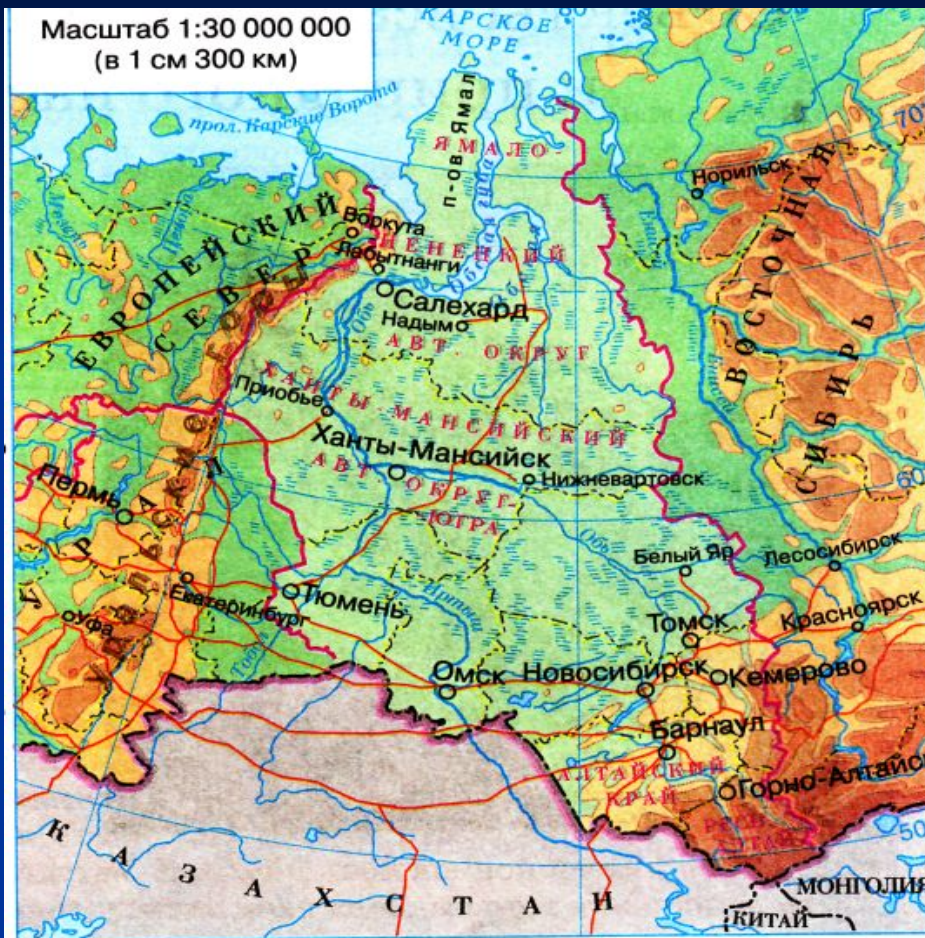
По добыче газа — 90%



По добыче нефти — 70%



По валовому сбору зерна — 14%



ЭГП Западной Сибири

Задание:

Используя карту, дайте оценку ЭГП Западной Сибири по плану:

1. Положение по отношению к государственным границам.
2. На территории страны.
3. Соседи.
4. Выход к морю.
5. Транспортное положение



Заполните пропуски в тексте:

Западная Сибирь - это район России, который граничит с
3 государствами: _____.

Российскими соседями являются _____
районы.

На Севере Западная Сибирь имеет выход к _____
морю.

Его площадь составляет _____ млн.км², _____% тер-и
России.

Здесь проживает _____ тыс. чел., _____% общей
численности населения России.

Состоит район из _____ субъектов: _____ областей,
_____ автономных округов, _____ края, _____ республики.

Наиболее тесные связи налажены с _____
экономическим районом.

По территории района проходят две важные
транспортные магистрали _____

Выгоды ЭГП Западной Сибири заключаются в

_____ фактором является _____.

Западная Сибирь - это район России, который граничит с 3 государствами:
Казахстан, Монголия, Китай.

Российскими соседями являются Северный, Уральский, Восточно-Сибирский районы.

На Севере Западная Сибирь имеет выход к Карскому морю.

Его площадь составляет 2,4 млн.км², 14 % тер-и России.

Здесь проживает 15 млн. чел., 10 % общей численности населения России.

Состоит район из 9 субъектов: 5 областей, 2 автономных округов, 1 края, 1 республики.

Наиболее тесные связи налажены с Уральским экономическим районом.

По территории района проходят две важные транспортные магистрали Транссибирская магистраль и Северный морской путь

Выгоды ЭГП Западной Сибири заключаются в наличии выхода к морям Северного Ледовитого океана, соседстве с Уральским экономическим районом.

Отрицательным фактором является удаленность от центральных районов страны.

Заполните таблицу

Природные условия	Западная Сибирь
Рельеф	
Климат	
Воды	
Почвы	
Природные зоны	

Заполните таблицу

Природные условия	Западная Сибирь
Рельеф	Низменность – Западно-Сибирская равнина, на юге горы Алтай
Климат	↓ С Арктический Ю Ум. Континентальный
Воды	Обь и ее притоки, болота
Почвы	1/3 всех почв – вечная мерзлота, 4/5 подзолистые почвы, на юге черноземы
Природные зоны	Широтная зональность: ↓ С Арктическая пустыня Тундра Тайга Смешанные леса Ю Степь

Определите по карте, какие природные ресурсы имеет район

- Нанесите их на контурную карту.
- Дайте хозяйственную оценку природных ресурсов Западной Сибири.
- Сформулируйте вывод: Западная Сибирь (*богата, небогата*) природными ресурсами, особенно _____

Природные условия и ресурсы



Условия жизни и работы людей

- крайне неблагоприятные
- неблагоприятные
- удовлетворительные
- благоприятные

Районы добычи

- угля
- нефти
- газа
- железных руд
- полиметаллических руд
- поваренной соли



Вывод:

**Западная Сибирь богата
природными
ресурсами, особенно
ТОПЛИВНЫМИ.**

Проблемный вопрос:

Чем объяснить, что в Западной
Сибири сосредоточены
крупнейшие месторождения
нефти и газа?

*Если вопрос вызывает затруднения,
воспользуйтесь учебником стр.224.*

Заполните таблицу

Отрасли специализации	Продукция отраслей	Центры и районы

Заполните таблицу

Отрасли специализации	Продукция отраслей	Центры и районы
Топливная Черная металлургия Цветная металлургия Химическая Машиностроение Лесная и деревообработка Зерновое хозяйство Мясомолочное скотоводство Оленеводство		

Экологические проблемы

Экологические проблемы:

- Уничтожение оленьих пастбищ
- Загрязнение рек нефтью
- Загрязнение воздуха угольной пылью, дымом
- Эрозия почв
- Заболоченность

Оцените работу на уроке

Максимальный балл – 8.

Показатели	Оценка
Моя самооценка	
Меня оценил партнер	
Степень сотрудничества с учащимися	
Степень сотрудничества с учителем	
Итоговая оценка	

Домашнее задание

§49-50

1. Решение экологических проблем региона.
2. Готовимся к ГИА