

24

СЕНТЯБРЯ
ПОНЕДЕЛЬН
ИК
МАТЕМАТИК
А



Две



Одна



:

Один

Два

Три

Четыр

е:



$$3-1=2$$

$$4-1=3$$

$$3+1=4$$

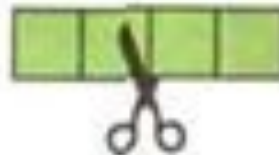


Схем


ы:



$$\square + \square = \square$$



$$\square - \square = \square$$



$$\square - \square = \square$$

Какое число
пропущено:

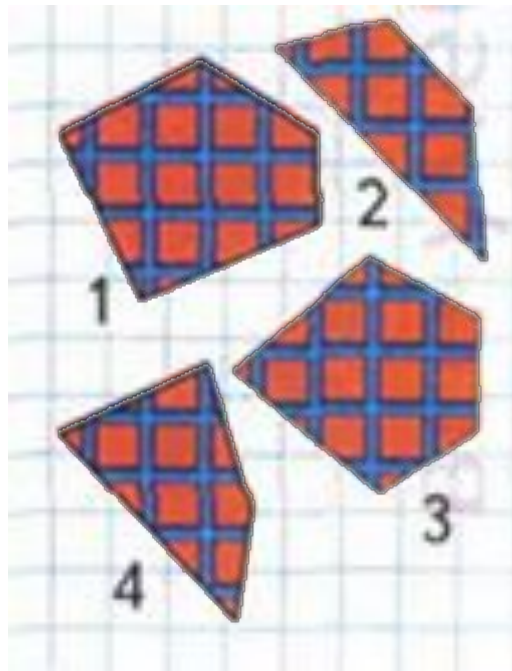

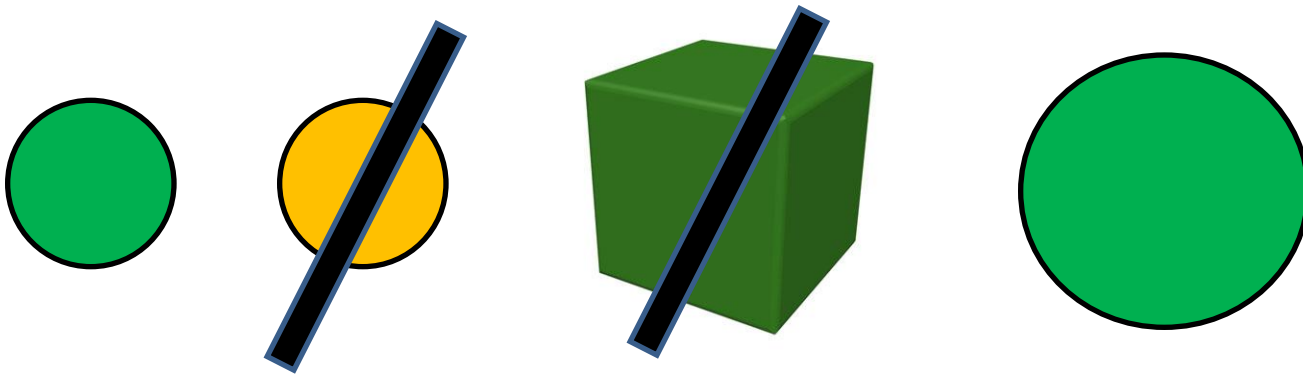
Из 4 вычтешь 1, получишь 3, 2, 1?

$$4 - 1 = 3$$


Какое число

< ольш >

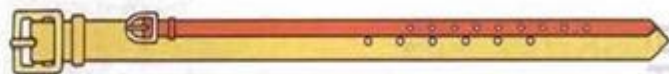
2 или 4? 3 или 1?



Длиннее,



Какой поводок длиннее, а какой короче?
Чей хвост длиннее? Чьи уши короче?



Какой ремень короче? Какой ремень длиннее?
Какой ремень шире? Какой ремень уже?

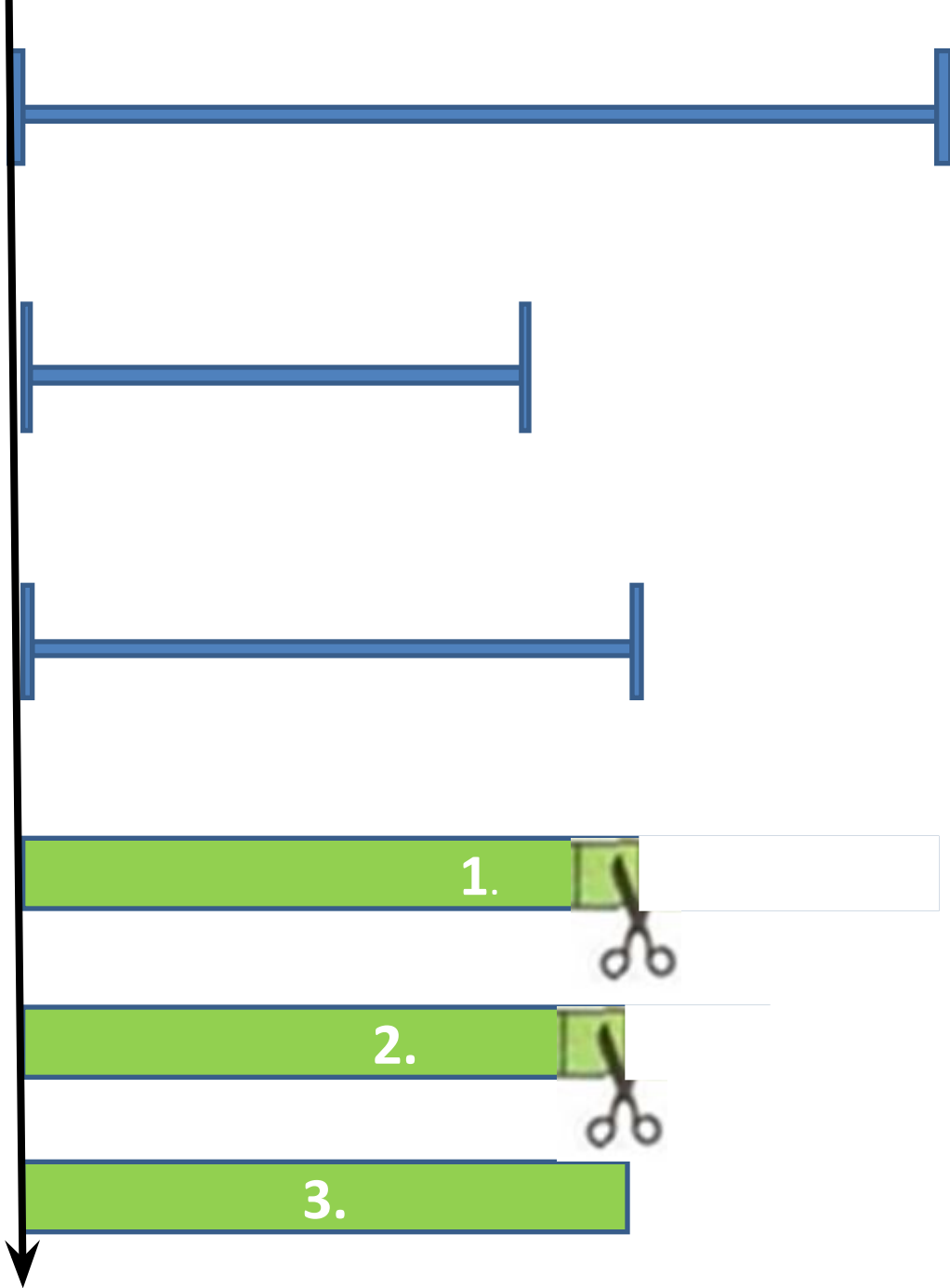
Как можно получить число 3? число 4?

	$1 + 1 = \square$		$4 - 1 = \square$
	$2 + 1 = \square$		$3 - 1 = \square$
	$3 + 1 = \square$		$2 - 1 = \square$


Расскажи по

1)на
глаз

2)
наложением



Длиннее. Короче



Какая полоска короче? Раскрась её.



Заполни таблицу и сравни, кого на рисунке меньше, кого больше.



Кошки	●				
Мышки	▲				

Закрась рамку с правильным ответом.

Кошек МЕНЬШЕ,
чем мышек.

Мышек МЕНЬШЕ,
чем кошек.



Длиннее. Короче



1

2

3

4

The image contains ten illustrations in light blue rounded rectangles: two butterflies (one pink, one blue), a dragonfly, three ladybugs, two tulips, four mushrooms, raspberries on a branch, and lemons on a branch. Five yellow boxes with numbers 1 through 4 are in the center. Arrows point from the dragonfly to box 1, from the butterflies to box 2, from the ladybugs to box 3, from the mushrooms to box 4, and from the tulips to box 2.

**Спасибо
за работу!**