

456

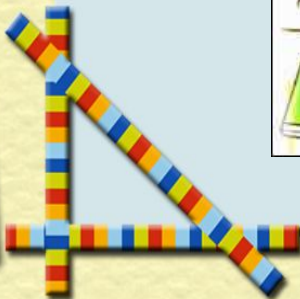

116

908


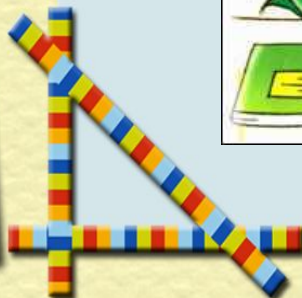


400

547

777



Сложение и вычитание трехзначных чисел







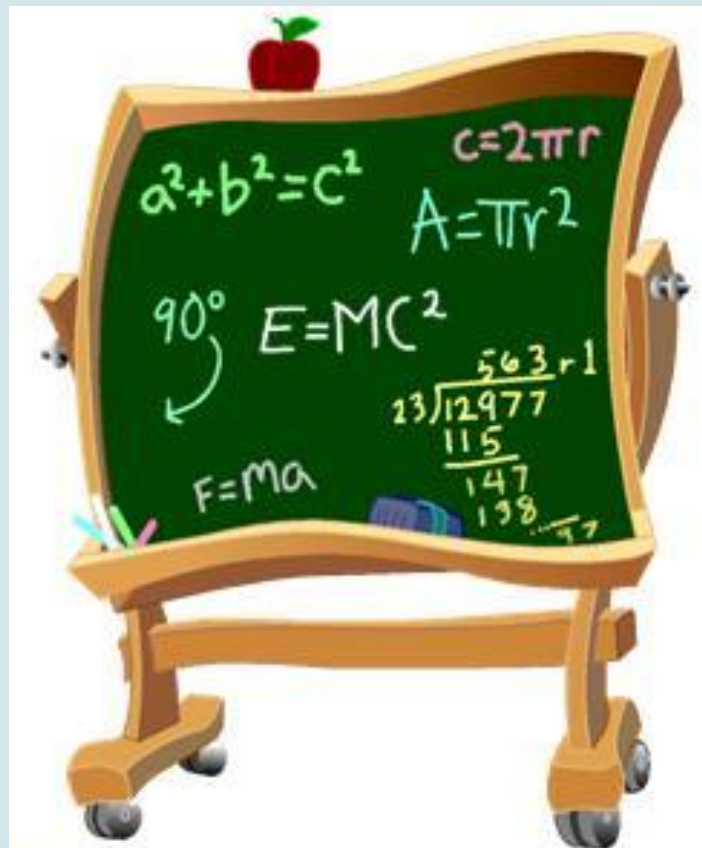
Фрекен Бок не отпускает
Малыша играть.




Малыш должен выполнить задания.
Помогите ему.



УСТНЫЙ СЧЁТ





Посчитай

от 358 до 362

от 711 до 705


Назови последующее числа



579

580

699

700





Назови предыдущее числа

420 419


900 899

Прочитай числа:

237 750 906

Сколько сотен, десятков, единиц?







Назови число, в котором

4 сотни 5 единиц 405

7 сотен 6 десятков 760

3 сотни 4 десятка 2 единицы
342






Сравни числа:

36 $<$ 201

111 $>$ 9


430 $>$ 408

216 $<$ 629





Запиши цифрами числа:



двести девяносто четыре 294





четыреста двадцать три 423


пятьсот шестьдесят 560

триста восемь 308

сто семьдесят девять 179









Правило сложения трехзначных чисел

Единицы складываем с единицами,
десятки – с десятками,
сотни – с сотнями.


Правило вычитания трехзначных чисел

Из единиц вычитаем единицы,
из десятков - десятки,
из сотен – сотни.







Круговые примеры




	700	
	$- 361$	
	<hr/>	
	339	
327		339
$+ 373$		$- 199$
<hr/>		<hr/>
700		140
	140	
	$+ 187$	
	<hr/>	
	327	





Сколько лет Карлсону?



За 3 года до знакомства с Малышом Карлсон был старше его в 9 раз. Сколько же лет было Карлсону, когда он познакомился с Малышом?



39





Карлсон очень любил вишневое и клубничное варенье. За год знакомства с Малышом он съел у него в гостях 259 литров вишневого варенья, а клубничного на 123 литра меньше. Сколько литров варенья всего съел Карлсон в гостях у Малыша?


395





Чтобы починить разбитую люстру, необходимо купить 2 новых плафона по цене 185 рублей каждый, а также 1 патрон по цене 18 рублей. Новая же люстра стоит 430 рублей. Что экономичнее: починить люстру или купить новую?

$$388 < 430$$






Какой подарок получит Малыш
на день рождения?

$$214 + 198$$

$$297 + 558$$

$$504 - 386$$

$$600 - 308$$




Какой подарок получит Малыш
на день рождения?

4 1 2

$$297 + 558$$

$$504 - 386$$

$$600 - 308$$




Какой подарок получит Малыш
на день рождения?

412

855

504 - 386

600 - 308



Какой подарок получит Малыш
на день рождения?




4 1 2

8 5 5

1 1 8

600 - 308






Какой подарок получит Малыш на день рождения?



4 1 2

8 5 5

1 1 8

2 9 2










Какой шарик ты подарить
Малышу на день рождения?



Итог урока





Домашнее задание

- № 234, с. 55

- составить задачу
о Малыше и Карлсоне

