

УРОК МАТЕМАТИКИ ВО 2 «А» КЛАССЕ ПО ТЕМЕ «ДЛИНА ЛОМАННОЙ. ПЕРИМЕТР»

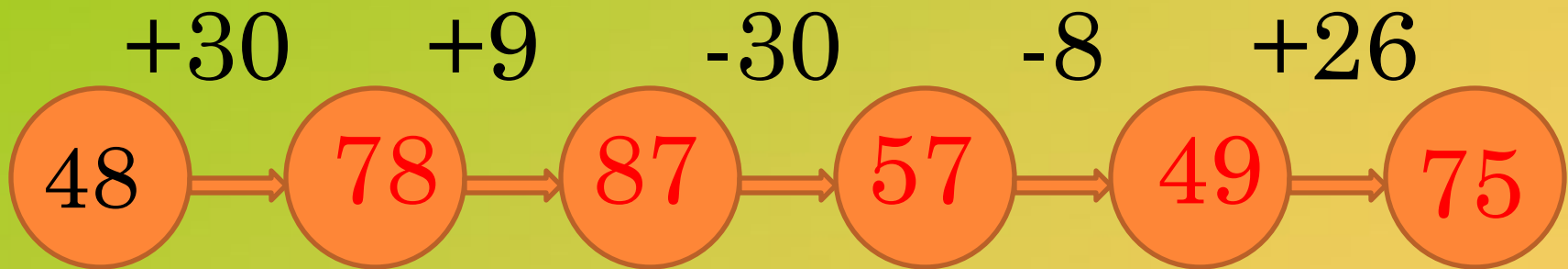


Учитель начальных классов
МБОУ СОШ № 3
Просандеева Елена Викторовна

654









**Выполни
программу действий
Считай без ошибок**



МОЛОДЦЫ!

ВНИМАНИЕ









DESIGN-WAREZ.RU



ВНИМАНИЕ




▣ **Вычитаемое**
уменьшаемое

▣ **1-е слагаемое,**
2-е слагаемое

▣ **Точка, прямая, луч**

▣ **Сумма длин сторон**
многоугольника





▣ **Сумма**

▣ **Геометрические**
фигуры


▣ **Разность**

?






$1 \text{ м} = 10 \text{ см}$



$3 \text{ м} = 3 \text{ дм}$

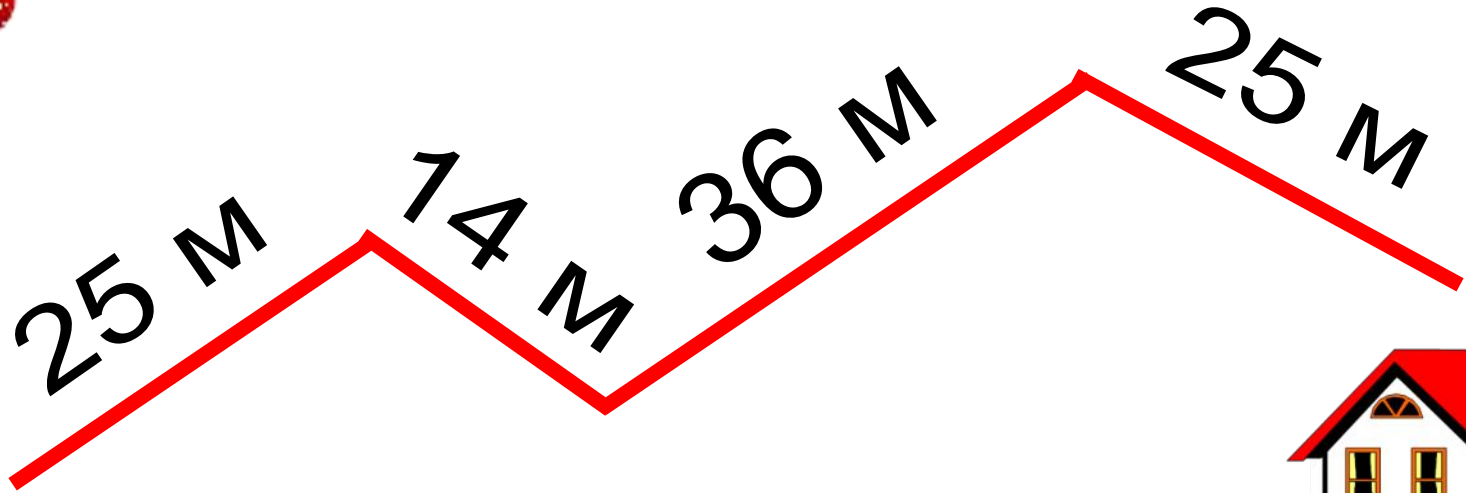


$3 \text{ м} = 1 \text{ дм}$



$1 \text{ дм} = 100 \text{ см}$







20 cm



15 cm



35 cm



0

□ **Вычитаемое
уменьшаемое**

□ **1-е слагаемое,
2-е слагаемое**

□ **Точка, прямая, луч**

□ **Сумма длин сторон
многоугольника**




□ **Сумма**

□ **Геометрические
фигуры**

□ **Разность**

Периметр



ПЕРИМЕТР

$$P = a + b + c + d$$





2cm

4cm



$$4+4+2+2 = 12(\text{cm})-P$$

Молодцы!



СПАСИБО ЗА УРОК!

