


A large yellow diamond shape is centered on a light blue background. Inside the diamond, the title "Действия с целыми числами" is written in a bold, blue, sans-serif font. Above the text, a yellow crayon with a red eraser and a red band is shown. Below the text, there are 3D block letters for the numbers 1, 2, 3, and 4, along with a plus sign and a small pink eraser. A blue wavy line starts from the bottom left and ends at a yellow crayon on the bottom right.


# Действия с целыми числами




# Твое настроение



**1**



**2**



**3**





Удачи!



A large yellow diamond shape is centered on a light blue background. Inside the diamond, the text 'Устный счет' is written in a bold, purple, sans-serif font. Above the text is a yellow crayon with a red eraser and a red band. Below the text is a cluster of colorful, 3D numbers: '1' (purple), '2' (pink), '3' (green), '4' (orange), and a plus sign (+) (green). A blue wavy line starts from the bottom left and ends at a small yellow crayon on the bottom right.

# Устный счет



# СКОЛЬКО?



• Сколько ушей у трех мышей?

(6)

• Сколько лап у пяти медвежат?

(20)

• Над рекой летели птицы:


Голубь, щука, две синицы,

Два стрижа и пять ужей.

Сколько птиц? Ответь скорей!

(5)








# Вершина рекордов



Познавательная минутка





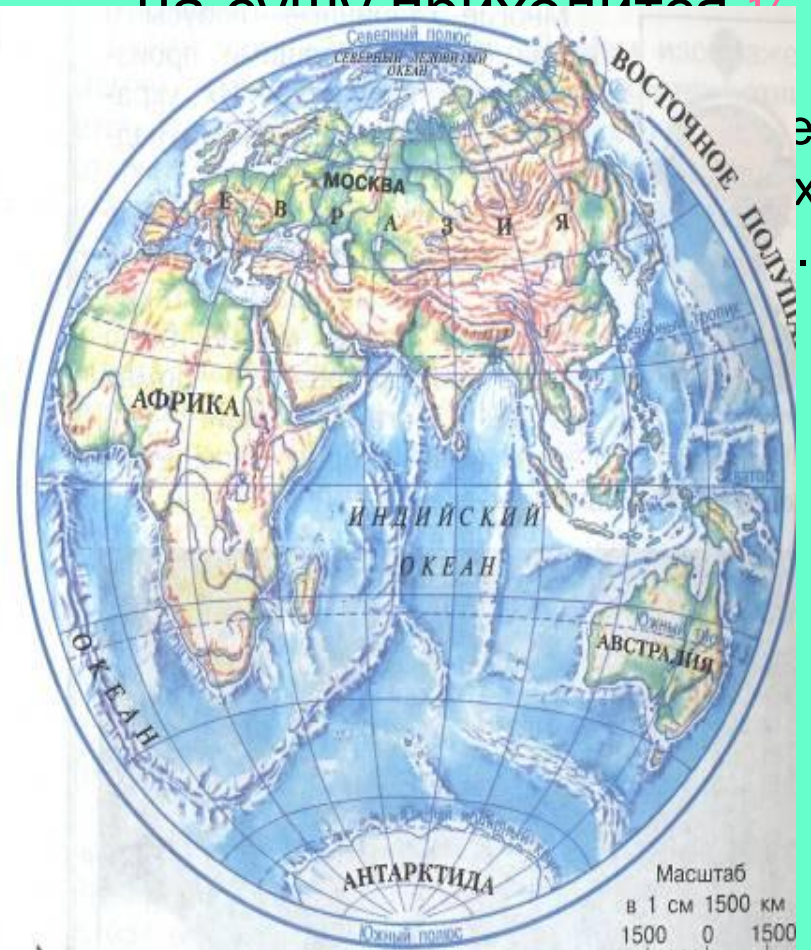
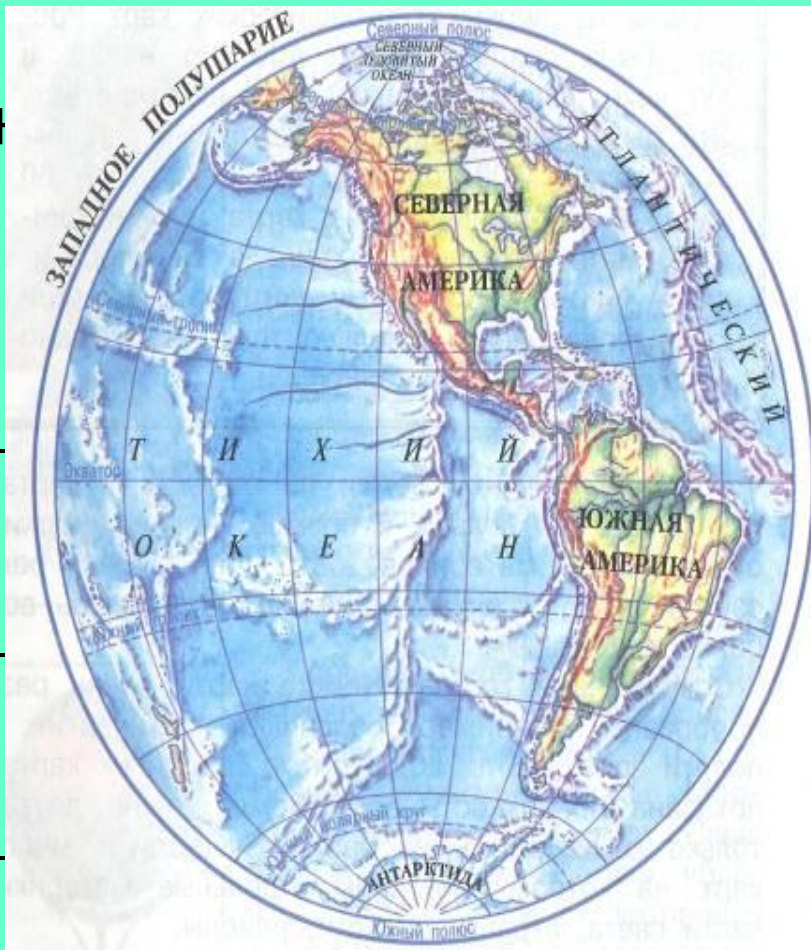
2	40	75	145	150	400	1741	8848
Э	К	О	Л	О	Г	И	Я





# Уголок природы

- Ребята, Земля если посмотреть на неё из космоса, голубая с коричневыми, желтыми, зелеными пятнами. Голубые пятна – это вода, она занимает  $\frac{3}{4}$  поверхности земного шара.



# Вычисления по карточкам



# Уголок природы

Баобаб может прожить 4000 лет.



Лиственница может прожить 400 лет.

Ель может прожить 1200 лет.




Дуб может прожить 2000 лет.


Рябина может прожить 800 лет.

# физкультминутка

- Правила игры: ученики встают, если появляется двузначное число, садятся - при появлении однозначного числа.



# В чем сходство и в чем отличие примеров?



$$75 - 15 : 5 = 72$$
$$(75 - 15) : 5 = 10$$



Вычислите значение выражения:

$$1154^2 + 1226^1 * 3$$

# Какое дерево является лучшим пылесосом?




Береза - 4843

Сосна - 3217

Тополь - 4832






# Задача

№ 810, с. 197

Лип – 876д.

Тополей ? – в 4 раза меньше, чем

Берез ? - на 150д. больше, чем





# Задача



Решение

1)  $876 \text{ д.} : 4 = 219 \text{ д.}$


2)  $219 \text{ д.} + 150 \text{ д.} = 369 \text{ д.}$



Ответ. 369 берез посадили.



# Упражнение в решении примеров




№ 845, с. 203

№ 142, с. 34 ( Ямбарцева Лена.)


№ 197, с. 49 ( Беляев Валентин., Полянин Станислав.)

# Домашнее задание




- № 852(1 ст.), с.204
- № 783, с.193


# Твое настроение



**1**




**2**



**3**





# Итог урока





Молодцы! 62

