

Диаграмма и решение задач.

Задачи на приведение к
единице.

3 класс П Н Ш

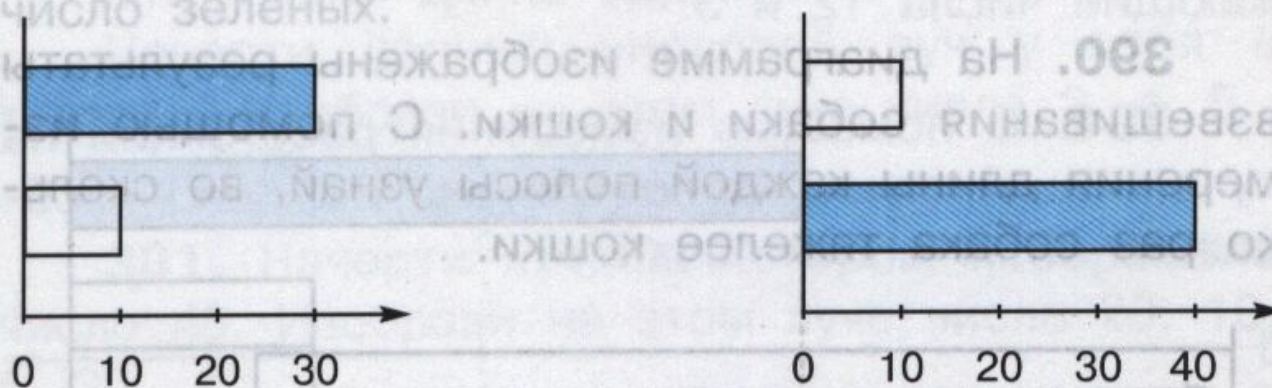




Диаграмма и решение задач

392. На одной машине привезли 10 мешков свёклы, а на другой в 3 раза больше. Сколько мешков свёклы привезли на второй машине?

Какая из двух диаграмм соответствует условию данной задачи?



Найди ответ задачи с помощью этой диаграммы.



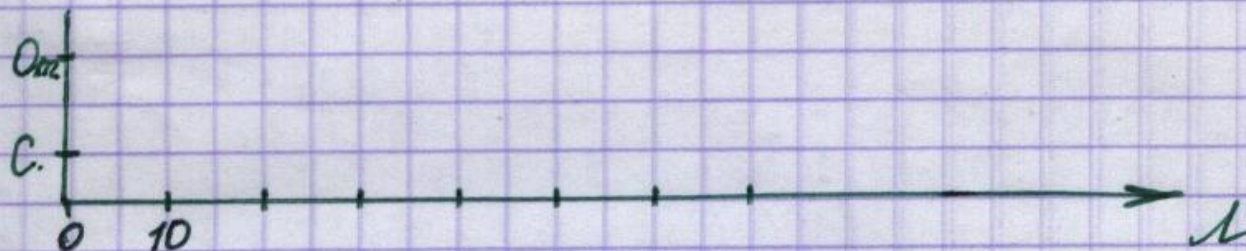
394. При построении диаграммы к данной задаче начни с изображения меньшей величины.

Сыну 10 лет. Он в 3 раза моложе отца. Сколько лет отцу?

Найди ответ задачи с помощью диаграммы.

Реши задачу. Вычисли и запиши ответ.


№394.



Проверь себя.



$$\sqrt{394}$$





Задача.


**В трёх одинаковых наборах 9
отвёрток. Сколько отвёрток в 5
таких наборах?**





Задача.

В шести одинаковых подарках 54 конфеты. Сколько конфет в 4 таких подарках?



Задача.

**8 хомяков посадили в 4 клетки,
поровну в каждую. Сколько таких
клеток понадобится для
20 хомяков?**

