




2 класс.  
Математически  
й диктант №3.

Выполнила  
Кирилова С.Г.  
учитель начальных классов  
Школы «Ученики Пифагора».  
г.Лимассол р. Кипр.

**За время летних  
каникул  
Юля прочитала  
28 рассказов и  
сказок.**



**На сколько больше  
Юля  
прочитала  
рассказов,  
если сказок она  
прочитала 8?**



**На проводе сидели  
12 ласточек.**

**Через некоторое  
время  
четвёртая и  
седьмая ласточки  
улетели.**

**Сколько ласточек  
осталось  
сидеть на проводе?**





Перед каникулами  
дети проводили  
генеральную уборку.

6 мальчиков и 7  
девочек  
убирали класс.

Затем Дина, Вася, Юля  
и Аня ушли  
поливать цветы.

Сколько девочек  
осталось  
убирать класс?



**Марина выше  
Тани на 4 см.**

**Каков рост  
девочки,  
которая ниже,**

**Если рост  
девочки,  
которая выше  
93 см?**





**Клесты выводят  
птенцов зимой.**

**Мама клестиха  
сидит на яйцах 2  
недели и ещё 5  
дней.**

**Сколько всего  
дней самка клеста  
не сходит с гнезда.**



**Заяц-русак  
крупнее зайца  
беляка и  
на 2 кг тяжелее.**



**Сколько весят 3  
зайца – русака,  
если беляк  
весит  
3 кг.**




**Ширина реки 30 метров.**

**Юра и Серёжа соревновались в плавании.**

**Юра переплыл реку и вернулся вплавь назад.**

**А Серёжа проплыл 20 метров и вернулся назад.**

**НА СКОЛЬКО метров проплыл больше**





**Дятел выклевал  
семена  
из 20 сосновых  
шишек.**



**А белочка разгрызла  
столько же сосновых  
И ещё 10 еловых  
шишек.**




**Сколько всего шишек  
ушло на обед**

**Синий** кит во много раз больше любого обитателя Земли и достигает в длину 23 метра,

а **серый** кит на 8 метров короче.

**Какова длина серого кита?**



**Синий  
кит**



**Серый  
кит**



**Средняя длина  
тела  
речного бобра  
68см,**

**а длина его  
хвоста 30 см.**

**Какова общая  
длина  
этого животного?**





**ПРОВЕРЬ СВОИ**

**ОТВЕТЫ:**

**На 12, 10, 4, 89см, 19, 15кг, на 20м, 50, 15м,  
98см.**