



**2 класс**  
**Математический**  
**диктант №6**

*Выполнила*  
*Кирилова С.Г.*  
*Учитель начальных*  
*классов*  
*Школы «Ученики*  
*Пифагора»*

**Мама купила дочери  
путёвку в летний  
лагерь  
ровно на 2 недели .**



**Сколько дней  
уже отдыхает Аня,  
если до конца  
смены  
осталось 8 дней?**



**В фольклорном  
кружке  
занимаются 20 детей  
из 2 класса.**



**Из них 14 девочек,  
остальные  
мальчики.**

**На сколько меньше  
в кружке мальчиков,  
чем девочек?**





**У Эли день рождения.  
Мама накрывает стол на 12  
человек.  
Она уже положила всем ложки.  
Сколько вилок должна  
ещё положить мама?**

**На стол поставили  
вазу с персиками.**



**6 девочек и 5  
мальчиков  
взяли по одному  
персику,  
и в вазе осталось  
3 персика.**



**Сколько всего**



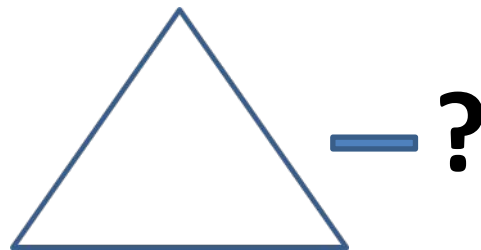

**До осенних каникул  
осталось 2 недели и 5 дней.  
Сколько всего дней осталось  
до окончания первой четверти?**



**Два одинаковых  
альбома  
вместе стоят 18  
рублей.**



**На сколько рублей  
один альбом  
дороже блокнота,  
который стоит**



**Юра сложил из спичек  
2 прямоугольника  
и **столько же** треугольников.**

**Сколько всего спичек  
использовал  
Юра для составления фигур?**





**5 литров  
молока  
составляют  
половину  
бидона.**




**Сколько литров  
молока в  
трёх полных  
бидонах?**



**У Насти 24 фотографии.**

**Она заполнила  
снимками  
ровно половину  
альбома.**



**Сколько всего  
фотографий  
поместится  
В альбоме?**



**Бабушка дала Марине 50 рублей.  
Девочка купила книгу за 40 рублей и  
альбом.**

**У Марины осталось ещё 3 рубля.**

**Сколько денег она заплатила за**

**ПРОВЕРЬ СВОИ**

**ОТВЕТЫ:**

**6, на 8, 12, 14, 19, на 2руб, 18, 30л, 48,  
7руб**