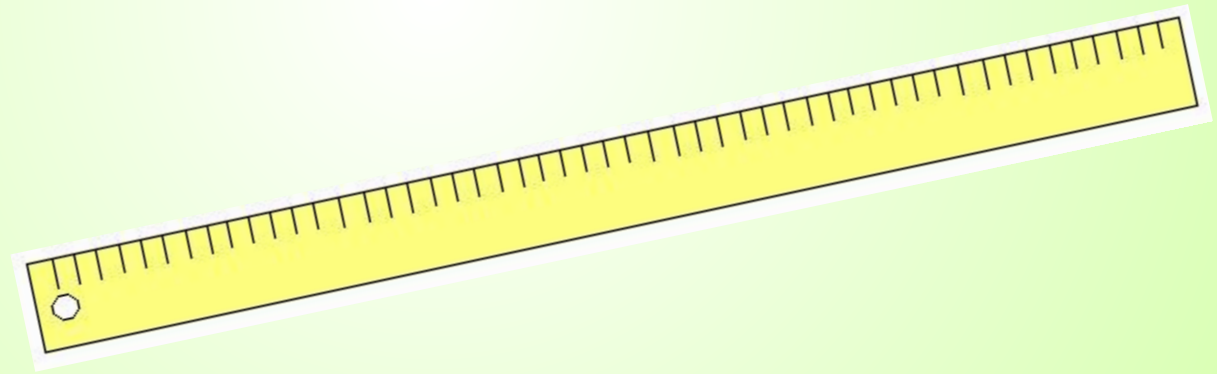


Математика «Гармония» 2 класс

Метр




Соотношение единиц длины.



Наш девиз:

***«За всякое
дело берись
умело»***

Молодцы




$73 - 60$

2
2

5
7

2
6



$30 - 16$


1
3

1
4



$60 - 34$

5
0



$38 + 12$



13, 14, 22, 26, 50, 57

1 дм 3 см; 14 мм; 22 см;

2 см 6 мм;


50 мм; 5 дм 7 см

Измерить длину

- 1 группа – рабочей тетради;
- 2 группа – дневника;
- 3 группа – карандаша;
- 4 группа – пенала;

Тема урока:

"Метр. Соотношение единиц длины"



План действий

- 1) Определить соотношение метра с дециметром и сантиметром.
- 2) Найти информацию о метре:
 - как записывается эта единица в математике;
 - познакомиться с разными моделями метра;
- 3) Выбрать наиболее удобный инструмент для измерения длины крышки ученического стола.

План действий

- 1) Найти информацию о метре:
 - как записывается эта единица в математике;
 - познакомиться с разными моделями метра;
- 2) Определить соотношение метра с дециметром и сантиметром.
- 3) Выбрать наиболее удобный инструмент для измерения длины крышки ученического стола.

Древние единицы измерения:



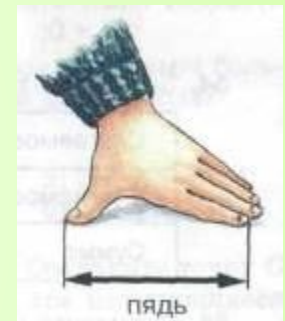
**Косая
сажень**



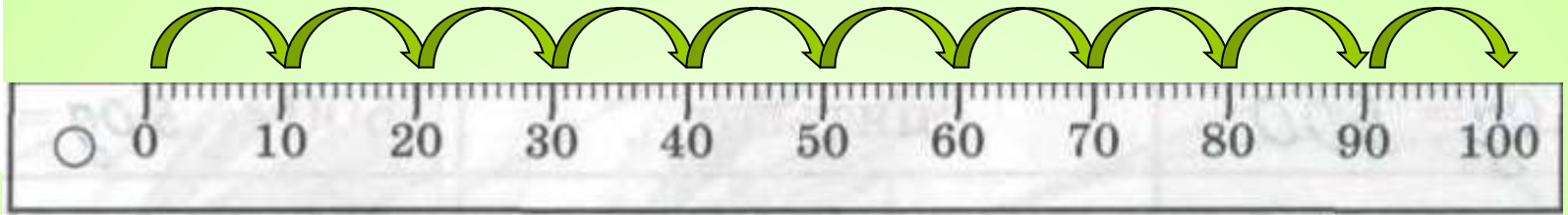

**Маховая
сажень**



Локоть

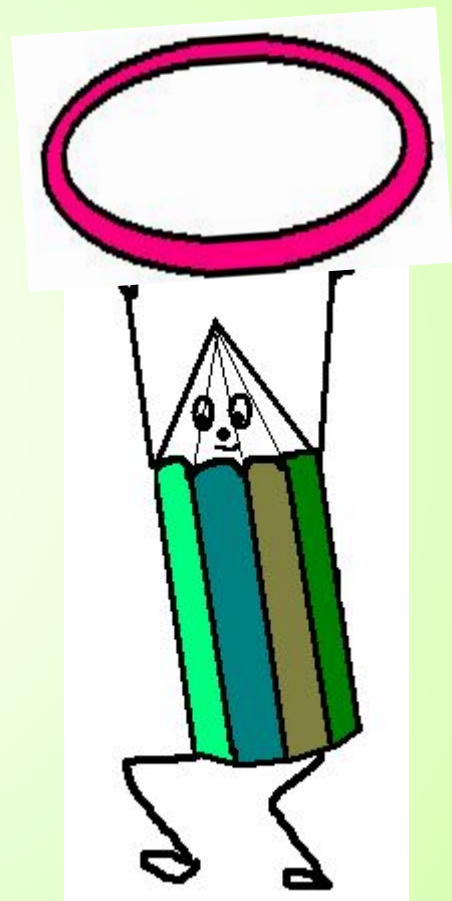
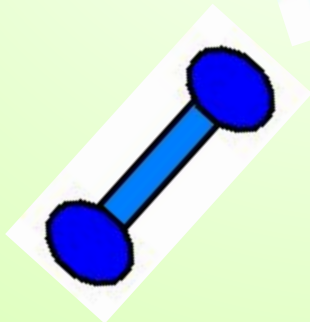
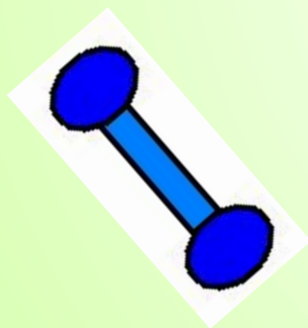


Пядь




$$1\text{ M} = 10\text{ dm} = 100\text{ cm}$$

**Пришло
время
отдохнуть!**







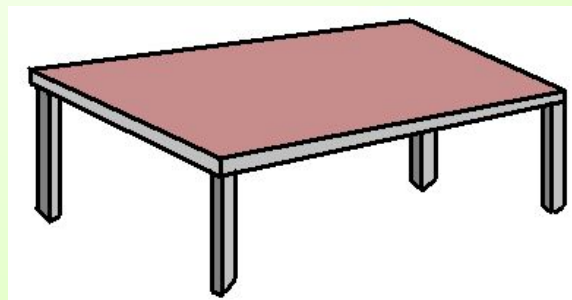
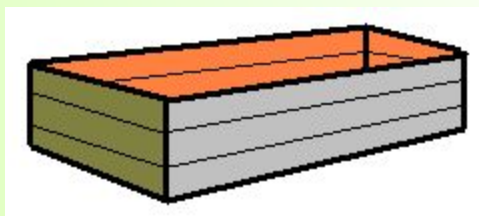






Беззуб



Зрение



Вырази в метрах:



Домашнее задание:

- 1) Выполнить задание из учебника: стр. 49 № 166
- 2) Определить длину и ширину ковра прямоугольной формы для своей комнаты. Найти его периметр.

Молодці