

Урок 44

«Проверяем, верно ли»



1 класс

УМК «Начальная школа 21 века»

Титовец Марина Ивановна
учитель начальных классов МБОУ СОШ №3
г.Морозовска Ростовской области

1

■

11 12 13 14 16 17 19 20

Верно ли, что в ряду
пропущены два числа?

Какие?

2

$$17-7$$

$$10-1$$

$$7+2$$

$$8+2$$

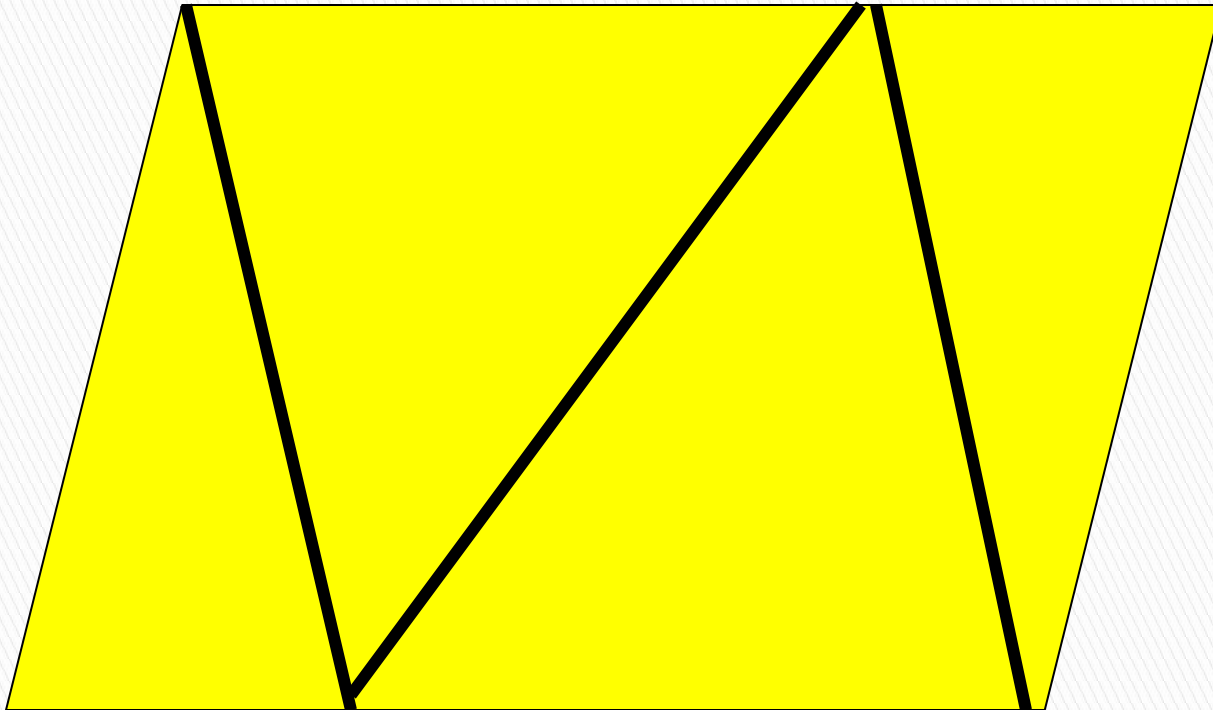
$$9+1$$

$$16-6$$

Верно ли, что все записи можно распределить на две группы?

3


■



Верно ли, что на рисунке можно найти пять треугольников?


4

Из двух клубков ниток можно связать одну шапку. Сколько таких клубков нужно для трёх шапок?



Сколько таких шапок можно связать из всех клубков?

5 Длину какого отрезка измерили неверно? Объясни в чём ошибка.



Ответ: 3 см

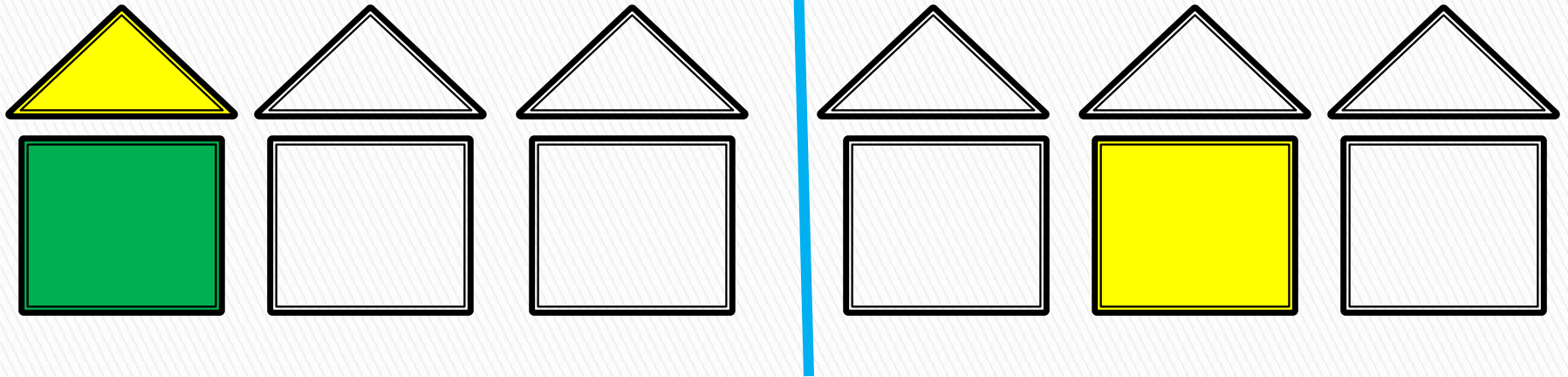
Ответ: 4 см

6

Выполни задание №6 на
с.101 в учебнике



7 Продолжи «строить» домики по правилу: меняя только цвет крыши.



Придумай другое правило.

8. Распределите числа на две группы.

8

16

17

18

7

6



Работа в печатной тетради урок 44.

