

**Тема: Условные знаки.**

**Чтение  
топографического  
плана местности**



# История плана местности

- Одно из древнейших изображений, напоминающее план местности относится к III тыс. до н. э. — на серебряной вазе из Майкопского кургана показаны две реки, стекающие с залесенных гор и впадающие в озеро, а так же пасущиеся вокруг животные. На территории Греции найдены изображения долины реки с богатой растительностью, дикими животными и плывущей флотилией — им 3500 лет.

# Как изображаются различные объекты местности изображают на планах и картах?

- Одни объекты имеют значительные размеры (озеро, лес...), другие объекты малы (колодец, мост...). Объекты, размеры которых значительны, отображают в масштабе данной карты с сохранением подобия контуров, для малых объектов такое отображение невозможно.

**условные знаки**

**масштабные  
(контурные)**

**внемасштабные**

**пояснительные**

служат для  
изображения  
объектов  
в масштабе  
плана или карты

отображают небольшие,  
но важные предметы,  
которые из-за своих  
небольших размеров  
не могут быть  
указаны в масштабе  
(центровые, осевые,  
основные)

представленные значком,  
числом, надписью или  
всем этим вместе, служат  
для дополнительной  
характеристики  
объектов.

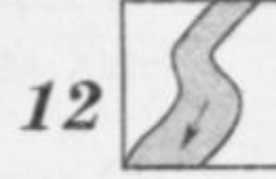

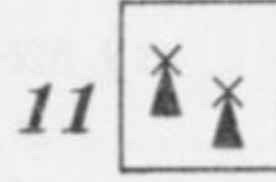

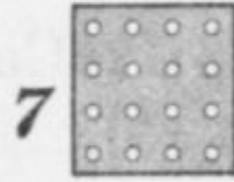
# Заполните таблицу

Вид условных топографических знаков	Что они обозначают
Площадные	
Линейные	
Внемаштабные	
Пояснительные	

# Проверь себя

Вид условных топографических знаков	Что они обозначают
Площадные	а) населенные пункты: города, поселки, отдельные строения; б) растительный покров и грунты: лес (хвойный, лиственный, смешанный), редкий лес, вырубленный лес, кустарник, луг, фруктовый сад, огород, пашня, болото, пески
Линейные	а) <u>дорожная сеть</u> : железная дорога, шоссе, грунтовая дорога, тропинки, просеки; б) <u>гидрография</u> : реки, береговая линия озер, мосты, плотины; в) прочие: линии связи, линии электропередачи
Внемасштабные	отдельные строения: церкви, заводы, электростанции, карьеры, башни, памятники, кладбища, мельницы, пункты государственной триангуляционной сети.
Пояснительные	направления течения реки, характеристики дна реки, характеристики мостов, отметки высот, типы растительности в лесу, глубина болота и др.

# Подпишите названия условных знаков



1. \_\_\_\_\_
2. \_\_\_\_\_
3. \_\_\_\_\_
4. \_\_\_\_\_
5. \_\_\_\_\_
6. \_\_\_\_\_
7. \_\_\_\_\_
8. \_\_\_\_\_
9. \_\_\_\_\_
10. \_\_\_\_\_
11. \_\_\_\_\_
12. \_\_\_\_\_

# Замените в тексте слова топографическими знаками:

- Они шли по-прежнему молча, прячась в тени деревьев. Наконец, вышли к просеке. Если бы не Жердьяй, Миша никогда не догадался бы, что это просека, настолько густо заросла она молодым кустарником. Они прошли еще версту. Лес перешел в редколесье. Чувствовались гнилые запахи болота. Перед ними была глубокая яма, на некотором отдалении виднелась другая, потом третья... (по А. Рыбакову. «Бронзовая птица».)





# Придумай свои условные топографические знаки

1. Внимательно осмотри свой двор. Как много в нем различных предметов — это деревья, кустарники, детская песочница, сушилка для белья и многое другое.
2. Посмотри, какие предметы двора можно изобразить знакомыми тебе условными топографическими знаками. Подсказкой для тебя будут приведенные в географическом атласе 6-го класса условные знаки.
3. Посмотри, для каких предметов двора условных топографических знаков не существует. Придумай их сам.
4. Нарисуй в тетради и подпиши условные знаки предметов твоего двора.
5. Привлеки к этой работе друзей и родителей, так будет интереснее и веселее.
6. Придумай игры с условными географическими знаками. Например, опиши маршрут твоего движения по двору, используя топографические знаки.