



ЦЕНТРАЛЬНАЯ РОССИЯ






**ЭКОНОМИКО-
ГЕОГРАФИЧЕСКОЕ
ПОЛОЖЕНИЕ, СОСТАВ,
ПРИРОДНЫЕ УСЛОВИЯ
И ПРИРОДНЫЕ
РЕСУРСЫ.**

ЦЕЛЬ УРОКА

- Продолжить формирование представлений и знаний об экономических районах России.
- Рассказать о составе, размерах территории и ЭГП Центральной России.
- Разобрать природные условия и природные ресурсы региона.



**В состав Центральной России
входят три экономических района:**



СОСТАВ РАЙОНА



ЦЕНТРАЛЬНЫЙ ФЕДЕРАЛЬНЫЙ ОКРУГ



Центральный и Центрально-Черноземный районы

ПРИВОЛЖСКИЙ ФЕДЕРАЛЬНЫЙ ОКРУГ



Волго-Вятский район

План – характеристика экономико-географического положения

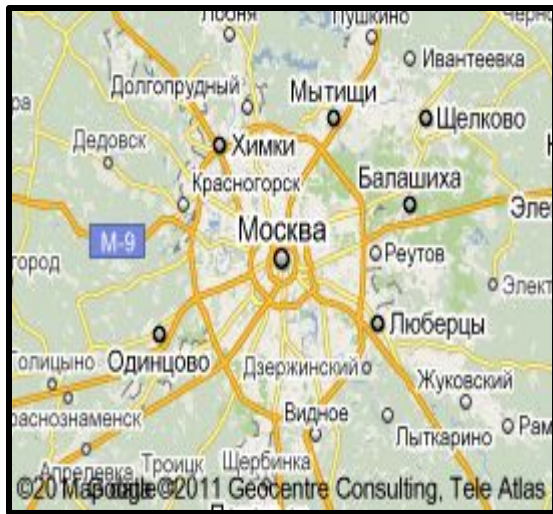


1. Положение района на территории государства (окраинное, пограничное, центральное).
2. Соседние районы, государства.
3. Положение относительно топливно-энергетических и сырьевых баз страны.
4. Положение относительно транспортных магистралей.
5. Вывод о влиянии ЭГП на развитие экономики региона.

ПОЛОЖЕНИЕ РАЙОНА НА ТЕРРИТОРИИ ГОСУДАРСТВА



- Находится на западе европейской части России. Центральное положение (столичное – Москва).



Соседние районы, государства



Внутренняя граница
(граница с соседними районами):

Северо-Западный район
Европейский Север
Уральский район
Поволжье
Европейский Юг

Внешняя граница -
с сопредельными
государствами:

Украина
Белоруссия



ПОЛОЖЕНИЕ ОТНОСИТЕЛЬНО ТОПЛИВНО-ЭНЕРГЕТИЧЕСКИХ И СЫРЬЕВЫХ БАЗ СТРАНЫ



1. Поволжье,
2. Северный Кавказ,
3. Европейский Север,
4. Урал

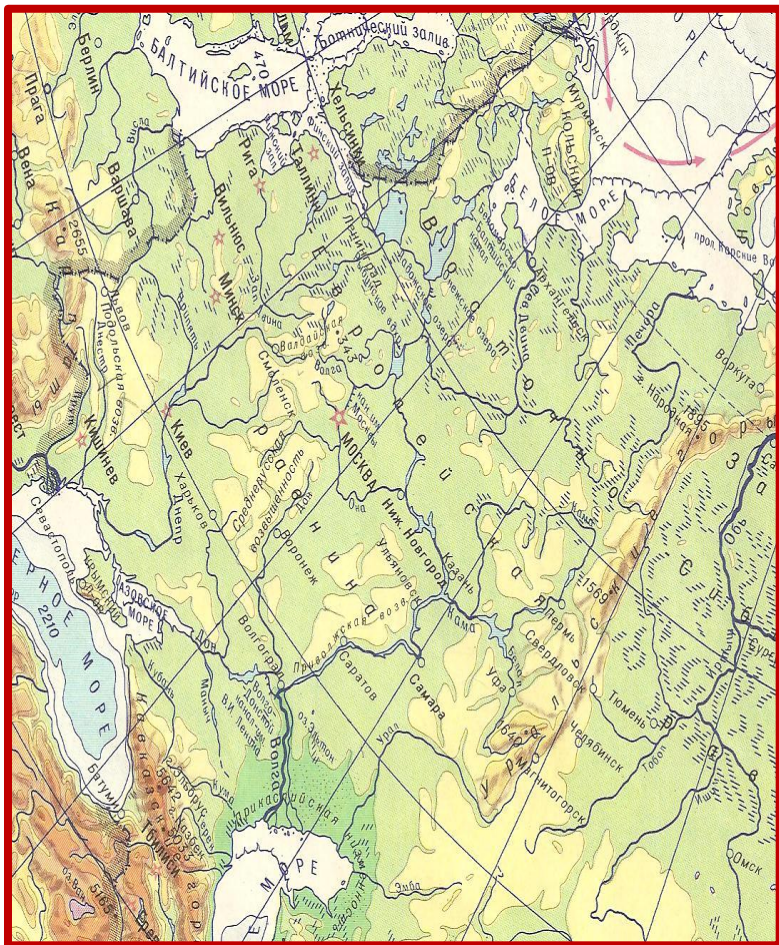
Природные ресурсы:

1. Железные руды - КМА;
2. Бурый уголь - Подмосковный бассейн;
3. Торф;
4. Стройматериалы;
5. Фосфориты;

Экономико-географическое положение Центральной России.

1. Расположен в центральной части Русской равнины на пересечении транспортных путей : з-в, с-ю (здесь проходил древний путь «из варяг в греки»). Положение района на территории страны - пограничное и центральное.
 2. Соседние районы: Северо-Западный район, Европейский Север, Уральский район, Поволжье, Европейский Юг.
 3. На западе граничит с Украиной и Белоруссией.
 4. Удобно расположен к энергетическим и сырьевым базам (Поволжье, Северный Кавказ, Европейский Север, Урал).
 5. У района нет прямого выхода к морям, но Волго-Донской и Волго-Балтийский каналы обеспечивают выход к 5 морям.
- Центральная Россия- это столичный регион. Он имеет наиболее развитую транспортную сеть, которая представлена всеми видами транспорта.
- Вывод:** район имеет выгодное экономико-географическое положение.

Природные условия



- Рельеф – равнинный
- Климат умеренно – континентальный.
- Природные зоны – тайга, смешанные и широколиственные леса, лесостепи и степи.
- Крупные реки - Волга, Ока, Дон, Воронеж, Днепр, Вятка.
- Почвы - от подзолистых и дерново-подзолистых (на севере) до черноземов (на юге).

Природные ресурсы



1. **Минеральные ресурсы (не богаты) -**
Подмосковный бурогольный бассейн;
строительные материалы: песок, глина;
химическое сырье: соль, фосфориты; бокситы-
сырье для пр-ва алюминия. Важное значение
имеет крупное месторождение ж/р - КМА
2. **Водные ресурсы -** крупные реки Волга, Ока,
Кама и другие (имеется выход к Балтийскому,
Белому, Азовскому, Черному, Каспийскому морям)
3. **Земельные -** плодородные почвы
4. **Гидроэнергоресурсы**
5. **Лесные ресурсы -** таежные леса
6. **Агроклиматические**
7. **Рекреационные ресурсы -** города «Золотого
кольца России»

Золотое кольцо России



По этому региону
проходит
всемирно
известный
туристический
маршрут
«Золотое кольцо
России». Города
«кольца» -
памятники
русского
зодчества.



НАСЕЛЕНИЕ.



Район	Площадь тыс.км.	Население млн.чел.	Доля городского населения %	Плотность населения чел./км ²
Центральный	485,1	29,2	83,1	50
Волго- Вятский	263,0	8,5	70,5	31
Центрально- Черноземный	168,0	7,8	62,4	46

ВЫВОДЫ:

- ◎ Большая численность и высокая плотность населения;
- ◎ Высокая доля городского населения;
- ◎ Много городов.
- ◎ Русские (марийцы, мордва, чувашаи).
- ◎ Исторические центры.



Рефлексия:

1. Какой район не входит в состав Центральной России?
А) Центральный Б) Центрально-Чернозёмный
В) Волго-Вятский Г) Северный
2. Связи с окраинами Центральной России осуществлялись в 11-16 веках
А) по рекам Б) по грунтовым дорогам В) по морям
3. Центральная Россия имеет положение
А) периферийное Б) столичное В) приграничное
4. Соседними странами, имеющими границу с Центральной Россией, являются:
А) Украина Б) Беларусь В) Молдавия Г) Литва
5. Транспортная сеть Центральной России представлена:
А) автомобильными дорогами Б) железными дорогами
В) трубопроводами Г) всеми видами транспорта
6. Центральная Россия
А) богата природными ресурсами Б) не богата природными ресурсами
7. В Центральной России есть крупное месторождение
А) каменного угля Б) торфа В) фосфоритов Г) железной руды
8. Развитию экономики Центральной России благоприятствуют
А) природные условия Б) полезные ископаемые В) ЭГП

Правильные ответы:

1	2	3	4	5	6	7	8
Г	А	БВ	АБ	Г	Б	Г	АВ



**ДОМАШНЕЕ ЗАДАНИЕ § 19, 20
РАБОТА В КОНТУРНОЙ КАРТЕ
СТР. 8 ЗАДАНИЕ №1, 2**

