

СТРАНЫ ВОСТОЧНОЙ АЗИИ

ЯПОНИЯ. КИТАЙ.

Учитель Мешкова Е.В.

A stylized, layered mountain range graphic in shades of teal and blue, located at the bottom right of the slide.


ЦЕЛЬ

- ◆ Называть и показывать страны и их столицы, природные особенности, богатства, виды хозяйственной деятельности стран Восточной Азии
- ◆ Определять и описывать ГП, особенности компонентов природы Японии и Китая


ПЛАН УРОКА

- ◆ Повторение изученного: 1) характеристика стран Западной Европы; 2) Работа с тестами
- ◆ Знакомство со странами Восточной Азии
- ◆ Сообщение – презентация «Япония – страна высокой культуры»
- ◆ Работа с картами атласа и контурными картами

ПЛАН ХАРАКТЕРИСТИКИ СТРАНЫ

- ◆ В какой части материка расположена страна? Как называется её столица?
 - ◆ Особенности рельефа (основные формы рельефа)
 - ◆ Крупные реки и озера
 - ◆ Занятия населения
- 


«СТРАНА – НАОБОРОТ»

- ◆ Пальто подает женщина
 - ◆ Руль в машине с правой стороны
 - ◆ Кошки бесхвостые
 - ◆ Пишут сверху вниз
 - ◆ Спят на полу
 - ◆ Едят палочками
 - ◆ Белый цвет является траурным
- 


ЯПОНИЯ – «СТРАНА
– НАОБОРОТ»



О КАКОЙ СТРАНЕ ИДЕТ РЕЧЬ?

- ◆ Занимает первое место в мире по численности населения
 - ◆ В этой стране появились первые бумажные деньги
 - ◆ Самая большая по площади страна Зарубежной Азии
- 

КИТАЙ – САМАЯ КРУПНАЯ
СТРАНА ПО ПЛОЩАДИ И
ПО ЧИСЛЕННОСТИ
НАСЕЛЕНИЯ СРЕДИ
СТРАН ЗАРУБЕЖНОЙ
АЗИИ

A stylized, dark teal silhouette of a mountain range is positioned in the bottom right corner of the slide, partially overlapping the text area.

РАБОТА С КОНТУРНЫМИ КАРТАМИ

- ◆ Укажите границы и столицы стран: Китай, Япония

РАБОТА С КАРТОЙ

«Народы и плотность населения мира»

- ◆ Проанализируйте данные карты и сделайте вывод о плотности и размещении населения Китая и Японии

СРАВНИТЕЛЬНАЯ ХАРАКТЕРИСТИКА СТРАН Восточной Азии

План сравнения	Китай	Япония
ГП Природные условия Население Хозяйство		

ИТОГ УРОКА

- ◆ Чем вам запомнились страны Восточной Азии: Япония, Китай?

ДОМАШНЕЕ ЗАДАНИЕ

- ◆ Заполнить таблицу. Есть ли сходства в природе этих стран? Какие?
 - ◆ Параграф 75,76
- 