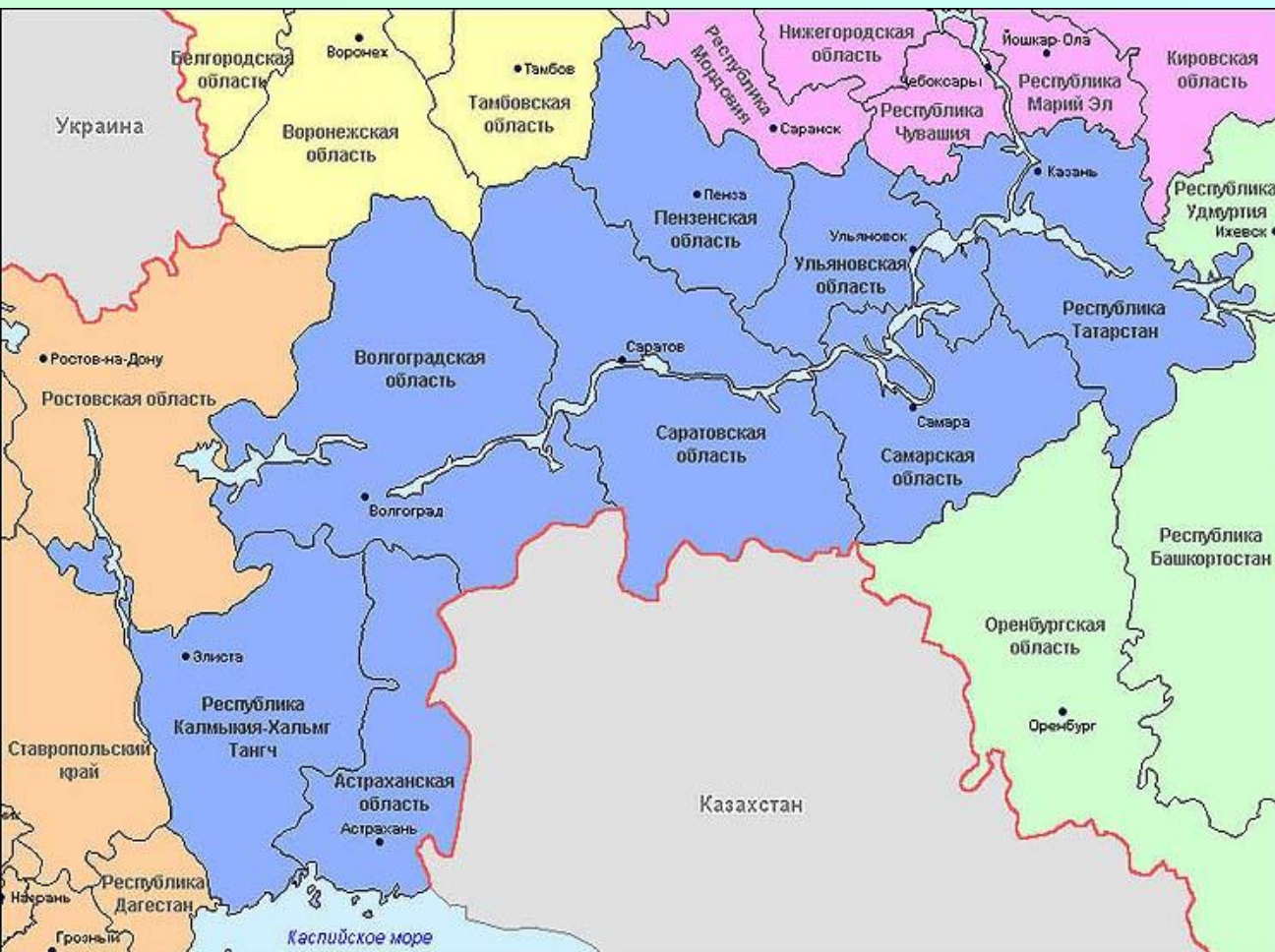


Поволжье


Кугут Ирина Анатольевна, учитель
географии 1 категории МОУ СОШ №32
«Эврика-развитие» г. Волжский
Волгоградской области

Состав региона: области: Ульяновская, Самарская, Саратовская, Волгоградская, Астраханская, Пензенская; республики: Татарстан(Казань), Калмыкия(Элиста)




1. Как вы думаете, почему район получил такое название?
2. Какую роль сыграла р. Волга в формировании района?


Роль Волги в формировании района



Придаёт району своеобразную форму: район вытянут почти на 1500 км по меридиану, по форме напоминает раскидистое дерево



Оказывает сильное влияние на ГП района: благодаря реке имеет выход к пяти морям.



Является природным и хозяйственным стержнем района: река связывает прилегающие к ней территории, с ней связаны многие отрасли хозяйства.

Покажите на карте к каким морям имеет выход Поволжье?

Волга не только формирует район, но и разделяет его: как крупная река она препятствует осуществлению регулярных связей между её берегами. Волга разделяет территорию района на части.

Поволжский экономический район:



Поволжский район имеет своеобразную вытянутую форму. Он протянулся на 1500 километров в длину, а средняя ширина составляет 350-400 км. Форма объясняет и особенности хозяйства Поволжья – оно открыто навстречу основному направлению хозяйственных связей страны. Наряду с Уралом, Поволжье обеспечивает экономическую целостность страны, связывает воедино Западную и Восточную экономические зоны.

Поволжский экономический район:



Волга
разделяет
территорию
района на
части:

Приволжье и
Заволжье.



**К богатствам района
относятся
агроклиматические
ресурсы, огромные
площади
сельскохозяйственны
х
угодий, крупные
водные ресурсы**

Население

- Население около 17 млн. человек.
- Национальный состав населения



- Религии: христианство (православие), ислам (татары) и буддизм-ламанизм (калмыки).
- 74% - городское население.

По карте атласа определите:

- Города-миллионеры
- Города с населением от 500 тысяч до 1 миллиона человек.

- Доля безработных выше, чем в среднем по России
- Уровень жизни невысокий, на 1/3 ниже, чем в среднем по стране
- **Высокий уровень развития социальной инфраструктуры**

Поволжский экономический район.

На контурной карте Поволжья обозначьте:

- Государственную границу России и границу Поволжского экономического района;
- Подпишите названия соседних стран и экономических районов;
- Подпишите Каспийское море;
- Условными знаками обозначьте месторождения нефти (Ромашкинское, Мухановское), природного газа (Астраханское, Саратов, Ики-Бурул), серы (Астрахань и Самара), поваренной соли (Баскунчак);
- Условными знаками обозначьте районы распространения рыбных и почвенных ресурсов;

Поволжский район является третьим после Центра и Урала по масштабам и уровню развития промышленности, вторым после Северного Кавказа — по развитию сельского хозяйства.

- В территориальном разделении труда Поволжье является крупным производителем продукции химической и нефтехимической промышленности (синтетических смол, пластмасс, химических волокон, бытовой химии), машиностроения (легковых и грузовых автомобилей), а также зерна, подсолнечника, овощей. Значительна роль района в производстве энергоресурсов и продуктов пищевой промышленности.



В Поволжье сформировался крупнейший в стране по масштабам производства и по завершенности комплекс химических отраслей. Здесь последовательно осуществляется добыча и переработка минерального сырья, производство разнообразных химических продуктов и изделий из них.

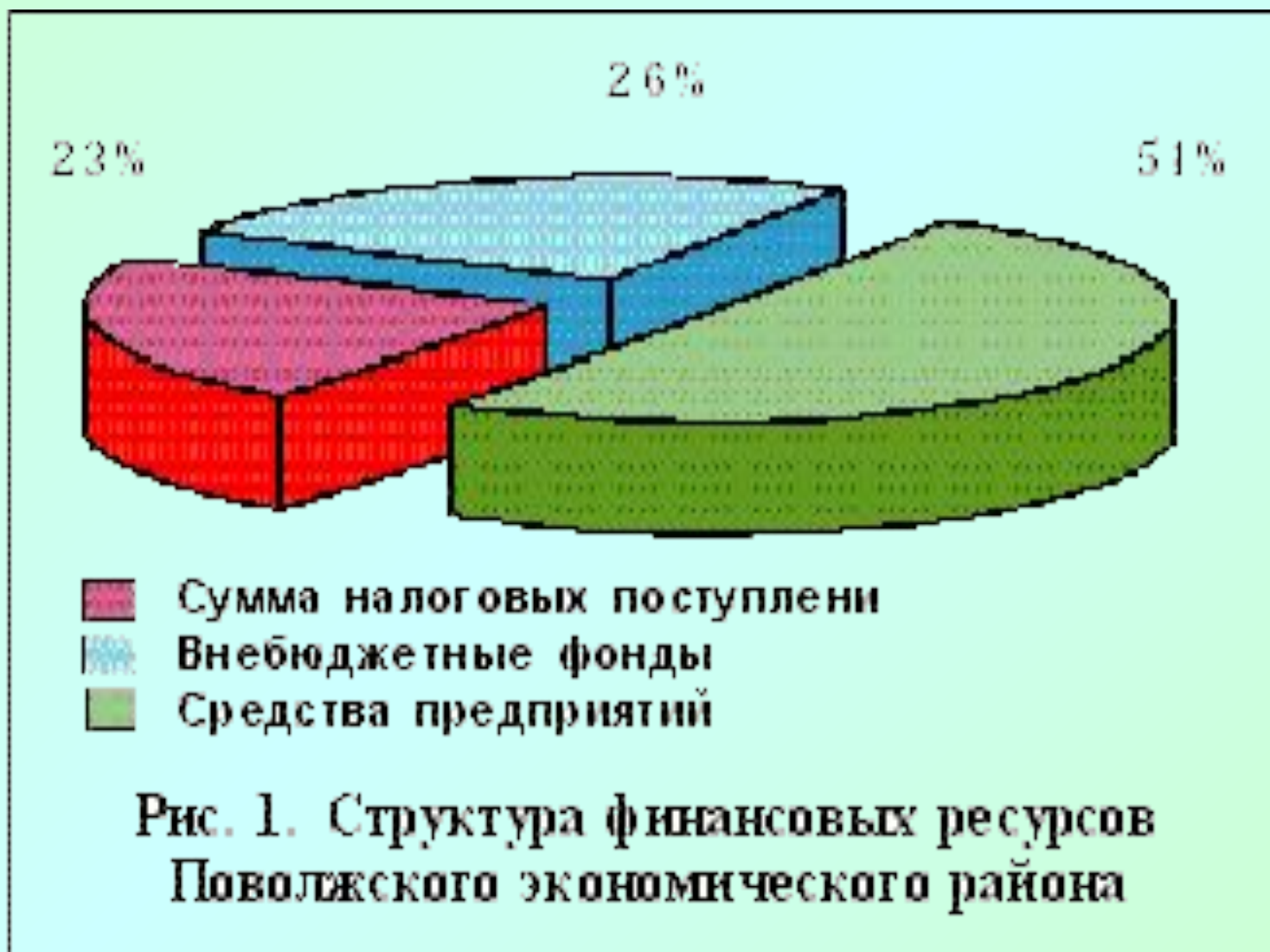
Экономический потенциал Поволжского района, огромный по масштабам, оказался недостаточно эффективным в современных экономических условиях. Поэтому проблемы дальнейшего развития лежат в основном в области структурной перестройки всей сферы материального производства. Важнейшими из первоочередных проблем и имеющими общий для всех

субъектов РФ характер являются:

- технологическое обновление машиностроительного комплекса с целью повышения конкурентоспособности продукции не только на мировом, но и на внутреннем рынке; эта проблема особенно злободневна в автомобильном машиностроении, производящем более половины легковых и четверть грузовых автомобилей России;
- повышение конкурентоспособности и увеличение доли современных видов продукции в общем выпуске продукции самой товарной отрасли района — химической и нефтехимической, существенное снижение энергоемкости продукции отрасли;
- опережающий рост производств, перерабатывающих сельскохозяйственную продукцию; расширение ассортимента переработки и повышение качества продукции.

Уровень розничного товарооборота выше среднего в стране только в Самарской области. Отставание от среднероссийского уровня остальных субъектов РФ составляет от 20% в Ульяновской области

до 70% в Республике Калмыкия.



К началу 1998 г.:

- в Республике Татарстан более трети промышленной продукции давали отрасли ТЭК, немногим меньше — химическая и нефтехимическая промышленность, около 20% — машиностроение и около 10% — пищевая промышленность;
- В Астраханской области отрасли ТЭК производили 40% промышленной продукции, около четверти — пищевая промышленность и только восьмую часть — машиностроение;
- В Пензенской области лидировало машиностроение (около 37%) и равнозначные пищевая промышленность и электроэнергетика;
- В Самарской области более половины промышленной продукции выпускалось отраслями машиностроения (более 54%), более пятой части — отраслями ТЭК и около десятой части — химической и нефтехимической промышленностью;
- в Саратовской области около 40% всего объема промышленной продукции производили отрасли ТЭК (в том числе электроэнергетика — 32%), более 40% (в соотношении 1,3 — 1 — 0,8) — машиностроение, химическая и нефтехимическая и пищевая отрасли;
- в Ульяновской области преобладающими в структуре промышленности являлись машиностроение (более 53%), электроэнергетика и пищевая отрасли.

В территориальном разделении труда наиболее значима роль Самарской области (в машиностроении, отраслях ТЭК, химической и нефтехимической, пищевой промышленности), Татарстана (в химической и нефтехимической, пищевой промышленности, отраслях ТЭК), Волгоградской области (в химической и нефтехимической промышленности), Ульяновской области (в машиностроении и легкой промышленности).

Охарактеризуйте по плану промышленный узел района.



Поволжский экономический район.

На контурной карте Поволжья обозначьте:

- Условными знаками обозначьте Волжскую, Саратовскую и Волгоградскую ГЭС, Балаковскую и Димитровградскую АЭС, Заинскую ГРЭС;
- Условными знаками обозначьте и подпишите названия главных промышленных центров (Казань, Набережные Челны, Ульяновск, Самару, Тольятти, Чапаевск, Сызрань, Саратов, Энгельс, Балаково, Пензу, Волгоград, Волжский, Камышин, Астрахань) и отметьте отрасли их промышленной специализации);
- Различными цветами заштрихуйте главные сельскохозяйственные регионы Поволжского экономического района.