



РАЗДЕЛ III
НАСЕЛЕНИЕ РОССИИ
ТЕМА:
ЧИСЛЕННОСТЬ
НАСЕЛЕНИЯ РОССИИ.

Люди, население территории, -
связующее звено между её природой
ХОЗЯЙСТВОМ.



География населения



Где живут люди?

Кто они?

Как живут?

Проблемами народонаселения
и его воспроизводства
занимается наука *демография*.



Геодемография:

география демографических процессов

География миграций: переселений, сезонных и маятниковых миграций

География
рынка труда

География плотности
населения

География
религий

География народов
(этногеография)


География
городов

География сельского
расселения

География условий и образа жизни

- Население России на 1 января 2001 года составило 145 млн человек. Точные сведения даёт перепись населения, которая проводится в России один раз в 10 лет. По числу жителей Россия занимает 7-е место в мире после:

- Китая - 1300 млн,
- Индии - 1000 млн,
- США - 270 млн,
- Индонезии - 212 млн,
- Бразилии - 160 млн,
- Пакистана - 147 млн.



Задание 1.

Изобразить на шаблоне
столбчатой диаграммы
численность населения
первой семёрки стран и их
название.

ТЫСЯЧ
ЧЕЛОВЕК

1500

1200

900

600

300

0

1300

1000

270

212

160

147

145

130

127

Китай

Индия

США

Индонезия

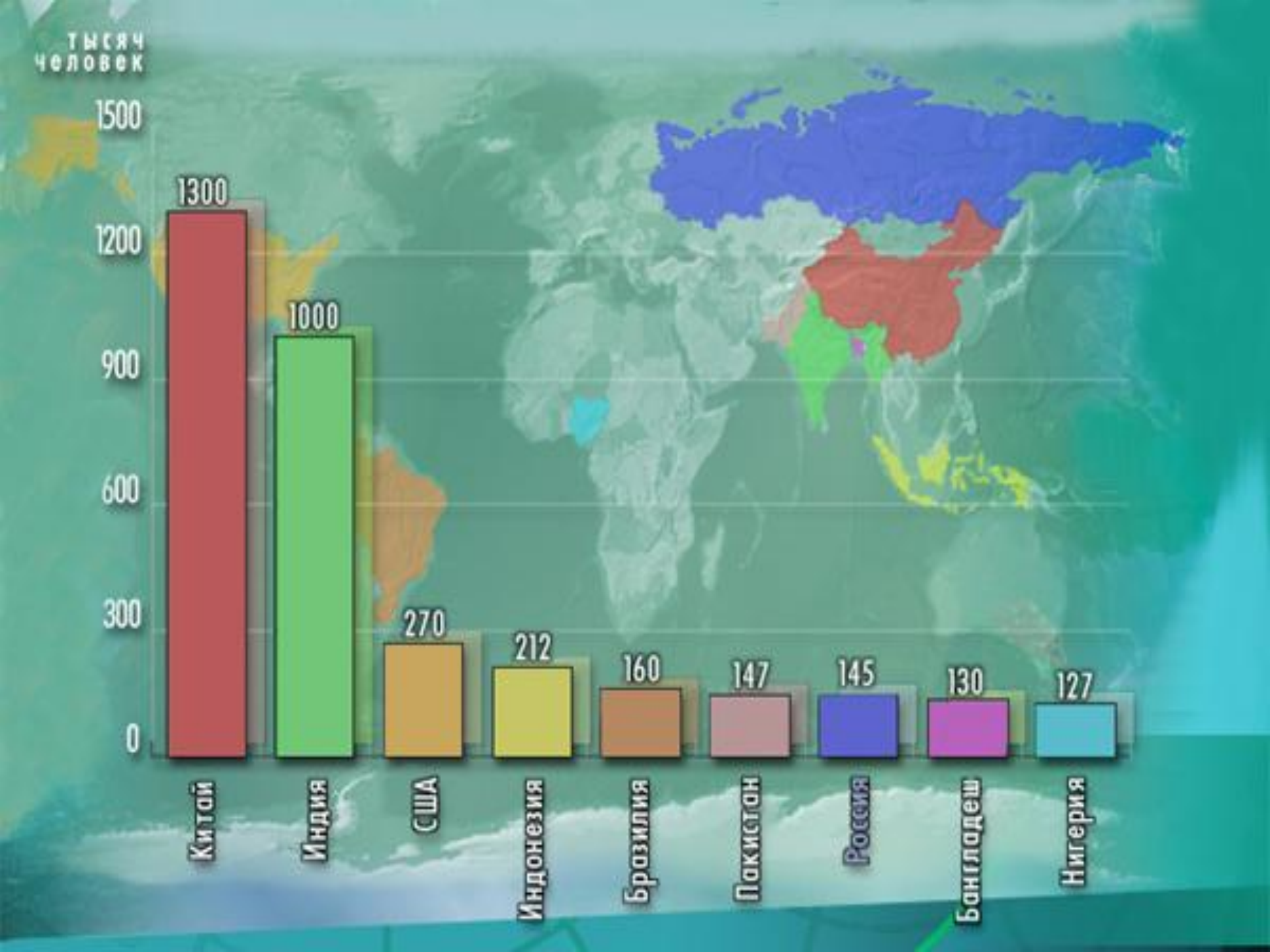
Бразилия

Пакистан

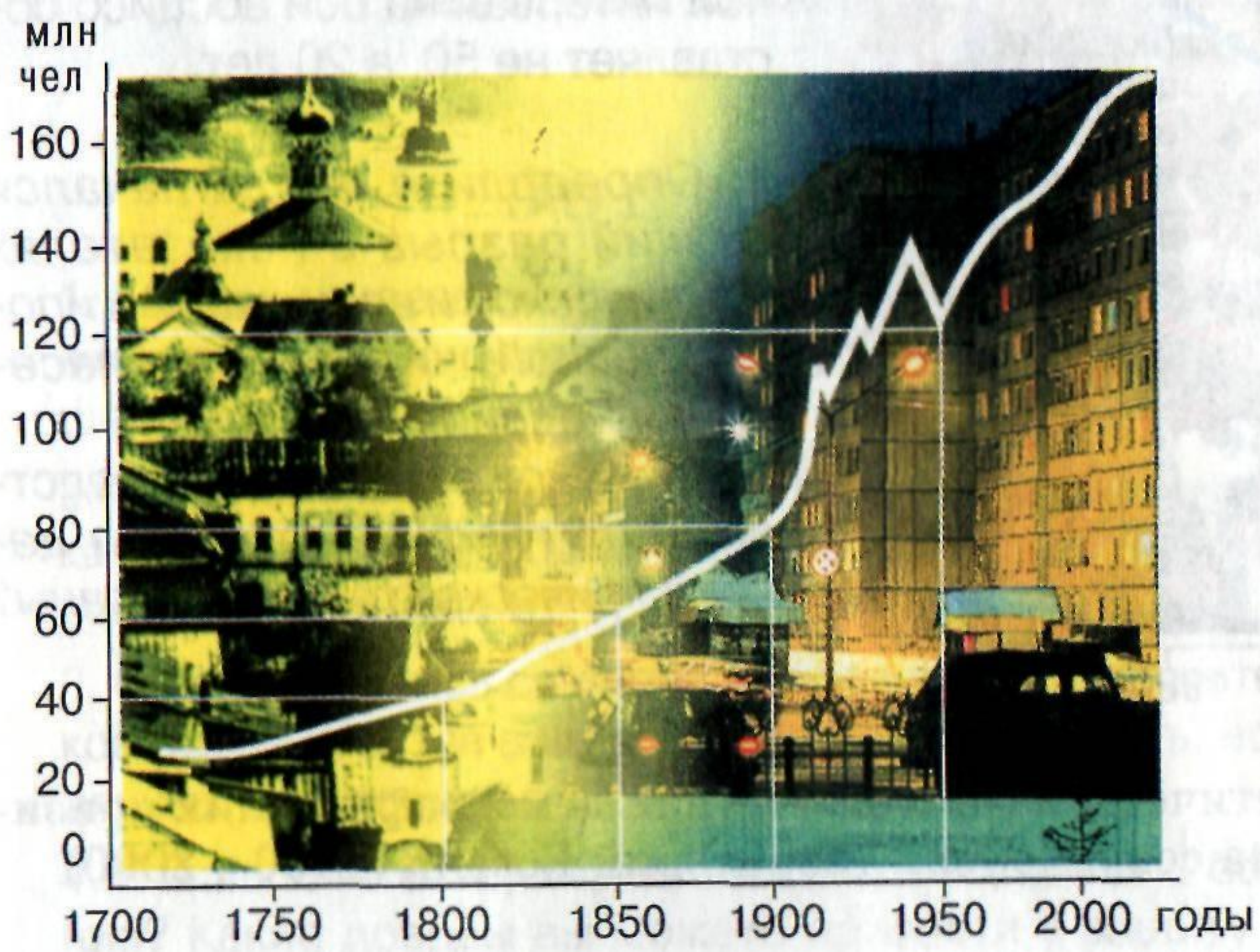
Россия

Бангладеш

Нигерия



Задание 2. Проанализировать численность населения на территории России в XVIII-XX вв. (по рис. 197, с. 237). Отметить резкое изменение численности, объяснить причину; выделить отрезок спада, объяснить причину.



Население СССР и России (в млн.чел.)

Годы	СССР	Россия
1926	147	92,7
1937	162	104
1939	190,7	108,4
1959	208,8	117,5
1970	241,7	130,1
1979	262,1	137,4
1989	285,7	147

Демографический кризис -
резкое снижение численности
населения



Запись в тетрадь

1-й демографический кризис

отмечен с 1914 года (1 мировая война, затем революция, голод в 1921-1922 гг.; эмиграция из России).

Потери составили по разным оценкам от 12-18 млн. человек.

Запись в тетрадь

2-й демографический кризис

определили свертывание НЭПа,
индустриализация,
коллективизация, репрессии и
голод (засуха) 1933-34 гг .

Потери от 5- 5,5 млн. человек.

Запись в тетрадь

3-й демографический кризис

был в годы Великой
Отечественной войны.

Потери 18 млн. человек, а с
учетом снижения
рождаемости от 21-27 млн.
человек.

Запись в тетрадь

4-й демографический кризис,

начавшийся в начале 90-х годов, имеет несколько причин: снижение рождаемости связано с экономическим кризисом в стране. (Инфляция, рост цен, неуверенность в завтрашнем дне, неблагоприятная экологическая ситуация). Особенно значительное снижение рождаемости наблюдалось в крупных городах.

✓ **1-й демографический кризис** отмечен с 1914 года (1 мировая война, затем революция, голод в 1921-1922 гг.; эмиграция из России).

Потери составили по разным оценкам от 12-18 млн. человек.

✓ **2-й демографический кризис** определили свертывание НЭПа, индустриализация, коллективизация, репрессии и голод (засуха) 1933-34 гг .

Потери от 5- 5,5 млн. человек.

✓ **3-й демографический кризис** был в годы Великой Отечественной войны.

Потери 18 млн. человек, а с учетом снижения рождаемости от 21-27 млн. человек.

✓ **4-й демографический кризис**, начавшийся в начале 90-х годов, имеет несколько причин: снижение рождаемости связано с экономическим кризисом в стране. (Инфляция, рост цен, неуверенность в завтрашнем дне, неблагоприятная экологическая ситуация). Особенно значительное снижение рождаемости наблюдалось в крупных городах.

**Демографический взрыв -
резкое повышение
численности населения.**



An aerial photograph of a city, likely Prague, showing a large stone wall surrounding a central area with several buildings, including a prominent white church with a tall spire. The city extends beyond the wall into the background.

*Естественный прирост
населения* - когда
рождаемость превышает
смертность: $EP = P > C$.
($EP = P - C$)

Естественная убыль населения

- когда смертность превышает
рождаемость: $EУ = С > Р$.

Рождаемость-количество
родившихся за год на 1000
жителей.

Смертность-количество умерших
за год на 1000 жителей.

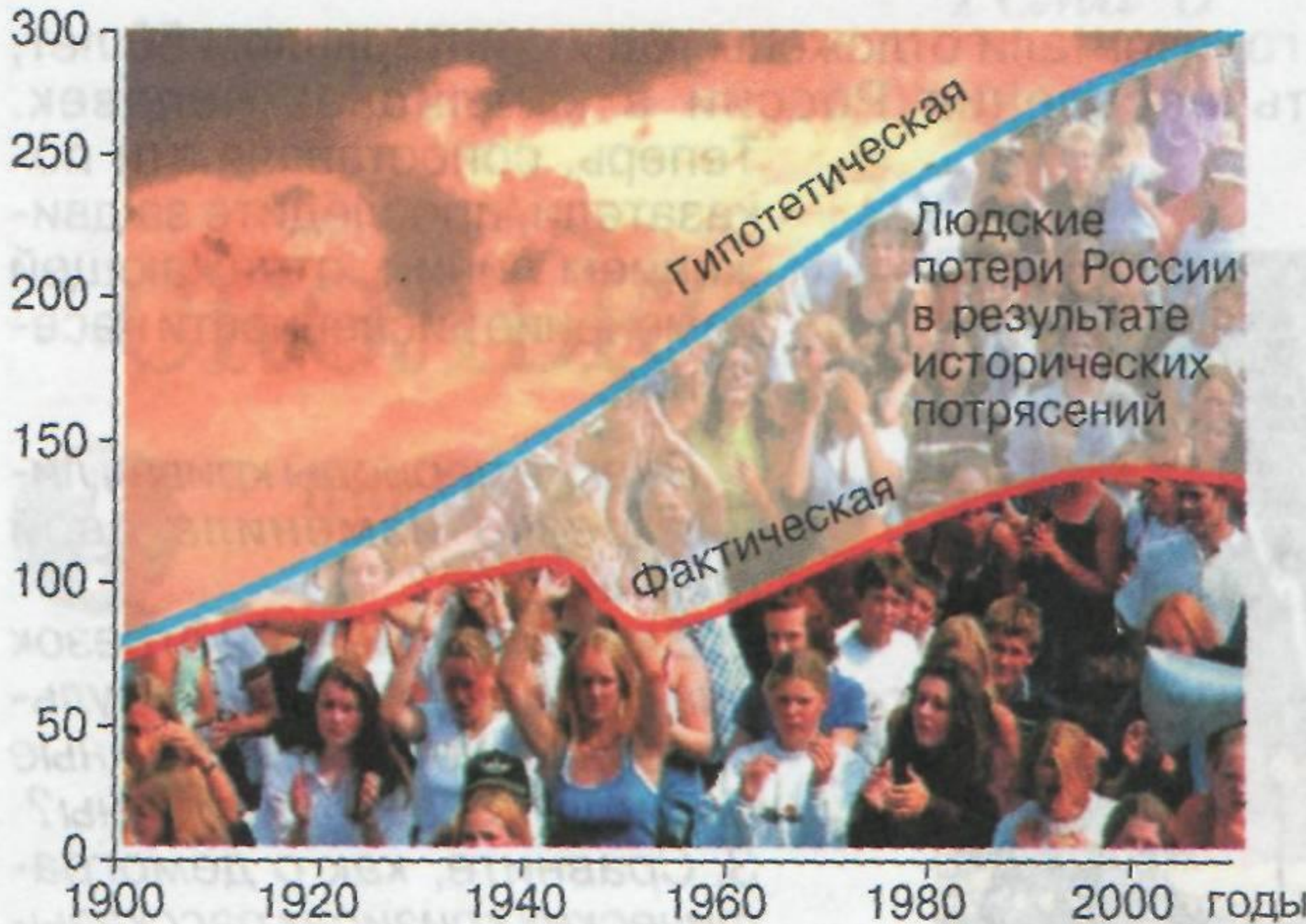
Задание 3.

Познакомьтесь с графиком на с. 238 рис.198, текстом последнего пункта параграфа 43 « Сколько всего людей потеряла Россия вследствие демографических кризисов XXв.? »

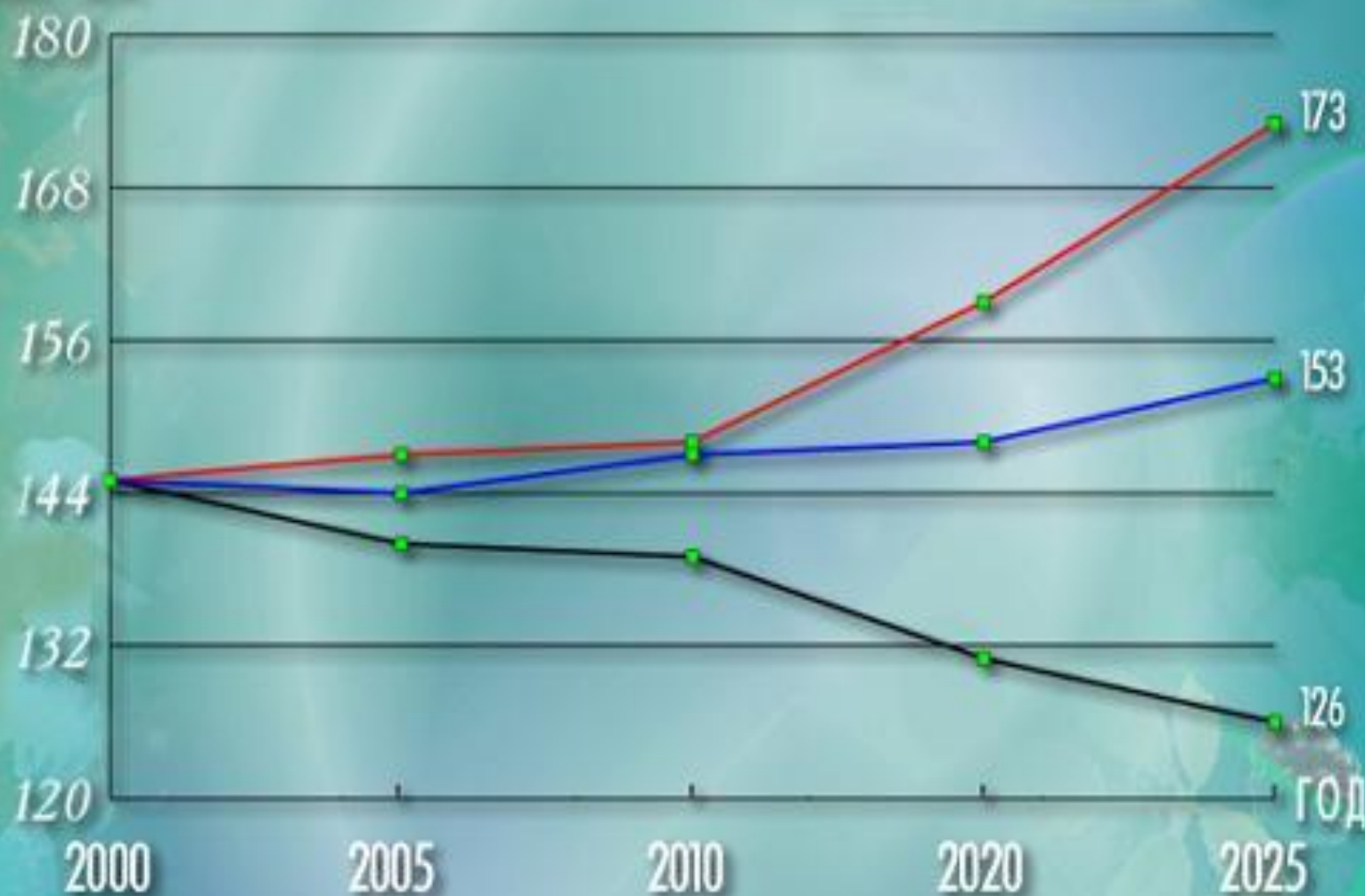
Дайте ответ на вопросы по графику.

млн чел.

Тема 9



МЛН. ЧЕЛ.



- - оптимистический прогноз
- - средний прогноз
- - пессимистический прогноз

В XX в. Россия понесла самые страшные людские потери за всю свою тысячелетнюю историю. Войны с внешними врагами и россиян друг с другом (Гражданская война), голод и эпидемии, репрессии против целых классов, сословий и народов — все это вместе взятое уменьшило возможное число жителей России почти вдвое. Это были не просто количественные, но и качественные потери. В войнах, конфликтах, репрессиях гибнет цвет нации — самые яркие, выдающиеся личности, храбрые и самоотверженные, активные и самостоятельно мыслящие. Помня об этом, нужно не допускать новых потрясений и потерь и прежде всего беречь людей — главное богатство России.

**Домашнее задание:
Параграф 38 стр.221 в
новом уч.2008г.(или
43,стр.236 в старом 2006г.).
Задание 3, после параграфа,
составить родословную
своей семьи.**