

Урок географии в 6 классе  
учителя Пилипенко Е.Г.

Разминка

15 сек

ПОЛЮС



долгота



# КООРДИНАТЫ



паралель

Гиппарх


ГРИНВИЧ



широта

ЭКВАТОР

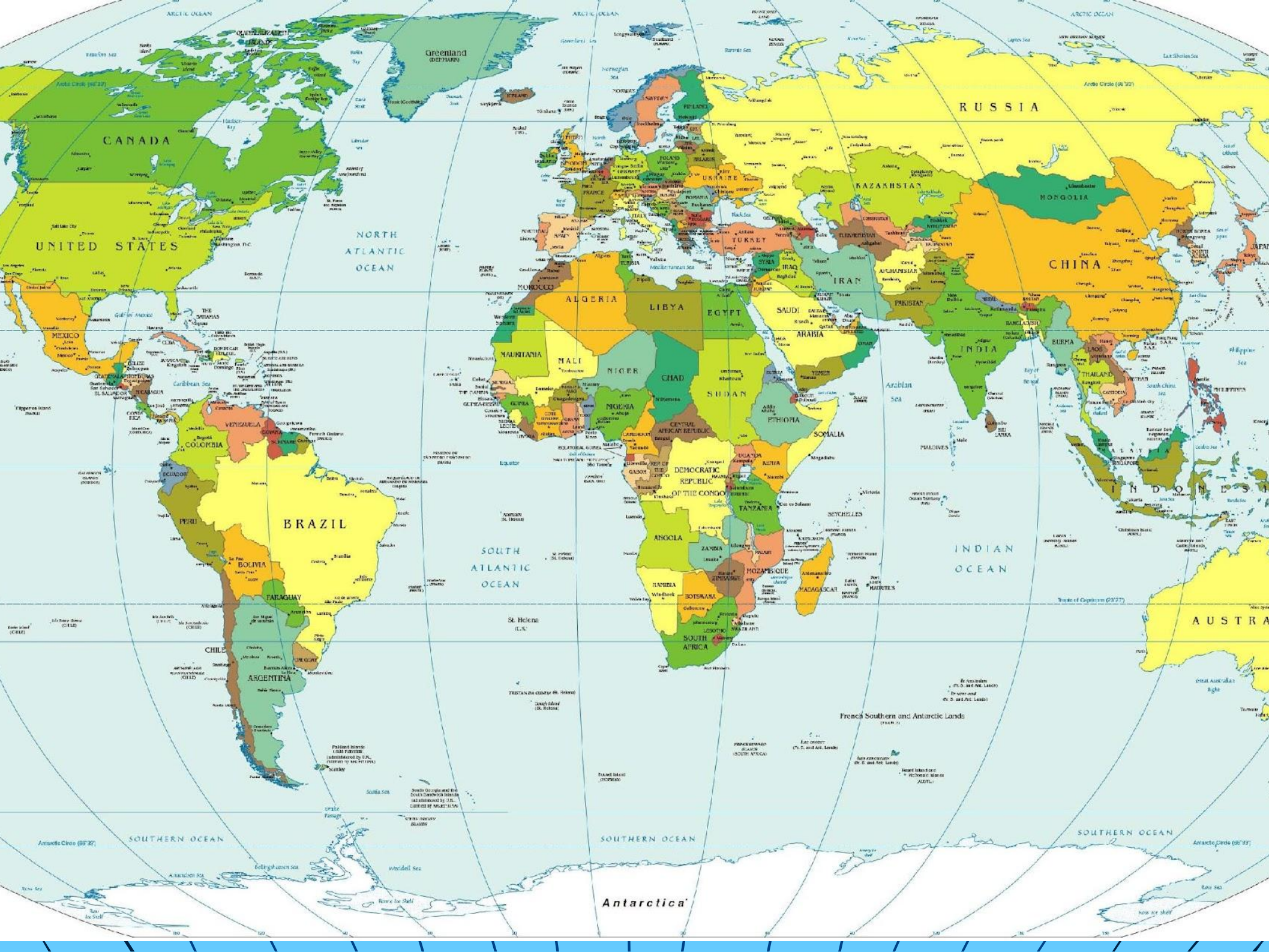
меридиан



Записать термины,  
дать им объяснение

- **Широта** - географическая координата, определяется от экватора до полюса и бывает **северной или южной**
- **Долгота**- географическая координата, определяется от нулевого Гринвичского меридиана до 180 и бывает **западной или восточной**

- Самостоятельная работа
- Определите географические координаты точек



*Тема:*

*Определение расстояний  
на карте*





Шхуна «Рассвет»  
терпит бедствие  
координаты:  
10 ° сш, 80 ° вд

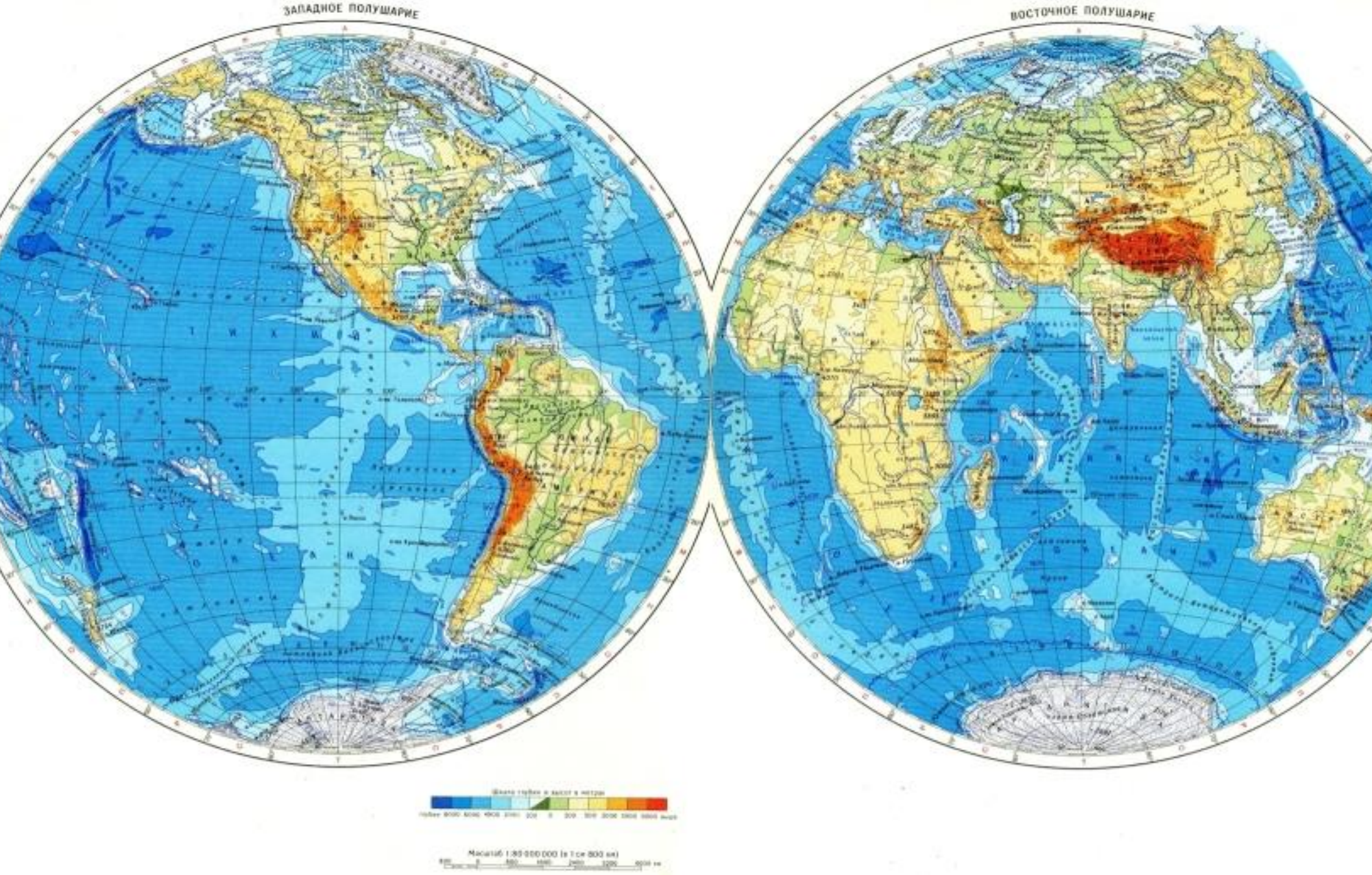
# Рядом находятся:

- Судно «Надежда»
- 20 ° юш, 80 ° вд



- Траулер «Смелый»
- 10 ° юш, 90 ° вд





Физическая карта полушарий

# Решение :



- «Р» -  $10^{\circ}$  юш,  $80^{\circ}$  вд
- «Н» - ( $20^{\circ}$  юш,  $80^{\circ}$  вд)
- разница –  $10^{\circ}$  широты
- «С» (  $10^{\circ}$  юш,  $90^{\circ}$  вд)
- разница –  $10^{\circ}$  долготы

# Стр 67 – длинна дуги 1°

- 1)  $10^\circ \times 111\text{км} = 1110\text{км}$   
(Надежда)
- 2)  $10^\circ \times 109,6\text{км} = 1096\text{км}$   
(Смелый)

ОТВЕТ ?

Спасибо за работу!



# Домашнее задание

Составить СИНКВЕЙН

Придумать свой маршрут путешествия,  
Описать не менее 5 объектов,  
через которые он пройдет, их названия  
и координаты, направления следования.

практическая №5 – выбрать один уровень

§20,