


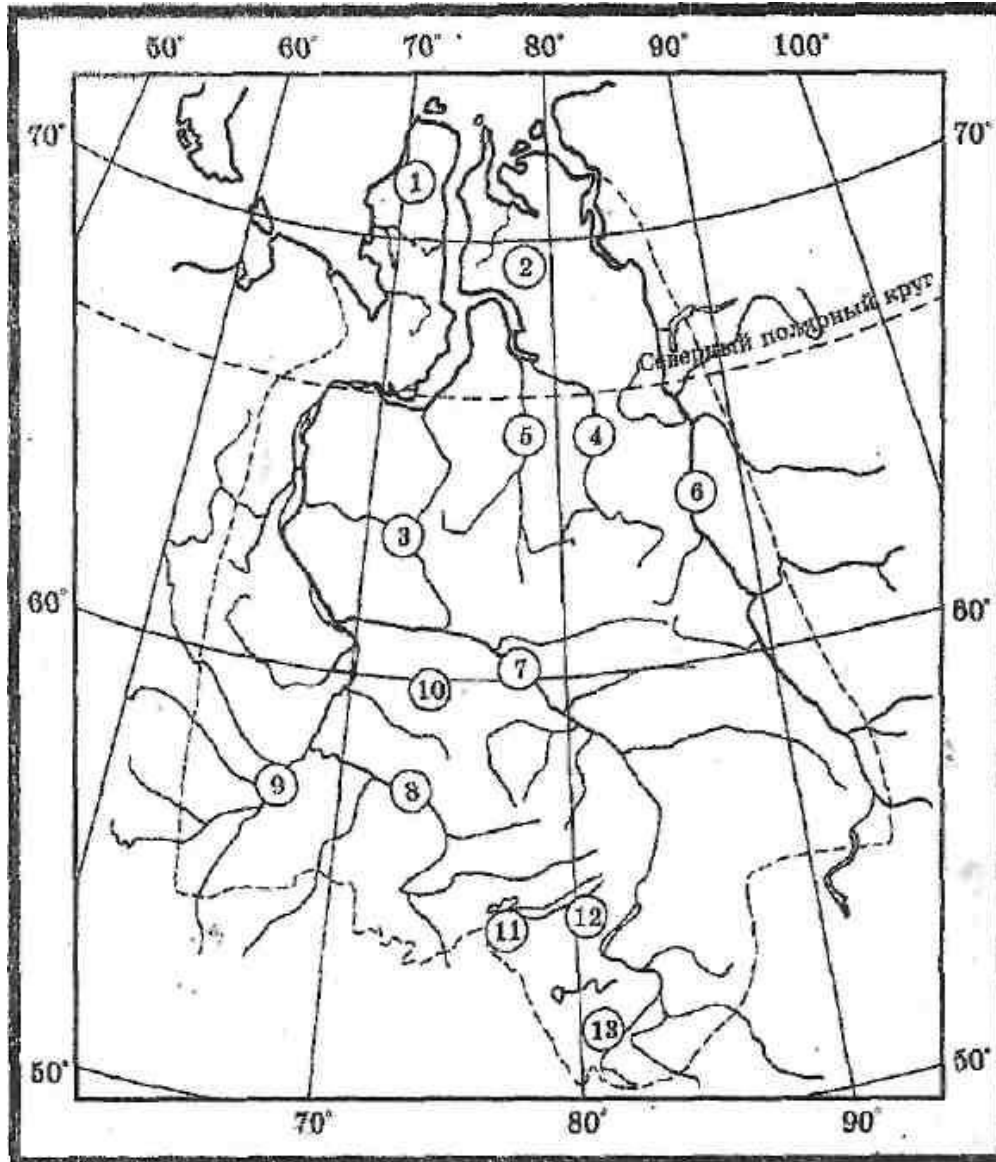


Номенклатура
Азиатской части
Российской Федерации




Западная Сибирь

Определите, какие объекты обозначены на картосхеме.
Выпишите их названия.



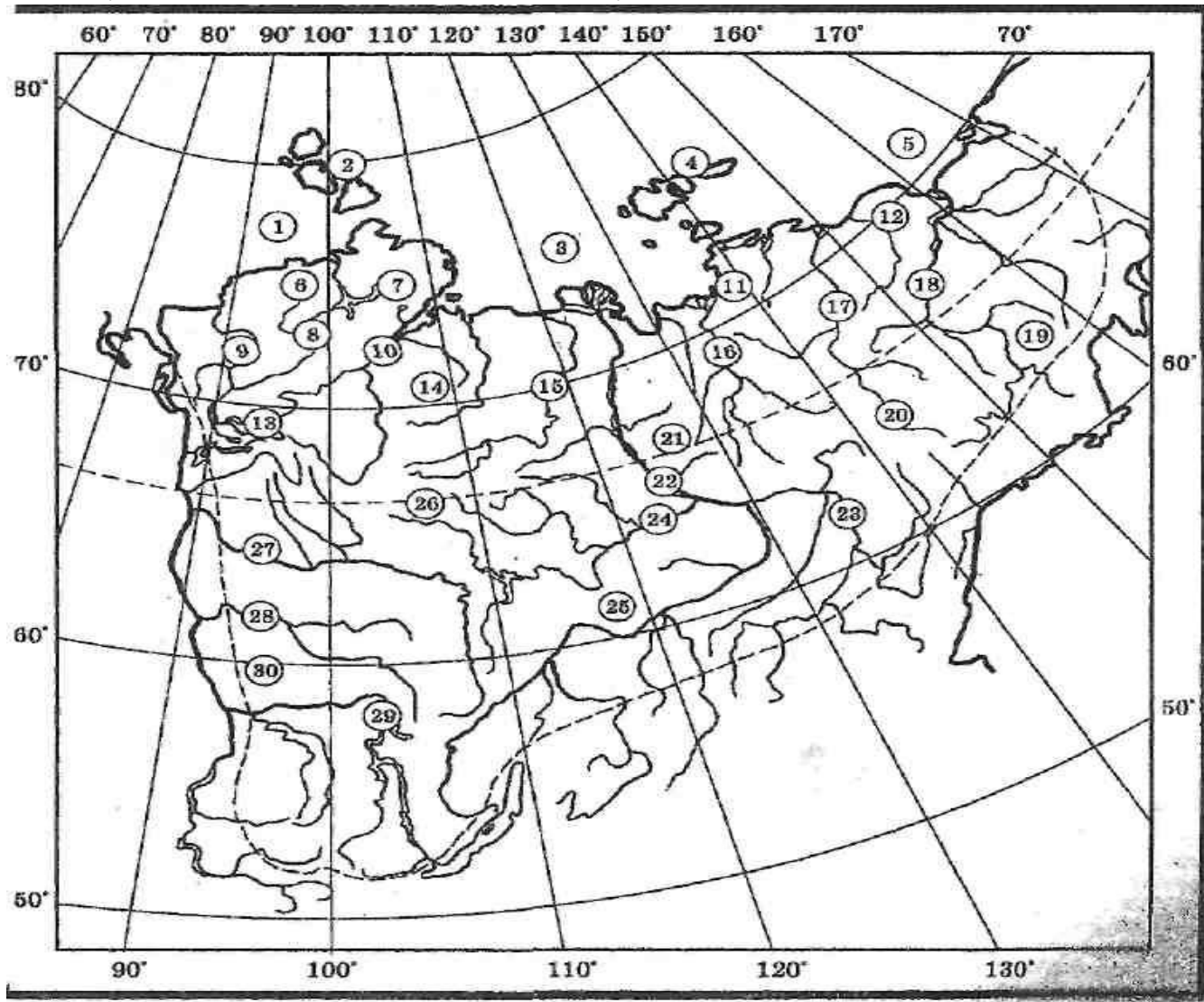
Сверим ответы

- 1-п-ов Ямал
- 2-Гыданский п-ов
- 3-Западно-Сибирская равнина
- 4-р.Таз
- 5-р.Пур
- 6-р.Енисей
- 7-р.Обь
- 8-р.Ишим
- 9-р.Иртыш
- 10-Барабинская низменность
- 11-Алтай
- 12-Западный Саян
- 13-вершина Белуха




Восточная Сибирь

- Определите, какие объекты Восточной Сибири изображены на картосхеме. Выпишите их названия.



Сверим ответы



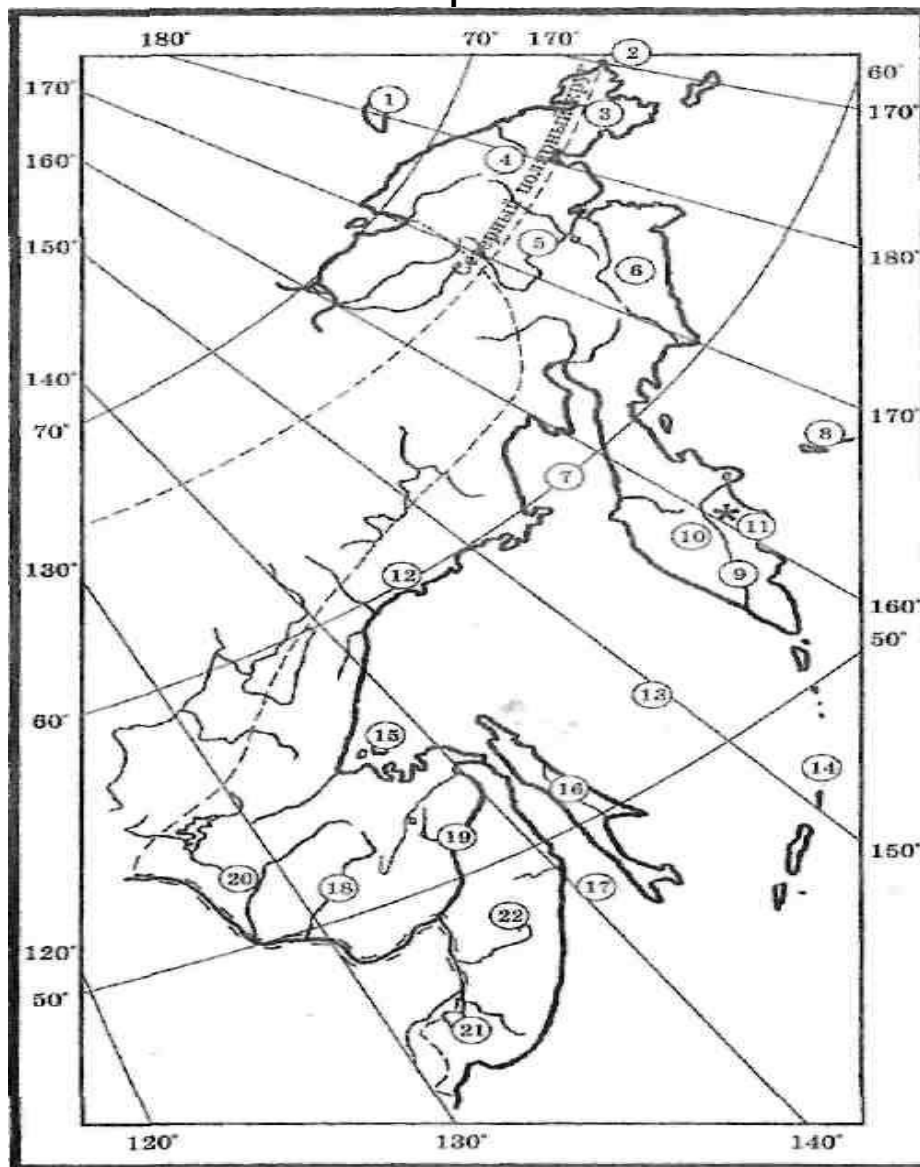
- 1-Карское море
- 2-о-ва Северная Земля
- 3-море Лаптевых
- 4-Новосибирские о-ва
- 5-Восточно-Сибирское море
- 6-п-ов Таймыр
- 7-озеро Таймыр
- 8-Северо-Сибирская низм.
- 9-р.Лямка
- 10-р.Хатанга
- 11-Яно-Индибирская низм.
- 12-Колымская низменность
- 13- плато Путорана
- 14-р.Анабар

- 15-р.Оленёк
- 16-р.Яна
- 17-р.Индибирка
- 18-Колымская низменность
- 19-Колымское нагорье
- 20-Оймяконское нагорье
- 21-Верхоянский хребет
- 22-р.Лена
- 23-р.Алдан
- 24-р.Вилюй
- 25-Приленское плато
- 26-Среднесибирское плоскогорье
- 27-р.Нижняя Тунгуска
- 28-р.Подкаменная Тунгуска
- 29-Усть-Илимское водохранилище
- 30-Енисейский кряж



Дальний Восток

- Определите объекты, обозначенные на картосхеме.
Выпишите их названия.



Сверим ответы

- 1-о.Врангеля
- 2-Берингов пролив
- 3-Чукотский п-ов
- 4-Чукотское нагорье
- 5-Анадырское плоск.
- 6-Корякское нагорье
- 7-залив Шелехова
- 8-Командорские о-ва
- 9-р.Камчатка
- 10-Срединный хребет
- 11-вулк.Ключевская Сопка

- 12-хр.Джугджур
- 13-Охотское море
- 14-Курильские о-ва
- 15-Шантарские о-ва
- 16-о.Сахалин
- 17-Татарский пролив
- 18-р.Бурея
- 19-р.Амур
- 20-р.Зея
- 21-озеро Хатанга
- 22-р.Уссури

