

Общая характеристика Европейской России

**Автор презентации
Учитель географии МОУ
«СОШ № 2 г. Калининска
Саратовской области»
Чулкова О. В.**

Цель:

- **Дать характеристику ЭГП Европейской России, установить особенности природы района.**

Задачи:

- ***Познакомиться с особенностями и дать оценку ЭГП Западного макрорегиона.***
- ***Определить какими природными условиям и ресурсами обладает Европейская Россия.***
- ***Определить состав экономических районов данной территории.***



Баренцево
море

Белое
море

$S = 3$ МЛН. КВ.КМ.

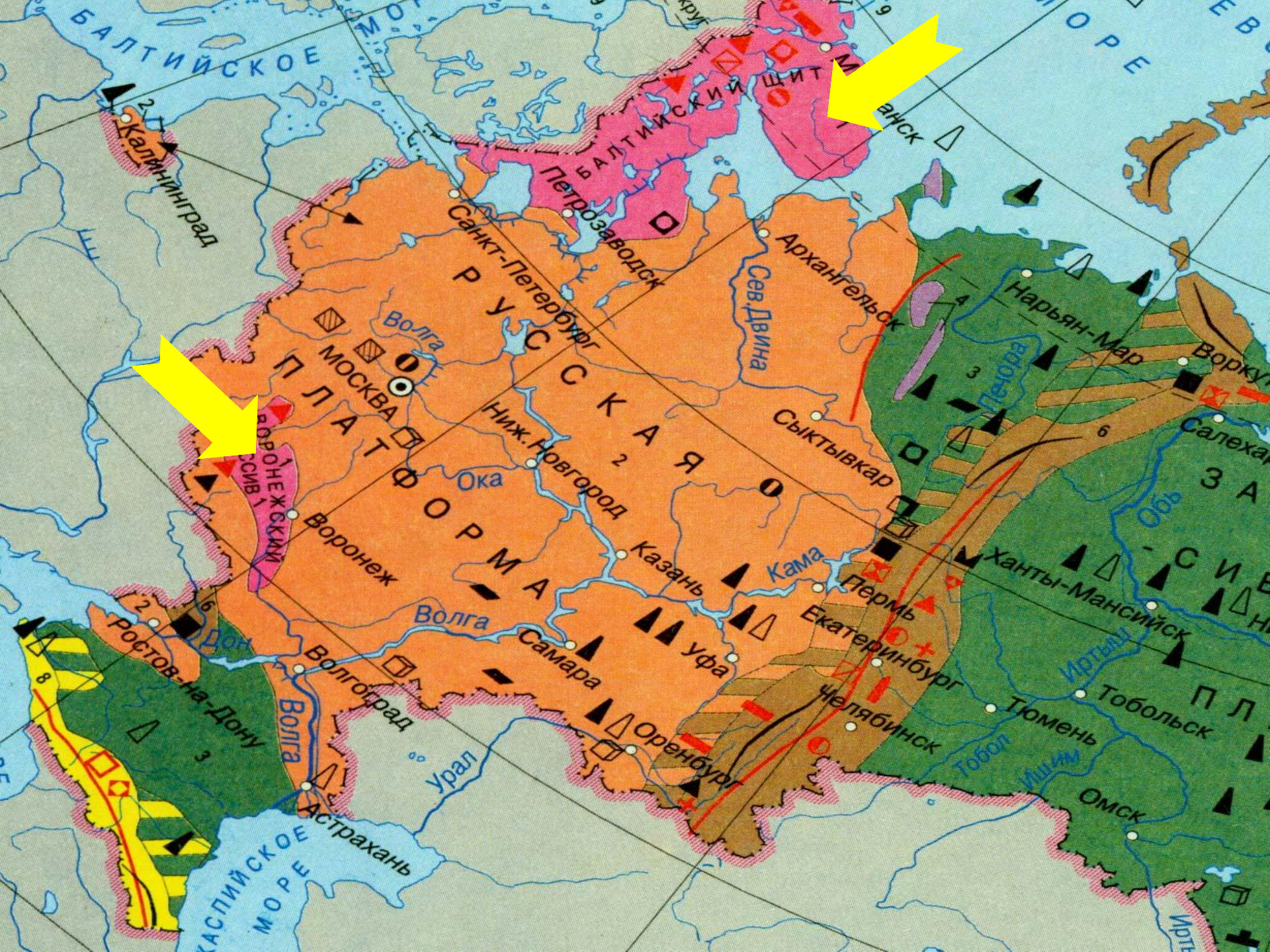
2500 КМ

Уральские горы

С.С.

С.







Назовите основные формы рельефа:

- Горы
- Возвышенности
- Кряж
- Увалы
- Низменности

Стр. 95, рис. 30
Восточно-Европейская
равнина

•ОЛЕДЕНЕНИЕ

- Моренных
- возвышенностей

- Озер
- ледникового
- Происхождения

- Сглаженность
- рельефа на севере

Климат

господствует → ЗПВМ

УКП

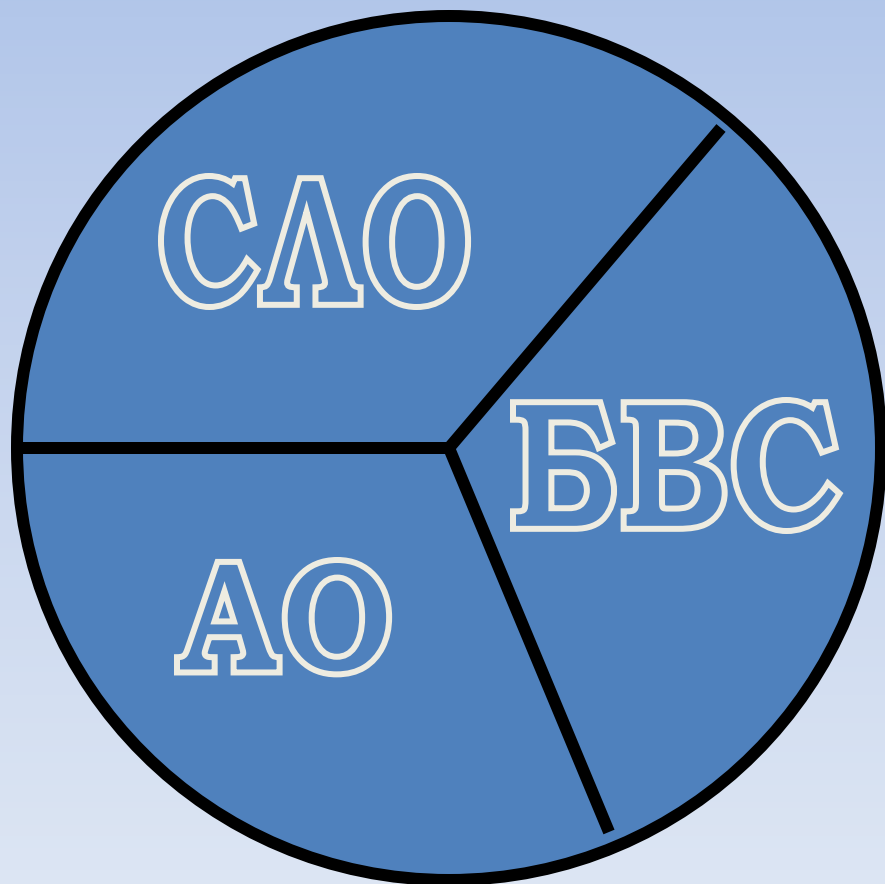
*оказывают
влияние* АрВМ
АТВМ



Внутренние

ВОДЫ


реки Русской равнины



- **Перечислите реки Русской равнины и соотнесите их с бассейнами стока.**



р.
Днепр



р.
Дон



р.

р.

Волга - одна из величайших рек не только России, но всего мира.

В древности её называли Ра, а в средние века Итиль.

Длина 3530 км, площадь бассейна – 1,3 млн. км².

Берёт начало на Валдайской возвышенности, вытекая из незначительного родника, лежащего посредине болотистых озёр.





Внутренние водьы

озёра Русской равнины

- **Перечислите крупные озёра Русской равнины**
- **К каким типам озёр они относятся?**



Природные зоны




Таблица 17

Территория и население районов и их групп в Европейской России

Районы (их группы)	Площадь, тыс. км ²	Население, млн чел.		Доля городского населения, %	Плотность населения, чел./км ²
		1990 г.	2003 г.		
Европейский Север	1466	6	6	76	4
Европейский Северо-Запад	212	9	8	86	42
Центральная Россия	916	47	46	77	50
Поволжье	536	20	17	73	38
Европейский Юг	355	17	18	55	50
Урал	824	20	20	74	25
Всего	4311	116	115	76	27

❖ Какое количество р-нов расположено на территории Европейской России?

❖ Почему именно в Европейской России проживает большая часть населения

Домашнее задание:

изучить § 19,
приготовить дополнительный
материал о Карельских озерах.

