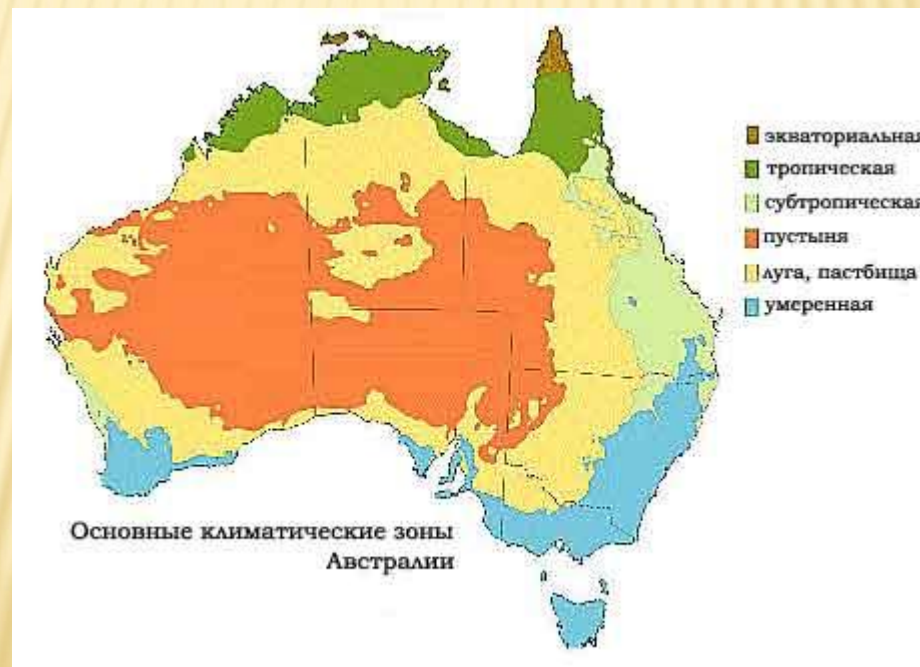


Климат и внутренние воды Австралии

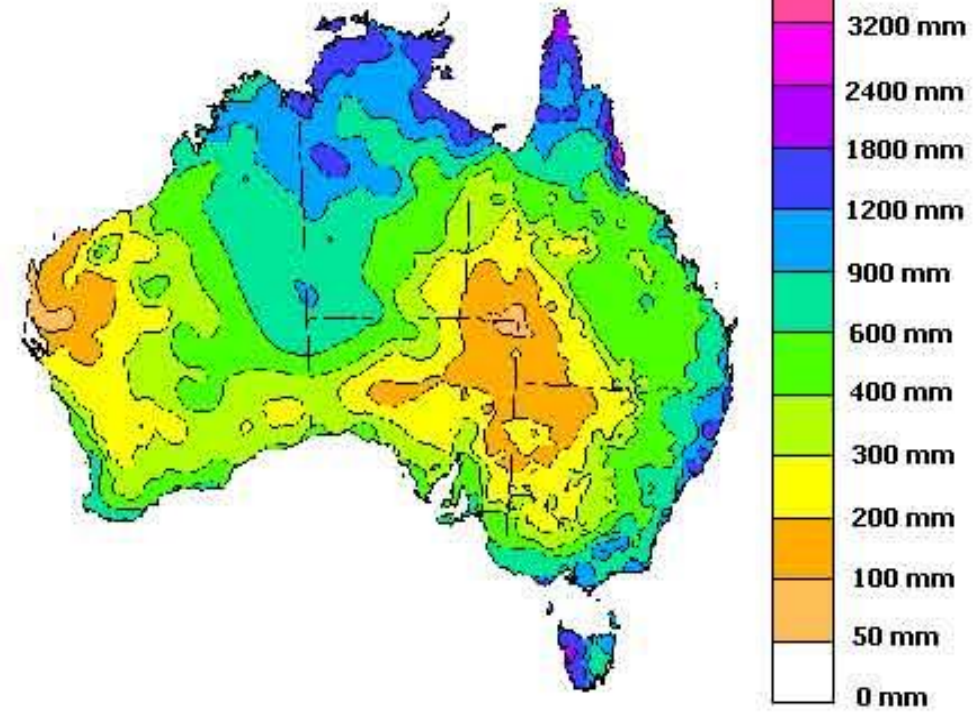
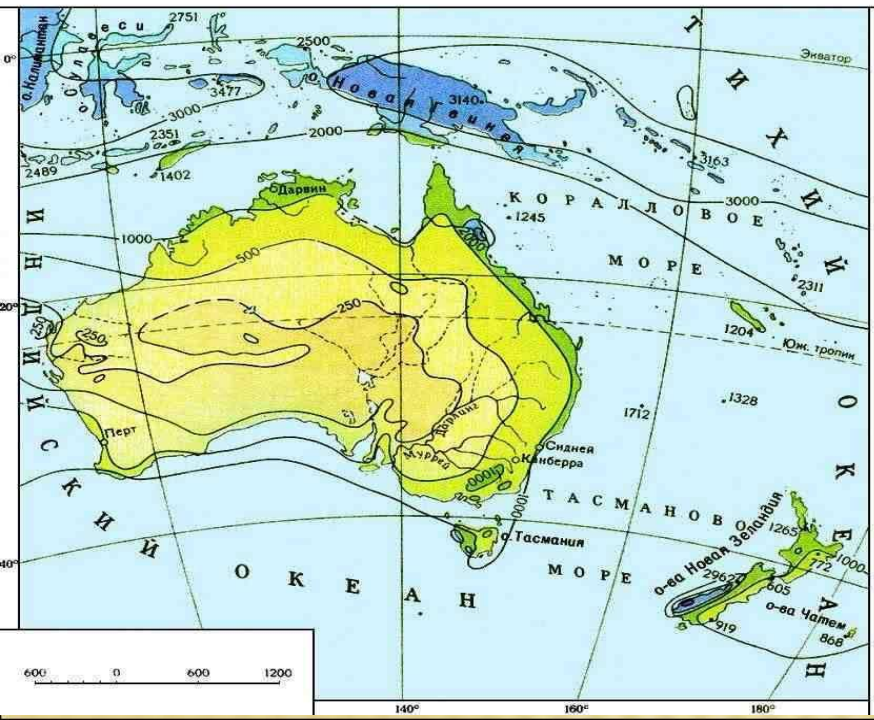
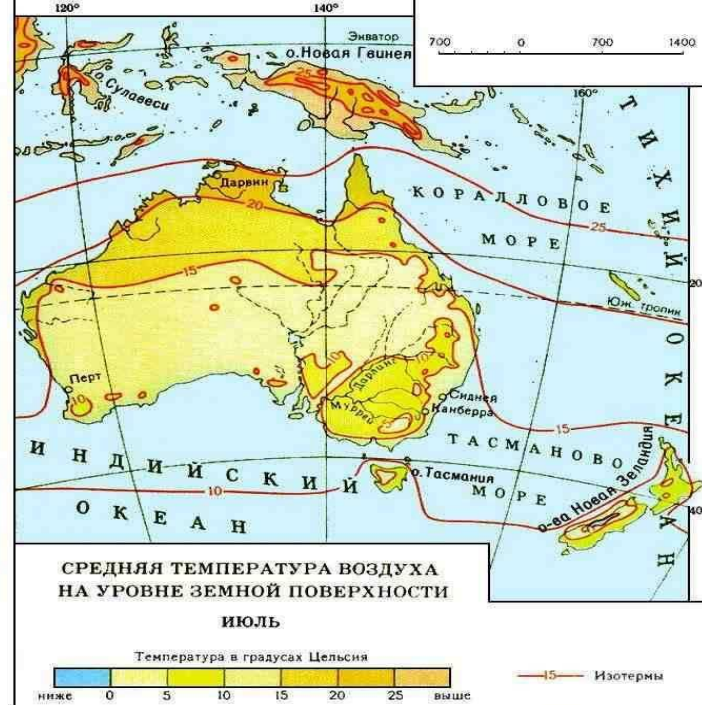
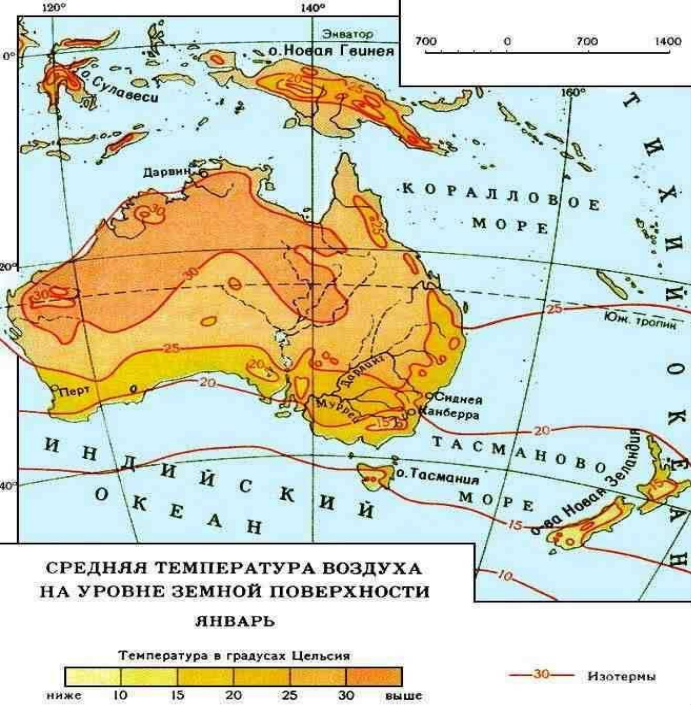


- **Покажите, где на карте мира находится материк Австралия? Укажите крайние точки материка (мысы).**
- **Воды, каких океанов омывают Австралию?**
- **Кем была открыта Австралия и остров Тасмания?**
- **Какой город на территории Австралии назван городом каторжников? Почему?**
- **Сравните на географической карте местоположение Австралии и Африки? Что общего?**

- **На скольких литосферных плитах находится Австралия?**
- **В каком направлении они движутся?**
- **Почему на материке редко бывают землетрясения, и нет действующих вулканов?**
- **Какие выделяют формы рельефа на территории Австралии? Покажите на карте формы рельефа: Большой Водораздельный хребет, Центральная низменность, Западно-Австралийское плоскогорье.**
- **Какие полезные ископаемые добывают в Австралии, покажите их на карте?**

План

- **1. В какой части материка находится данный климатический пояс?**
- **2. Какие воздушные массы и ветра преобладают в данном климатическом поясе?**
- **3. Определите по климатической карте атласа зимние и летние температуры характерные для данного климатического пояса?**
- **4. Определите количество выпадающих осадков в данном климатическом поясе?**
- **5. Подумайте, влияет ли рельеф на формирование данного климата, если да, то как?**
- **6. Посмотрите по карте есть реки или озера в данном климатическом поясе? Много ли их? Как они обозначены?**
- **7. Подумайте, почему многие реки и озера Австралии являются пересыхающими? С чем это связано? Какой их тип питания?**
- **8. Сделайте вывод по данному климатическому поясу.**



КРИК – ПЕРИОДИЧЕСКИ ПЕРЕСЫХАЮЩАЯ РЕКА ИЛИ ВРЕМЕННЫЙ ВОДОТОК. ВОДА В НИХ ПОЯВЛЯЕТСЯ ТОЛЬКО ПОСЛЕ РЕДКИХ ДОЖДЕЙ И НА КОРОТКОЕ ВРЕМЯ.

САМАЯ КРУПНАЯ ПЕРЕСЫХАЮЩАЯ РЕКА АВСТРАЛИИ – КУПЕР-КРИК, НЕСЕТ СВОИ ВОДЫ В ОЗЕРО ЭЙР.



РЕКА ДАРЛИНГ



РЕКА МУРРЕЙ



ОЗЕРО ЭЙР (АЭРОСНИМОК)



ВЫПОЛНИТЕ ТЕСТ

□ 1. В скольких климатических поясах находится Австралия?

□ ~~А) 3~~

□ Б) 1

□ В) 2

□ 2. Климат, преобладающий на большей территории Австралии, является...

□ А) тропический

□ Б) субтропический

□ В) экваториальный

□ 3. Самая крупная речная система Австралии ...

□ А) Купер- Крик

□ Б) Дарлинг

□ В) Муррей с притоком Дарлинг

□ 4. Периодически пересыхающую реку в Австралии называют...

□ А) водотоком

□ Б) ручьем

□ В) криком

□

□ Ответы: 1-А, 2- А, 3-В, 4-В.

- ДОМАШНЕЕ ЗАДАНИЕ
- Параграф 36, отметить на контурных картах внутренние воды Австралии.
- Подготовить сообщение о сумчатом дьяволе.

