

Олимпиада по географии для 10-11 класса

Школьный этап
2011-2012

Разработала : ТИМОФЕЕВА Е.Г.
учитель географии
МОУ СОШ им. М.И.Калинина
для РМО учителей географии
август 2011

ИНСТРУКЦИИ

Внимательно прочитайте каждое задание и предлагаемые варианты ответа, если они имеются. Отвечайте только после того, как вы поняли вопрос и проанализировали все варианты ответа.

Выполняйте задания в том порядке, в котором они даны. Если какое-то задание вызывает у вас затруднение, пропустите его и переходите к следующему. Если у вас останется время, вы сможете вернуться к пропущенным заданиям.

За выполнение различных по сложности заданий даётся один или более баллов. Баллы, полученные вами за выполненные задания, суммируются.

Постарайтесь выполнить как можно больше заданий и набрать наибольшее количество баллов.



**ЖЕЛАЕМ
УСПЕХА!**





ЧАСТЬ 1

Часть 1 состоит из 16 заданий (А1–А16) с выбором ответа.

К каждому заданию даётся несколько вариантов ответа, только один из которых правильный.

Каждый правильный ответ оценивается в 1 балл.

А1. Выберите город-милли



А) Волгоград;

Б) Красноярск;

В) Омск;

Г) Пермь



***А2. Выберите государство,
столица которого называется
не так, как сама страна.***

- А) Бразилия;**
- Б) Сингапур;**
- В) Тунис.**



А3. Анды богаты цветными металлами. Название гор происходит от слова «анта», что на языке инков означает...

А) золото;

 **Б) медь;**

В) никель;

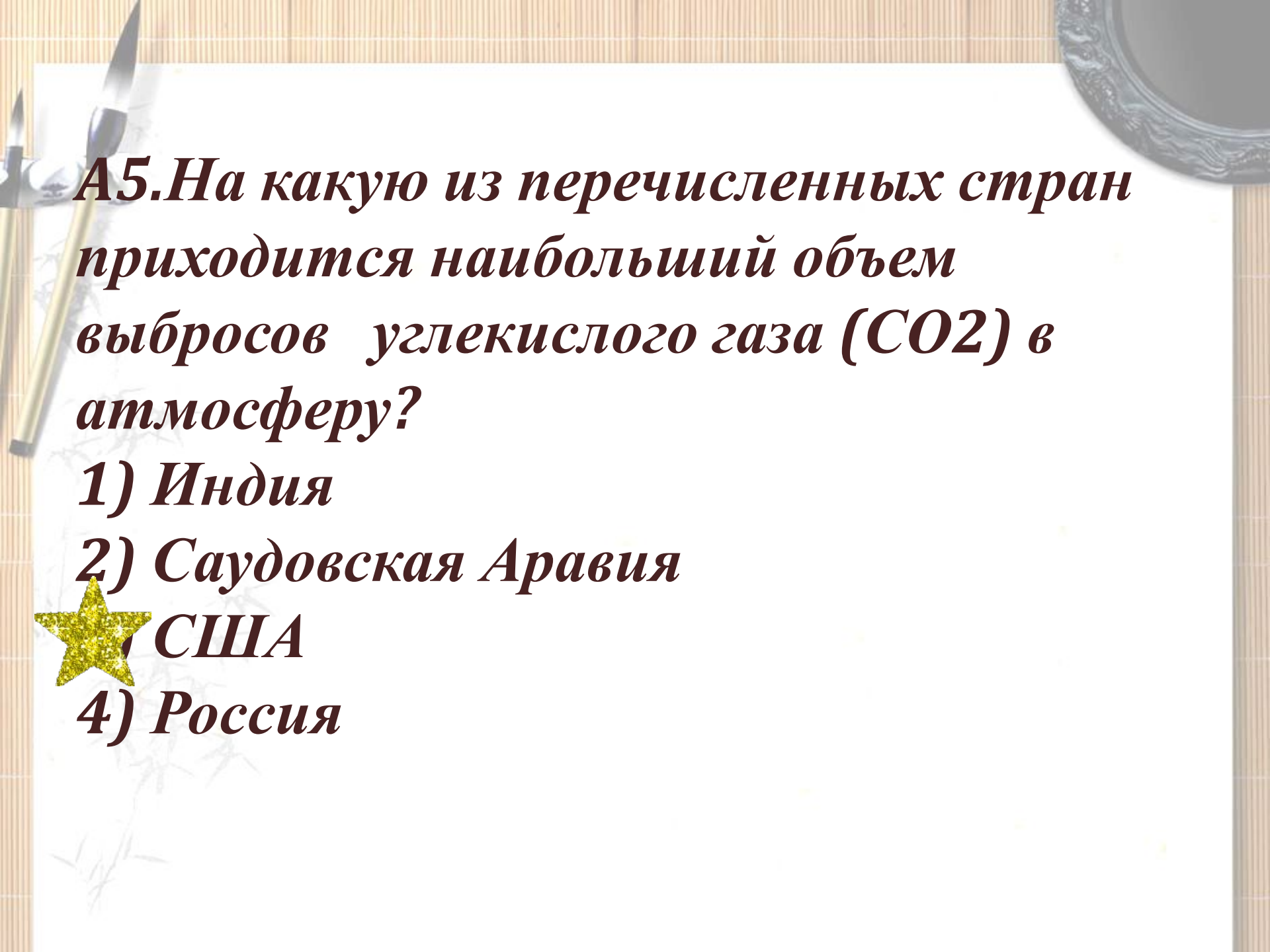
Г) олово;

Д) серебро.

А4. Заросли ксерофитных растений высотой до 2 м, состоящие главным образом из кустарниковых эвкалиптов, акаций, казуарин, кустарничков из семейства бобовых и миртовых, в засушливых районах Австралии называются ...

- А) пампа;**
- Б) прерия;**
- В) саванна;**
- Г) сахель;**
- Д) скрэб.**





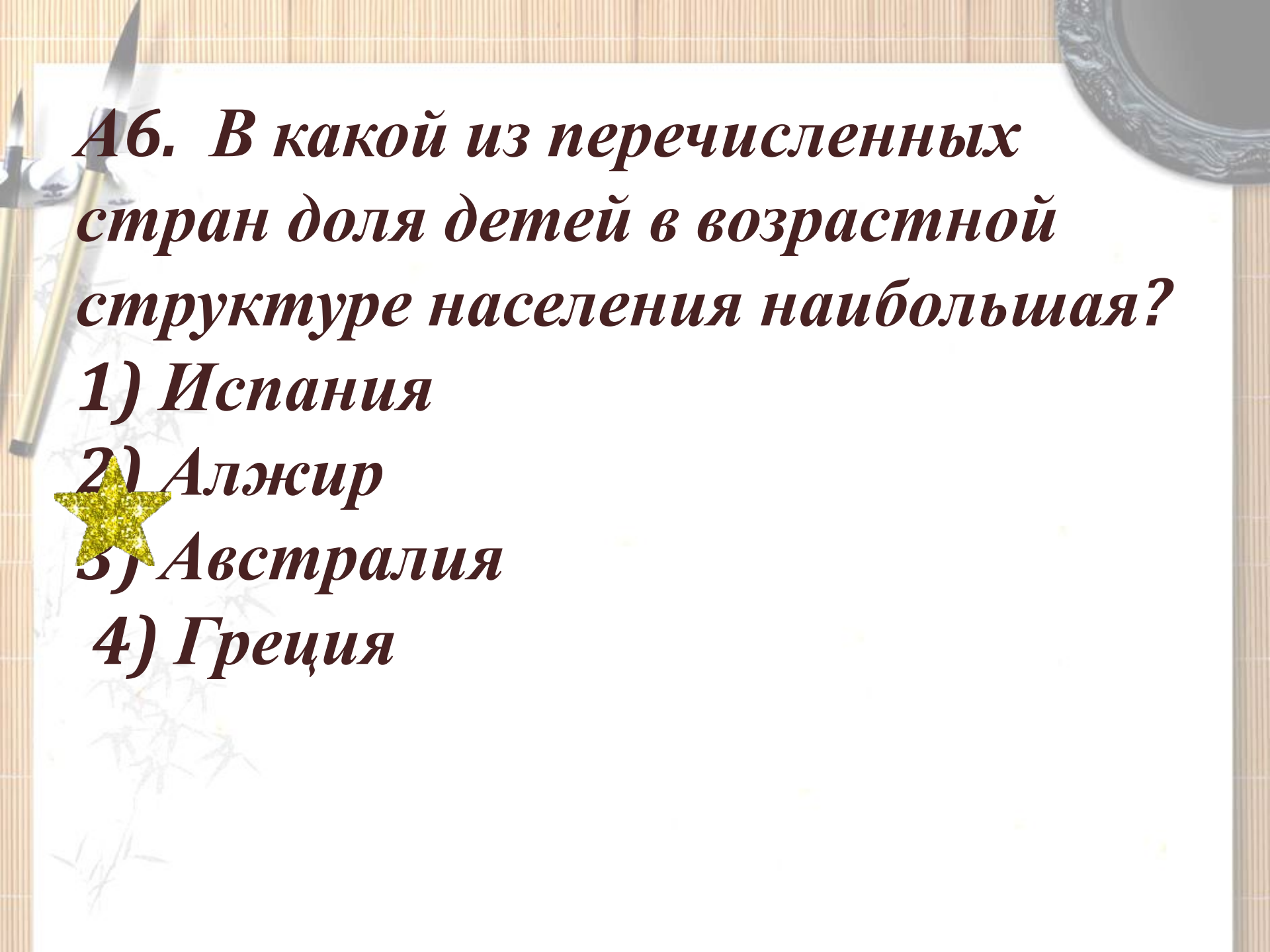
А5. На какую из перечисленных стран приходится наибольший объем выбросов углекислого газа (CO₂) в атмосферу?

1) Индия

2) Саудовская Аравия

 *3) США*

4) Россия



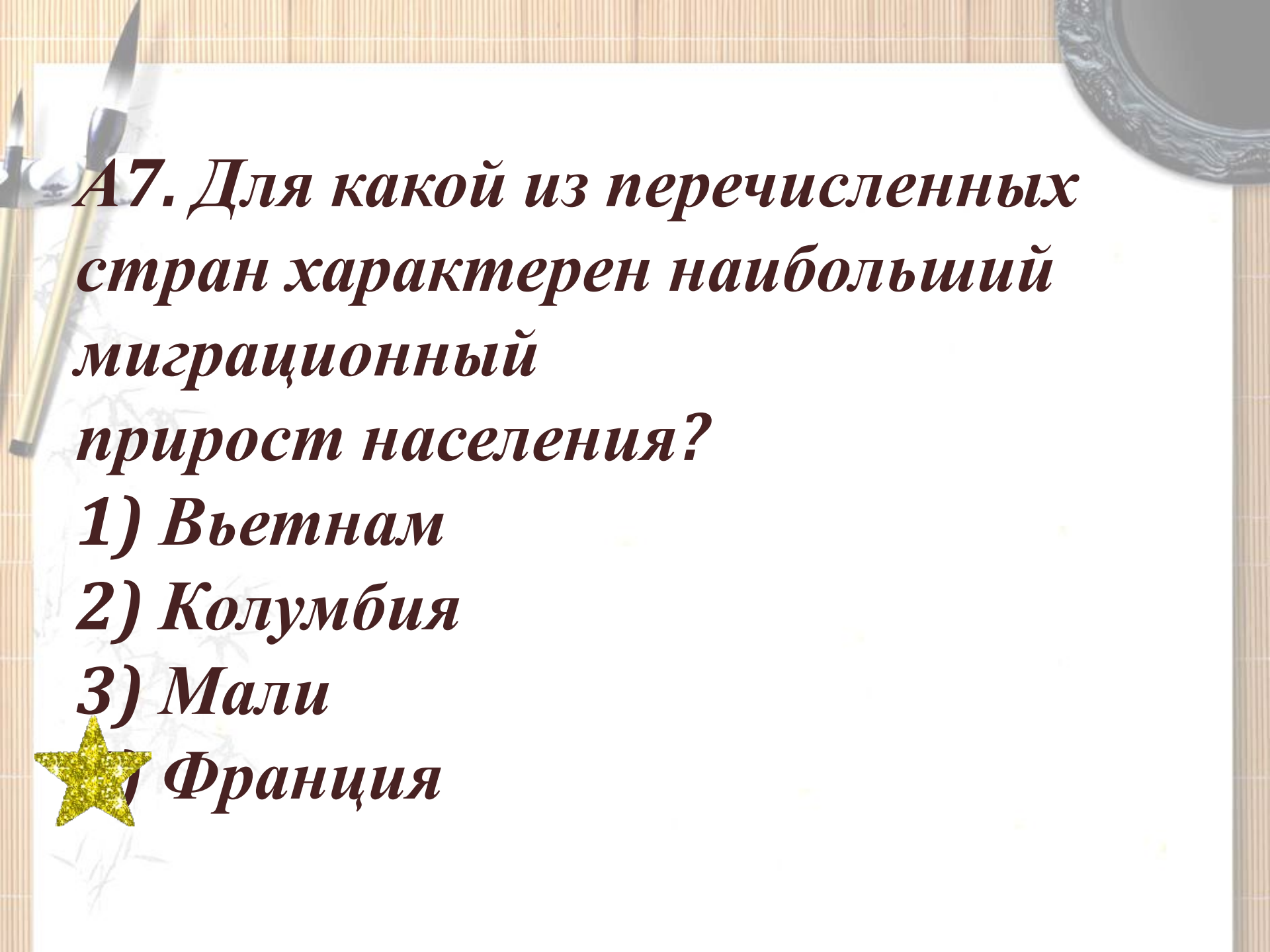
А6. В какой из перечисленных стран доля детей в возрастной структуре населения наибольшая?

1) Испания

2) Алжир

3) Австралия

4) Греция



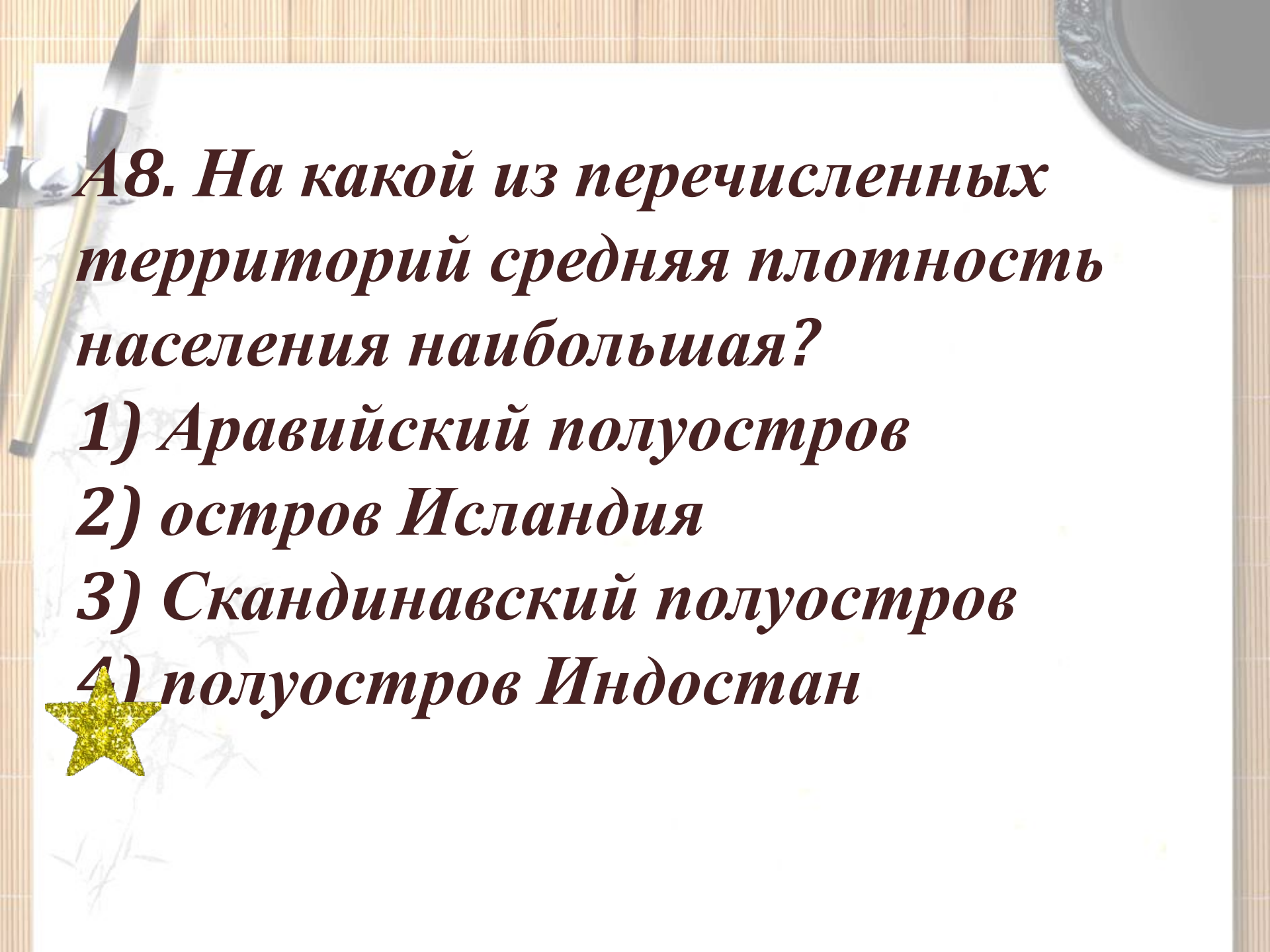
А7. Для какой из перечисленных стран характерен наибольший миграционный прирост населения?

1) Вьетнам

2) Колумбия

3) Мали

 *4) Франция*



А8. На какой из перечисленных территорий средняя плотность населения наибольшая?

1) Аравийский полуостров

2) остров Исландия

3) Скандинавский полуостров

4) полуостров Индостан



А9. В какой из перечисленных стран доля городского населения в общей численности населения наибольшая?

1) Эквадор

2) Мозамбик

★ Бельгия

4) Афганистан

A10. Какой город является крупнейшим морским портом Германии?



1) Гамбург

2) Дюссельдорф

3) Берлин

4) Мюнхен

А11. С какой из перечисленных стран Россия имеет сухопутную границу?


1) Молдавия

2) Туркмения

★ 3) Финляндия

4) Армения

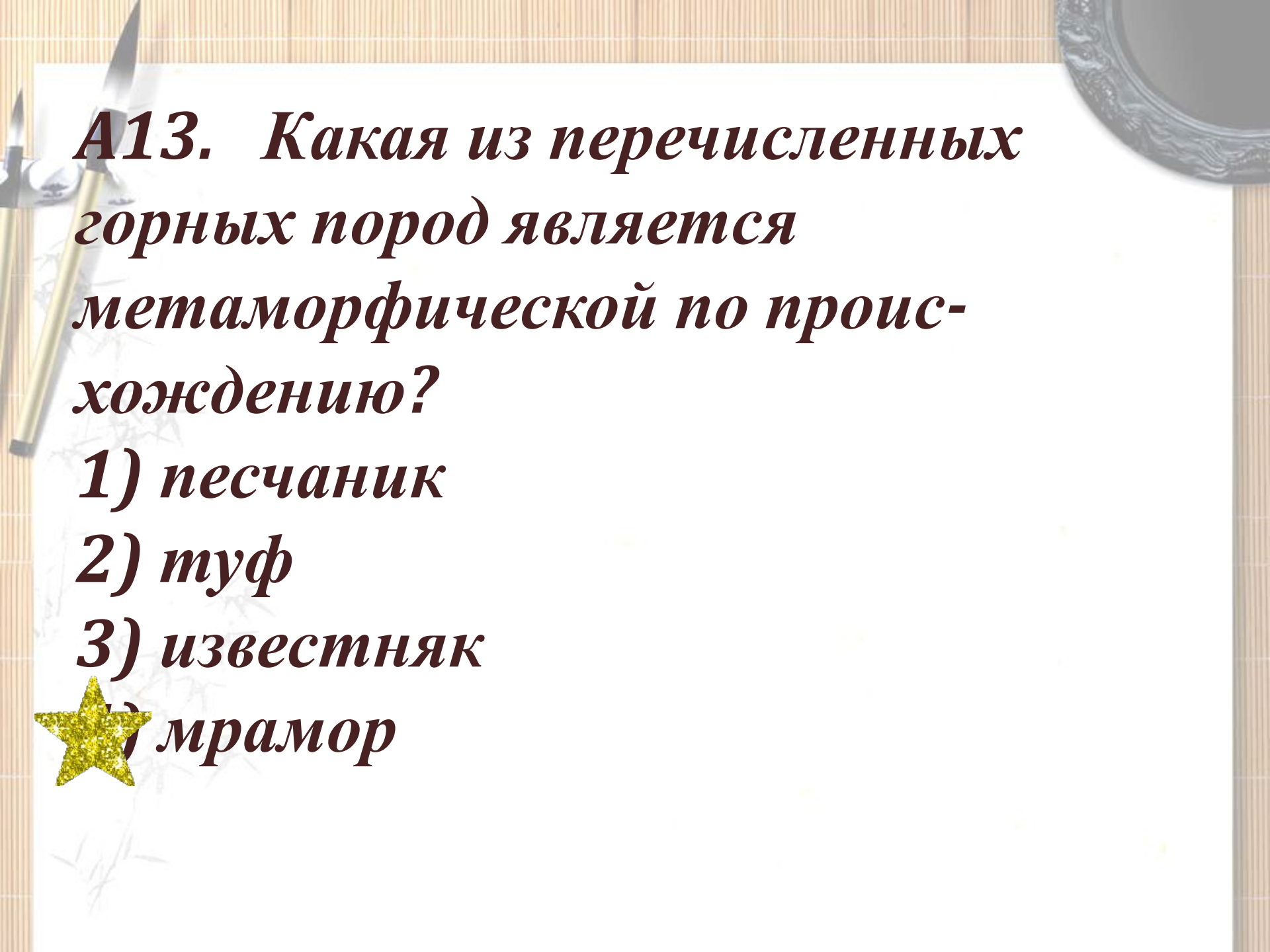
***A12. В какой из перечисленных стран
производство пшеницы является
отраслью
международной специализации?***

 ***1) Аргентина***

2) Исландия

3) Танзания

4) Вьетнам



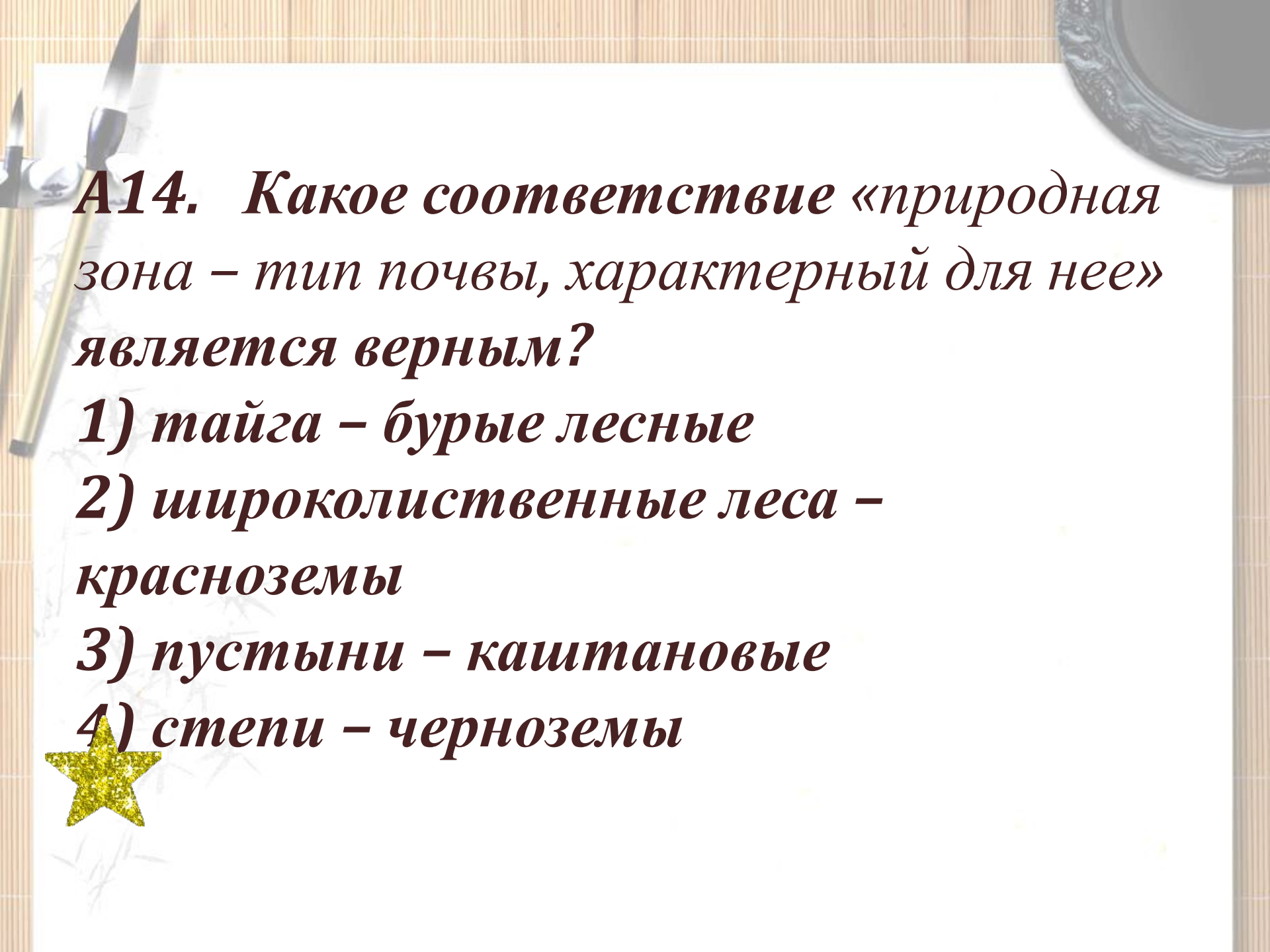
А13. Какая из перечисленных горных пород является метаморфической по происхождению?

1) песчаник

2) туф

3) известняк

4) мрамор



A14. Какое соответствие «природная зона – тип почвы, характерный для нее» является верным?

1) тайга – бурые лесные

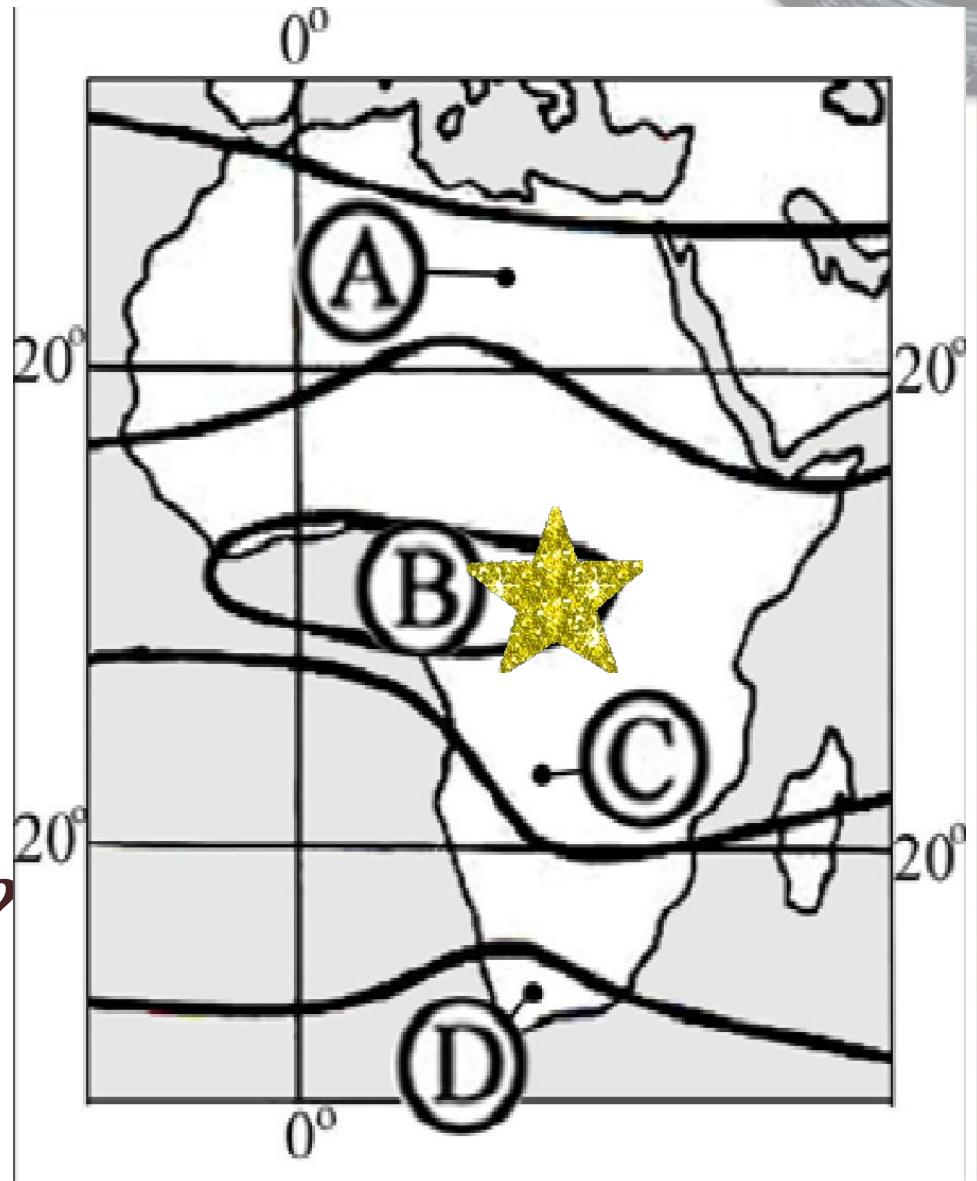
2) широколиственные леса – красноземы

3) пустыни – каштановые


4) степи – черноземы



**A15. В каком из
пунктов,
обозначенных
буквами на карте
Африки,
среднегодовое
количество
атмосферных
осадков наибольшее?**



A16 В каком из высказываний содержится информация о проявлении международной экономической интеграции?


- 1) К началу XXI в. в более чем 80 странах мира доля сферы услуг в ВВП превышала 50%.**
- 2) По запасам природного газа в мире особо выделяются два региона – Зарубежная Азия и СНГ.**
- 3) В странах Северной Америки и Западной Европы темпы экономического роста в конце XX в. были ниже среднемировых.**
- 4  Страны ЕС сформировали единое экономическое пространство со свободным перемещением товаров, услуг, капитала, технологий и рабочей силы.**

ЧАСТЬ 2

Часть 2 содержит 6 заданий (В1–В6), требующих краткого ответа в виде числа, одного слова или последовательности букв.

В этой части используются задания на установление соответствия или последовательности, на выбор нескольких правильных ответов из предложенных, а также задания, в которых требуется самостоятельно записать правильный ответ.

Каждый правильный ответ оценивается в 2 б



В1. Выберите теократические монархии.

А) Бруней;

Б) Ватикан;

В) Катар;

Г) ОАЭ;

Д) Саудовская Аравия



В2. Определите, когда по московскому времени должен совершить посадку в Москве (II часовой пояс) самолет, вылетевший из Красноярска (VI часовой пояс) в 17 часов по времени Красноярска. Расчетное время полета составляет 4 часа.

Ответ запишите цифрами.

17 ЧАСОВ



В3. Установите соответствие между республикой в составе РФ и ее столицей.

РЕСПУБЛИКА

А) Чувашская

Б) Калмыкия

В) Бурятия

СТОЛИЦА

1) Улан-Удэ

2) Ижевск

3) Элиста

4) Чебоксары



В4. Расположите перечисленные периоды геологической истории Земли в хронологическом порядке, начиная с самого раннего.

А) кембрийский

Б) триасовый

В) девонский

Запишите получившуюся последовательность букв.



АВБ

В5. *Определите страну по ее краткому описанию. Эта страна полностью расположена в Западном полушарии и имеет выход к трем океанам. На материке, где страна расположена, она является первой по площади территории и третьей по численности населения. В стране хорошо развиты отрасли как добывающей, так и обрабатывающей промышленности. В международном географическом разделении труда она выступает как поставщик продукции горнодобывающей промышленности, машиностроения, металлургии, топливной, химической и лесной промышленности, а также сельского хозяйства.*

Канада



В6. Определите регион России по его краткому описанию.

Эта республика расположена в европейской части России. Особенностью ЭГП является отсутствие выхода к морю и к государственной границе страны.

Коренное население относится к уральско-юкагирской языковой семье.

Главные отрасли промышленности – угольная, нефтедобывающая и лесная.

Сельское хозяйство из-за малоблагоприятных агроклиматических условий играет в экономике небольшую роль.

Коми



ЧАСТЬ 3

Часть 3 состоит из 6 заданий с развёрнутым ответом. Ответом на задание С4 должен быть сделанный вами рисунок. В заданиях С1,2,3,5,6 требуется записать полный ответ на поставленный вопрос или решение задачи.

При решении задач части С можно пользоваться атласом.

Каждый правильный ответ оценивается в 5 баллов.

Задача С1

- **В современном мире все шире распространяется практика создания национальных парков – особо охраняемых государством территорий с малонарушенными природными комплексами и уникальными природными, историческими и культурными объектами. Статус национальных парков позволяет сочетать в них задачи охраны природы и ее контролируемого использования, в основном для целей рекреации и массового туризма. Территории национальных парков, площадь которых может достигать нескольких сотен квадратных километров, обычно полностью изымаются из промышленного использования, но на них разрешается ведение сельского хозяйства, не нарушающего существующие ландшафтные комплексы.**
- **Исходя из данного определения, предложите территорию для создания нового национального парка в России и обоснуйте свой выбор.**

Задача С2

- **Разделите перечисленные ниже термины, обозначающие различные формы рельефа, на максимальное число групп по содержательным признакам (сходству истории возникновения, факторов рельефообразования и др.):**
- **атолл, балка, бархан, вулкан, дельта, дюна, каньон, карьер, кратер, курган, куэста, нагорье, овраг, оз, осыпь, пойма, полье, риф, сурчина, террикон, трог, ребет.**

Задача СЗ

- Почти все железные дороги в азиатской части России имеют широтное направление. Предложите одну или несколько наиболее перспективных, с вашей точки зрения, трасс для строительства железных дорог в этом регионе в меридиональном направлении. Обоснуйте свой выбор. Укажите, с какими трудностями, обусловленными особенностями природной среды, придется столкнуться строителям на различных участках этих трасс?

Задача С4

- **Предположим, что Австралия была бы смвинута на 10° к северу и на 90° к востоку по сравнению со своим современным положением. Какие природные зоны располагались бы тогда на этом материке? Свой ответ проиллюстрируйте рисунком.**

Задача С5

- Учрежденное 6 (18) августа 1845 г. Русское географическое общество в разное время возглавляли: Ф.П.Литке, П.П.Семенов, Ю.М.Шокальский, Н.И.Вавилов, Л.С.Берг, Е.Н.Павловский, С.В.Калесник, А.Ф.Трешников; его почетными президентами были Ю.М.Шокальский, Л.В.Комаров, В.А.Обручев.
- Какие районы исследовал каждый из этих выдающихся географов и путешественников во время своих экспедиций и какой вклад внес в науку о Земле? Перечислите известные вам географические объекты, названные в их честь.

Задача С6

- Из предложенного перечня выберите не менее пяти признаков, характеризующих один из экономических районов России. Назовите этот район и внесите соответствующие изменения в оставшиеся характеристики.
- 1) Плотность населения в районе более чем в 2 раза выше среднероссийской.
- 2) Население многонационально, но преобладают русские.
- 3) Важную роль играет цветная металлургия.
- 4) Район – один из ведущих в России по производству черных металлов, но на его территории не представлено производство труб.
- 5) Имеется нефтеперерабатывающая промышленность, но она слабо развита.
- 6) Целлюлозно-бумажная промышленность является частью мощного лесопромышленного комплекса.
- 7) Отрасль по производству минеральных удобрений (конечные ее стадии) уникальна и ориентирована на экспортные поставки.
- Сельское хозяйство имеет в основном местное значение, только на юге продукция отдельных отраслей вывозится за пределы района.
- 9) Особое значение для района имеет субширотная транспортная магистраль.



Источники информации:

http://olympiad.rgo.ru/gotovimsya-k-uchastiyu/zadaniya/vserossijskaya-olimpiada/#tax_selects=olympiad_years-19+olympiad_tours-15

2. Сайт ФИПИ

3. Демонстрационные варианты ЕГЭ и ГИА 2009-2011года

Спасибо за работу!!!

