

Гимназия № 1517

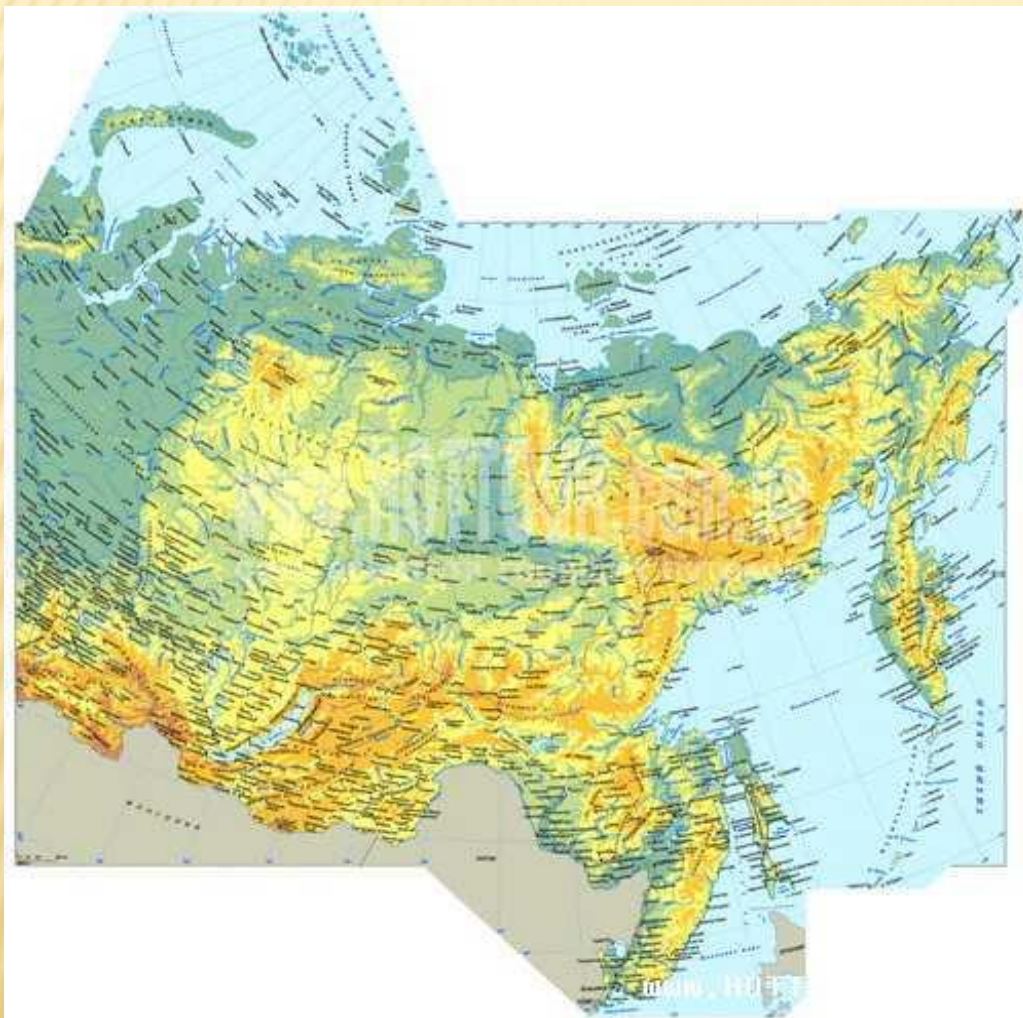
УРОК ГЕОГРАФИИ В 9 КЛАССЕ

ПО ТЕМЕ «СЕВЕР ВОСТОЧНОЙ СИБИРИ»

УЧИТЕЛЬ ГЕОГРАФИИ: ПЕГОВА ЛЮДМИЛА ВИКТОРОВНА

Г.МОСКВА

СЕВЕР ВОСТОЧНОЙ СИБИРИ. ФАКТОРЫ ФОРМИРОВАНИЯ РАЙОНА



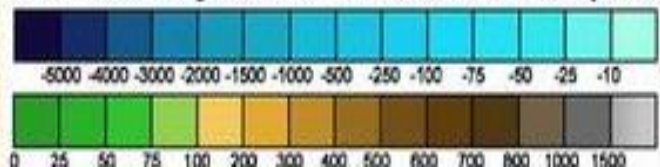
- ▣ **Состав района:**
- ▣ Красноярский край, Республика Саха(Якутия).
- ▣ Площадь 4,5 млн.кв.км.
- ▣ Проживает 1,5 млн. человек.

- ▣ **Вопрос:**
- ▣ Какова плотность населения?

МОРЯ СИБИРСКОГО СЕВЕРА



Шкала глубин и высот в метрах




ГЕОГРАФИЧЕСКОЕ ПОЛОЖЕНИЕ РАЙОНА



Река Енисей, Россия

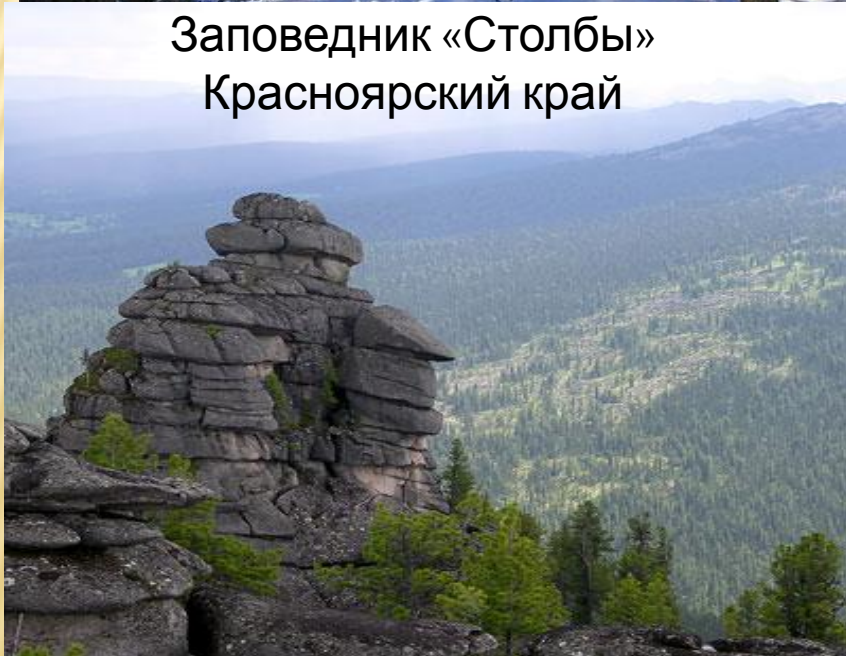
РУБЕЖ, НА КОТОРОМ СМЕНЯЕТСЯ РЕЛЬЕФ, НЕДРА, КЛИМАТ
, ВОДНЫЙ РЕЖИМ И ЖИВАЯ ПРИРОДА



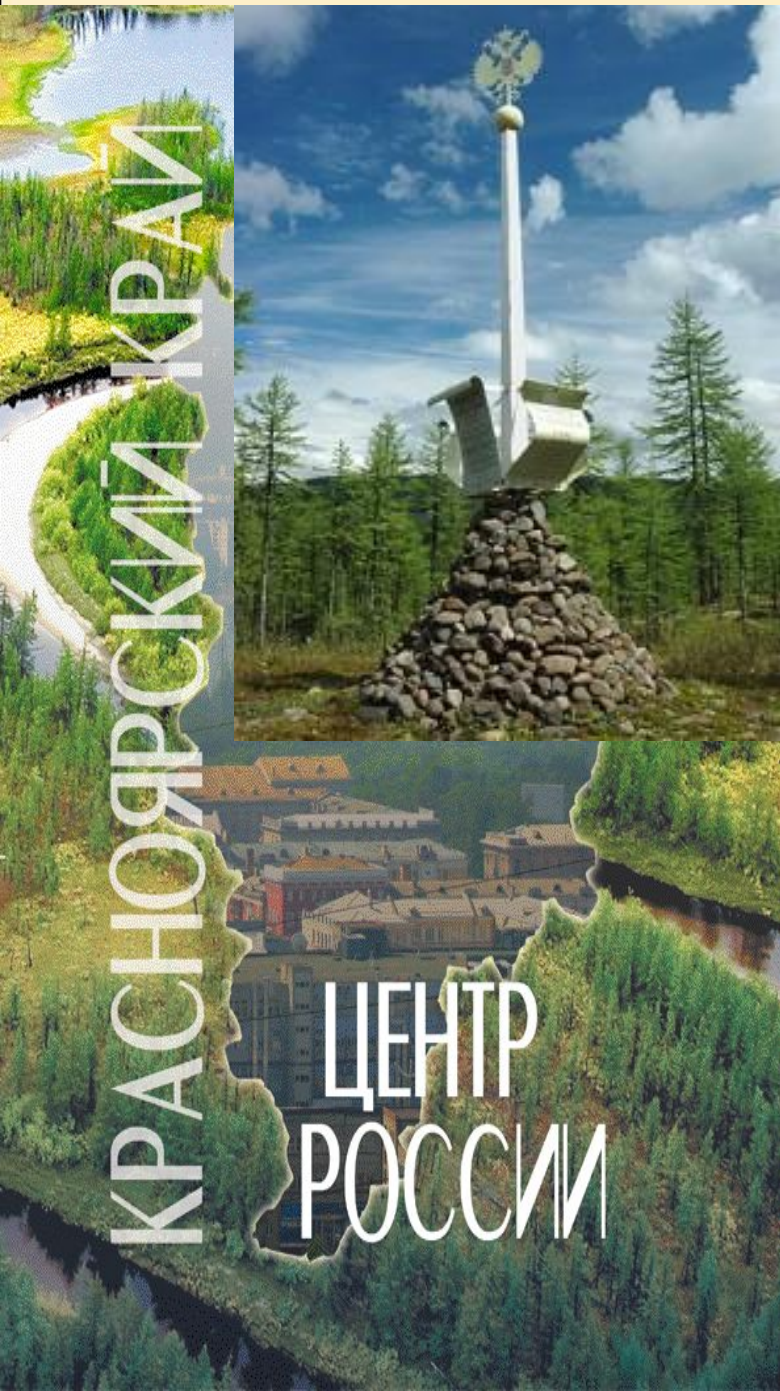
Заповедник «Столбы»
Красноярский край



Тайга



Тайга



Озеро Виви



Якутия

НЕТ ШИРОТНЫХ АВТОМОБИЛЬНЫХ КАЧЕСТВЕННЫХ МАГИСТРАЛЕЙ

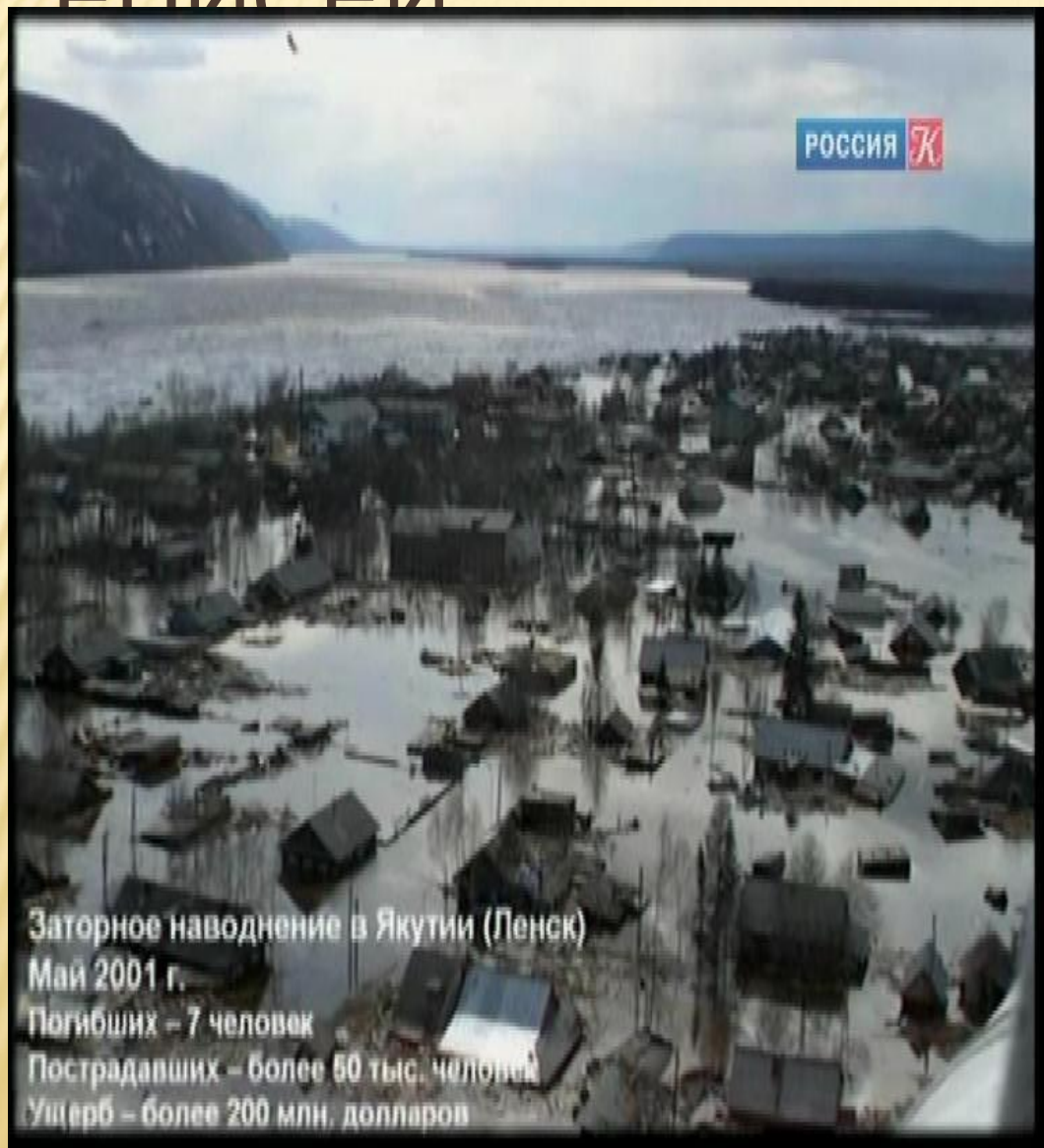


ТРАССЫ ПО ЗАМЕРШИМ РЕКАМ ЯВЛЯЮТСЯ СОВРЕМЕННЫМ ТРАНСПОРТНЫМ ПУТЁМ.

Зимники



ПОЛОВОДЬЕ НА РЕКАХ ЛЕНА И ЕНИСЕЙ



ЗНАЧЕНИЕ РЕК

Саяно-Шушенская ГЭС



Красноярская ГЭС



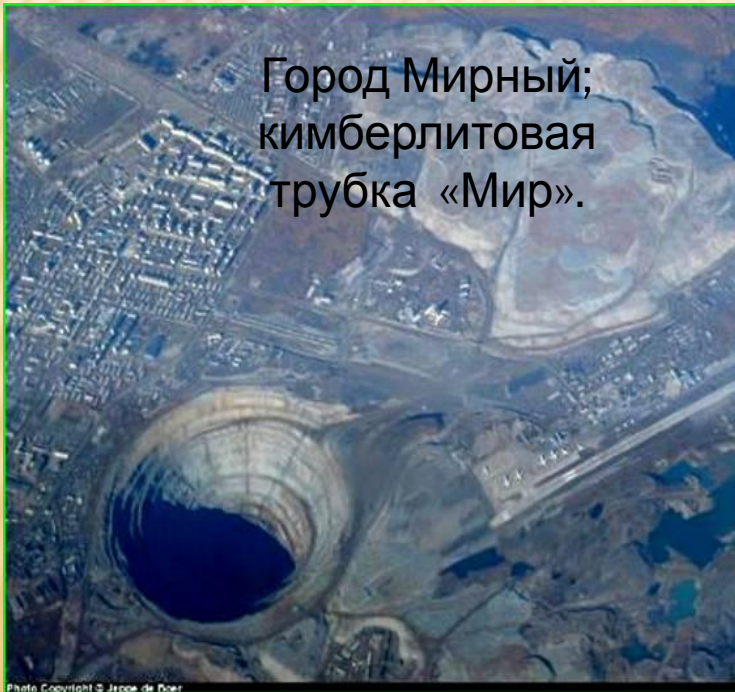
ВСЕ
АНГАРСКИЙ

igorov.photocolor.ru

Город Норильск



Город Мирный;
кимберлитовая
трубка «Мир».



ГЕОПОЛИТИЧЕСКОЕ ПОЛОЖЕНИЕ РАЙОНА

1. Прочитать стр. 216 и заполнить таблицу

Знал	Новая информация	Думал иначе

2. **Вопрос:** *Какие факторы повлияли на формирование района Север Восточной Сибири?*

3. Составить синквейн.

ДОМАШНЕЕ ЗАДАНИЕ

- 1.Изучить п.51.
- 2.На контурной карте отметить состав района и подписать моря, омывающие район.