

# Австралия.



1	2	3	4	5
6	7	8	9	10

1	2	3	4	5
6	7	8	9	10

# Гео-био-лото.

# Правила игры

# 1 команда

1	2	3	4	5
6	7	8	9	10



# 2 команда

1	2	3	4	5
6	7	8	9	10

ВЫХОД

Закончить игру

# Вопрос № 1.

3 балла



**единственным  
лекопитающим  
живущих в  
ралии?**



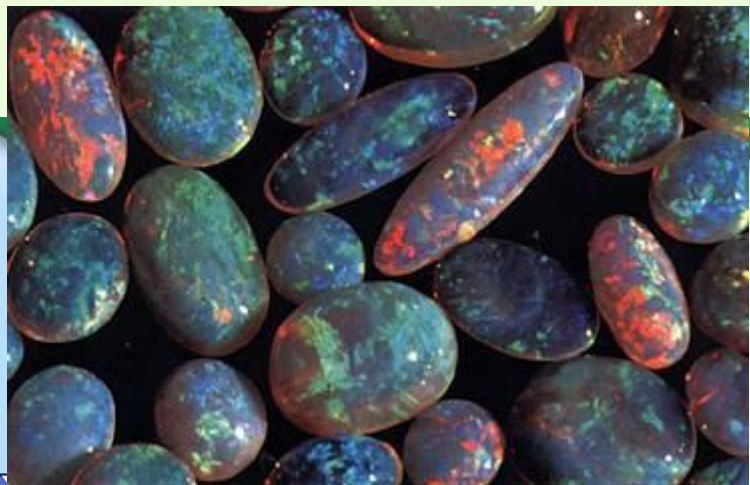
**УТКОНОС** (у самцов  
ядовитые шпоры на задних  
ногах, 1,2—1,5 см)



# Вопрос № 2.

2 балла

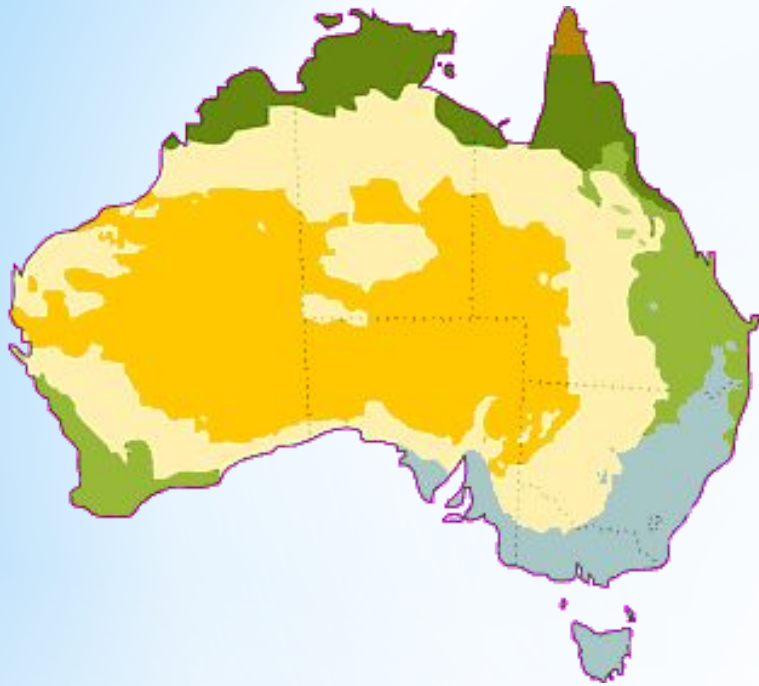
Австралия славится своими драгоценными камнями. Здесь был найден самый большой в мире сапфир весом 460 г. Но особую славу континенту принесли месторождения другого минерала, которого здесь около 90% мировых запасов. Назовите этот минерал.



**Опал.**

# Вопрос № 3.

2 балла



Перечислите типы климата, формирующиеся на территории Австралии.

**Субэкваториальный, тропический влажный, тропический пустынный, субтропический влажный, субтропический континентальный, субтропический средиземноморский.**



# Вопрос № 4.

2 балла

**Австралию иногда называют страной «наоборот». Прокомментируйте это высказывание.**

Из-за расположения континента в **Южном полушарии** декабрь-февраль это летние месяцы, а июнь-август зимние.  
Чем южнее, тем холоднее.



# Вопрос № 5.

2 балла

Как

ГО

АВ



МЫ

бе

у?

Страус эму , кенгуру, золотистая акация(мимоза).  
По распространённому мнению кенгуру и страус эму не  
могут ходить назад. Именно поэтому эти животные  
изображены на гербе Австралии как символ движения  
вперёд, прогресса.



ВЫХОД



# Вопрос № 6.

2 балла

В 1  
ф  
н  
н  
раз  
чис



ский  
ть  
на  
и  
ной  
нию


Назовите этого животного-вредителя.

**Кролики.**



# Вопрос № 7.

2 балла



**Что изображено на  
государственном  
флаге  
Австралийского  
Союза?**

- В левой верхней четверти изображён британский флаг.
- Кроме того, на флаге Австралии находится изображение шести белых звёзд: 5 звёзд в виде созвездия Южного Креста в правой части полотнища и 1 большая звезда в центре левой нижней четверти.



# Вопрос № 8.

2 балла



турное  
в городе  
нает  
громных  
енных одна  
о чудо  
туры.

**Оперный театр.**



# Вопрос № 9.

2 балла



птица  
ине  
о из  
имеет  
о в  
ова».

**Казуар .**



# Вопрос № 10.

2 балла



**Кто здесь лишний и почему?**

**Панда.  
Обитает в Китае.**

ВЫХОД



2 балла

гены?



**Коренное население Австралии.**

Для охоты на крупных животных, например, кенгуру. Невозвращающиеся бумеранги изогнуты в меньшей степени и больше размером (до метра длиной), а бросают их почти горизонтально. При правильной броске такой бумеранг летит параллельно земле до 200 метров.



## Вопрос №2

**Самая низкая и самая высокая точки Австралии .**

Озеро Эйр.  
Гора Косцюшко.



# Вопрос №3

3 балла



к  
ие  
чая  
ОГО  
кас  
ОВЬ  
ь е



**Тасманийский  
дьявол**





## Вопрос №4

Какой город является столицей  
Австралийского Союза?  
Назовите тип административно-  
территориального устройства  
государства.

**Канберра.  
Федерация.**



## Вопрос №5

Птица, изображённая на



Гордостью.

# Лирохвост



## Вопрос №6

**Назовите самую многоводную речную систему Австралии. Где они берут начало? Куда впадают? Как называют периодически пересыхающие реки Австралии?**

**Муррей-Дарлинг.  
Большой Водораздельный хребет.  
Индийский океан.  
Крики.**



## Вопрос №7.

2 балла

Площадь этого государства, расположенного на Северном и Южном Островах равна 269 тыс. кв. км. Острова разделены проливом, названным именем великого английского мореплавателя 18 в. совершившего 3 кругосветных плавания. На Южном острове возвышается гора высотой 3756 м., также носящая имя этого мореплавателя. Назовите мореплавателя, государство, гору, пролив, столицу страны

*Новая Зеландия, столица  
Веллингтон.*

*Джеймс Кук, Пролив и гора Кука*



2 балла

## Вопрос №8

Какие заливы и моря  
**не** омывают  
Австралию?

- 1-Тиморское море
- 2-Китайское море
- 3-Арафурское море
- 4-Саргассово море
- 5-Тасманово море
- 6-Залив  
Карпентария
- 7-Персидский залив
- 8-Эгейское море
- 9-Селебское море
- 10-Коралловое  
море
- 11-Большой  
Австралийский  
залив

**Китайское море,  
Саргассово море,  
Персидский залив,  
Эгейское море,  
Селебское море**



## Вопрос №9

**Правильно укажите  
координаты  
МЫСОВ**



Мыс Йорк	39° ю.ш.	146° в.д.
Мыс Стип-Пойнт	28° ю.ш.	153° в.д.
Мыс Саут Ист-Пойнт	10° ю.ш.	142° в.д.
Мыс Байрон	26° ю.ш.	113° в.д.

Мыс Йорк	10° ю.ш.	142° в.д.
Мыс Стип-Пойнт	26° ю.ш.	113° в.д.
Мыс Саут Ист-Пойнт	39° ю.ш.	146° в.д.
Мыс Байрон	28° ю.ш.	153° в.д.



2 балла

## Вопрос №10



Языка  
оригенов  
ивотного  
ощий".

**Коала**



Спасибо за урок!

ВЫХОД