

# *УРОК 3.*

*Карты материков и  
океанов.*

## *Начнем с проверки домашнего задания!*


- 1. Он привел испанские корабли к неизвестным землям за Атлантическим океаном.*
- 2. Он через Персию и Аравийское море достиг Индии.*
- 3. Он дал название науке «география».*
- 4. Он открыл восточные берега Австралии, Новую Зеландию, Новую Гвинею и ряд других островов.*




5. Великий русский ученый, разработал проект «проход Сибирским океаном в восточную Индию».
6. Семья венецианских купцов, путешествовали в азиатские земли.
7. Древнегреческий философ, первым пришел к выводу, что Земля должна иметь форму шара.
8. Совершил первое кругосветное путешествие.




# Проверим?!

1. Он привел испанские корабли к неизвестным землям за Атлантическим океаном. 

2. Он через Персию и Аравийское море достиг Индии. 

3. Он дал название науке «география». 

4. Он открыл восточные берега Австралии, Новую Зеландию, Новую Гвинею и ряд других островов. 

5. Великий русский ученый, разработал проект «проход Сибирским океаном в восточную Индию».




6. Семья венецианских купцов, путешествовали в азиатские земли.



7. Древнегреческий философ, первым пришел к выводу, что Земля должна иметь форму шара.



8. Совершил первое кругосветное путешествие.



A dark blue spiral-bound notebook is shown at an angle. A yellow sticky note is attached to the cover, featuring a light blue horizontal line and two red vertical lines on the left side. The text on the note is in a blue, italicized serif font.

*Карты материков и  
океанов.*

## **ДАВАЙТЕ ВСПОМНИМ:**

1. *Что такое географическая карта?*
2. *Чем она отличается от плана местности?*
3. *Что такое масштаб карты?*
4. *Какие измерительные работы вы проводили по карте?*

- *Карта (от греч. - лист) - уменьшенное обобщенное изображение поверхности земли на плоскости с помощью условных обозначений.*

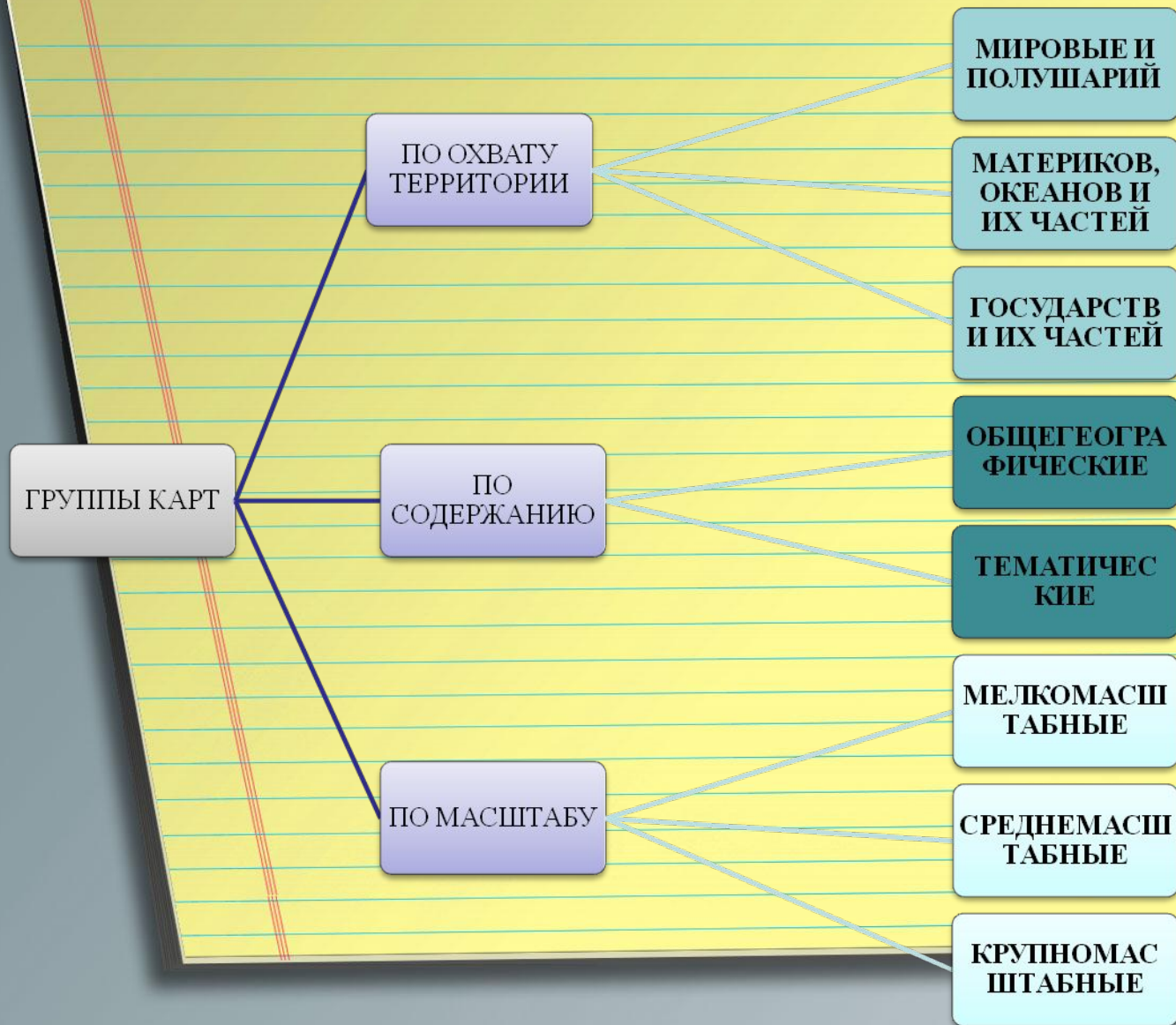




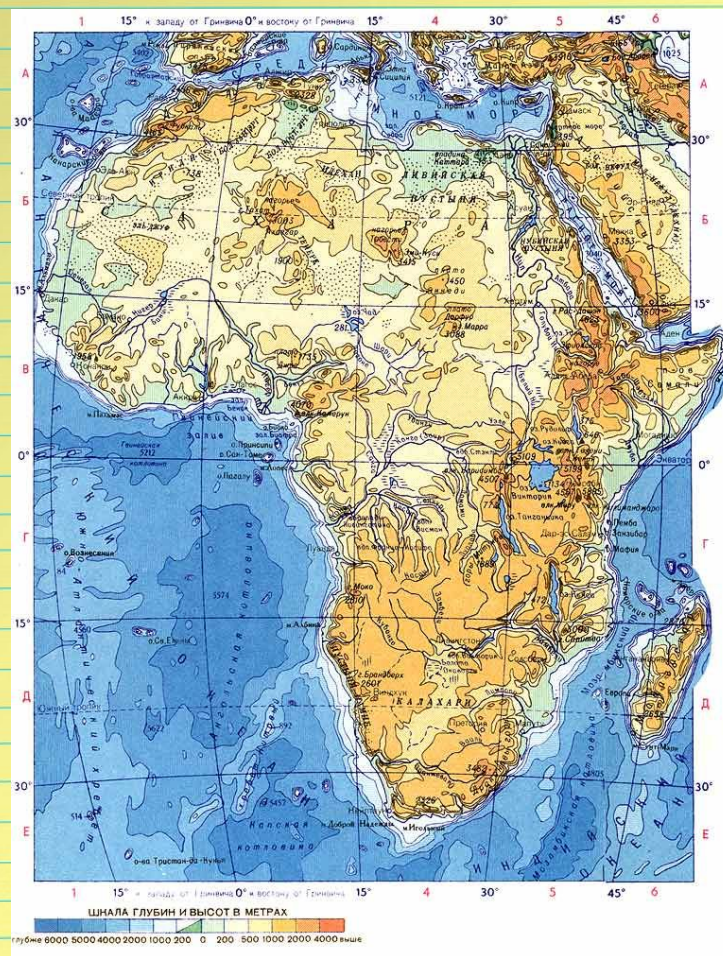


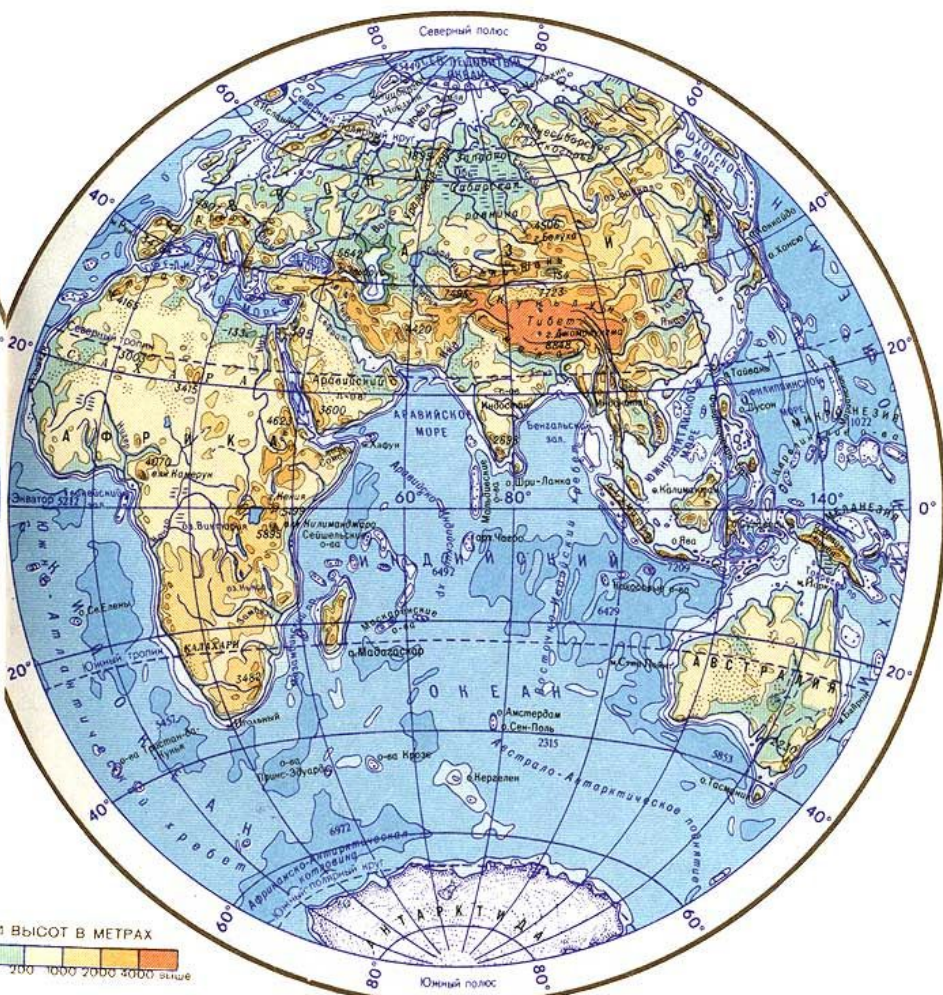
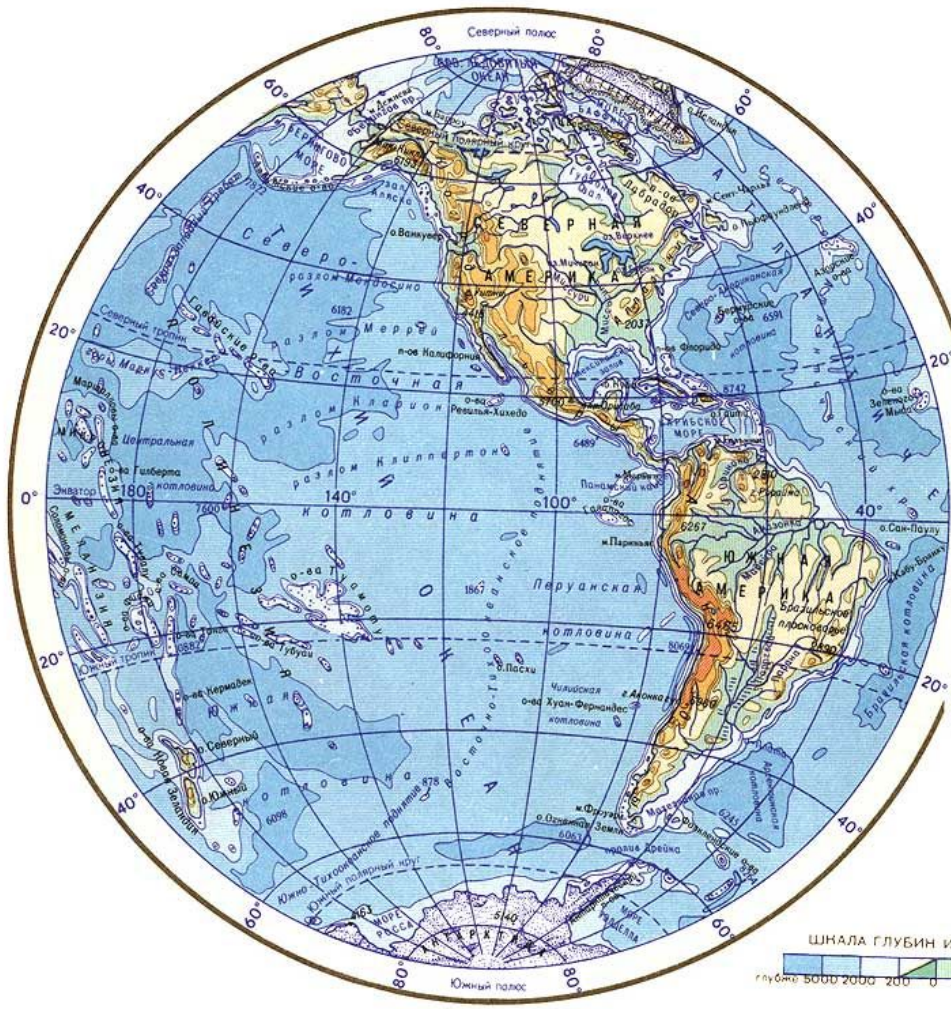


# РАЗЛИЧИЕ КАРТ



*Пользуясь схемой, дайте характеристику карты:*





ШКАЛА ГЛУБИН И ВЫСОТ В МЕТРАХ

глубже 5000	2000	200	0	200	1000	2000	3000	выше
-------------	------	-----	---	-----	------	------	------	------







## *Домашнее задание*

- *§ 3, стр.17-20*
- *Подготовка к практической работе*

# elements

*www.animationfactory.com*

