

Геометрия 7 класс

ТЕСТ

по теме «Параллельные прямые»

учитель математики МОУ СОШ №11
г. Орехово-Зуево
Московская область
Клюшкина Елена Ивановна



Вопрос 1



n

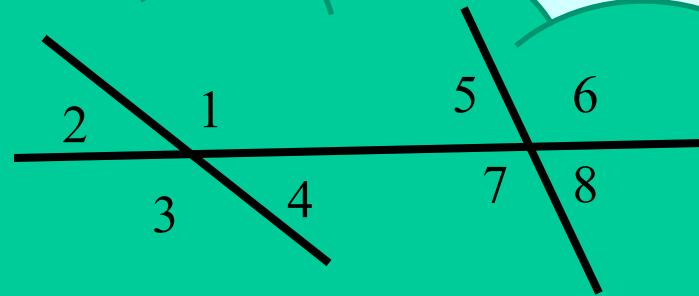
k

m

m или n



Вопрос 2



Для угла 1 односторонним
будет угол ...

2

5

6

7



Вопрос 3



односторонними

соответственными

накрест лежащими

смежными



Вопрос 4

Дан треугольник MNK . Через вершину M провести прямых, параллельных прямой NK ...

можно 1

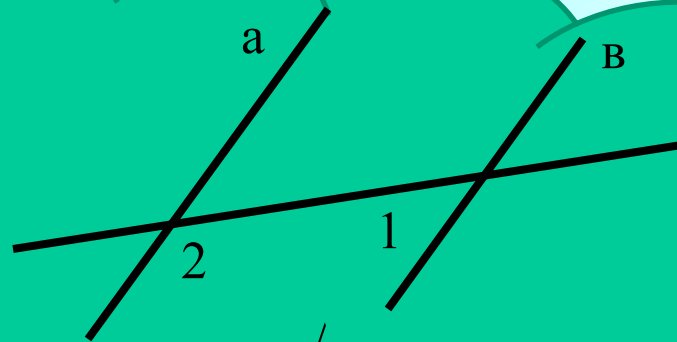
можно 2

нельзя ни одной

можно бесконечное множество



Вопрос 5



На рисунке $\angle 1 = 47^\circ$. Прямые а и в будут параллельными если $\angle 2$ равен

47°

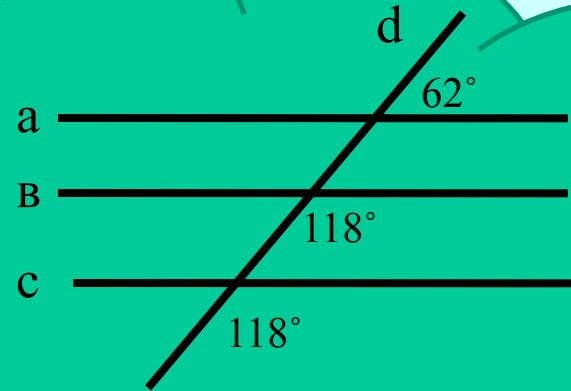
47° или 133°

43°

133°



Вопрос 6



а и в

в и с

а и в и с

а и с

На рисунке прямые а, в и с пересечены секущей d. Параллельными прямыми будут прямые



Правильных ответов:

ВЫХО

Д

В начало

Литература

Фарков А.В. Тесты по геометрии: 7 класс к учебнику А.С. Атанасяна и др. «Геометрия 7-9»-М.:Издательство «Экзамен», 2010

Использован шаблон теста с сайта:

http://www.it-n.ru/profil.aspx?cat_no=692&d_no=9658