


Устный счёт на уроке математики в 1 классе

Prezentacii.com

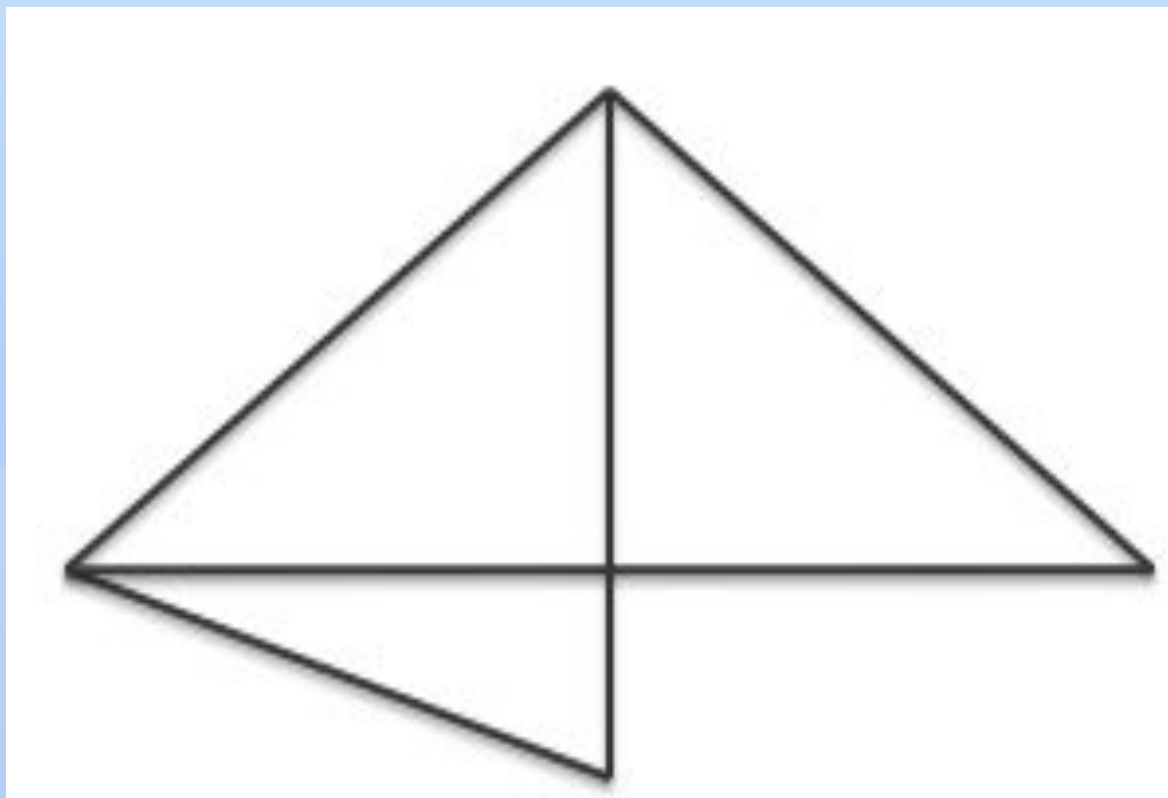


Сколько здесь чисел, которые
меньше **6**, но больше **2**?



Сколько здесь
треугольников?

5



Вставь пропущенные знаки
действий «+» или «-»

$$5 \square - 4 \square + 3 \square - 2 \square + 1 = 3$$

Реши задачу



**В коробке 2 синих карандаша,
по столько же красных и
зелёных
Сколько карандашей в коробке?**

6

Реши логическую задачу

Три котёнка- Касьянка, Том и Плут поймали плотвичку, окуня и карася. Касьянка не поймал ни плотвичку, ни окуня. Том не поймал плотвичку. Какую рыбку поймал каждый котёнок?



Ответ

- Касьянка съел карася
- Том съел окуня
- Плут съел плотвичку



Задача на смекалку
Лежали конфеты в кучке.


**Две матери, две дочери да
бабушка с внучкой взяли
конфет по одной штучке, и
не стало этой кучки.**

**Сколько конфет
было
в кучке?**

3



Разгадай ритм и продолжи



Спасибо за работу

Подготовила Косилова Е.А.
Учитель начальных классов

Самарский Лицей
Информационных технологий