



# **«Правовые основы правил жизни сообщества»**

**(9 класс)**

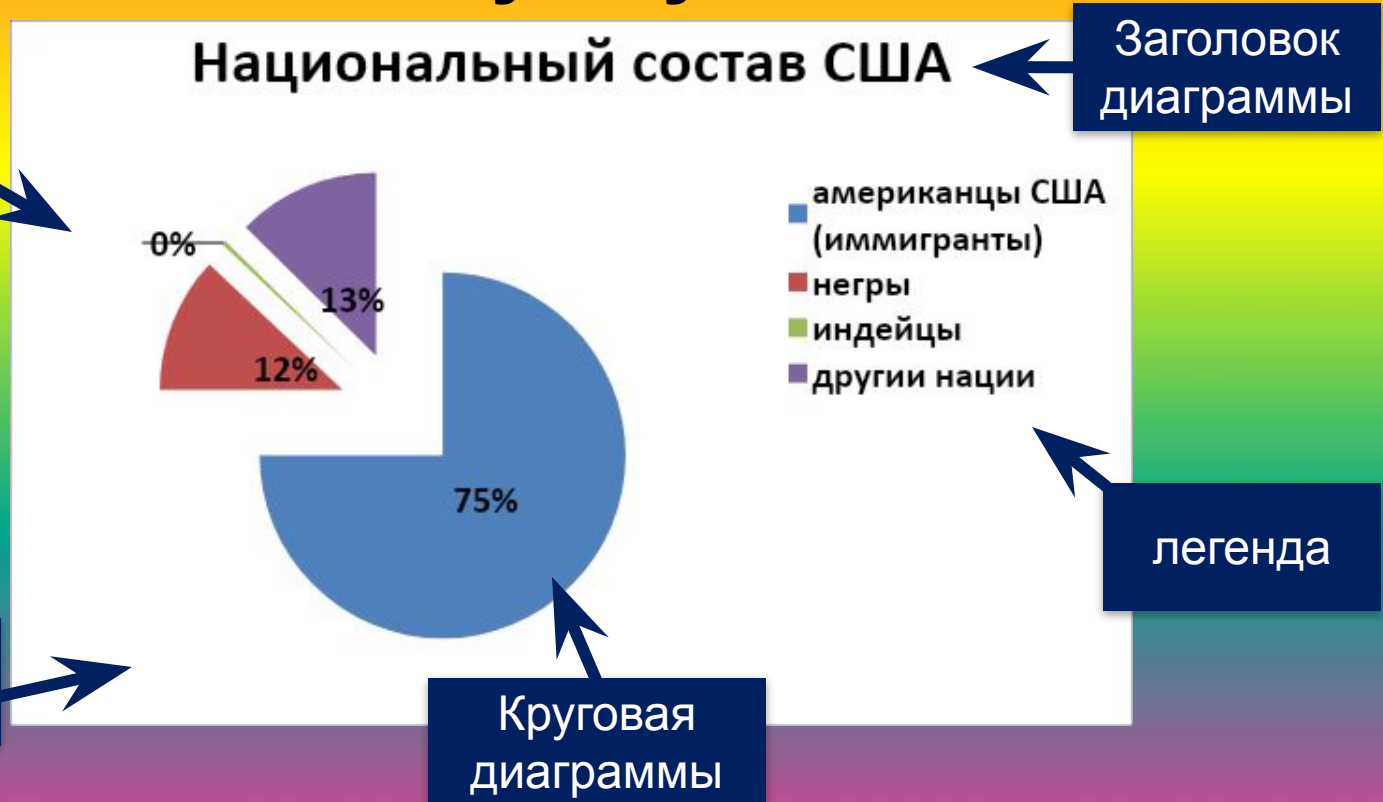
Правила жизни  
сообща

```
graph TD; A[Правила жизни сообщества] --- B[Моральные нормы]; A --- C[Правовые нормы]
```

Моральные  
нормы

Правовые  
нормы

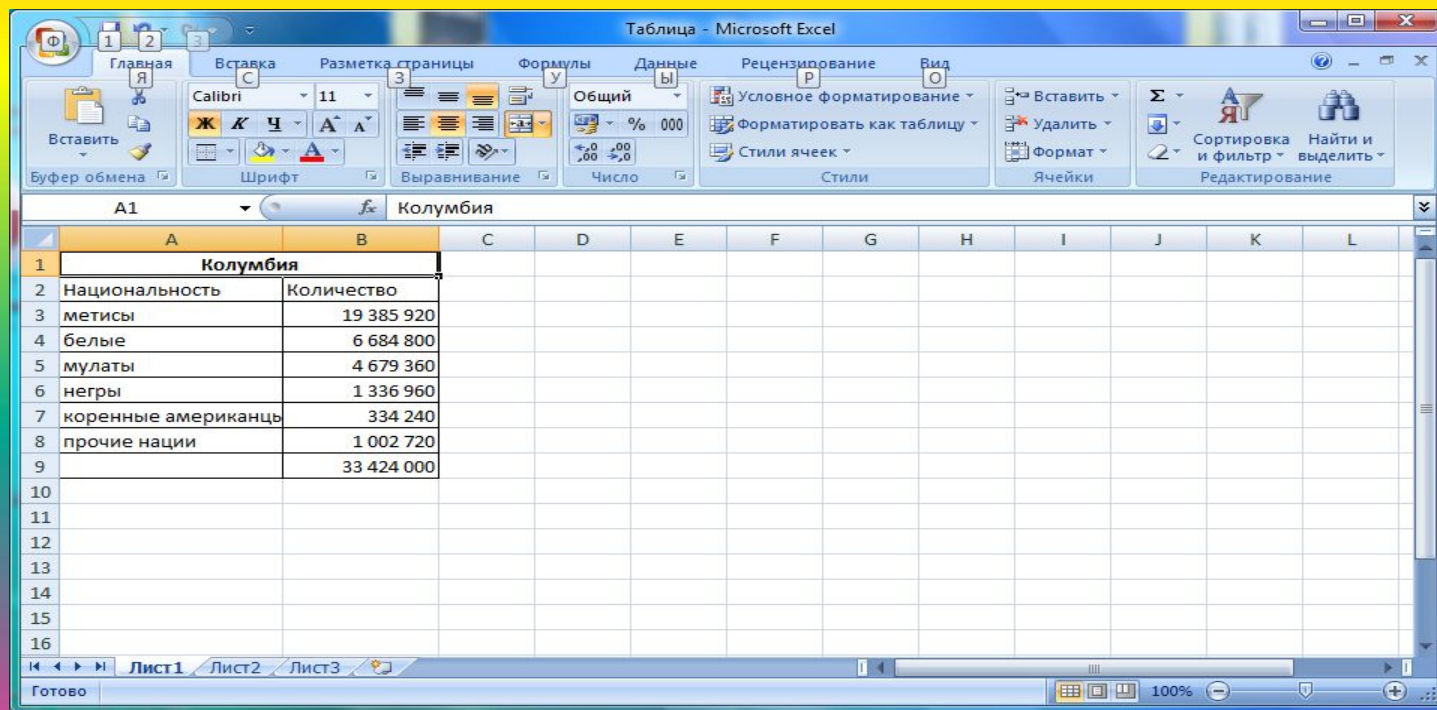
**Круговая диаграмма -  
это диаграмма, которая отображает  
вклад каждого значения в общую  
сумму.**



# Этапы построения круговой диаграммы

## 1. Создайте таблицу с данными

(Мои документы – файл «Национальный состав»  
- Лист1 – таблица)

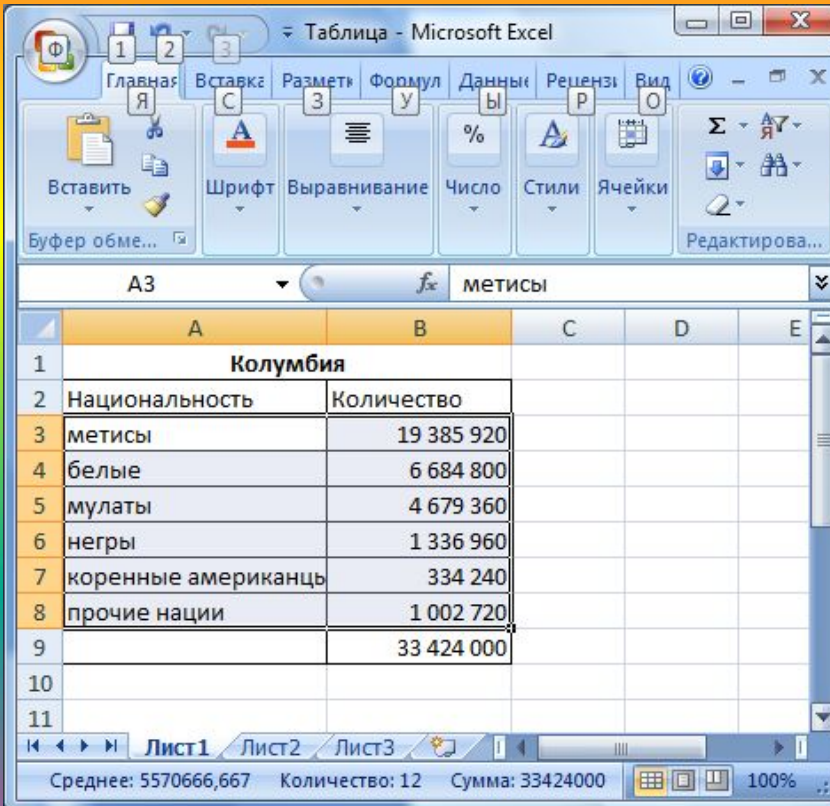


The screenshot shows the Microsoft Excel interface with a table titled "Колумбия" (Columbia) in the active cell A1. The table contains the following data:

Национальность	Количество
метисы	19 385 920
белые	6 684 800
мулаты	4 679 360
негры	1 336 960
коренные американцы	334 240
прочие нации	1 002 720
	33 424 000

# Этапы построения круговой диаграммы

## 2. Выделите данные для построения диаграммы



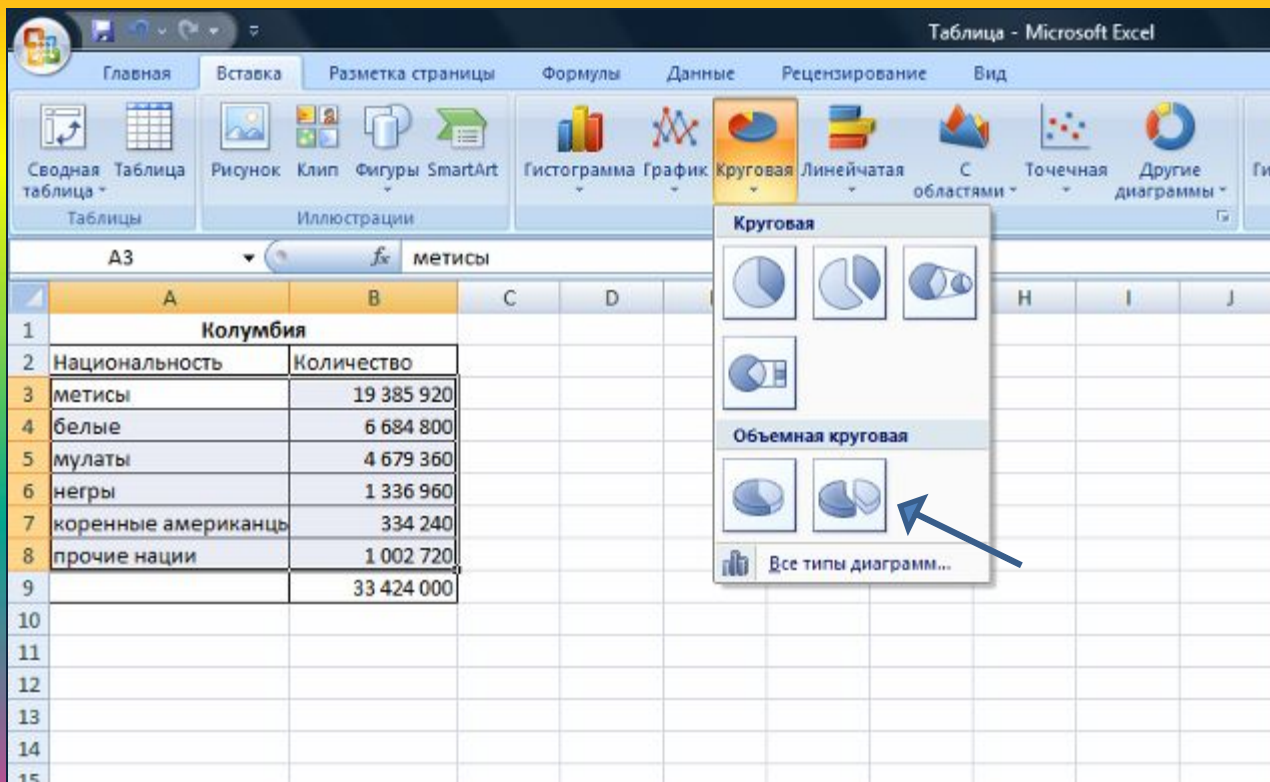
The screenshot shows a Microsoft Excel spreadsheet with the following data:

	А	В	С	Д	Е
1	Колумбия				
2	Национальность	Количество			
3	метисы	19 385 920			
4	белые	6 684 800			
5	мулаты	4 679 360			
6	негры	1 336 960			
7	коренные американцы	334 240			
8	прочие нации	1 002 720			
9		33 424 000			
10					
11					

At the bottom of the spreadsheet, the status bar shows: Среднее: 5570666,667    Количество: 12    Сумма: 33424000    100%

# Этапы построения круговой диаграммы

## 3. Зайдите в меню Вставка – Диаграмма – Круговая

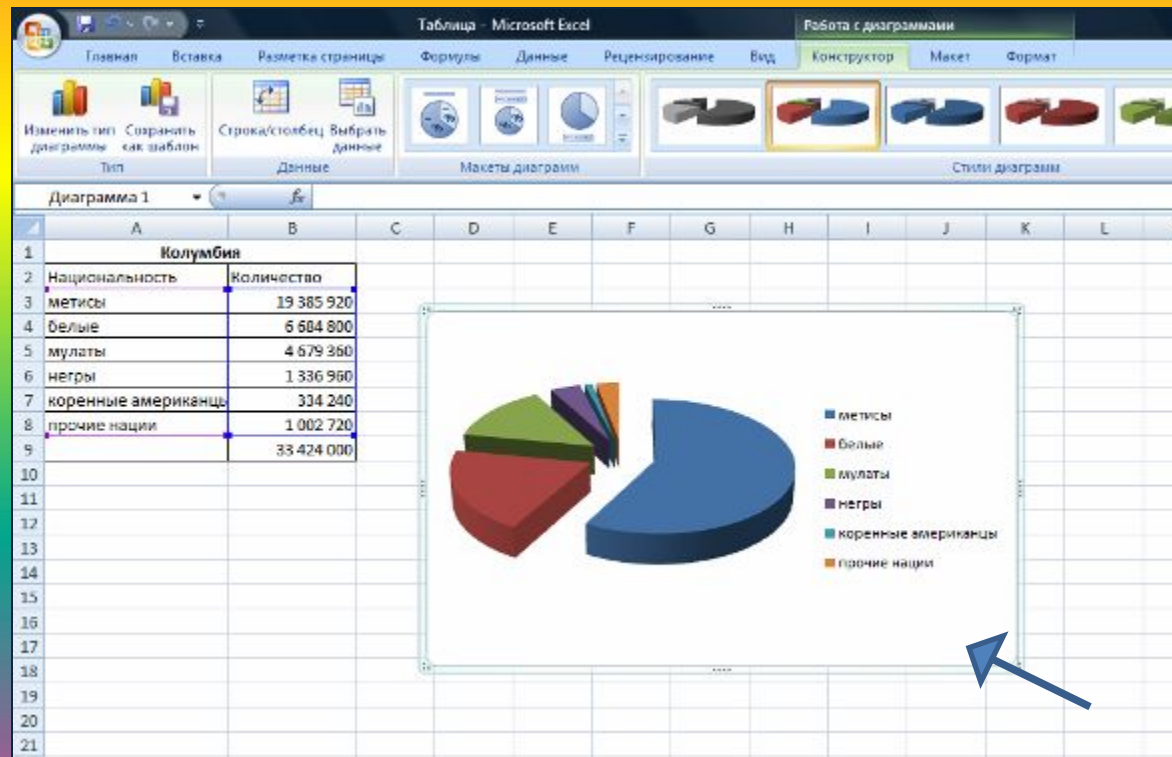


The screenshot shows the Microsoft Excel interface with the 'Вставка' (Insert) ribbon selected. The 'Диаграмма' (Chart) group is active, and the 'Круговая' (Circular) chart type is chosen. A dropdown menu is open, showing various circular chart options. A blue arrow points to the 'Объемная круговая' (3D Circular) chart type.

Колумбия	
Национальность	Количество
метисы	19 385 920
белые	6 684 800
мулаты	4 679 360
негры	1 336 960
коренные американцы	334 240
прочие нации	1 002 720
	33 424 000

# Этапы построения круговой диаграммы

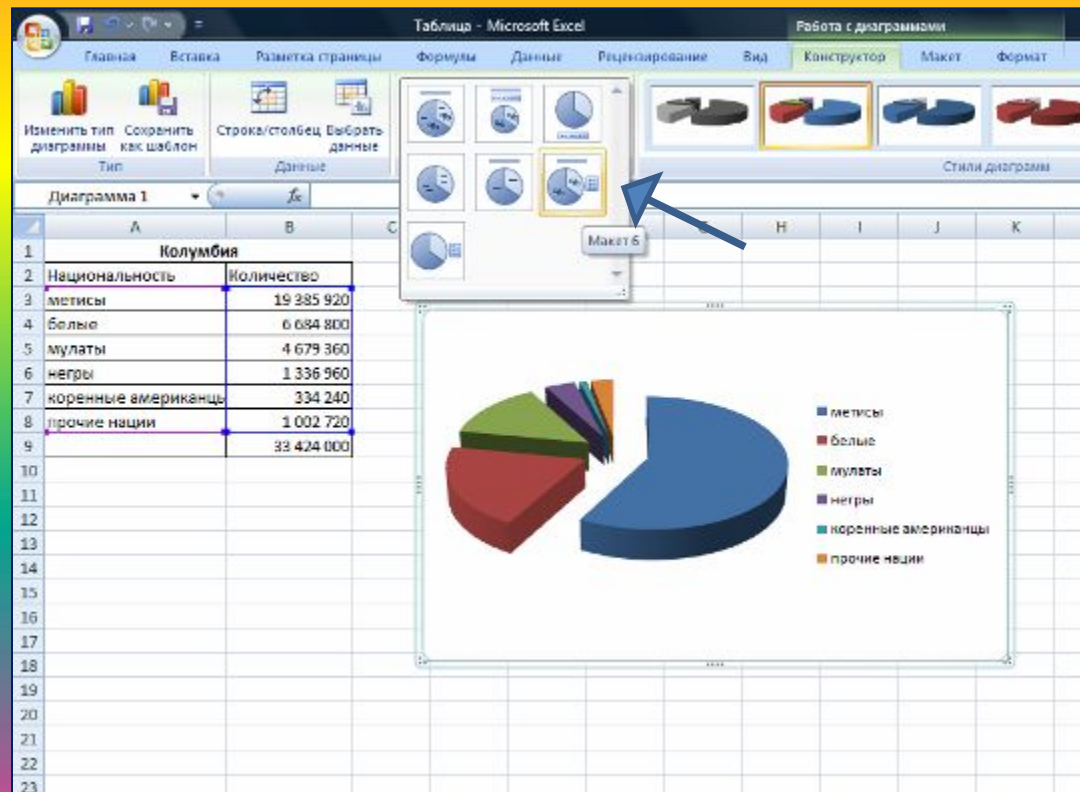
## 4. Выберите объемную диаграмму и постройте ее





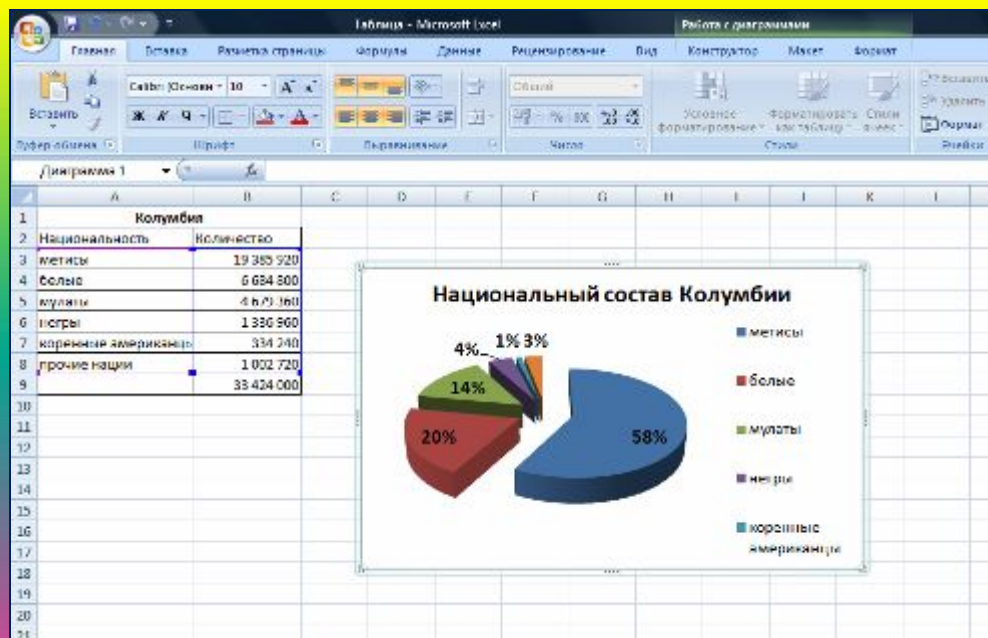
# Этапы построения круговой диаграммы

## 5. Выберите макет диаграммы с легендой и названием



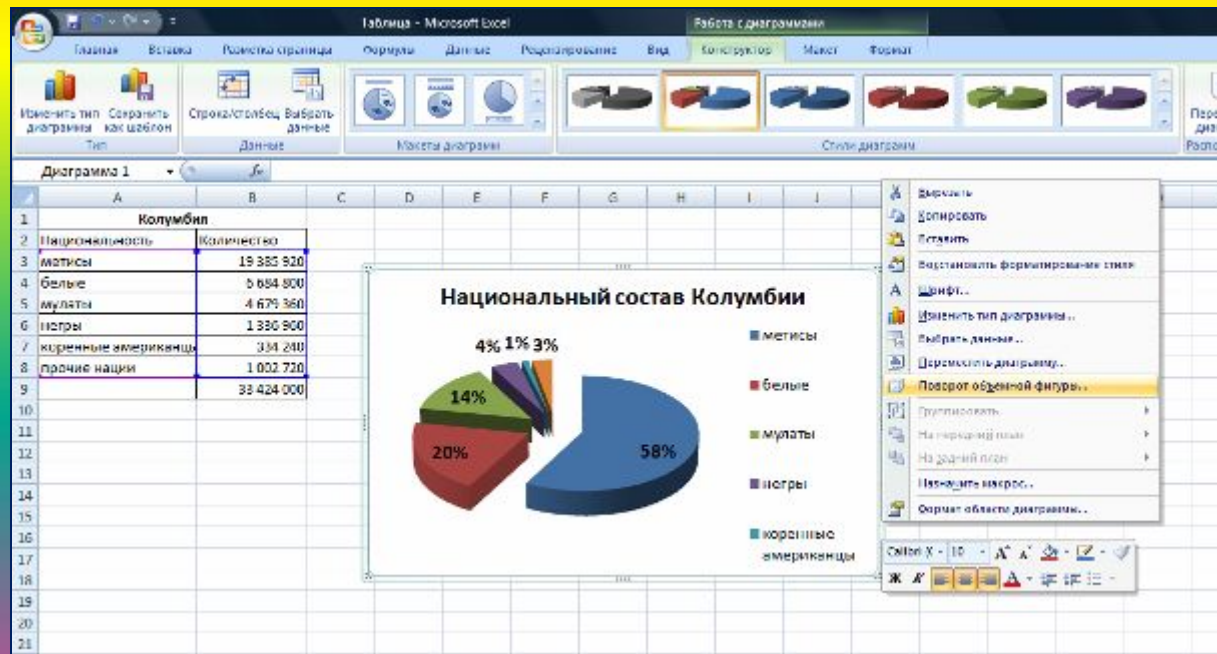
# Этапы построения круговой диаграммы

6. Задайте название диаграммы
7. Выделите доли и измените шрифт
8. Измените размер шрифта легенды



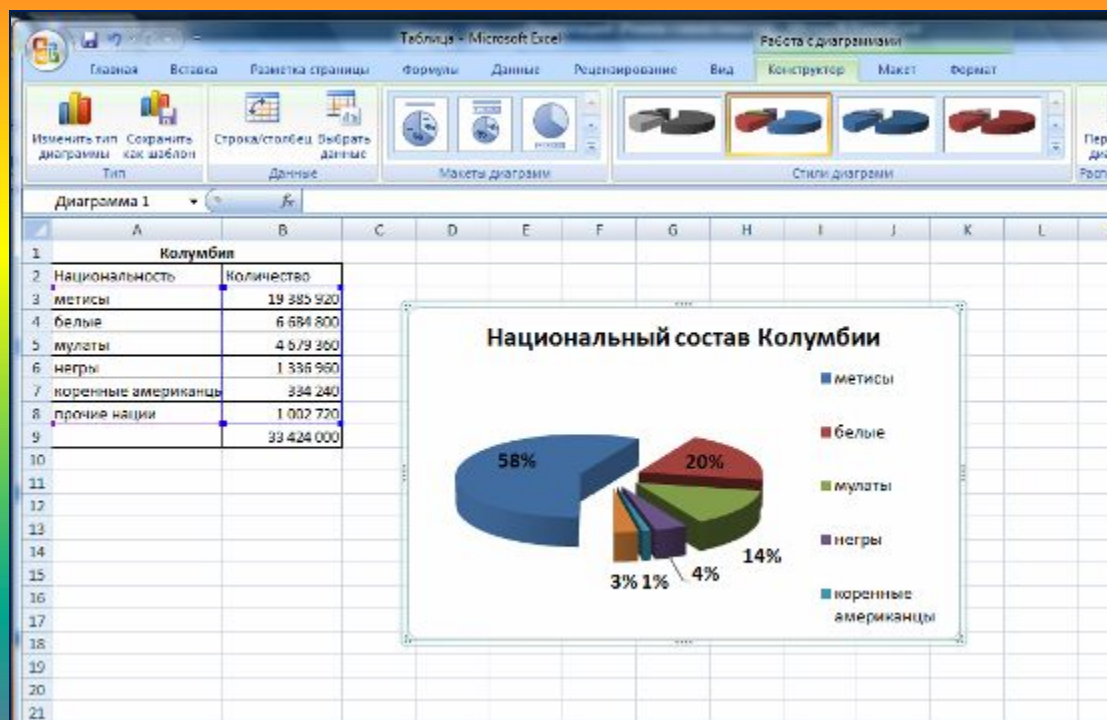
# Этапы построения круговой диаграммы

9. В контекстном меню выберите - Поворот объемной фигуры – измените положение диаграммы



# Этапы построения круговой диаграммы

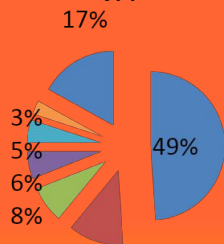
## 10. Сохраните файл



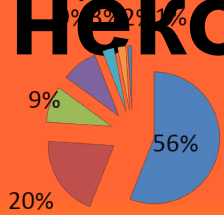
## 11. Постройте диаграмму по данным на Листе2 (название страны в раздаточных материалах)

# Национальный состав некоторых стран

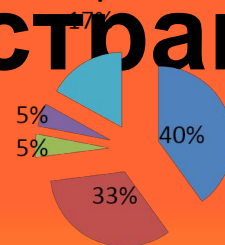
**Судан**



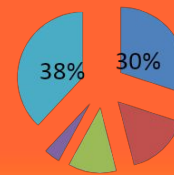
**Афганистан**



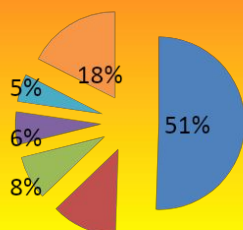
**Эфиопия**



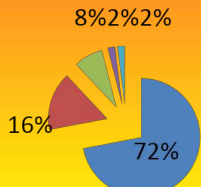
**Республика Индонезия**



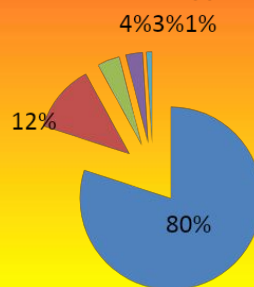
**Кения**



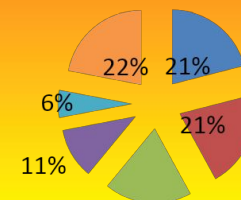
**Испания**



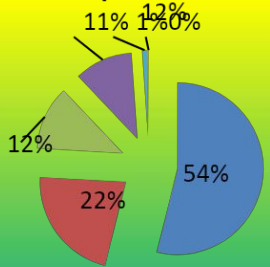
**Таиланд**



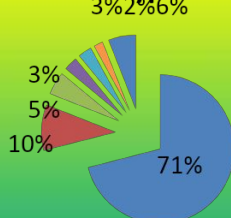
**Нигерия**



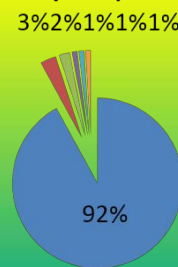
**Бразилия**



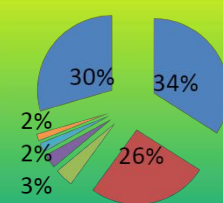
**Люксембург**



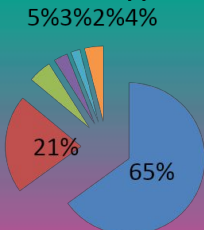
**Франция**



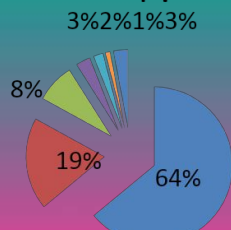
**Канада**



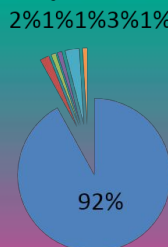
**Македония**



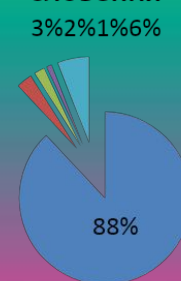
**Швейцария**



**Германия**



**Словения**



# Декларация принципов толерантности, утвержденная ЮНЕСКО 16.11.1995 года

- <http://www.unesco.ru>
- <http://www.tolerance.ru/index.html>

## Вопрос

1. Членами какой организации принята Декларация принципов толерантности?

В Уставе какой международной организации записано: «Мы, народы Объединенных Наций, преисполненные решимости избавить грядущие поколения от бедствий войны... вновь утвердить веру в основные права человека, в достоинство и ценность человеческой личности... и в этих целях проявлять толерантность и жить вместе, в мире друг с другом, как добрые соседи»?

# Вопросы

2. В каком международном документе провозглашается, что "каждый человек имеет право на свободу мысли, совести и религии" (статья 18), "на свободу убеждений и на свободное выражение их" (статья 19) и что образование "должно содействовать взаимопониманию, терпимости и дружбе между всеми народами, расовыми и религиозными группами" (статья 26)?
3. На какие разделы подразделяется Декларация принципов толерантности?  
Найдите подтверждение того, что международная общественность постоянно обращается к вопросу о толерантности.
4. Выделите основные принципы толерантности. Когда отмечается Международный день, посвященный толерантности?
5. Почему проблема толерантности носит международный характер? С чего начинается воспитание толерантности?
6. Выделите основные Задачи государства:
7. Почему проблема толерантности носит международный характер? С чего начинается воспитание толерантности?

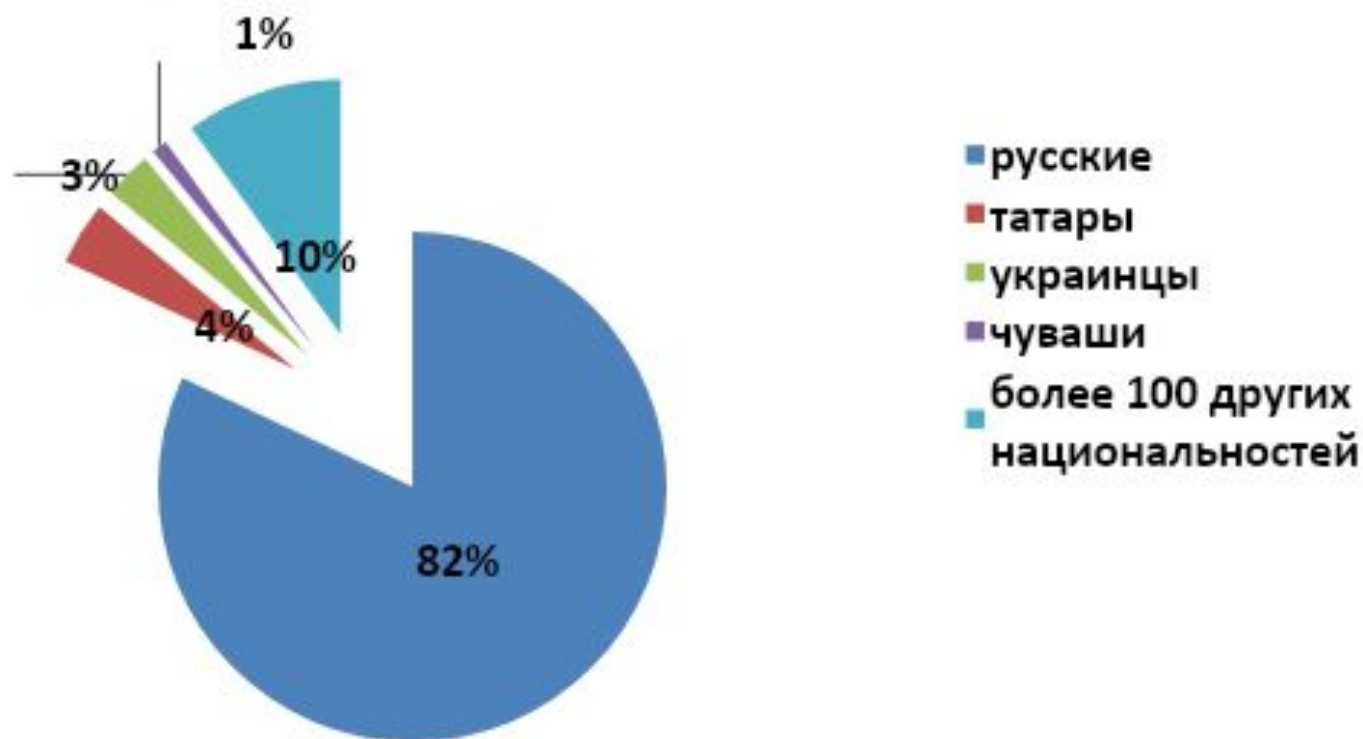
# Построение круговой диаграммы «Национальный состав России»

1. Откройте файл «Национальный состав»
2. (Мои документы – файл «Национальный состав» - Лист3 – таблица)
3. Выделите область с данными
4. Зайдите Вставка – Диаграмма – Круговая диаграмма
5. Выберите макет диаграммы с легендой и названием
6. Задайте название диаграммы и отформатируйте ее



# Круговая диаграмма «Национальный состав России»

Национальный состав России



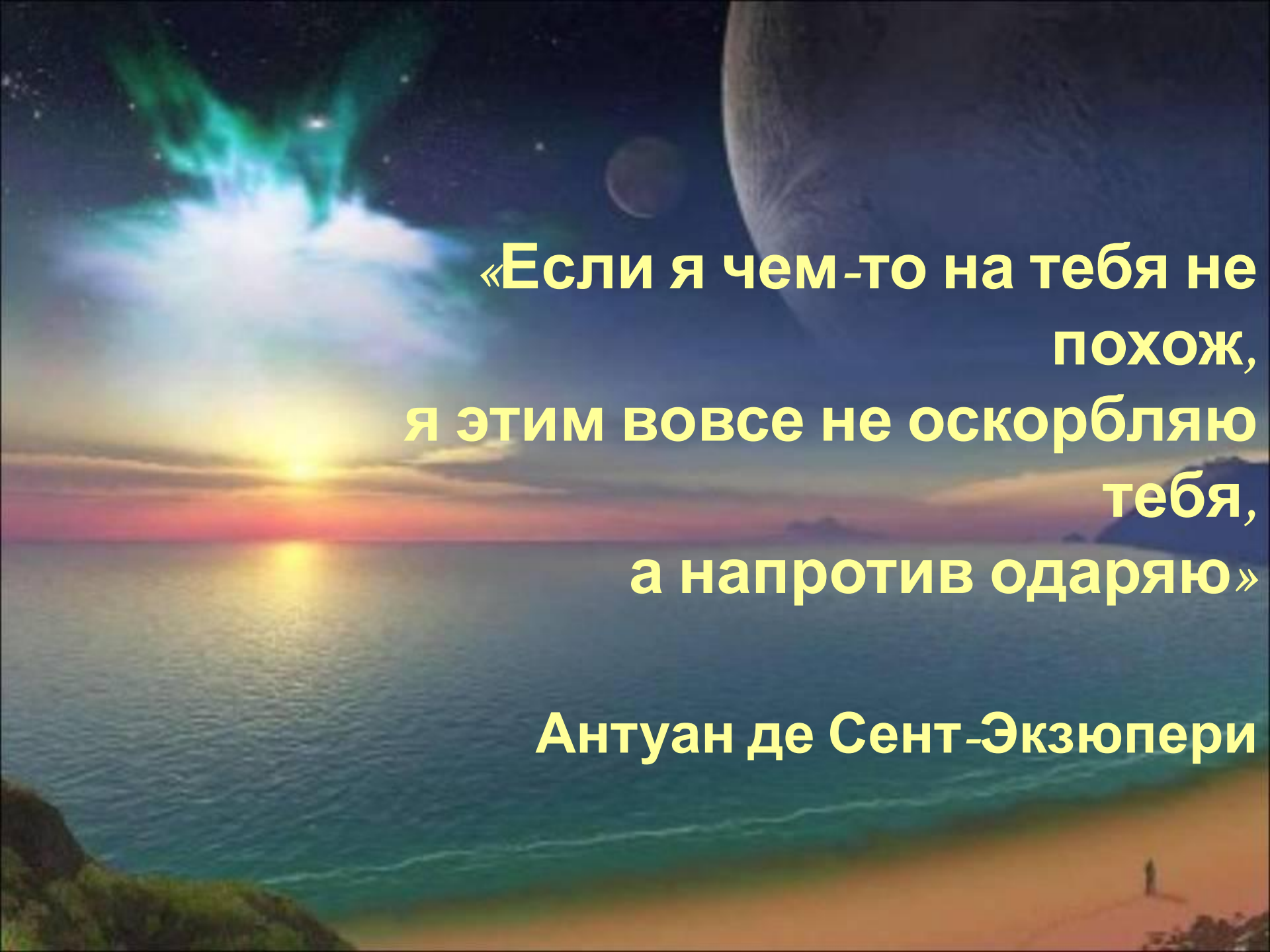
# Конституция РФ

- <http://www.constitution.ru/>

# Синквейн – это стихотворение, представляющее собой синтез информации в лаконичной форме.

*Это стихотворение, состоящее из пяти строк:*

- в первой строке заявляется тема или предмет (одно существительное);
- во второй дается описание предмета (два. прилагательных или причастия)
- в третьей, состоящей из трех глаголов, характеризуются действия предмета;
- в четвертой строке приводится фраза обычно из четырех значимых слов, выражающая отношение автора к предмету;
- в пятой строке - синоним, обобщающий или расширяющий смысл темы или предмета (одно слово).



**«Если я чем-то на тебя не  
похож,  
я ЭТИМ ВОВСЕ не оскорбляю  
тебя,  
а напротив одаряю»**

**Антуан де Сент-Экзюпери**