

© Казаков А.В. Учитель истории МОБУ СОШ №6
г. Гаврилов-Яма Ярославской области



РОССИЯ НА РУБЕЖЕ XVI-XVII ВЕКОВ

СМУТНОЕ ВРЕМЯ

1. Кто это?



А



Б



В



Г



2. Соотнесите даты и события.


	Дата		Событие
А	1597	1	Утверждение патриаршества
Б	1589	2	Лжедмитрий I вступает в Москву
В	1605	3	Подавление восстания И. Болотникова
Г	1607	4	Указ об урочных летах
Д	1610	5	«Земский собор» избирает царем Михаила Романова
Е	1612	6	Освобождение Москвы от поляков
Ж	1613	7	Начало «Семибоярщины»

3. Расположите правителей Руси по порядку их правления

- 1. Борис Годунов**
- 2. Иван IV**
- 3. Лжедмитрий II**
- 4. Василий Шуйский**
- 5. Михаил Романов**
- 6. Лжедмитрий I**
- 7. Фёдор I**


**4. Царская династия
Рюриковичей прервалась
со смертью:**

- А) Ивана IV**
- Б) Фёдора I**
- В) Царевича Дмитрия**
- Г) Бориса Годунова**



5. Царевич Дмитрий погиб в:

- А) Ростове
- Б) Ярославле
- В) Москве
- Г) Угличе



**6. В 1601-1603 годах в
России:**

А) была эпидемия чумы

Б) было наводнение


В) был голод

Г) было землетрясение



7. Настоящее имя Лжедмитрия I было:

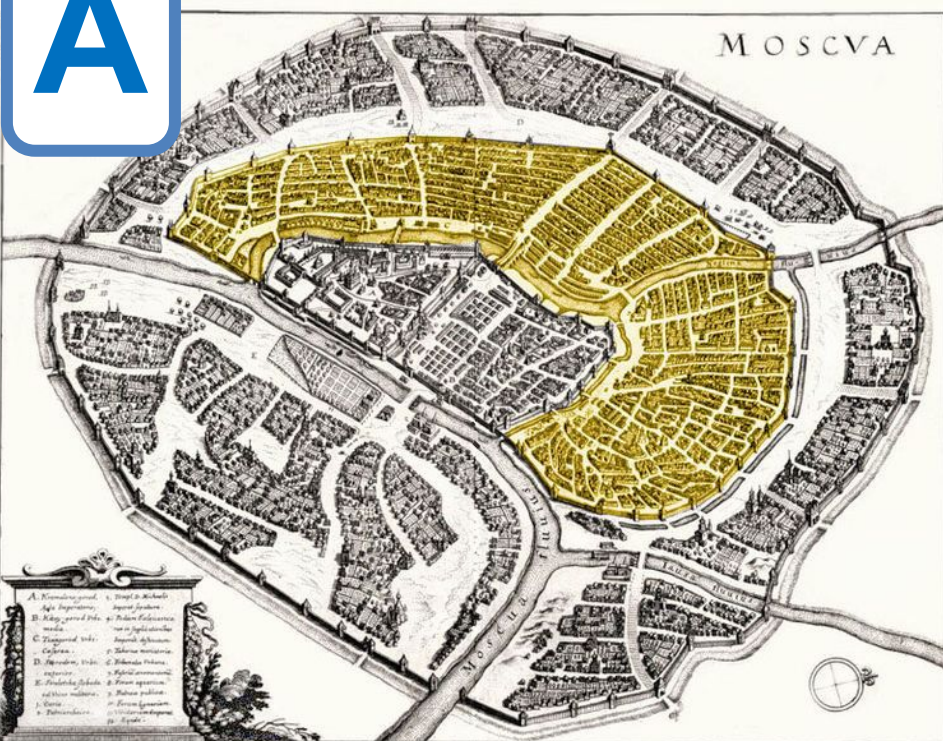
- А) Иван Басманов**
- Б) Ежи Мнишек**
- В) Григорий Отрепьев**
- Г) Иван Заруцкий**



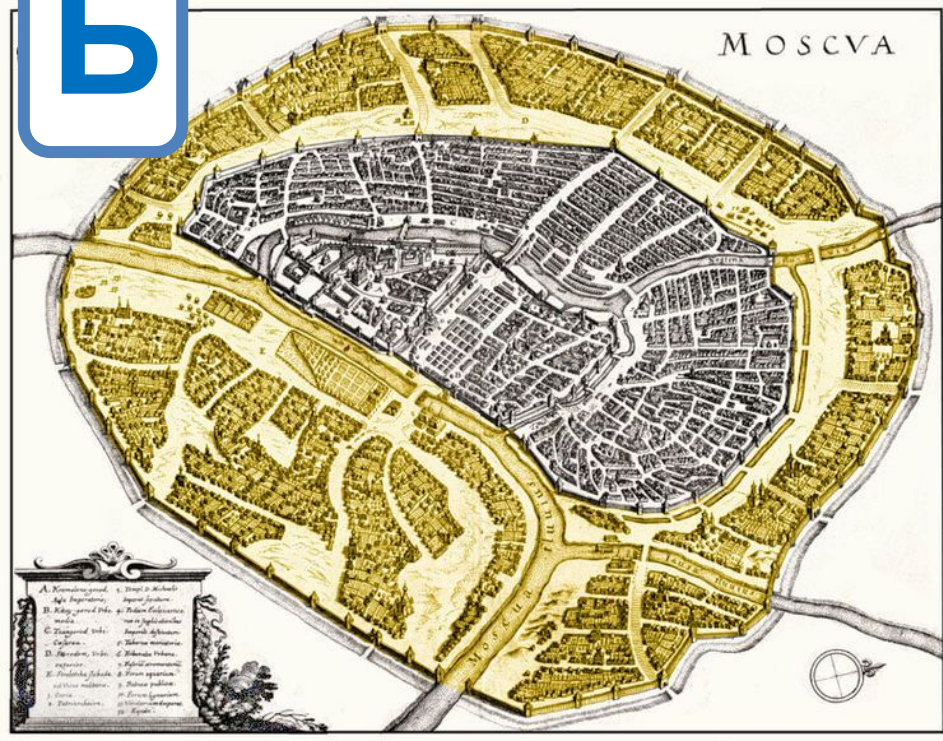
8. Как называются эти части Москвы?



А



Б



9. Второе ополчение в период Смутного времени было создано под руководством:

- А) К. Минина и Д. Пожарского**
- Б) П. Ляпунова и Д. Трубецкого**
- В) Б. Хмельницкого и В.**

Голицына

- Г) И. Болотникова и И. Заруцкого**



10. Семибоярщина связана с именем:

- А) патриарха Филарета
- Б) М. Шеина
- В) Ф.И. Мстиславского
- Г) М. Скопина-Шуйского



11. «» Где формировалось второе ополчение?

- А) в Москве
- Б) в Тушино
- В) в Нижнем Новгороде
- Г) в Ярославле
- Д) в Смоленске

**12. Собрание представителей
различных слоёв населения для
обсуждения политических,
экономических и
административных вопросов
называется:**

- А) Правительство**
- Б) Избранная рада**
- В) Земский собор**
- Г) Народное вече**

**13. «»Новым царем в 1613
году был избран:**

- А) Кузьма Минин**
- Б) Дмитрий Пожарский**
- В) Михаил Романов**
- Г) Василий Шуйский**
- Д) королевич Владислав**

14. Чей подвиг изображен на этой картине?



15. Кому поставлен этот памятник?

