




Долгожданный дан звонок,  
Начинается урок !  
-Ну-ка проверь, дружок,  
Ты готов начать урок ?  
Всё ли на месте,  
Всё ли в порядке.  
Ручка , книжка и тетрадка ?  
Все ли правильно сидят?  
Все внимательно глядят ?  
Каждый хочет получать  
Только лишь отметку «5».



10.10.07

# Вычисления с многозначными числами

Урок в 5 классе



# Разминка.




Отгадайте ребус:

**КОМПЬЮТЕР.**


Молодцы! Вы правильно отгадали ребус.  
Эта умная машина поможет нам  
интересно и увлекательно провести урок .

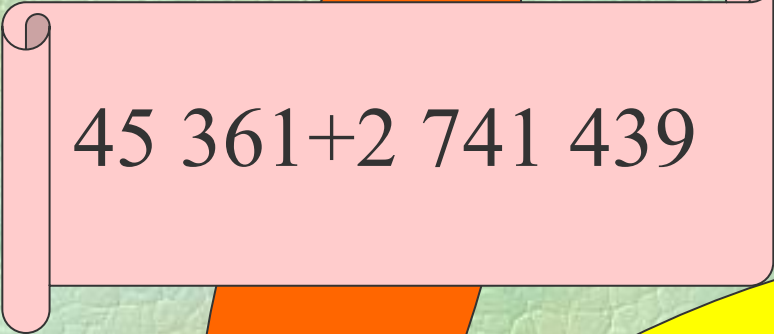



# Устный счет

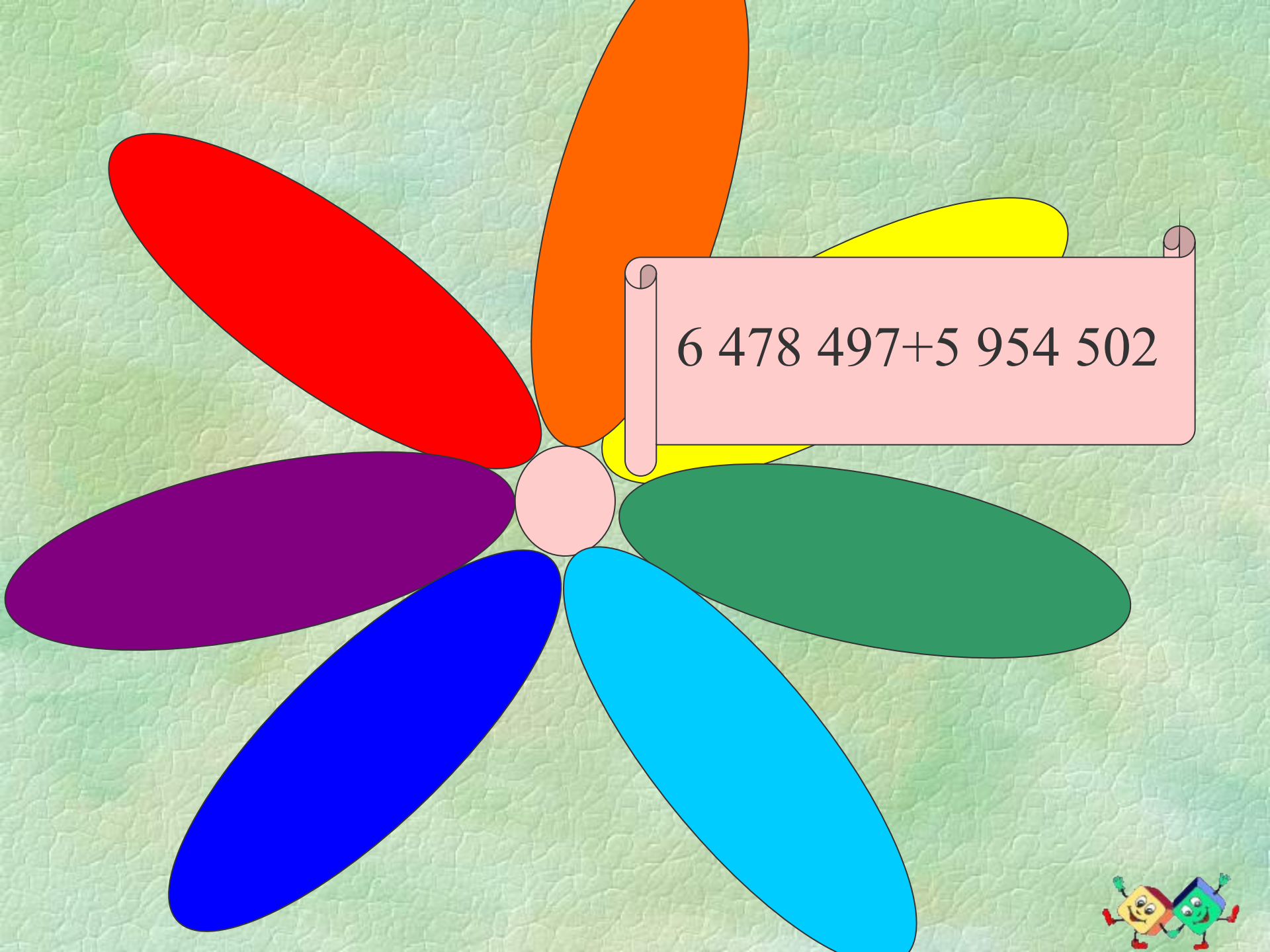
Задание, которое диктует учитель	Записи в тетрадях учащихся
	
	
	
	
	
	
	
	
	







$$45\ 361 + 2\ 741\ 439$$





6 478 497+5 954 502

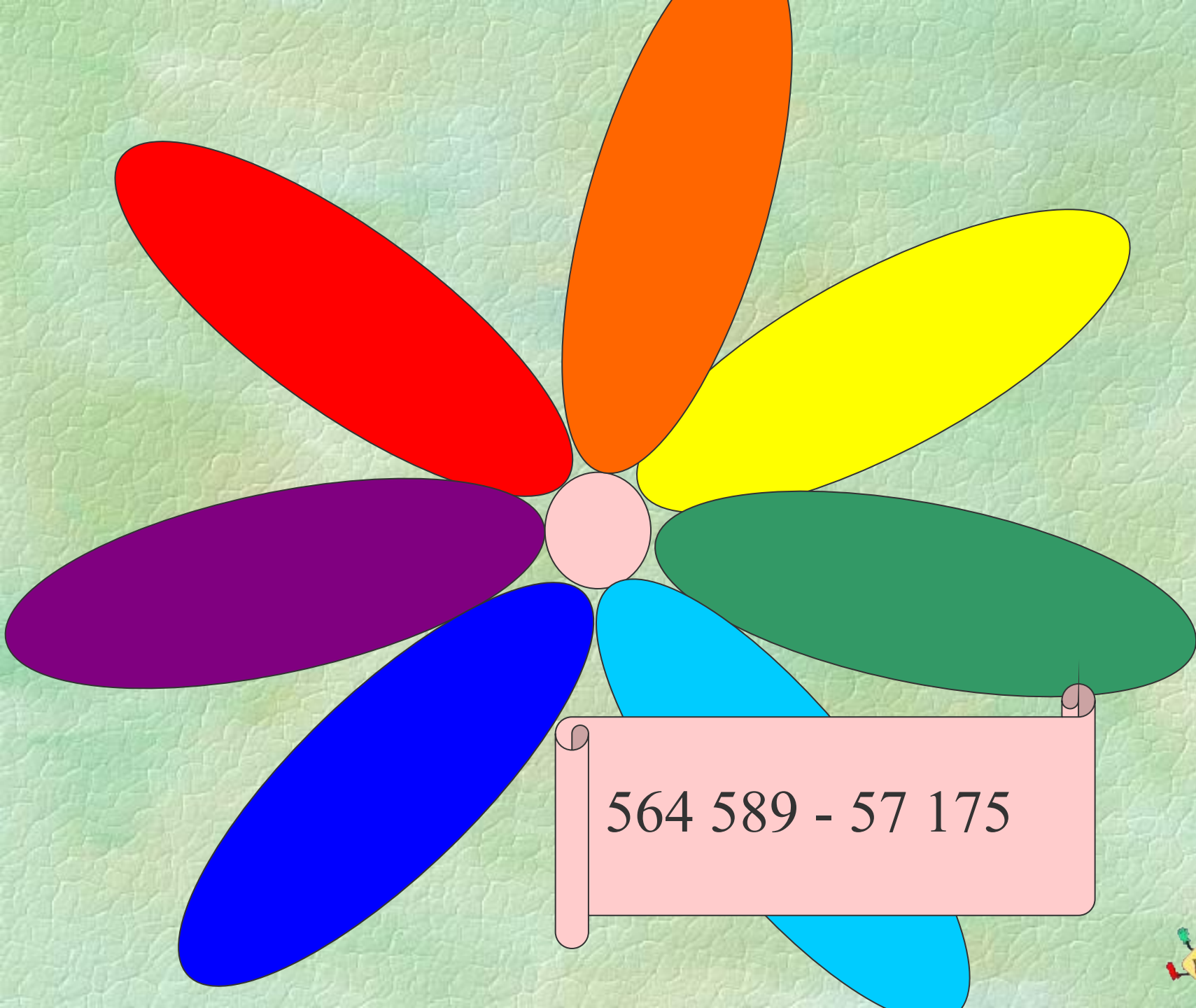




922 564 – 723 154

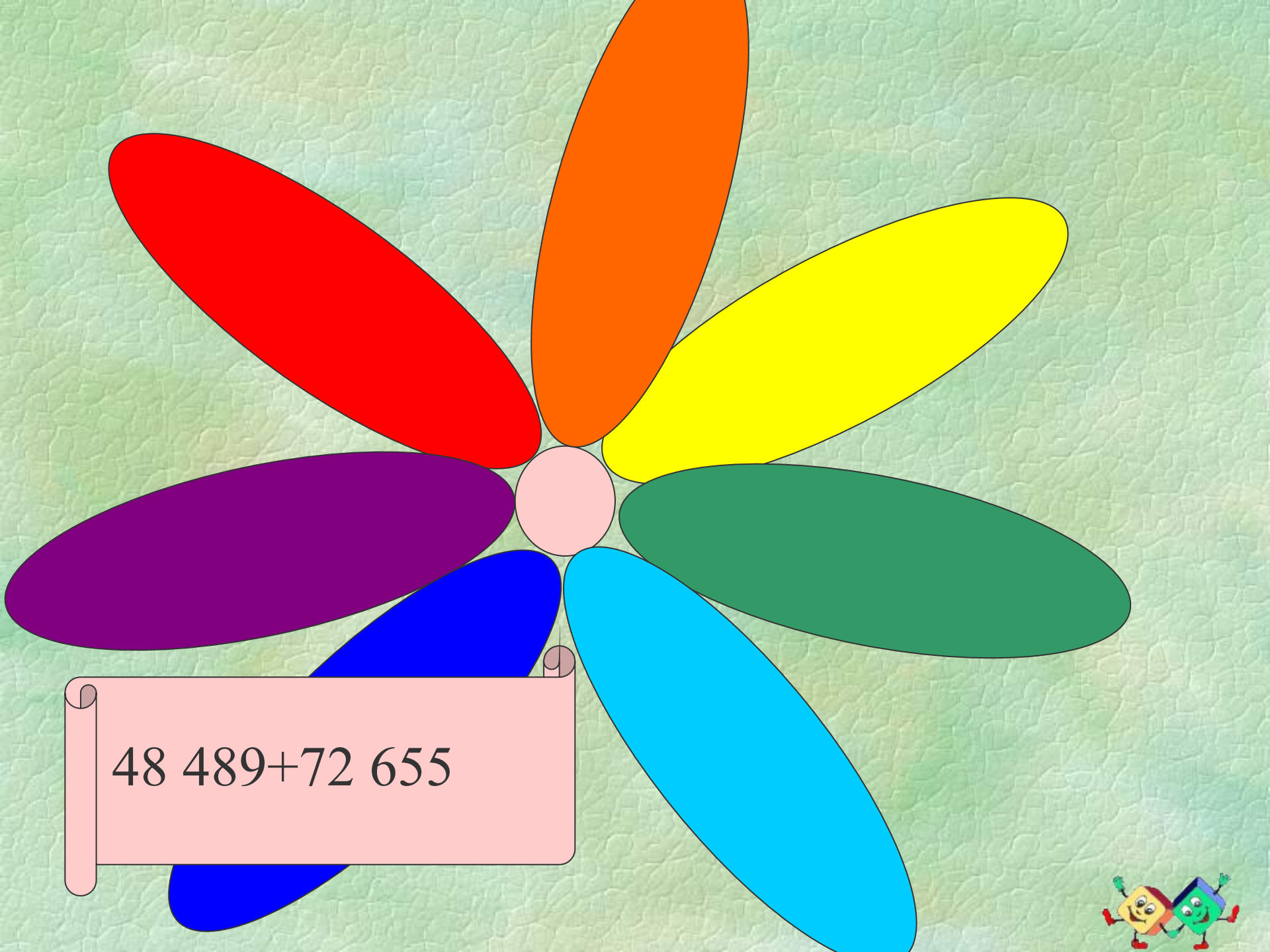







564 589 - 57 175




$$48\ 489 + 72\ 655$$





252 245+4 728 088



1 925 908 – 71 414



# ПРАВИЛО

- При сложении и вычитании многозначные числа записывают в столбик так, чтобы цифры одноименных разрядов были записаны друг под другом.

  347 284

  56 147

291 137



# Заполните таблицу

Самая длинная река в мире — это Амазонка. Самая короткая река в мире — это Мюррей.  
Самая длинная река в мире — это Амазонка. Самая короткая река в мире — это Мюррей.  
самая длинная и самая короткая?

Река	Амазонка	Висла	Ганг	Дунай	Муррей	Нил	Ориноко	Сена
Длина, км	6 400	1 047	2 700	2 850	2 570	6 671	2 730	776



# Решите задачу.



Кот Черныш приобрёл на рынке фрукты трёх сортов: пельсианы, рангаты и кабриосы. За всю покупку Черныш заплатил 1780 юке. Определите стоимость экзотических фруктов каждого вида, если пельсианы и рангаты стоили вместе 1250 юке, а кабриосы и пельсианы – 1084 юке.



# Физкультминутка.



**РОБОТ ДЕЛАЕТ ЗАРЯДКУ  
И СЧИТАЕТ ПО ПОРЯДКУ:  
РАЗ – КОНТАКТЫ НЕ ИСКРЯТ,  
ДВА – СУСТАВЫ НЕ СКРИПЯТ,  
ТРИ – ПРОЗРАЧЕН ОБЪЕКТИВ,  
Я ИСПРАВЕН И КРАСИВ.  
РАЗ, ДВА, ТРИ, ЧЕТЫРЕ, ПЯТЬ –  
МОЖНО К ДЕЛУ ПРИСТУПАТЬ !**





1) Страница 53, №172 (устно)

2) Вычислите:

$$5\ 243 * 128 = 671\ 104$$

$$4\ 359 * 700 = 3\ 051\ 300$$

$$7\ 051 * 503 = 3\ 546\ 653$$

$$4\ 506 * 4\ 110 = 18\ 519\ 660$$



# Решите задачу.

- Необходимо перевезти зерно от элеватора до мелькомбината. Железная дорога предоставила для этого 12 составов по 35 вагонов в каждом. Сколько тонн зерна перевезут на комбинат, если в каждый вагон помещается 46 000 кг зерна?



# Решите задачу.

- На футбольном матче присутствовали 15 936 человек. 2 105 из них уплатили за вход по 125 рублей, 4 731 – по 50 рублей, а остальные – по 35 рублей. Найдите сумму выручки от продажи билетов на этот матч.



МОЛОДЦЫ!



Домашнее задание: № 169, 174

