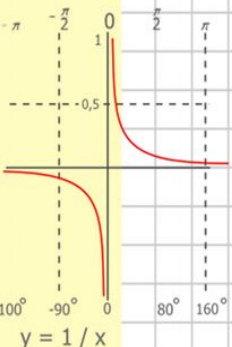
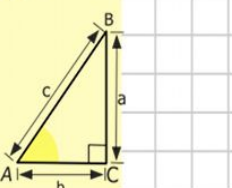
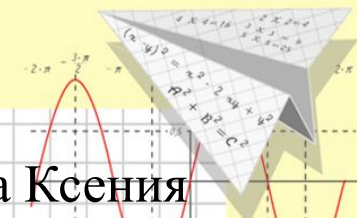
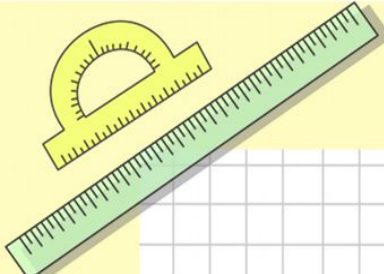


Математик

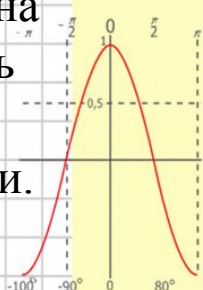
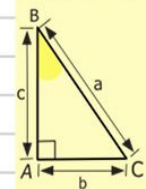
а

Синус и синусоиды в образах

Яковлева Ксения
 ученица 11 класса
 МБОУ «СОШ №22»
 г. Анжеро-Судженск,
 Кемеровской области
 Научный
 руководитель:
 Лилия Геннадьевна
 Мухина, учитель
 математики
 высшей категории.



$$\begin{array}{r} 2500 \\ \times 42 \\ \hline 210 \\ + 84 \\ \hline 10500 \end{array}$$



$$y = \cos x$$

$$\begin{array}{l} 2 \times 2 = 4 \\ 3 \times 3 = 9 \\ 4 \times 4 = 16 \\ 5 \times 5 = 25 \\ 6 \times 6 = 36 \\ 7 \times 7 = 49 \\ 8 \times 8 = 64 \end{array}$$



$$\frac{a}{\sin A} = \frac{b}{\sin B} = \frac{c}{\sin C}$$

$$\frac{a}{c} + \frac{b}{c} = \frac{a+b}{c}$$

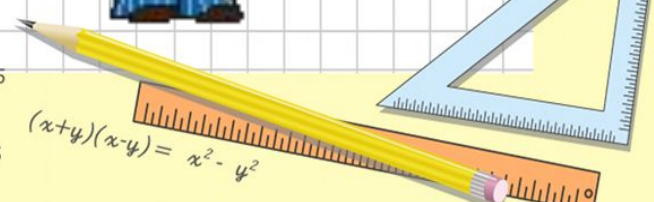


$$\sin 90^\circ = 1$$



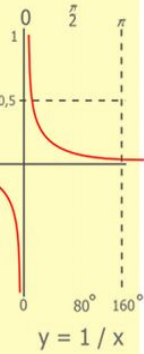
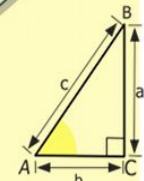
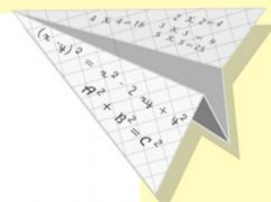

$$\begin{cases} y = \sin 90 \\ x = 25y + 45 \end{cases}$$

$$\begin{cases} y = 1 \\ x = 25 + 45 \\ \hline x = 70 \end{cases}$$

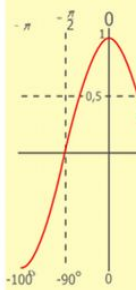
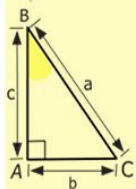


$$(x+y)(x-y) = x^2 - y^2$$

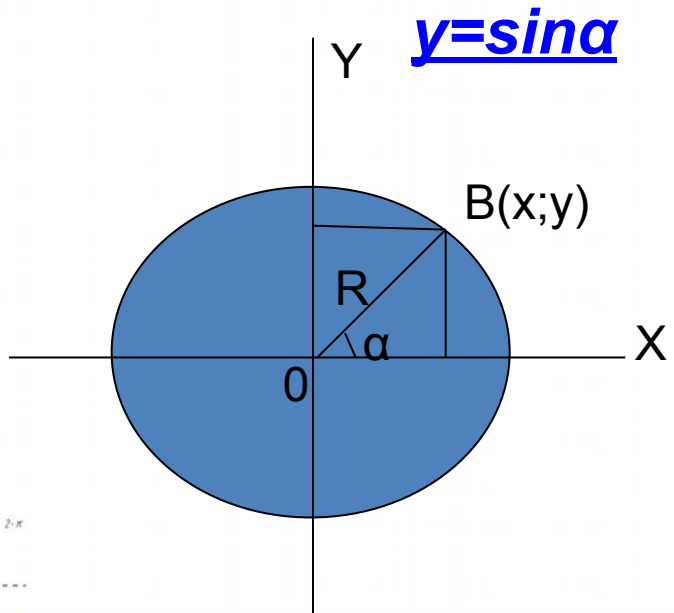
- **Тригонометрия** – математическая дисциплина, изучающая зависимости между углами и сторонами треугольников и тригонометрические функции.



$$\begin{array}{r} 1 \\ \times 42 \\ \hline 210 \\ + 84 \\ \hline 10500 \end{array}$$



$y = \cos$
 $2 \times 2 = 4$
 $3 \times 3 = 9$
 $4 \times 4 = 16$
 $5 \times 5 = 25$
 $6 \times 6 = 36$
 $7 \times 7 = 49$
 $8 \times 8 = 64$
 $9 \times 9 = 81$



$$\frac{a}{A} = \frac{b}{B} = \frac{c}{C}$$

$$\frac{a}{c} + \frac{b}{c} = \frac{a+b}{c}$$

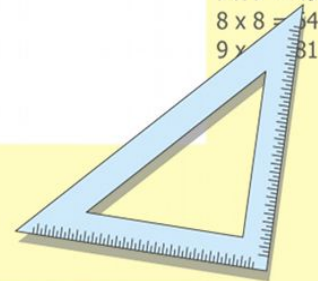
$$\sin 90^\circ = 1$$



$$\begin{cases} y = \sin 90 \\ x = 25y + 45 \end{cases}$$

$$\begin{cases} y = 1 \\ x = 25 + 45 \\ \hline x = 70 \end{cases}$$

$$(x+y)(x-y) = x^2 - y^2$$



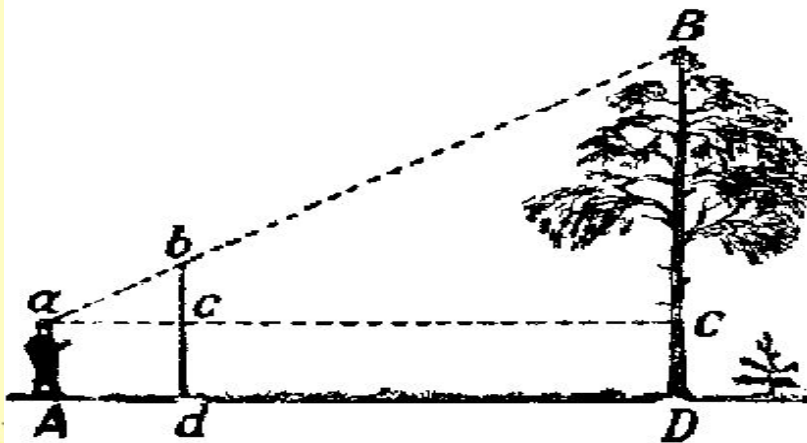
История тригонометрии

Тригонометрия (от греч. **trigwnon** - треугольник и **metrew** - измеряю)

По звездам вычисляли местонахождение корабля в море.



Древние люди вычисляли высоту дерева, сравнивая длину его тени с длиной тени от шеста, высота которого была известна.



$$\frac{a}{A} = \frac{b}{\sin B} = \frac{c}{\sin C}$$

$$\frac{a}{c} + \frac{b}{c} = \frac{a+b}{c}$$

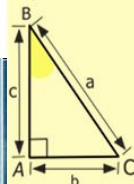
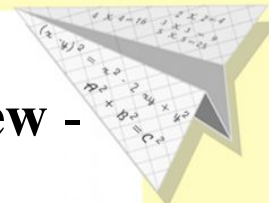

$$\sin 90^\circ = 1$$

$$\begin{cases} y = \sin 90 \\ x = 25y + 45 \end{cases}$$

$$\begin{cases} y = 1 \\ x = 25 + 45 \end{cases}$$

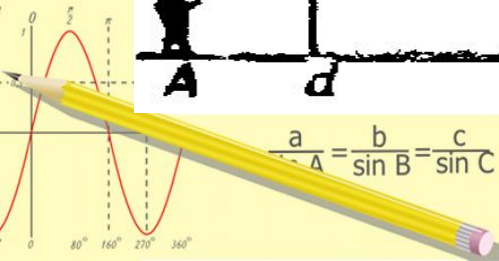
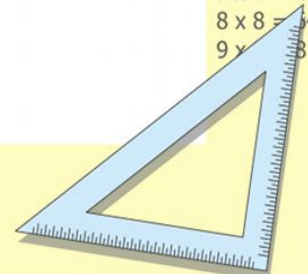
$$x = 70$$

$$(x+y)(x-y) = x^2 - y^2$$



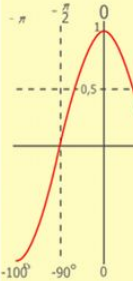
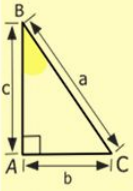
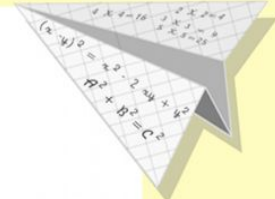


$$y = \cos$$

- 2 x 2 = 4
- 3 x 3 = 9
- 4 x 4 = 16
- 5 x 5 = 25
- 6 x 6 = 36
- 7 x 7 = 49
- 8 x 8 = 64
- 9 x 9 = 81



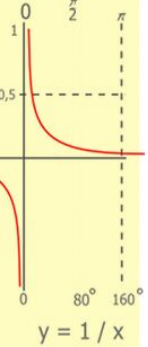
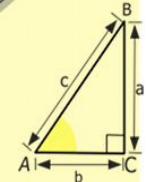
Цель работы:

- Показать, какие понятия тригонометрии используются в реальной жизни; какую роль играет тригонометрия в геометрии, физике, биологии, медицине.




$$y = \cos$$

- 2 x 2 = 4
- 3 x 3 = 9
- 4 x 4 = 16
- 5 x 5 = 25
- 6 x 6 = 36
- 7 x 7 = 49
- 8 x 8 = 64
- 9 x 9 = 81



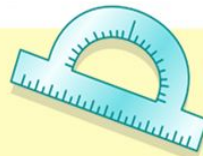
$$\begin{array}{r} 1 \\ \times 2500 \\ \times 42 \\ \hline 210 \\ + 84 \\ \hline 105000 \end{array}$$



$$\frac{a}{\sin A} = \frac{b}{\sin B} = \frac{c}{\sin C}$$

$$\frac{a}{c} + \frac{b}{c} = \frac{a+b}{c}$$

$$\sin 90^\circ = 1$$

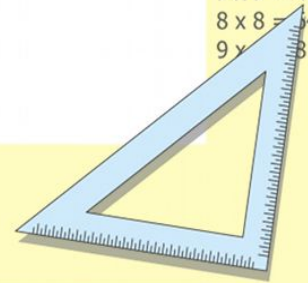


$$\begin{cases} y = \sin 90 \\ x = 25y + 45 \end{cases}$$

$$\begin{cases} y = 1 \\ x = 25 + 45 \end{cases}$$

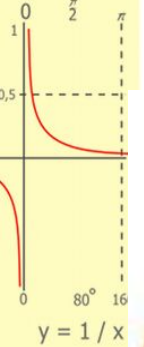
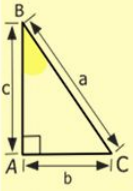
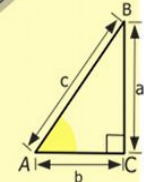
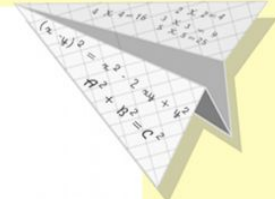


$$x = 70$$

$$(x+y)(x-y) = x^2 - y^2$$



Что такое синусоида?

- **Синусоида** - волнообразная плоская кривая, которая является графиком тригонометрической функции в прямоугольной системе координат.



$$\begin{array}{r} 1 \\ 2500 \\ \times 42 \\ \hline 210 \\ + 84 \\ \hline 10500 \end{array}$$

$$\begin{array}{l} 2 \times 2 = 4 \\ 3 \times 3 = 9 \\ 4 \times 4 = 16 \\ 5 \times 5 = 25 \\ 6 \times 6 = 36 \\ 7 \times 7 = 49 \\ 8 \times 8 = 64 \\ 9 \times 9 = 81 \end{array}$$



$$\frac{a}{A} = \frac{b}{\sin B} = \frac{c}{\sin C}$$

$$\frac{a}{c} + \frac{b}{c} = \frac{a+b}{c}$$

$$\sin 90^\circ = 1$$

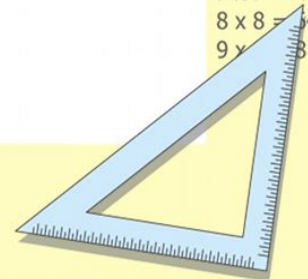


$$\begin{cases} y = \sin 90 \\ x = 25y + 45 \end{cases}$$

$$\begin{cases} y = 1 \\ x = 25 + 45 \end{cases}$$

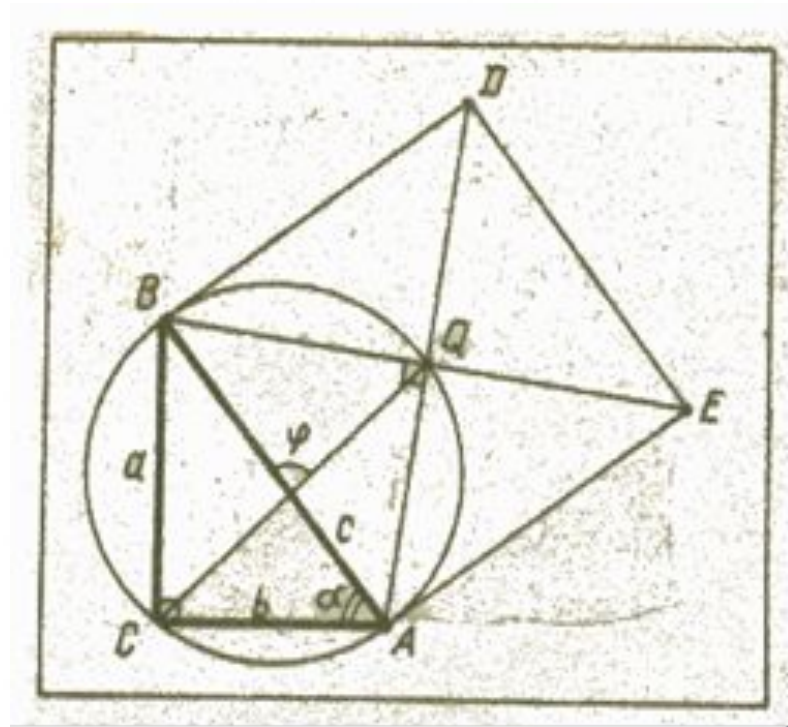
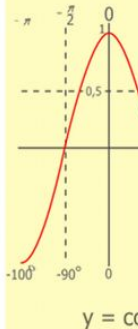
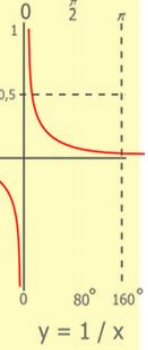
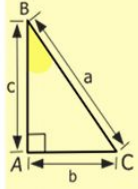
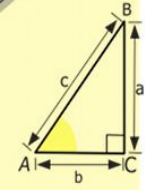
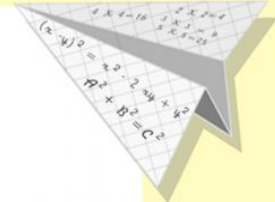

$$x = 70$$

$$(x+y)(x-y) = x^2 - y^2$$




Синус в геометрии

З а д а ч а. На гипотенузе АВ прямоугольного треугольника АВС построен квадрат АВДЕ в той полуплоскости от прямой АВ, которой не принадлежит треугольник АВС. Найти расстояние от вершины С прямого угла до центра квадрата, если катеты ВС и АС имеют соответственно длины а и b.



$$\begin{array}{r} 1 \\ \times 2500 \\ 2500 \\ + 42 \\ \hline 210 \\ + 84 \\ \hline 105000 \end{array}$$

- 2 x 2 = 4
- 3 x 3 = 9
- 4 x 4 = 16
- 5 x 5 = 25
- 6 x 6 = 36
- 7 x 7 = 49
- 8 x 8 = 64
- 9 x 9 = 81



$$\frac{a}{A} = \frac{b}{\sin B} = \frac{c}{\sin C}$$

$$\frac{a}{c} + \frac{b}{c} = \frac{a+b}{c}$$

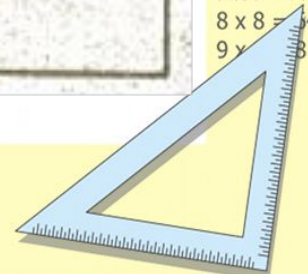
$$\sin 90^\circ = 1$$



$$\begin{cases} y = \sin 90 \\ x = 25y + 45 \end{cases}$$

$$\begin{cases} y = 1 \\ x = 25 + 45 \\ \hline x = 70 \end{cases}$$

$$(x+y)(x-y) = x^2 - y^2$$



Решение

- Решение 1 (по теореме синусов).

- Q - центр построенного квадрата. Угол AQB прямой. По теореме синусов имеем: $CQ = AB \sin(\alpha + 45^\circ)$, где α - величина угла BAC. Далее получаем:

- $CQ = c(\sin\alpha \cos 45^\circ + \cos\alpha \sin 45^\circ) = \frac{\sqrt{2}}{2}c \left(\frac{a}{c} + \frac{b}{c} \right) = \frac{a+b}{\sqrt{2}}$, где $c = AB$. Итак, $CQ = \frac{a+b}{\sqrt{2}}$.

- Решение 2 (по теореме косинусов).

- По теореме косинусов находим:

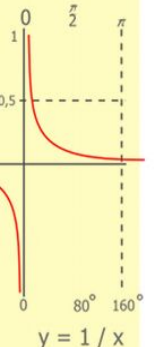
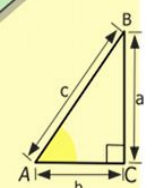

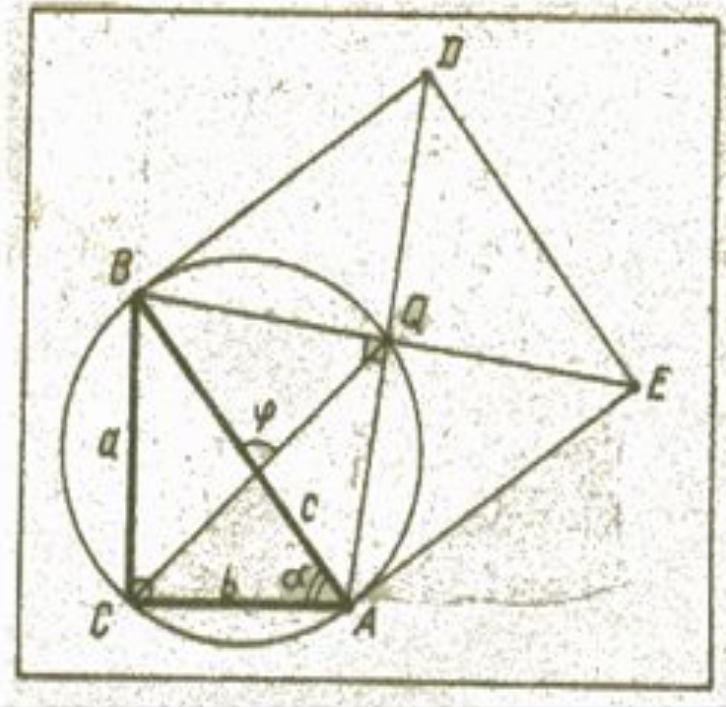
- $CQ^2 = b^2 + AQ^2 - 2b \cdot AQ \cos(\alpha + 45^\circ)$.

- Рассмотрим треугольник AQB. По теореме Пифагора находим, что $AQ^2 = \frac{1}{2}c^2$.

- Тогда

- $CQ^2 = b^2 + \frac{1}{2}c^2 - 2b \cdot \frac{c}{\sqrt{2}} \left(\frac{b}{c} - \frac{a}{c} \right) =$

- $b^2 + \frac{1}{2}(a^2 + b^2) - b^2 + ab = \frac{1}{2}(a+b)^2, CQ = \frac{a+b}{\sqrt{2}}$.



$$\begin{array}{r} 2500 \\ \times 42 \\ \hline 2100 \\ + 8400 \\ \hline 105000 \end{array}$$



$$\frac{a}{A} = \frac{b}{\sin B} = \frac{c}{\sin C}$$


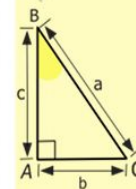

$$\frac{a}{c} + \frac{b}{c} = \frac{a+b}{c}$$

$$\sin 90^\circ = 1$$

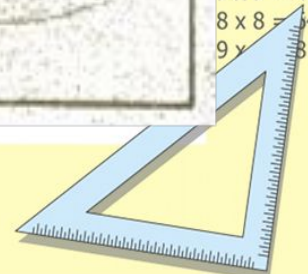


$$\begin{cases} x = 25y + 45 \\ y = 1 \\ x = 25 + 45 \\ \hline x = 70 \end{cases}$$

$$(x+y)(x-y) = x^2 - y^2$$

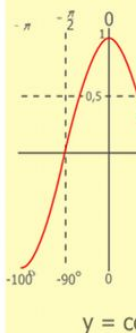
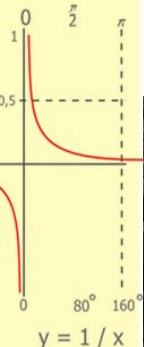
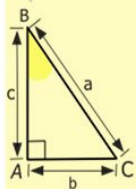
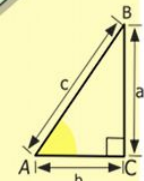



- 2 x 2 = 4
- 3 x 3 = 9
- 4 x 4 = 16
- 5 x 5 = 25
- 6 x 6 = 36
- 7 x 7 = 49
- 8 x 8 = 64
- 9 x 9 = 81



Почему трамвай работает на постоянном токе?

- Студенческий фольклор отвечает на этот вопрос так: если бы он работал на переменном, рельсы пришлось бы укладывать по синусоиде.



$$\begin{array}{r} 1 \\ 2500 \\ \times 42 \\ \hline 210 \\ + 84 \\ \hline 10500 \end{array}$$

$$\begin{array}{l} 2 \times 2 = 4 \\ 3 \times 3 = 9 \\ 4 \times 4 = 16 \\ 5 \times 5 = 25 \\ 6 \times 6 = 36 \\ 7 \times 7 = 49 \\ 8 \times 8 = 64 \\ 9 \times 9 = 81 \end{array}$$



$$\frac{a}{\sin A} = \frac{b}{\sin B} = \frac{c}{\sin C}$$

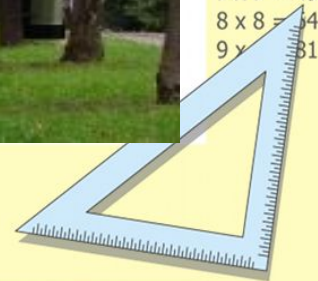
$$\frac{a}{c} + \frac{b}{c} = \frac{a+b}{c}$$

$$\sin 90^\circ = 1$$

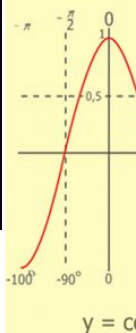
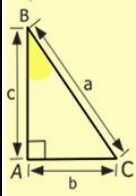
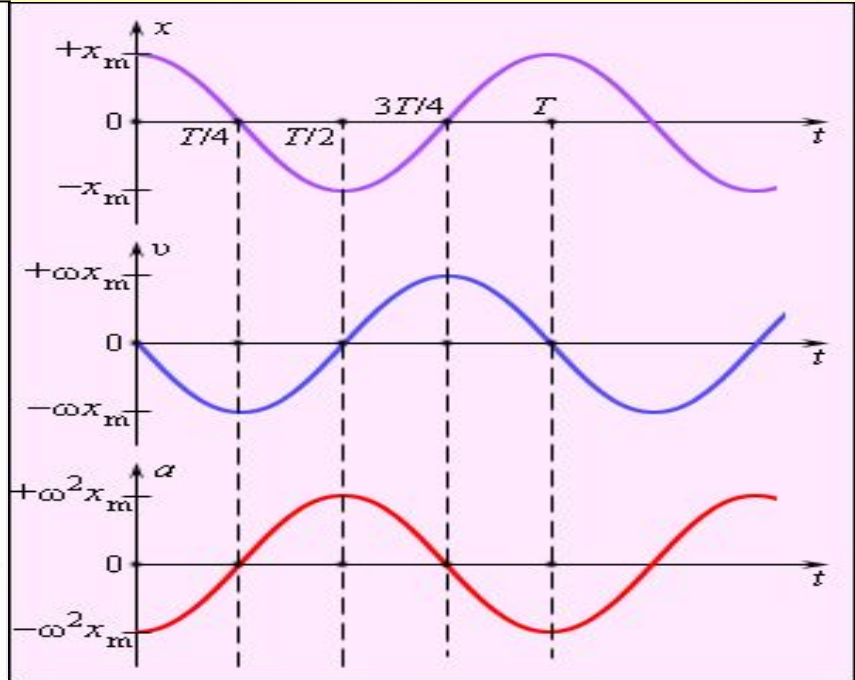
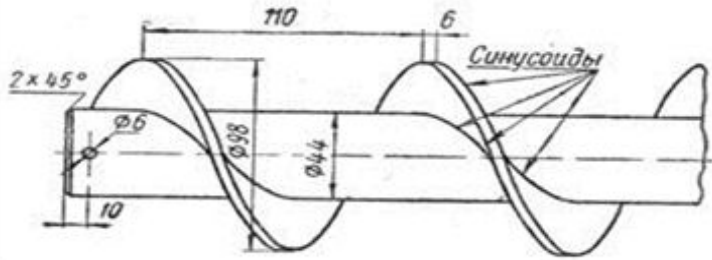
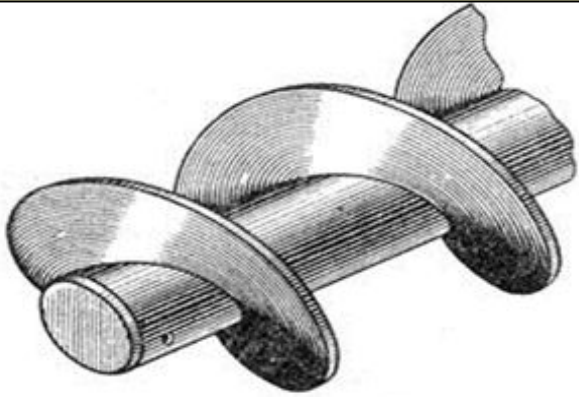
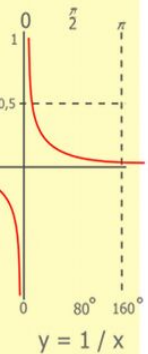
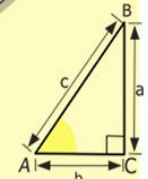
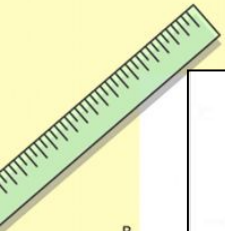


$$\begin{cases} x = 25y + 45 \\ y = 1 \\ x = 25 + 45 \\ x = 70 \end{cases}$$

$$(x+y)(x-y) = x^2 - y^2$$




Синусоида в физике



$$\begin{array}{r} 1 \\ \times 2500 \\ \hline 210 \\ + 84 \\ \hline 105000 \end{array}$$



- 2 x 2 = 4
- 3 x 3 = 9
- 4 x 4 = 16
- 5 x 5 = 25
- 6 x 6 = 36
- 7 x 7 = 49
- 8 x 8 = 64
- 9 x 9 = 81



$$\frac{a}{A} = \frac{b}{\sin B} = \frac{c}{\sin C}$$

$$\frac{a}{c} + \frac{b}{c} = \frac{a+b}{c}$$

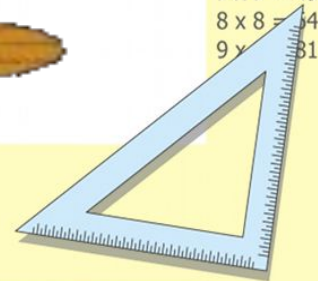
$$\sin 90^\circ = 1$$



$$\begin{cases} y = \sin 90 \\ x = 25y + 45 \end{cases}$$

$$\begin{cases} y = 1 \\ x = 25 + 45 \\ \hline x = 70 \end{cases}$$

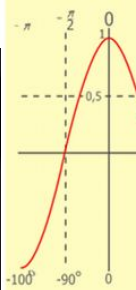
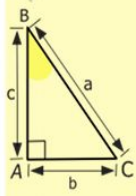
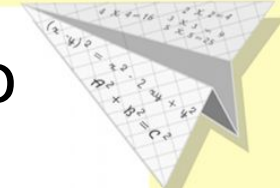


$$(x+y)(x-y) = x^2 - y^2$$



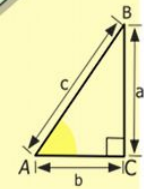
Синусоида в оптике

Миражи

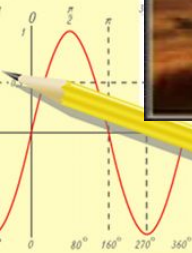
- Древние египтяне верили, что мираж - это призрак страны, которой больше нет на свете. Легенда говорит о том, что у каждого места на Земле есть своя душа. Наблюдаемые в пустынях миражи объясняются тем, что горячий воздух



- 2 x 2 = 4
- 3 x 3 = 9
- 4 x 4 = 16
- 5 x 5 = 25
- 6 x 6 = 36
- 7 x 7 = 49
- 8 x 8 = 64
- 9 x 9 = 81



$$\begin{array}{r} \frac{1}{2} 500 \\ \times 42 \\ \hline 210 \\ + 84 \\ \hline 105000 \end{array}$$



$$\frac{a}{\sin A} = \frac{b}{\sin B} = \frac{c}{\sin C}$$

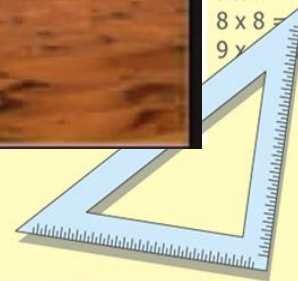
$$\frac{a}{c} + \frac{b}{c} = \frac{a+b}{c}$$

$$\sin 90^\circ = 1$$




$$\begin{cases} x = 25y + 45 \\ y = 1 \\ x = 25 + 45 \\ x = 70 \end{cases}$$

$$(x+y)(x-y) = x^2 - y^2$$

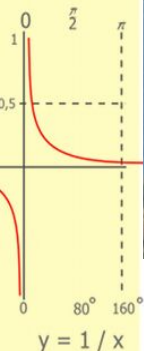
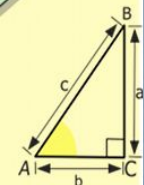



Фата-Моргана



Фата-Моргана – сложное оптическое явление в атмосфере, состоящее из нескольких форм миражей, при котором отдаленные предметы видны многократно и с разнообразными искажениями.

Свое название мираж получил в честь сказочной героини Фаты Морганы или, в переводе с итальянского, феи Морганы. Говорят, что она сводная сестра короля Артура, отвергнутая возлюбленная Ланцелота, поселилась от огорчения на дне моря, в хрустальном дворце, и с тех пор обманывает мореплавателей призрачными видениями.



$$\begin{array}{r} 2500 \\ \times 42 \\ \hline 210 \\ + 84 \\ \hline 10500 \end{array}$$



$$\frac{a}{A} = \frac{b}{\sin B} = \frac{c}{\sin C}$$

$$\frac{a}{c} + \frac{b}{c} = \frac{a+b}{c}$$

$$\sin 90^\circ = 1$$

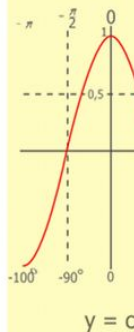
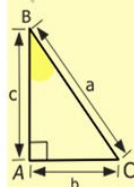
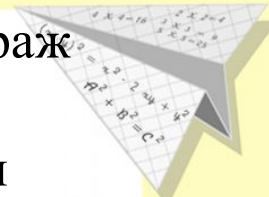


$$\begin{cases} y = \sin 90 \\ x = 25y + 45 \end{cases}$$

$$\begin{cases} y = 1 \\ x = 25 + 45 \end{cases}$$

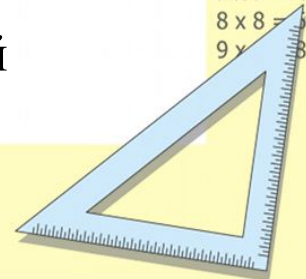
$$x = 70$$

$$(x-y)(x+y) = x^2 - y^2$$



$$y = \cos$$

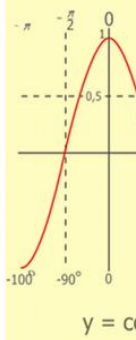
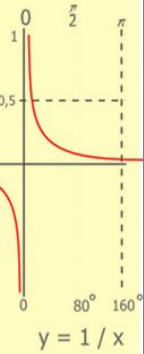
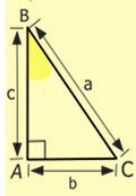
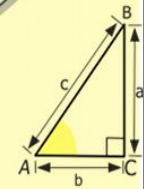
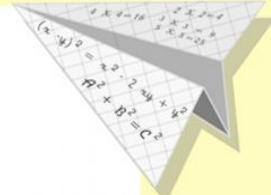

$$\begin{array}{l} 2 \times 2 = 4 \\ 3 \times 3 = 9 \\ 4 \times 4 = 16 \\ 5 \times 5 = 25 \\ 6 \times 6 = 36 \\ 7 \times 7 = 49 \\ 8 \times 8 = 64 \\ 9 \times 9 = 81 \end{array}$$



Что такое полярное сияние?



Полярное сияние — свечение (люминесценции) верхних слоёв атмосфер планет, обладающих магнитосферой, вследствие их взаимодействия с заряженными частицами солнечного ветра.



$$\begin{array}{r} 1 \\ \times 2500 \\ \hline 2500 \\ + 42 \\ \hline 210 \\ + 84 \\ \hline 105000 \end{array}$$

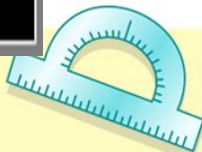
- 2 x 2 = 4
- 3 x 3 = 9
- 4 x 4 = 16
- 5 x 5 = 25
- 6 x 6 = 36
- 7 x 7 = 49
- 8 x 8 = 64
- 9 x 9 = 81



$$\sin A = \sin B = \sin C$$

$$\frac{a}{c} + \frac{b}{c} = \frac{a+b}{c}$$

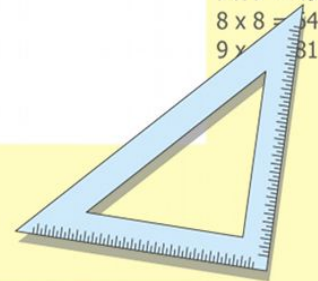
$$\sin 90^\circ = 1$$



$$\begin{cases} y = \sin 90 \\ x = 25y + 45 \end{cases}$$

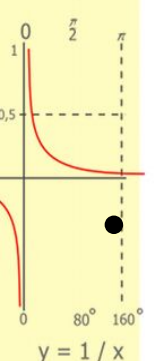
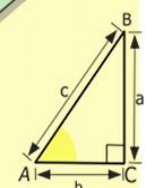
$$\begin{cases} y = 1 \\ x = 25 + 45 \\ \hline x = 70 \end{cases}$$

$$(x+y)(x-y) = x^2 - y^2$$

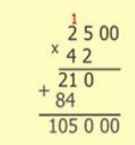





• Проникновение в верхние слои атмосферы планет заряженных частиц солнечного ветра определяется взаимодействием магнитного поля планеты с солнечным ветром.



• Сила, действующая на движущуюся в магнитном поле заряженную частицу называется силой Лоренца. Она пропорциональна заряду частицы и векторному произведению поля и скорости движения частицы.



$$\frac{a}{c} = \frac{\sin A}{\sin C} \quad \frac{a}{c} + \frac{b}{c} = \frac{a+b}{c}$$

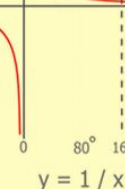
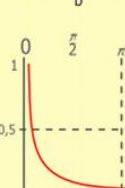
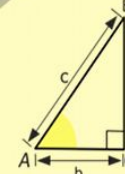



$$F = q[\vec{v} \times \vec{B}] = qvB \sin \alpha$$

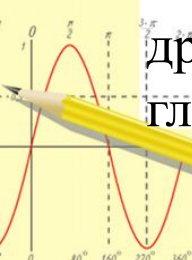
РАЙСКАЯ ДУГА



Вряд ли найдется человек, который не любовался бы радугой. А сколько легенд и сказаний связано с радугой у разных народов! В русских летописях радуга называется « райской дугой » или сокращенно « райдугой ». В Древней Греции радуку олицетворяла богиня Ирида («Ирида» и означает « радуга »). По представлениям древних греков, радуга соединяет небо и землю, и Ирида была посредницей между богами и людьми. В русский язык вошли и другие слова с тем же греческим корнем: ирис — радужная оболочка глаза, иризация, иридий.



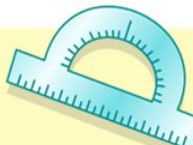
$$\begin{array}{r} 1 \\ \times 42 \\ \hline 210 \\ + 840 \\ \hline 10500 \end{array}$$



$$\frac{a}{\sin A} = \frac{b}{\sin B} = \frac{c}{\sin C}$$

$$\frac{a}{c} + \frac{b}{c} = \frac{a+b}{c}$$

$$\sin 90^\circ = 1$$

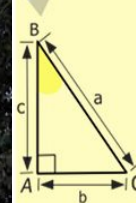



$$\begin{cases} y = \sin 90 \\ x = 25y + 45 \end{cases}$$

$$\begin{cases} y = 1 \\ x = 25 + 45 \end{cases}$$

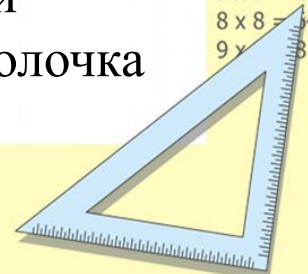
$$x = 70$$

$$(x+y)(x-y) = x^2 - y^2$$



$$y = \cos$$

- 2 x 2 = 4
- 3 x 3 = 9
- 4 x 4 = 16
- 5 x 5 = 25
- 6 x 6 = 36
- 7 x 7 = 49
- 8 x 8 = 64
- 9 x 9 = 81



Теория радуги



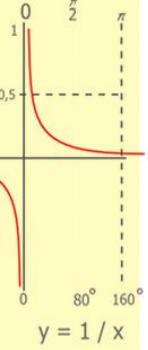
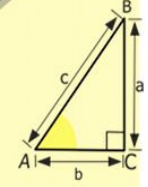

- Впервые теория радуги была дана в 1637 году Рене Декартом. Он объяснил радугу, как явление, связанное с отражением и преломлением света в дождевых каплях.



Радуга возникает из-за того, что солнечный свет испытывает преломление в капельках воды, взвешенных в воздухе по **закону преломления:**

$$\sin \alpha / \sin \beta = n_1 / n_2$$

где $n_1=1$, $n_2 \approx 1,33$ – соответственно показатели преломления воздуха и воды, α – угол падения, а β – угол преломления света.




$$\begin{array}{r} 1 \\ \times 2500 \\ \times 42 \\ \hline 210 \\ + 84 \\ \hline 105000 \end{array}$$



$$\frac{a}{\sin A} = \frac{b}{\sin B} = \frac{c}{\sin C}$$

$$\frac{a}{c} + \frac{b}{c} = \frac{a+b}{c}$$

$$\sin 90^\circ = 1$$



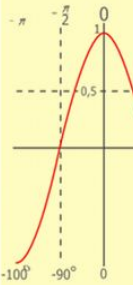
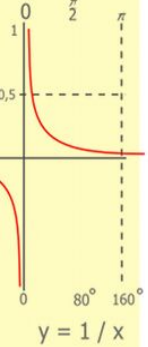
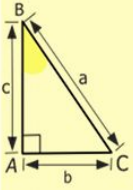
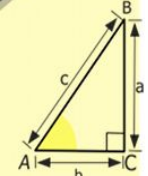
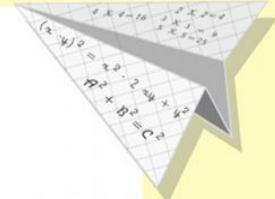

$$\begin{array}{l} y = \sin 90 \\ y = 25y + 15 \\ y = 1 \\ \hline x = 70 \end{array}$$



2 x 2 = 4
3 x 3 = 9
4 x 4 = 16
5 x 5 = 25
6 x 6 = 36
7 x 7 = 49
8 x 8 = 64
9 x 9 = 81



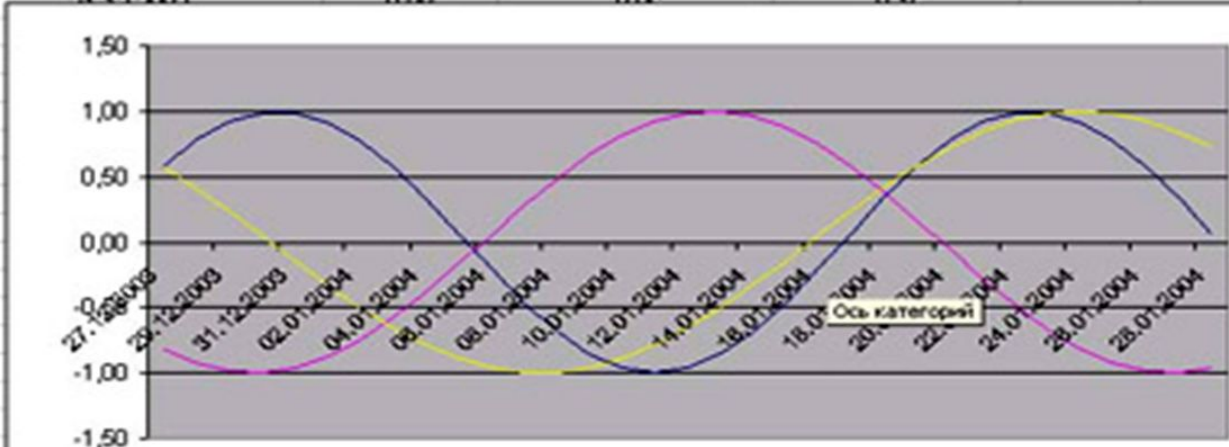
Синусоида в медицине



$$\begin{array}{r} 1 \\ \times 2500 \\ \hline 210 \\ + 84 \\ \hline 105000 \end{array}$$

- 2 x 2 = 4
- 3 x 3 = 9
- 4 x 4 = 16
- 5 x 5 = 25
- 6 x 6 = 36
- 7 x 7 = 49
- 8 x 8 = 64
- 9 x 9 = 81

	A	B	C	D	E	F	G	H
1	Моделирование биоритмов							
2								
3	Исходные данные							
4	Неуправляемые параметры (константы)				Управляемые параметры			
5	Период физического цикла	23	Дата рождения	04.04.96				
6	Период эмоционального цикла	28	Дата отсчета	27.12.03				
7	Период интеллектуального цикла	33	Длительность прогноза	30				
8	Результаты							
9	Порядковый день	Физическое	Эмоциональное	Интеллектуальное				
10	27.12.2003	0,58	-0,82	0,58				
11	28.12.2003	0,78	-0,93	0,41				
12	29.12.2003	0,92	-0,99	0,23				
13	30.12.2003	0,99	-1,00	0,04				
14	31.12.2003	0,99	0,00	0,15				



— Физическое
— Эмоциональное
— Интеллектуальное



$$\frac{a}{A} = \frac{b}{B} = \frac{c}{C} = \sin A = \sin B = \sin C$$

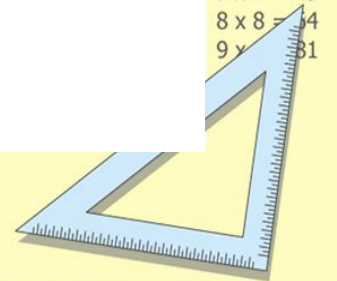
$$\frac{a}{c} + \frac{b}{c} = \frac{a+b}{c}$$

$$\sin 90^\circ = 1$$



$$\begin{cases} y = 1 \\ x = 25 + 45 \\ \hline x = 70 \end{cases}$$

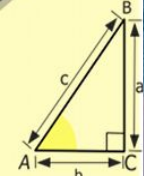

$$(x+y)(x-y) = x^2 - y^2$$



Приложение

СПАСИБО ЗА
ВНИМАНИЕ!

спасибо!



$$\begin{array}{r} 2500 \\ \times 42 \\ \hline 210 \\ + 84 \\ \hline 105000 \end{array}$$



$$\frac{a}{\sin A} = \frac{b}{\sin B} = \frac{c}{\sin C}$$

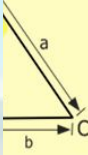
$$\frac{a}{c} + \frac{b}{c} = \frac{a+b}{c}$$

$$\sin 90^\circ = 1$$



$$\begin{cases} x = 25y + 45 \\ y = 1 \\ x = 25 + 45 \\ \hline x = 70 \end{cases}$$

$$(x+y)(x-y) = x^2 - y^2$$



- 2 = 4
- 3 = 9
- 4 = 16
- 5 = 25
- 6 = 36
- 7 = 49
- 8 = 64
- 9 = 81

