

Привет!





А ну-ка, отгадай!



otvetin.ru

$18 : 3 =$ в 6 раз б.

$15 : 5 =$ в 3 раза б.

$15 - 5 =$ на 10 шт. б.



[Увеличить](#)

$18 - 3 =$ на 15 шт. м.

$15 : 5 =$ в 3 раза м.

$18 : 3 =$ в 6 раз м.





Вспомним правило:

- Чтобы узнать **на** сколько одно число больше или меньше другого...
- Чтобы узнать **во** сколько **раз** одно число больше или меньше другого...



Тема: Решение задач на
разностное и кратное
сравнение чисел.

Тренировочный маршрут:

- Задача от гнома Забывалки:
- Гном Забывалка для построения скворечника взял два куска доски.

30 см

45 см

- На сколько сантиметров один кусок больше другого? Сколько сантиметров ему нужно отпилить, чтобы куски были равными?

Угадайте, сколько лет каждому гному.


- Гному Загадалке 50 лет.
- Гном Забывалка старше его на 15 лет,
- а гном Путалка в 2 раза старше гнома Загадалки.



[Увеличить](#)



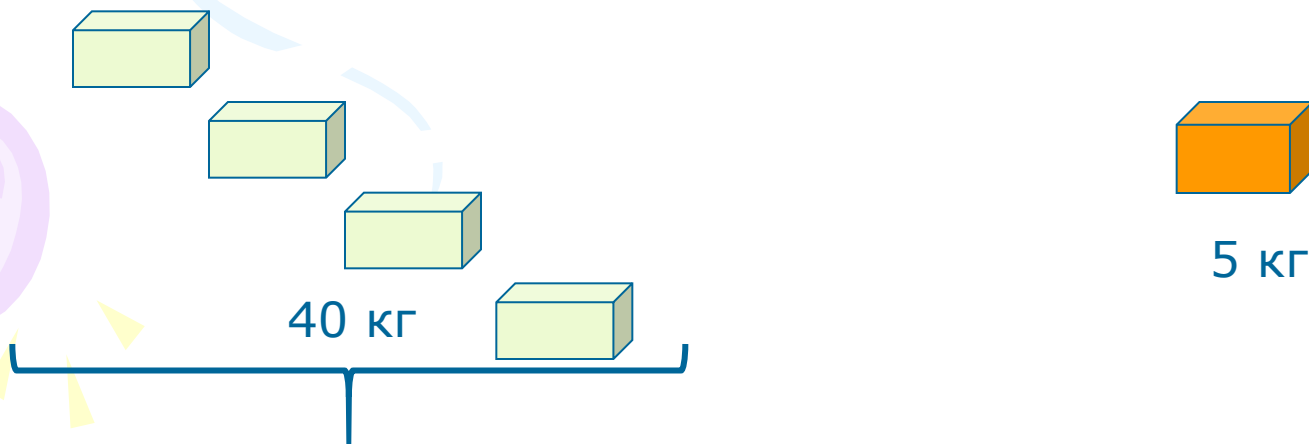
otvetin.ru



Составьте самостоятельно
задачи на разностное и
кратное сравнение чисел.

Задачи от гномов:

- На праздник гномы закупили 4 ящика с мандаринами и 1 ящик с апельсинами. Масса 4 ящиков с мандаринами 40 кг. А масса одного ящика с апельсинами 5 кг. Во сколько раз ящик с апельсинами легче ящика с мандаринами?



Отдохнём



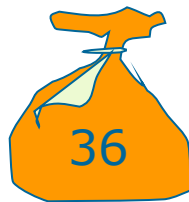
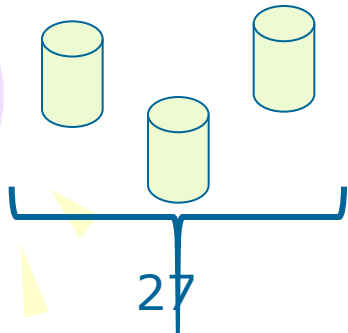
Задача от гнома Загадалки.



Для приготовления волшебного зелья нужен:

- 1 мешок с бобами весом 36 кг,
- 3 одинаковых ведра звёздной воды, в которых было 27 литров.

На сколько больше бобов в 1 мешке, чем звёздной воды в 1 ведре?




Гномы вас благодарят за помощь в решении непростых задач!



otvetin.ru



 Увеличить



А мы с вами еще потренируемся!


Сравните, **на сколько** одно число больше или меньше другого:

- 285, чем 470;
- 95, чем 723;
- 474, чем 610

Во сколько раз одно число больше или меньше другого:

- 4, чем 40;
- 8, чем 64;
- 42, чем 6.

Правильные ответы:



A decorative graphic on the left side of the slide features three balloons: a light green one at the top, a light blue one in the middle, and a light purple one at the bottom. They are connected by a thin, wavy streamer. Small yellow triangles are scattered around the balloons, resembling confetti or streamer tassels.

Правильные ответы:

- 185;
- 628;
- 136;
- 10;
- 8;
- 7.



Сравниваем меры:

- Масс:
- 1 ц, чем 1 т
- 1 кг, чем 1 ц
- Длины:
- 1 см, чем 1 дм
- 1 см, чем 1 м
- Времени:
- 1 сут, чем 1 нед.

Спасибо за активную
работу!

