



Математика.

2 класс




_ ноября

• Классная работа

Сложение и
вычитание.

Умножение.


$$34 - 3 =$$

$$54 + 3 =$$

$$28 - 6 =$$

$$22 + 3 =$$

$$44 + 5 =$$

$$3 * 4 =$$

$$7 * 7 =$$

$$9 * 6 =$$

$$6 * 7 =$$

$$56 - 54 =$$

$$79 - 34 =$$

$$45 - 23 =$$

**Реши
примеры.**



Реши задачи.

Задача 1

- В магазин привезли 2 коробки сухофруктов по 7 кг в каждой. Сколько килограммов сухофруктов привезли в магазин?

Задача 2

В одной вазе 7 цветков. Сколько цветков в 3 таких же вазах?



Решите задачи.

Задача 3.

- Папе сейчас 38 лет. Сколько лет было папе 15 лет назад?



Запиши только ответы!!!

- 1. Сколько будет при вычитании из 67 числа 47?
- 2. Сколько будет при вычитании из 58 числа 12?
- 3. Сколько будет при вычитании из 89 числа 41?
- 4. Сколько будет если вычесть из 45 число 28?
- 5. Сколько будет если к числу 45 прибавить 56?



Продолжи закономерность.

• 3, 5, 9, 15, 23, ... , ... , ...

• 3, 10, 17, 24, ... , ... ,

...

• 10, 20, 30, 40, ... , ... ,

....




Поставь нужные знаки.

• $2 \dots 2 \dots 2 \dots 2 = 8$

• $2 \dots 2 \dots 2 \dots 2 = 4$

• $2 \dots 2 \dots 2 \dots 2 = 0$



На прямой
отметили 6
точек. Сколько
всего отрезков
получилось?



На 2 книжных полках было 70 книг. С одной полки взяли 20 книг и на обеих полках количество книг стало поровну. Сколько книг было на каждой полке?



Расставь между цифрами скобки, если нужно, чтобы получилось правильное решение:

$$3 + 4 * 5 - 4 + 2 * 3 - 7 = 6$$

$$4 * 6 - 3 + 5 - 8 : 4 = 13$$

$$27 : 3 - 4 + 2 + 8 * 2 = 25$$




Даны цифры: 5, 9, 7.
Составь максимальное
количество трехзначных
чисел. Цифры могут
повторяться.



Выполни вычитание десятков:

$90 - 20 =$ $70 - 20 =$ $30 - 10 =$ $90 - 30 =$

$80 - 10 =$ $70 - 50 =$ $80 - 40 =$ $70 - 50 =$

A row of colorful pom-poms in shades of red, orange, yellow, purple, blue, and green is visible in the background, slightly out of focus.

Спасибо за
урок!!!