

**Урок математики во 2 классе.**

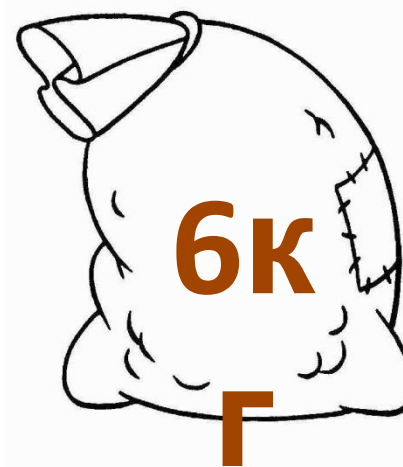

**Тема:**

**«Приемы умножения  
единицы и нуля».**

**Учитель начальных классов  
ГБОУ «Школы №947»  
Шахматова  
Татьяна Александровна.**

# Составьте задачу по

схема



?

12Г

Проверь  
себя.



$$6 + 6 + 6 = 18 \text{ (кг)}$$

$$6 \cdot 3 = 18$$

(кг)  
ОТВЕТ: 18

кг

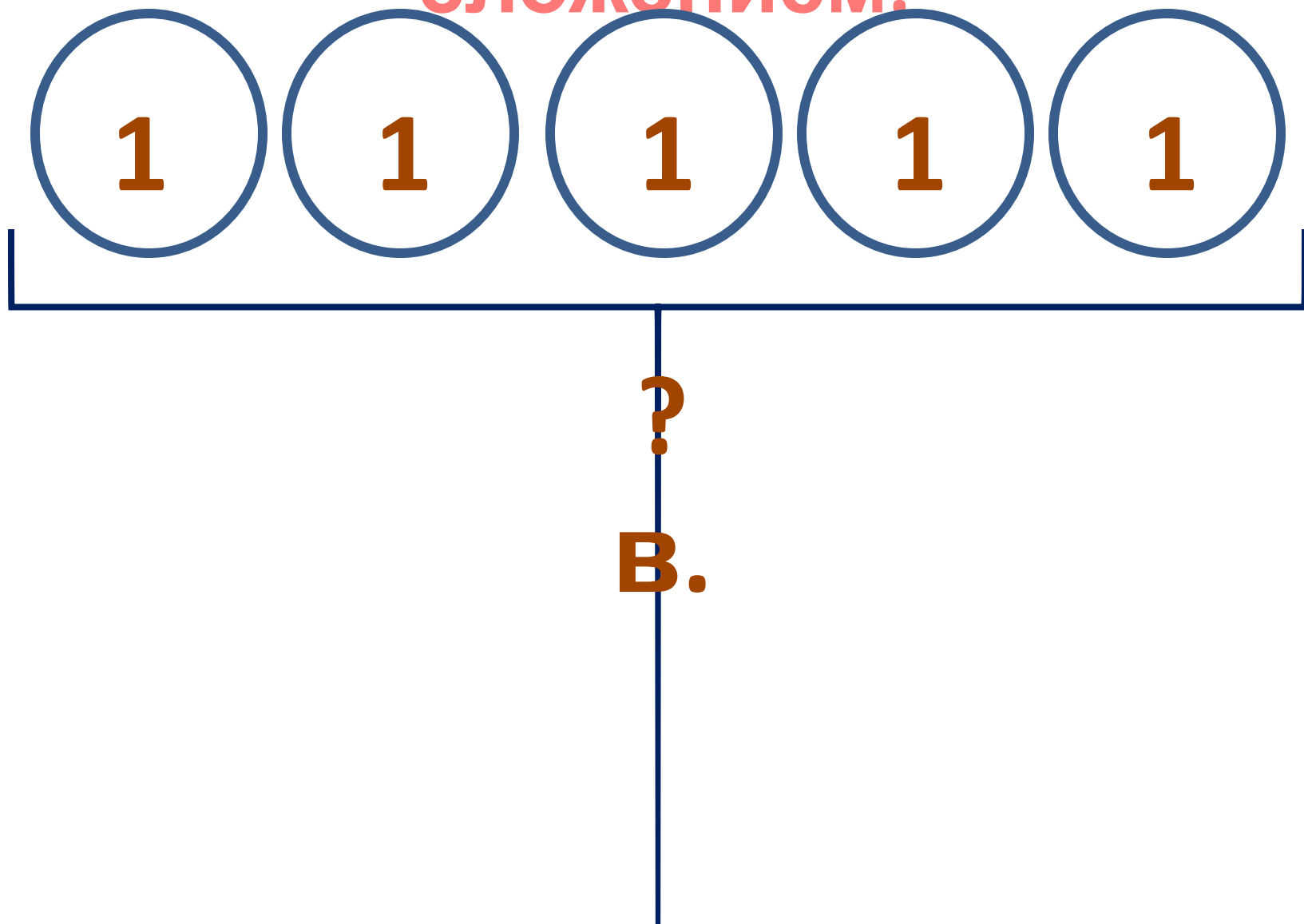
# Новая



?

В.

Составим схему и решим  
сложением.



# Решим

умножили.



?

$$1 + 1 + 1 + 1 + 1 = 5 \text{ (в.)}$$

# Решим

умножением.



?

$$1 + 1 + 1 + 1 + 1 = 5 \text{ (В.)}$$

$$1 \cdot 5 = 5 \text{ (В.)}$$

**Сделаем  
вывод.**

**При умножении  
1 на любое  
число  
получится ...**



**Сделаем  
вывод.**

**При умножении  
1 на любое  
число  
получится  
это число.**

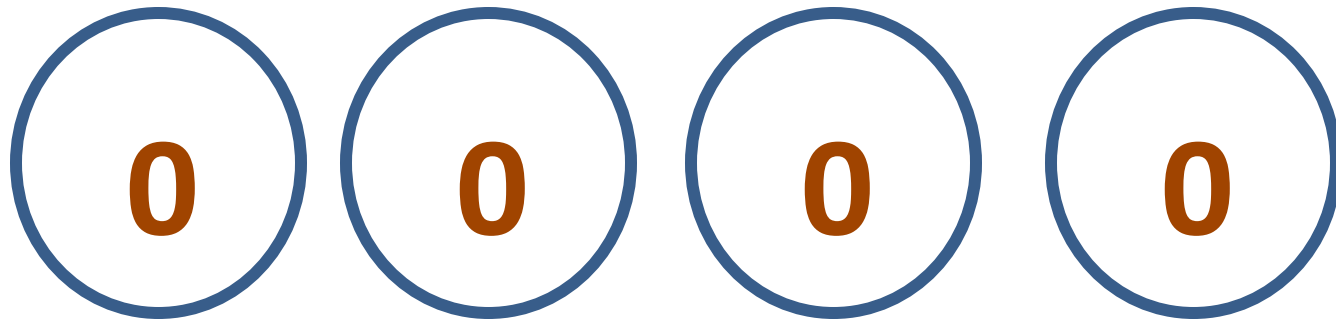
Решим следующую задачу.



?

С.

Составим схему и решим  
сложением.

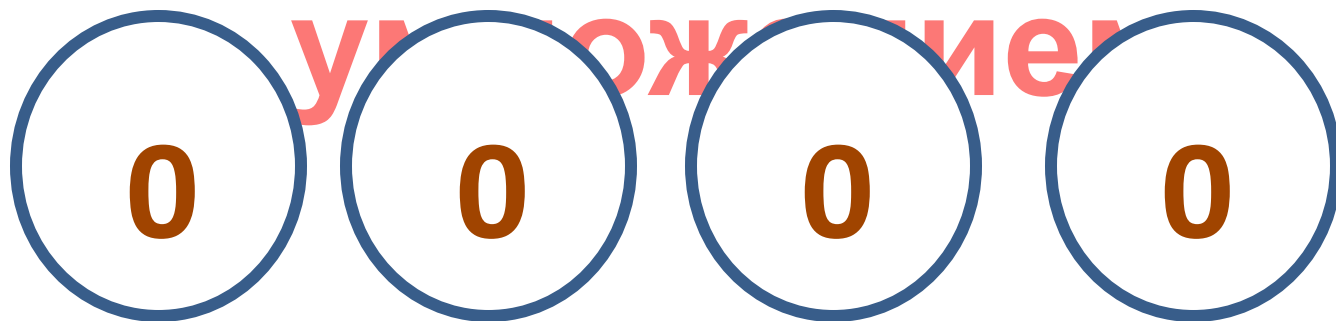


?

с.

# Решим

умножением



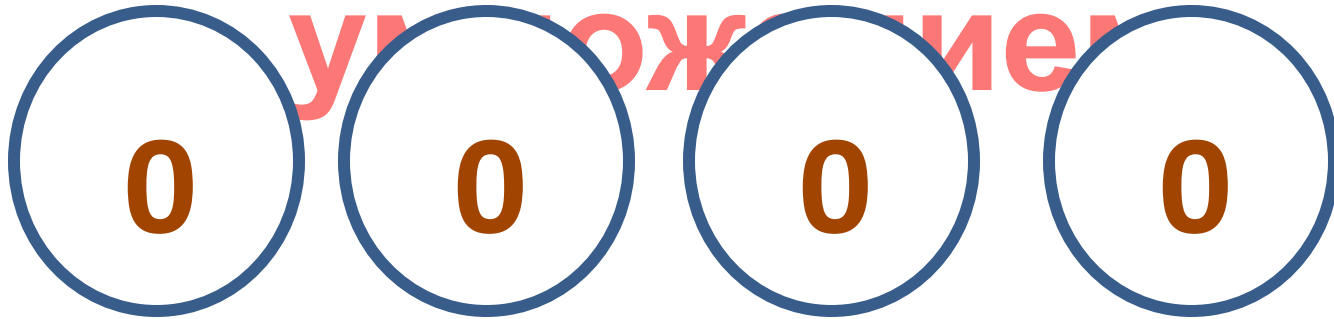
?

$$0 + 0 + 0 + 0 = 0$$

(с.)

# Решим

умножением



?

$$0 + 0 + 0 + c \cdot 0 = 0$$

(с.)

$$0 \cdot 4 = 0 \text{ (с.)}$$

**Сделаем  
вывод.**

**При умножении  
0 на любое  
число  
получится ...**

**Сделаем  
вывод.**

**При умножении  
0 на любое  
число  
получится 0.**