

МАТЕМАТИКА

- ВЕСЁЛАЯ ПЕРЕМЕНКА

- 6-7 класс

- Учитель математики: Шахвалова Т.Г.

1 задание.

Угадать слово:

- Первое – предлог, второе – летний дом.
А целое порой решается с трудом.


2 задание.

Исключить лишнее слово:


- Тарелка, ложка, чемодан, чашка, вилка.
- Пароход, лодка, поезд, катер, плот.
- Сапоги, туфли, босоножки, кроссовки, носки.

3 задание.


Исключить «лишнюю» фигуру:




1



2



3



4

4 задание.

- Какое наименьшее натуральное число можно записать двумя цифрами?

5 задание.

- Переставьте одну цифру так, чтобы равенство стало верным.

- $101 - 102 = 1$

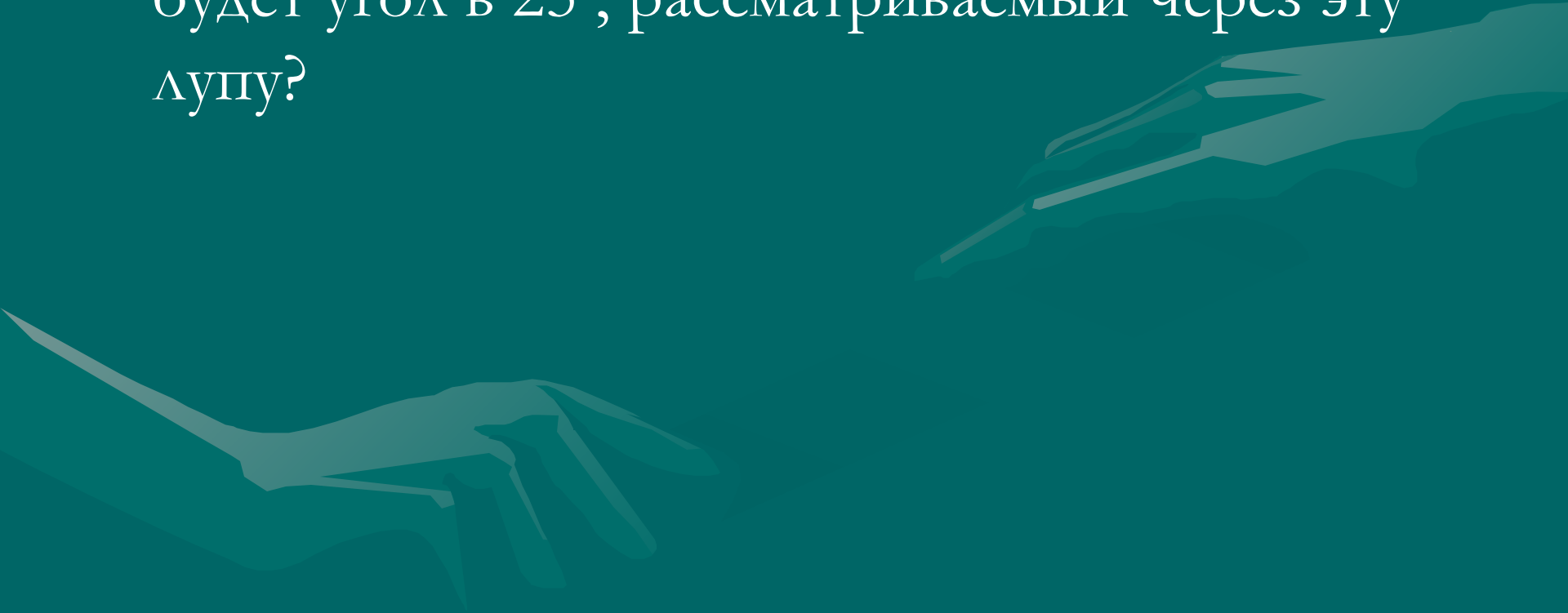
6 задание.

- Расставьте в клеточках числа 1,4, 6, 7, 8, 9 так, чтобы в сумме получилось 15.

| | | |
|---|---|---|
| | | |
| | 5 | 3 |
| 2 | | |

7 задание.

- Лупа даёт четырёхкратное увеличение. Каким будет угол в 25° , рассматриваемый через эту лупу?



8 задание.

В коробке 7 шариков.









3 из них красные.









Найдите отношение синих шариков

к числу красных.

9 задание.

Подобрать нужный квадрат.


| | | | |
|---|---|--|--|
|  |  |  | |
|  |  |  | |
|  | |  | |

| | | | |
|---|--|---|---|
|  |  |  |  |
|  |  |  |  |

10 задание.

- 4 кошки и 3 котёнка весят 15 кг, а 3 кошки и 4 котёнка весят 13 кг. Сколько весит каждая кошка и каждый котёнок в отдельности?

ОТВЕТЫ:

- 1. Задача.
- 2. Чемодан; поезд; носки.
- 3. Под номером 3.
- 4. 12 или $1^2 = 1$
- 5. $101 - 10^2 = 1$ 6.
- 7. 25°
- 8. $4/3$
- 9. 
- 10. Кошка -3кг, котёнок-1кг.

| | | |
|---|---|---|
| 6 | 1 | 8 |
| 7 | 5 | 3 |
| 2 | 9 | 4 |