A composite image with a purple and pink background. On the left is a stack of papers, and on the right is a clock face.

**Математика –
гимнастика ума.**

A composite image with a green and yellow background. On the left is a stack of papers, and on the right is a clock face.

Считай, смекай, отгадывай!

Как зовут моего кота?

■ $18 \cdot 3 \rightarrow \mathbf{H}$

■ $10 \cdot 6 \rightarrow \mathbf{C}$

■ $14 \cdot 5 \rightarrow \mathbf{И}$

■ $13 \cdot 4 \rightarrow \mathbf{У}$



- 60 70 54 52 60

Как зовут моего кота?

■ $18 \cdot 3 \rightarrow \mathbf{H}$

■ $10 \cdot 6 \rightarrow \mathbf{C}$

■ $14 \cdot 5 \rightarrow \mathbf{И}$

■ $13 \cdot 4 \rightarrow \mathbf{У}$



■ 60 70 54 52 60
C И Н У С

Сосчитай!


Часто знает и дошкольник, что такое треугольник,

А уж вам – то как не знать!


Но совсем другое дело – быстро, точно и умело

Треугольники считать!


◆ Сколько
треугольников?



◆ Сколько
треугольников?



Реши примеры

- ◆ $60 : 10 = 7$
 - ◆ $70 : 10 = 6$
 - ◆ $500 : 100 = 5$
 - ◆ $600 : 10 = 8$
 - ◆ $800 : 100 = 90$
 - ◆ $800 : 10 = 80$
 - ◆ $900 : 10 = 60$
- 

Реши задачу.

- У бабушки **6** яблок. Каждой внучке она дала по **2** яблока. Сколько внучек у бабушки?
- Выбери верное решение:

$$6 + 2 = 8$$

$$2 * 6 = 12$$

$$6 - 2 = 4$$

$$6 : 2 = 3$$



Реши задачи

Груши – 8 ящиков по 5 кг в каждом

Чернослив - ? кг, в 2 раза больше, чем груш

16кг

42кг

15кг

80кг

Красная черешня – 20 корзин

Белая черешня - ? корзин, в 2 раза меньше, чем

40к.

10к.

22к.

18к.