

# Умножение и деление на 4.

Четвёртая часть числа.  
Закрепление.

Урок-путешествие  
2 класс

Автор: Асмала Светлана Михайловна  
учитель начальных классов  
МОУ «Бехтеевская СОШ»

Чтобы войти в  
Здравствуйте, в  
Вместе с вами  
места давимся в  
Меня зовут Сова –  
волшебница лес.  
умная голова.  
задание



16

В каком числе сумма цифр  
равна 12 ?

48

68

5

97

24




10

33

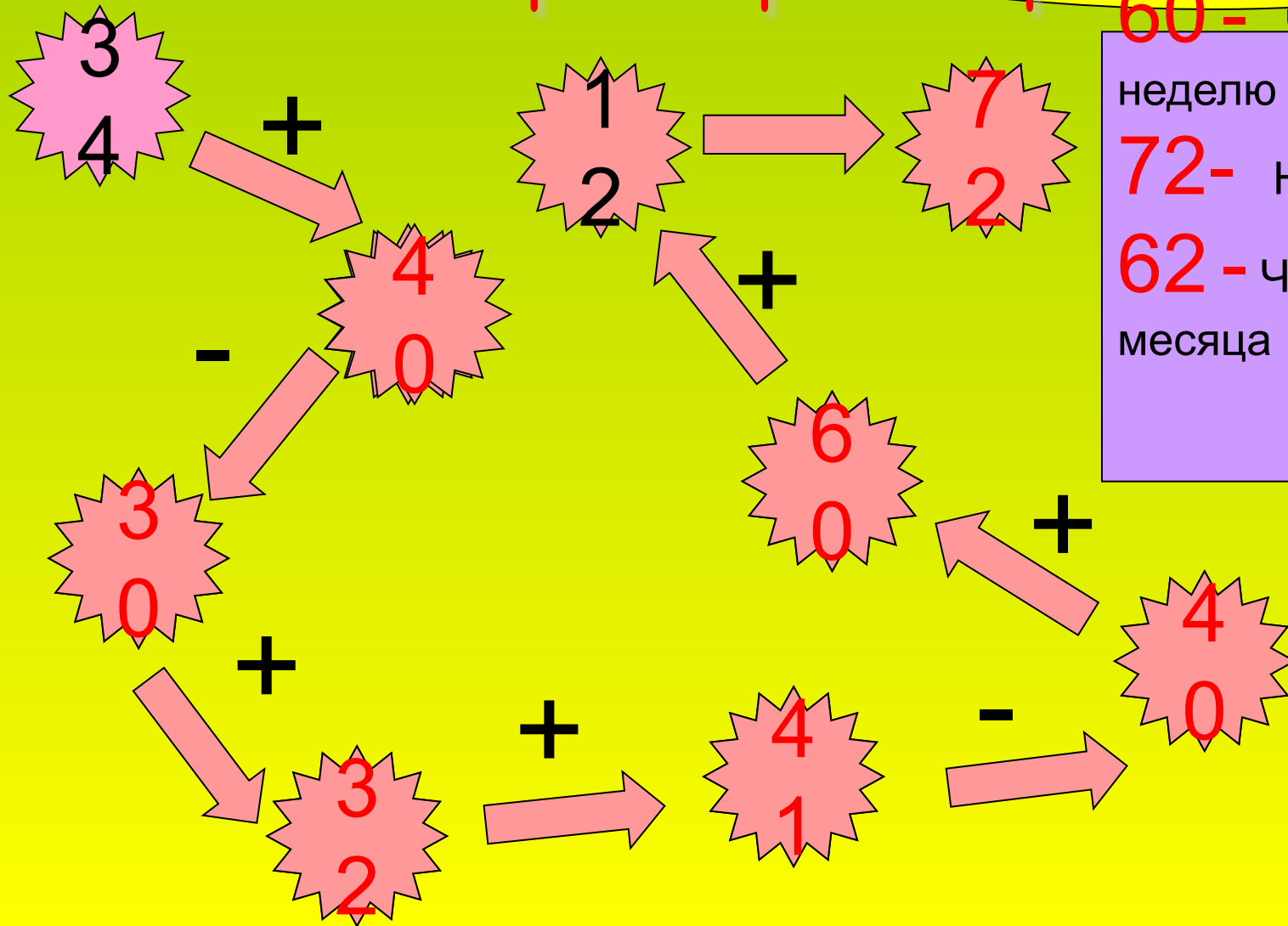
46







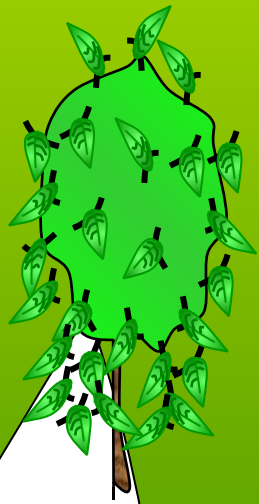


Вычислите и узнаете, когда бельчата  
 начинают впервые грызть орехи и шишки

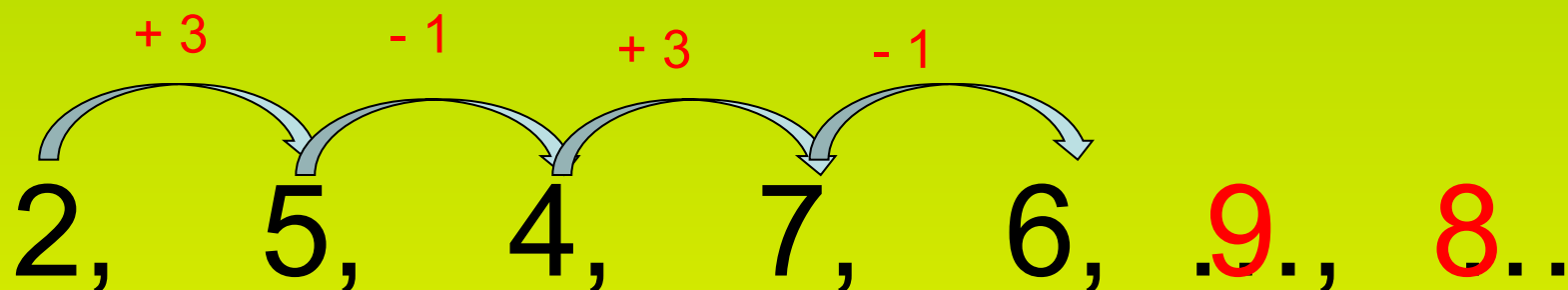


60 - Через  
 неделю  
 72 - На 40-й день  
 62 - Через 3  
 месяца








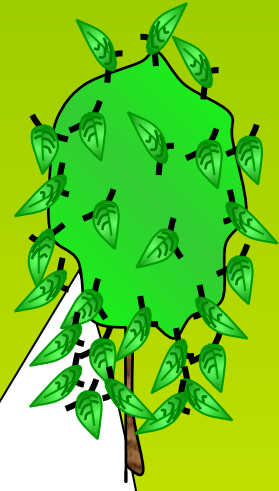
Продолжи ряд чисел и ты узнаешь,  
когда у совы появятся совята.



Летом, в июне.







Решите задачи и узнаете, в какое время суток бобры строят свои жилища.

~~80~~

~~6~~

~~8~~

~~4~~

~~24~~



28

6

32

5

8

8

16

9

24

7

5

8

1

36

20

4

10

28


0

12

Игра «Считалка»



Придумай по рисунку задачу, которая  
решается делением

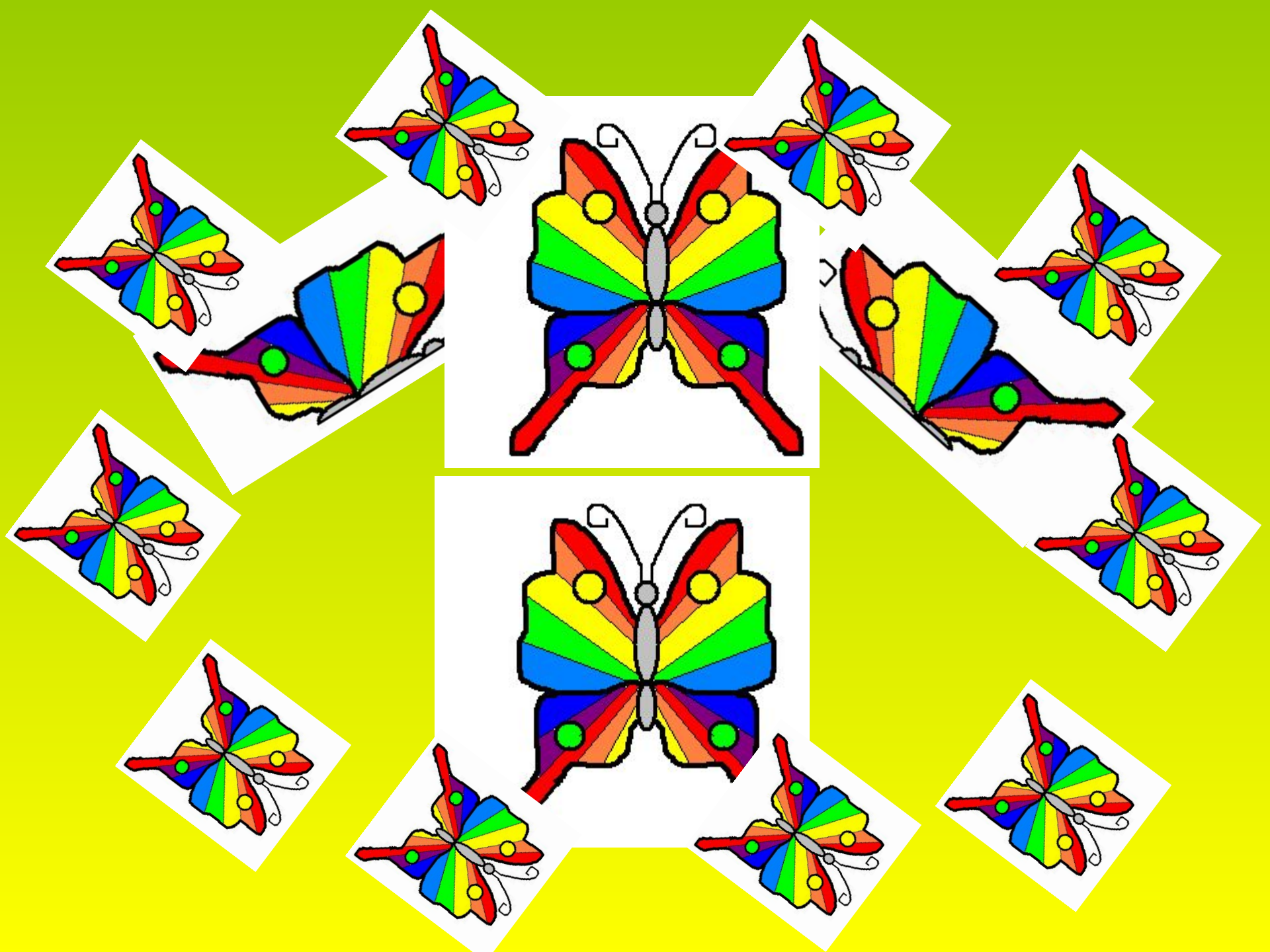


$$12 : 3 = 4 \text{ (к.)}$$

$$12 : 4 = 3 \text{ (шт)}$$

Ответ: 4 кучки, 3 морковки.





$$(18 - 6) : 4 = 3$$

$$(2 + 5) \cdot 3 = 21$$

$$(18 : 2) \cdot 4 = 36$$

$$(15 + 3) : 2 = 9$$

$$(3 \cdot 3) \cdot 3 = 27$$

$$(2 \cdot 9) : 3 = 6$$

Выполните задания в  
тетради

1 вариант – с. 46 № 151

2 вариант – с. 46 № 150



# ИТОГ урока


**Самым интересным на уроке было ...**

**Мне было трудно ...**

**Теперь я знаю ....**

**Мне понравилось ...**



A woman in a white dress stands in a field at night, looking towards the sky. The background is a vibrant night sky with stars and a glowing aurora borealis. The scene is framed by a bright green border.

Домашнее задание  
Учебник с.66 № 192

Молодцы!

