

Математика

УМК «ШКОЛА РОССИИ»

Учебник для 2 класса начальной школы

М. И. Моро, М. А. Бантова, Г.В. Бельтюкова,
С.И. Волкова, С.В. Степанова.

Харитоненко Алла Петровна

МОУ СОШ

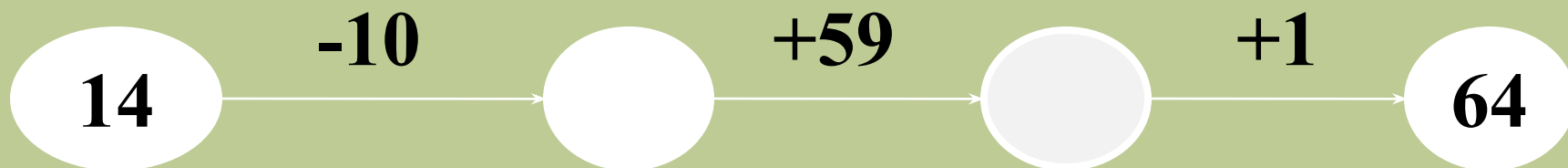
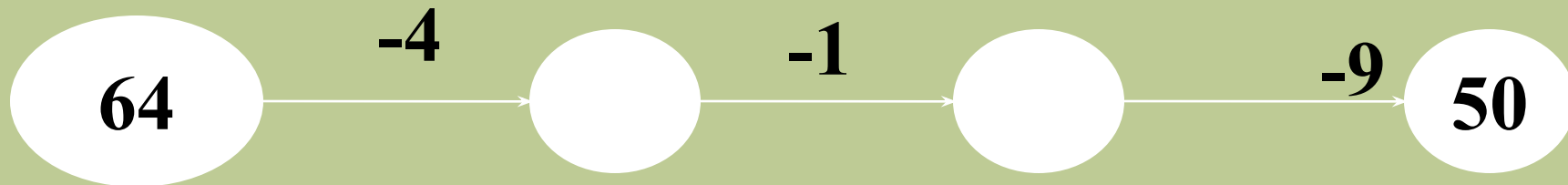

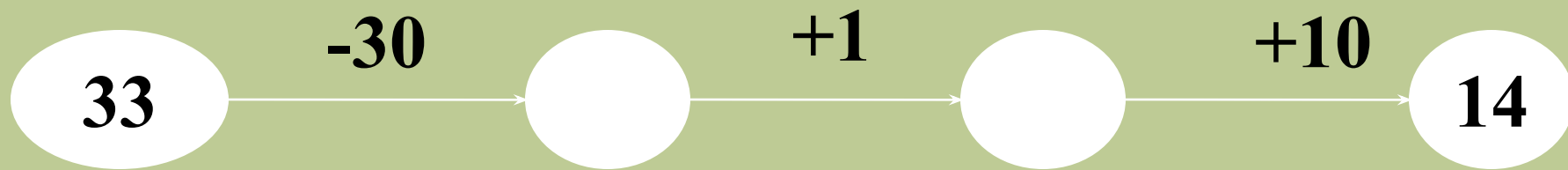
г.Духовщина

Смоленской области.

Тема урока:

Решение задач.

Закрепление.



Расшифруйте слово.

14

30

50

64

К

Р

А

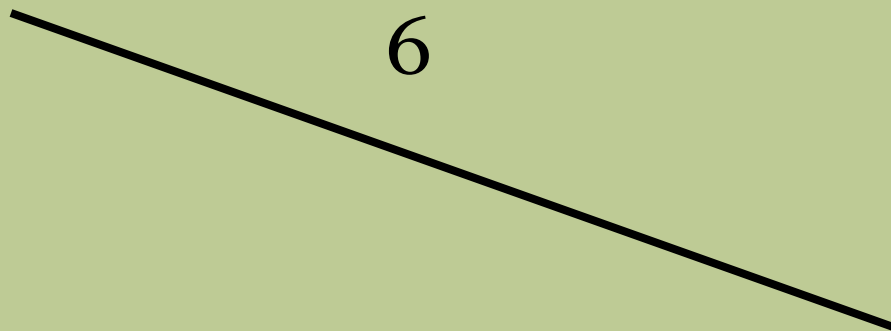


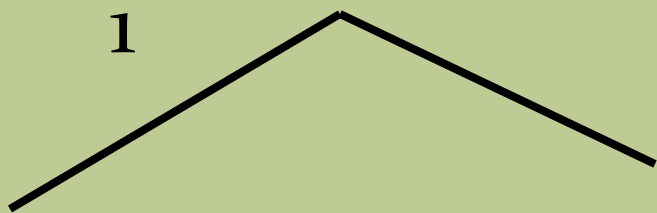
П

«Смоленское Поозерье»

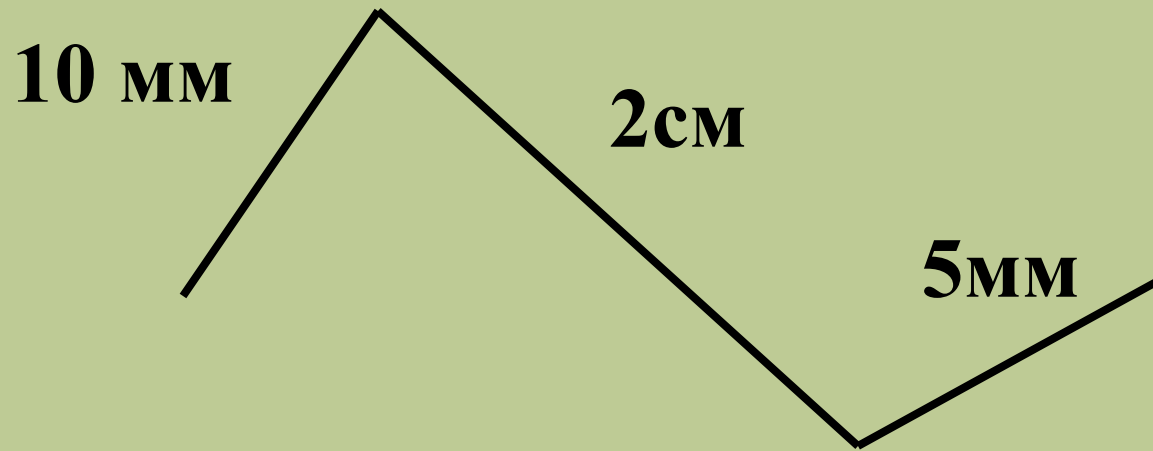
A photograph of a dense forest of tall, thin trees, likely spruce or fir, with a fallen log in the foreground. The trees are green and the forest floor is covered in low-lying vegetation.

ПАРК

Назовите номера ломаных линий.



Вычислите длину ломаной линии.




$$2 \text{ см} = 20 \text{ мм}$$

озеро Салшо



кот Леопольд

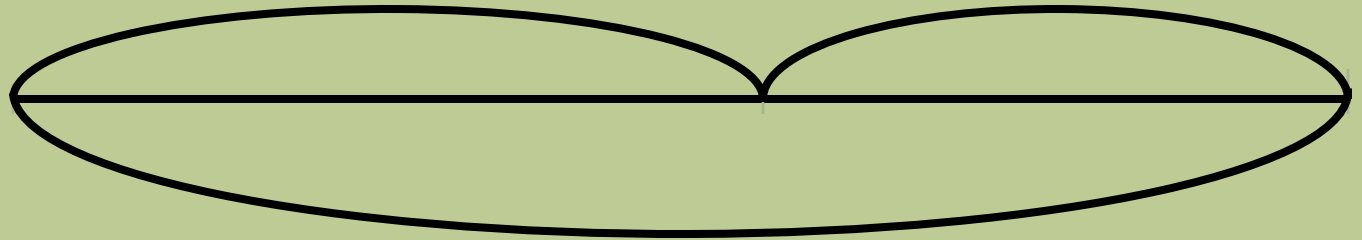


Задача 1.

7к.

?

1.

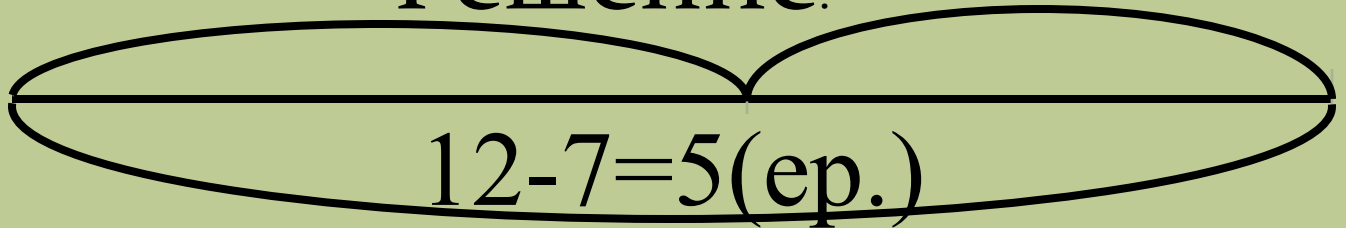


12р.

7к. Решение.

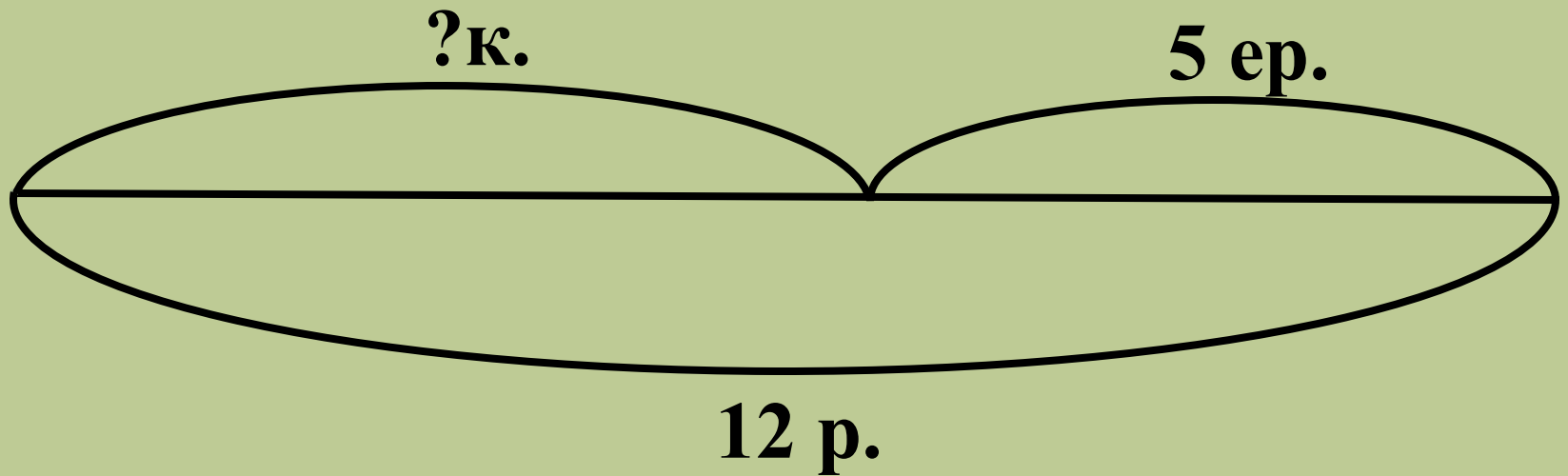
12р.

2.



Ответ: 5 ершей.

Задача 2.



Решение.

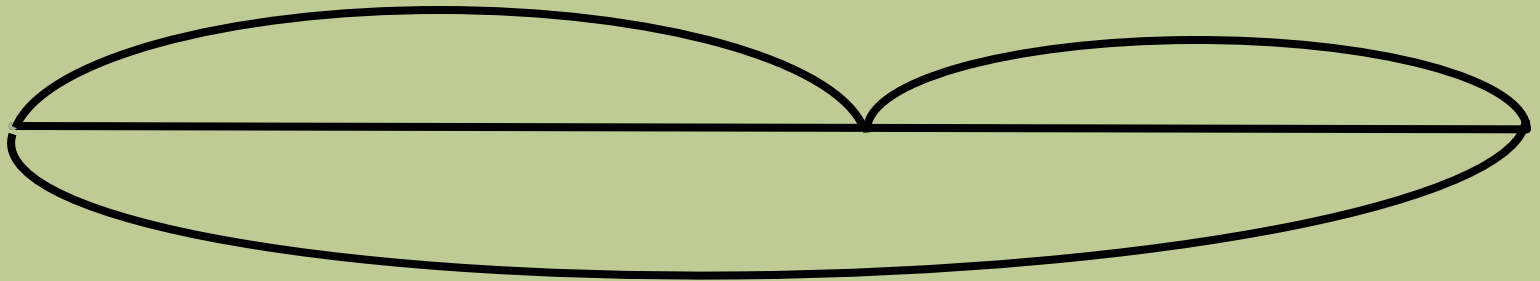
$$12 - 5 = 7(\text{к.})$$

Ответ: 7 карасей.

Задача 3.

7к.

5ер.



? Р.

Решение.

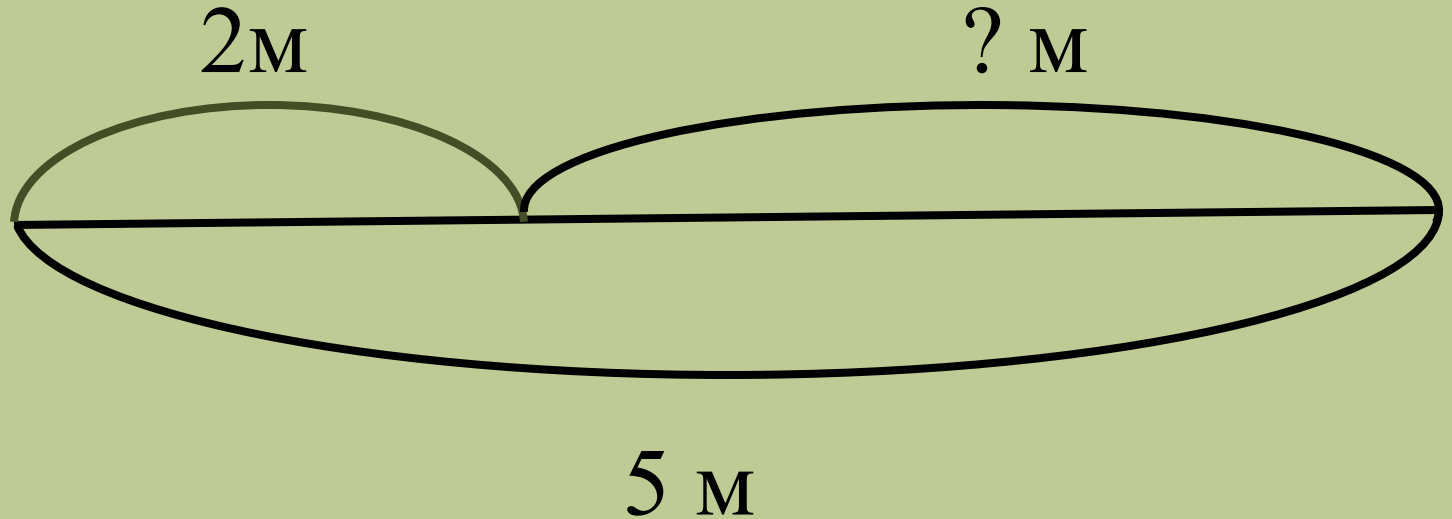
$$7+5=12 \text{ (р.)}$$

Ответ: 12 рыб.

Бобёр



Задача 4.



Решение.

$$5 - 2 = 3 \text{ (м)}$$

Ответ: 3 метра.

Карточка №1.

$$45 = \square + 5 \quad 3 + 8 - 6 \quad 8 + 0$$

$$87 = 80 + \square \quad 8 + 7 - 6 \quad 6 - 0$$

$$60 = 65 - \square \quad 6 + 9 - 7 \quad 9 - 9$$

Карточка №1.

$$45 = 40 + 5 \quad 3 + 8 - 6 = 5 + 0 = 8$$

$$87 = 80 + 7 \quad 8 + 7 - 6 = 9 - 0 = 6$$

$$60 = 65 - 5 \quad 6 + 9 - 7 = 8 \quad 9 - 9 = 0$$

Карточка №2.

Выразите:

$$1\text{ м} = 100\text{ см}$$

$$1\text{ см} = 10\text{ мм}$$

$$1\text{ дм} = 10\text{ см}$$

$$1\text{ м} = 10\text{ дм}$$


Самостоятельная работа.

$$38 \text{ мм} < 4 \text{ см}$$


$$1 \text{ см } 8 \text{ мм} < 20 \text{ мм}$$

$$5 \text{ дм} < 1 \text{ м}$$


$$23 \text{ мм} > 2 \text{ см}$$

A black grouse (Tetrao tetrix) is shown in its natural habitat. The bird has dark, iridescent feathers, a prominent red patch around its eye, and a thick, white, slightly curved beak. It is standing in a field of dry, yellowish-brown grass. In the background, there are several trees, including a large tree trunk on the left and a line of bare trees in the distance under a clear sky.

**Давайте
сохраним!**

A raccoon is sitting in a forest, surrounded by tall grass and fallen leaves. The raccoon is looking towards the camera. The text "Давайте сохраним!" is overlaid in red on the image.

**Давайте
сохраним!**



**Давайте
сохраним!**

Домашнее задание.

Учебник
стр.26 №3

Список литературы.

1. <http://kp.by/daily/24515/664598/>
2. <http://www.diary.ru/search/?postsbytag&id=767&from=5460>
3. <http://fotki.yandex.ru/users/avatar6/view/35>
4. http://dlr.narod.ru/novosti_html/novosti_25.htm
5. <http://www.ruschudo.ru/miracles/192/photos>
6. <http://igor-sergeevich.atkin.narod.ru/Shutka10.html>
7. <http://besplatnovse.3dn.ru/index/leopold/0-2>