

# Урок математики .

1класс.



Тема:  
Закрепление.  
Решение задач.



# Скоро праздник!

## Декабрь

|   |   |    |    |    |    |
|---|---|----|----|----|----|
| п | 7 | 14 | 21 | 28 |    |
| в | 1 | 8  | 15 | 22 | 29 |
| с | 2 | 9  | 16 | 23 | 30 |
| ч | 3 | 10 | 17 | 24 | 31 |
| п | 4 | 11 | 18 | 25 |    |
| с | 5 | 12 | 19 | 26 |    |
| в | 6 | 13 | 20 | 27 |    |

# Великий Устюг. Резиденция Деда Мороза.



# ЗАДАЧА



**УСЛОВИЕ**

**ВОПРОС**

**РЕШЕНИЕ**

**ОТВЕТ**


# Составь задачу.



# Условие .

М. - 4 шт.

З. - ? шт. на 2 больше



# Как дети готовятся к встрече Деда Мороза ?



10 Уч.

? Уч., на 3 меньше

$$10 - 3 = 7(\text{уч.})$$


10уч.

? Уч. на 3 больше



# Физминутка





$$6+3$$

$$9-2$$

$$5+2$$

$$6+0$$

$$8-8$$

$$10-2$$

$$8-3$$

Наряди ёлку

Вставь число в окошко,  
узнаешь, сколько оленей в упряжке.

1в.

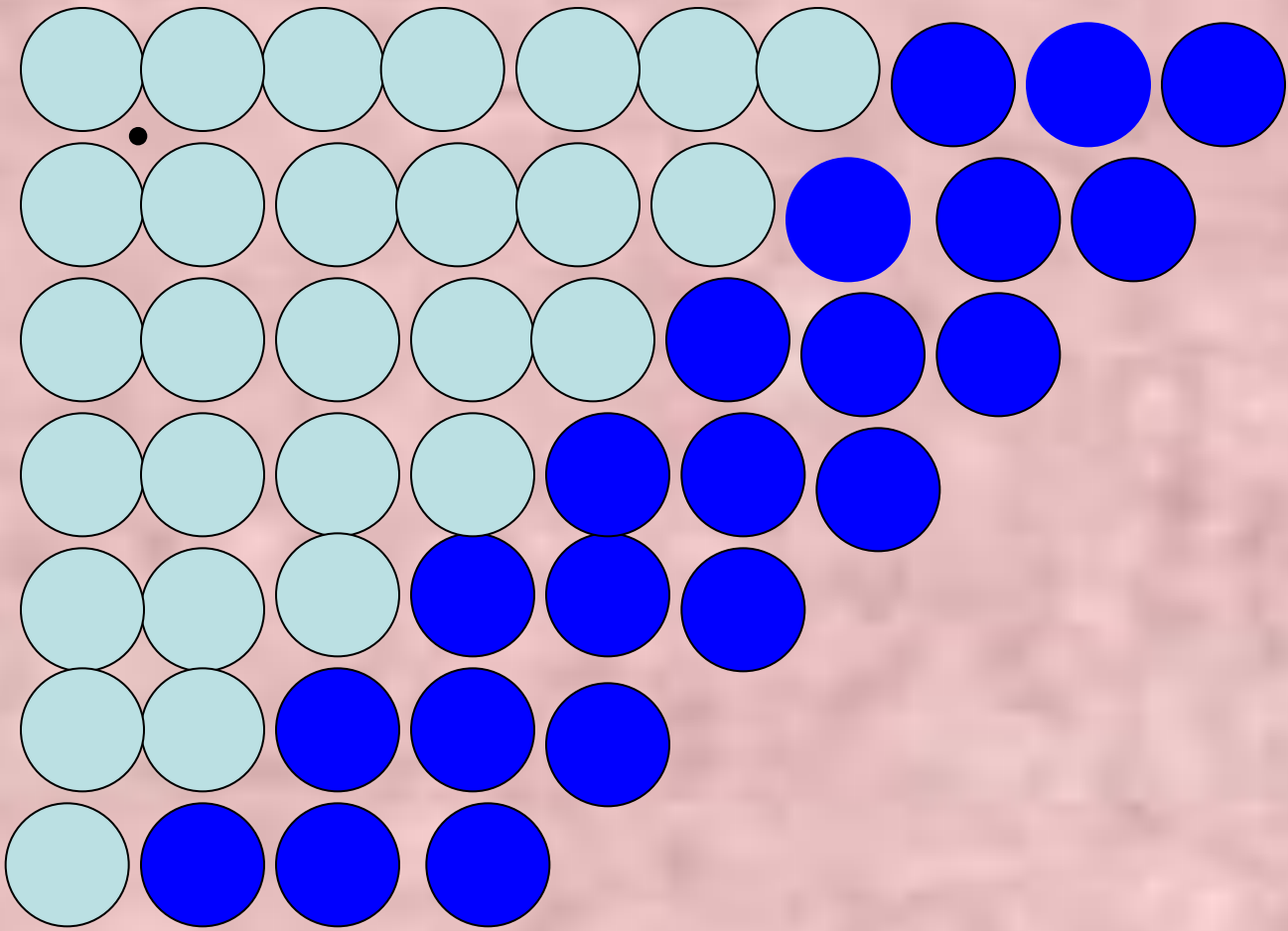
$$\square + 4 = 6$$

2в.

$$2 + \square = 5$$

Расставьте в остальных квадратах такие числа,  
чтобы в сумме во всех клетках по всем  
направлениям было 9

|                |   |   |
|----------------|---|---|
| 2              | 6 | 1 |
| 2              | 3 | 4 |
| <sup>3</sup> 5 | 0 | 4 |



$7+3$

$6+3$

$5+3$

$4+3$


$3+3$

$2+3$

$1+3$

# Слушай внимательно, считай

Расставил Андрюшка  
В два ряда игрушки.  
Рядом с мартышкой –  
Плюшевый мишка.  
Вместе с лисой – зайка косой.  
Следом за ними – ёж и лягушка.  
Сколько игрушек  
Расставил Андрюшка?



# Заселяем домики.

|   |   |
|---|---|
| 7 |   |
| 2 | 5 |
| 7 | 0 |
| 4 | 3 |
| 1 | 6 |

|   |   |
|---|---|
| 8 |   |
| 1 | 7 |
| 4 | 4 |
| 5 | 3 |
| 2 | 6 |

|   |   |
|---|---|
| 9 |   |
| 6 | 3 |
| 4 | 5 |
| 7 | 2 |
| 8 | 1 |

|    |   |
|----|---|
| 10 |   |
| 3  | 7 |
| 5  | 5 |
| 2  | 8 |
| 9  | 1 |